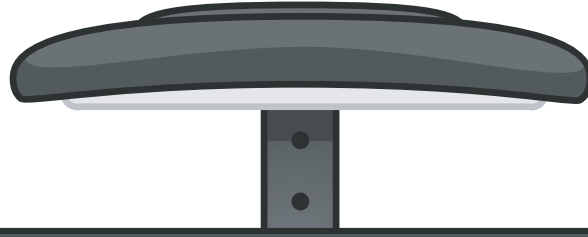


# TURUNCU SINIF

İLKOKUL ETKİNLİKLERİ




2.SINIF HAZIRBULUNUŞLUK DENEME SINAVI

TÜRKÇE-12 SORU

MATEMATİK-12 SORU

HAYAT BİLGİSİ-10 SORU





Zeynep ve arkadaşları mahalledeki kütüphaneye yeni kitaplar bağışlamak istedi. Arkadaşlarıyla birlikte eski kitaplarını topladılar ve kütüphaneye gittiler. Kütüphaneci onlara teşekkür etti. Zeynep ve arkadaşları paylaşmanın ne kadar önemli olduğunu öğrendi ve gururla eve döndüler.

İlk iki soruyu yukarıdaki metne göre cevaplayınız.

1. Zeynep ve arkadaşları ne için kütüphaneye gitmişlerdir?  
A) Kütüphane görevlilerine yardım etmeye gitmişlerdir.  
B) Yeni kitaplar almak için gitmişlerdir.  
C) Eski kitaplarını bağışlamak için gitmişlerdir.
2. Yukarıdaki metinde anlatılmak istenen ana düşünce nedir?  
A) Kütüphane sevgisi  
B) Kitap sevgisi  
C) Paylaşmanın önemi
3. Aşağıdaki cümlelerin hangisinde özel adların yazımı ile ilgili yanlışlık yapılmıştır?  
A) İstanbul'u çok seviyorum.  
B) Kedim boncuk ile oyunlar oynadık.  
C) Anıtkabir'i ziyarete gittik.

4. Aşağıdakilerden hangisi cümle değildir?

- A) Markete gitmek için
- B) Çiçekleri sulamak için bahçeye çıktı
- C) Her akşam kitap okurum

Kardan adam yapmak için bahçeye çıktılar.

5. Yukarıdaki cümle kaç kelimeden oluşmuştur?

- A) 5
- B) 6
- C) 7

- 6.

makas    çilek    yağmur    nane

Yukarıdaki sözcükler sözlük sırasına göre sıralandığında üçüncü sözcük hangisi olur?

- A) makas
- B) çilek
- C) nane

- 7.

- 1 nokta
- 2 virgül
- 3 soru işareti
- 4 ünlem
- 5 konuşma çizgisi

Yukarıdaki noktalama işaretlerinden hangilerinden sonra her zaman ilk harfi büyük yazarız?

- A) 1-2-3
- B) 1-3-4
- C) 2-3-4

Salı günü doktora gideceğiz.

8. Yukarıdaki cümledeki altı çizili sözcüğün eş anlamlısı aşağıdaki cümlelerin hangisinde kullanılmıştır?

- A) Kedimizi veterinerine götürdük.  
B) Hemşire bana gülümsedi.  
C) Hekimin yazdığı reçeteyi hemen aldık.

ileri

bayat

taze

sonra

önce

yanlış

doğru

9. Yukarıdaki kelimeler zıt anlamlıları ile eşleştirildiğinde hangi sözcük dışarıda kalır?

- A) ileri  
B) taze  
C) önce

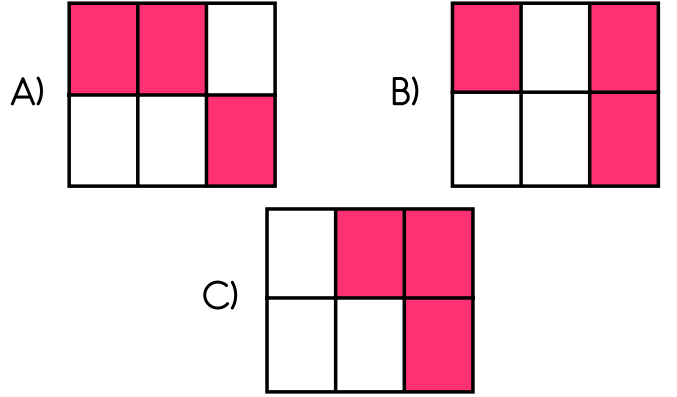
10. Aşağıda görselleri verilmiş olan varlıkları hangisinin adında alfabenin ikinci harfi yoktur?



11.

veya	kalem	ile
çatal	masa	ama

Yukarıdaki tabloda tek başına anlamlı olmayan kelimeler boyandığında tablo nasıl görünür ?



Bayram için siyah kazak, beyaz etek aldım.



Arkasına baktığı için yere düştü.




Kırmızı kalemimi evde unuttum.

12. Yukarıdaki çocuklardan hangisi zıt anlamlı sözcükleri cümle içinde bir arada kullanmıştır?

- A) Nil  
B) Melis  
C) Mert


1. 4'ten başlayıp 2'şer ritmik sayarken 5. sırada hangi sayıyı söyleriz? (4 dahildir.)

A)10  
B)12  
C)14



2. Aşağıdaki sayılardan hangisi yukarıdaki modellenmiş sayılardan birine ait değildir?

A) 13      B) 19      C) 18



3. Yukarıdaki toplama işleminde  yerine hangi sayı yazılmalıdır?

A) 28      B) 12      C) 13




4. Kerem 7, Ayşe ise 6 yaşındadır. İkisinin yaşları toplamı kaçtır?

A) 13      B) 14      C) 15

5. Berat'ın bir miktar parası vardı. Babası 5 lira verdiğinde 12 lirası olduğuna göre başlangıçta Berat'ın kaç lirası vardı?

A) 17      B) 16      C) 7



6. Yukarıdaki yarım elmalardan kaç adet bütün elma elde ederiz?

A) 17      B) 16      C) 7

7. Bir otobüs 20 yolcu ile hareket etmiştir. 1.durakta 6 yolcu, 2.durakta 4 yolcu indiğine göre otobüste kaç yolcu kalmıştır?

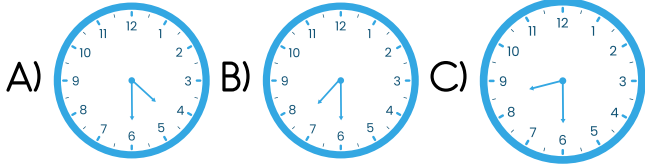
A) 14 B) 16 C) 10



Sabah, sekiz buçukta uyandım.

Filiz

8. Aşağıdakilerden hangisi Filiz'in uyandığı saati göstermektedir?



9. Yukarıdaki örüntünün kuralını bozan geometrik şekil hangisidir?



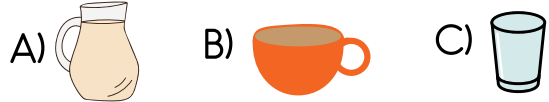

Tablo: En çok sevilen dersler

Dersler	Öğrenci Sayısı
Türkçe	8
Matematik	5
Hayat Bilgisi	9

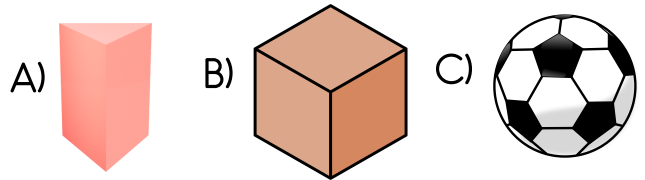
10. Yukarıdaki tabloya göre en çok sevilen ders en az sevilen dersten kaç fazladır?

A) 17 B) 4 C) 3

11. Yandaki kova aşağıdakilerden hangisi ile daha hızlı dolar?



12. Aşağıdaki cisimlerden hangisinin köşesi yoktur?



1. Aşağıdaki çocuklardan hangisi farklı bir özelliğinden bahsetmiştir?



Benim saçlarımın rengi turuncudur.



Sınıfımızın en uzun boylusu benim.



Arkadaşlarım ile oyun oynamayı çok seviyorum.

2. Aşağıdakilerden hangisi okul çalışanlarından biri değildir?

- A) Müdür
- B) Hizmetli
- C) Zabıta

Babamızın kız kardeşi

Hala

Amcamızın eşi

Yenge

Teyzemizin eşi

Teyze

Annemizin kız kardeşi

Enişte

Amca

3. Yukarıdaki verilen ifadeler akraba isimleri ile eşleştirildiğinde hangisi dışarıda kalır?

- A) Amca
- B) Hala
- C) Teyze

İFADELER	D/Y
Okul tuvaletini temiz kullanmalıyız.	
Koridorlarda koşmamalıyız.	
Sınıftaki eşyalarımızı dikkatli kullanmalıyız.	

4. Yukarıdaki tabloda verilen ifadeler doğru ise (D), yanlış ise (Y) koyduğumuzda oluşan tablo aşağıdakilerden hangisidir?

A)

D/Y
D
D
D

B)

D/Y
Y
D
D

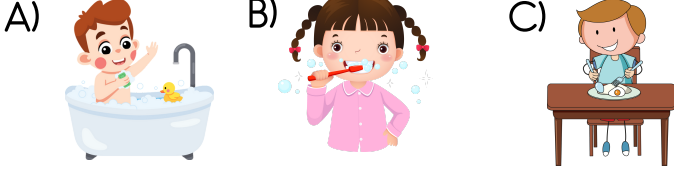
C)

D/Y
D
Y
D

5. Aşağıda verilen bilgilerden hangisi doğrudur?

- A) Arkadaşlarımız ile iletişim kurarken nezaket ifadeleri kullanmalıyız.
- B) Ev işlerini sadece annemiz yapmalıdır.
- C) Okulda sadece yakın arkadaşlarımız ile oyun oynamalıyız.

6. Aşağıdaki görsellerden hangisi kişisel bakımla ilgili değildir?

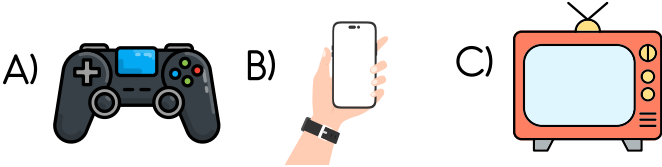


- 1 yumurta
- 2 domates
- 3 soğan
- 4 yoğurt

7. Yukarıda numaralandırılmış olan besinlerden hangisi ya da hangileri hayvansal besindir?

- A) 1-4
- B) 2-3
- C) 2-4

8. Aşağıdakilerden hangisi kitle iletişim aracı değildir?



Cumhuriyet  
Bayramı

23 Nisan

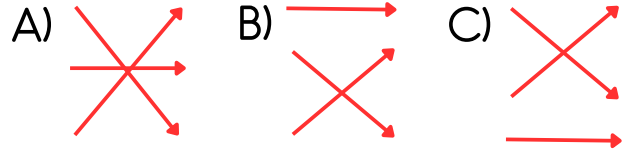
Zafer Bayramı

30 Ağustos

Ulusal Egemenlik ve  
Çocuk Bayramı

29 Ekim

9. Yukarıda verilen bayramlar tarihleri ile eşleştirildiğinde oluşan şekil aşağıdakilerden hangisidir?



10. Yukarıdaki trafik levhasının anlamı aşağıdakilerden hangisidir?

- A) Okul geçidi
- B) Yaya geçidi
- C) Yürüyüş yolu

# CEVAP ANAHTARI

TÜRKÇE			
1	A	B	C
2	A	B	C
3	A	B	C
4	A	B	C
5	A	B	C
6	A	B	C
7	A	B	C
8	A	B	C
9	A	B	C
10	A	B	C
11	A	B	C
12	A	B	C

MATEMATİK			
1	A	B	C
2	A	B	C
3	A	B	C
4	A	B	C
5	A	B	C
6	A	B	C
7	A	B	C
8	A	B	C
9	A	B	C
10	A	B	C
11	A	B	C
12	A	B	C

HAYAT BİLGİSİ			
1	A	B	C
2	A	B	C
3	A	B	C
4	A	B	C
5	A	B	C
6	A	B	C
7	A	B	C
8	A	B	C
9	A	B	C
10	A	B	C

# OPTİK FORM

TÜRKÇE			
1	A	B	C
2	A	B	C
3	A	B	C
4	A	B	C
5	A	B	C
6	A	B	C
7	A	B	C
8	A	B	C
9	A	B	C
10	A	B	C
11	A	B	C
12	A	B	C

MATEMATİK			
1	A	B	C
2	A	B	C
3	A	B	C
4	A	B	C
5	A	B	C
6	A	B	C
7	A	B	C
8	A	B	C
9	A	B	C
10	A	B	C
11	A	B	C
12	A	B	C

HAYAT BİLGİSİ			
1	A	B	C
2	A	B	C
3	A	B	C
4	A	B	C
5	A	B	C
6	A	B	C
7	A	B	C
8	A	B	C
9	A	B	C
10	A	B	C

Adı: .....

Soyadı: .....

Sınıfı: .....