

## TÜRKÇE

## SIRA ARKADAŞIM



Benim adım Mert. Sıra arkadaşımın ismi Ercan'dır. Arkadaşım Ercan çok iyi bir sıra arkadaşısıdır. Derslerde benimle hiç konuşmaz. Teneffüslerde ise oyunlar oynarız.

Bir gün okul bahçesinde düşmüştüm. Ercan, kolumdan tutarak beni kaldırmıştı. Nöbetçi öğretmenimiz dizime pansuman yapmıştı. Arkadaşım Ercan çok yardımsever biridir.

1. Mert'in sıra arkadaşının adı nedir?  
A) Emre  
B) Mert  
C) Ercan
2. Ercan nasıl bir arkadaşdır?  
A) Çok iyi bir sıra arkadaşısıdır.  
B) Çok kötü bir sıra arkadaşısıdır.  
C) Derslerde çok konuşur.
3. Mert, okul bahçesinde düştükten sonra ne oldu?  
A) Müdür yardımcısı geldi.  
B) Sınıf arkadaşları geldi.  
C) Ercan, Mert'i kolundan tutarak kaldırdı.
4. Alfabemizde toplam kaç harf vardır?  
A) 29 B) 30 C) 8



Kamil

a-e-b-i-i-o-ö-u-ü



Suna

a-e-i-i-o-ö-u-ü



Fatma

b-c-d-f-g-ğ-p-r

5. Hangi öğrenci sesli harfler doğru saymıştır?  
A) Kamil  
B) Suna  
C) Fatma
6. Aşağıdaki kelimelerden hangisinde iki sessiz harf yan yana gelmiştir?  
A) Harf B) Saat C) sıra

	hastane
	merdiven
	elbise

7. Yukarıdaki sözcüklerin alfabetik sıralanışı hangi seçenekte doğru olarak verilmiştir?

A)

2
3
1

B)

3
1
2


C)

1
3
2

8. Aşağıdaki varlıkların hangisinin harf sayısı en fazladır?



A)



B)



C)


16
.....


25
.....

29
.....

9. Yukarıdaki sayılar harf sıralarını belirtmektedir. Tüm harfler bulunduktan sonra ortaya çıkan sözcük aşağıdakilerden hangisidir?

- A) Nar  
B) Süt  
C) Muz



10. 
- Yukarıdaki görseller arasındaki anlam ilişkisi aşağıdaki sözcüklerin hangisinde vardır?
- A) Uzun - kısa  
B) Şişman - zayıf  
C) Yaşlı - genç

# MATEMATİK

11. 52 Sayısında... onluk ....birlik vardır


Yukarıda boşluklara sırasıyla hangi rakamlar gelmelidir?


- A) 5 ve 2  
B) 5 ve 3  
C) 5 ve 0

12. AAAAAAAAAAAAAAAAAAAAAAAAAA

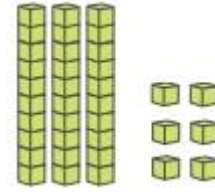
Verilen A harflerinin sayısı  
aşağıdakilerden hangisine eşittir\_


- A) Yirmi altı    B) On dokuz    C) Yirmi bir



13.  Görselde kaç deste kalem vardır?  
A) 40      B) 4      C) 2

14. Osman 20'den başlayarak 2 şer ritmik saymaktadır. Osman'ın 4. Söylediği sayı kaçtır?  
A) 26      B) 28      C) 24




15.  Yukarıda onluk taban bloklarıyla modellenen sayıya, 1 onluk blok daha eklendiğinde yeni sayı aşağıdakilerden hangisi olacaktır?

- A) 36                      B) 46                      C) 37

## HAYAT BİLGİSİ

16. Aşağıdaki çocuklardan hangisi kendini tanıtmıştır?
- A) Çikolata sağlığa zararlıdır.
- B) Benim adım Mehmet. Sekiz yaşımdayım
- C) Evim okula çok yakındır.
17. Aşağıdakilerden hangisi fiziksel özelliktir?
- A) Futbol oynamak
- B) Saç rengi
- C) Gitar çalabilmek
18. Sınıf kuralları belirlenirken aşağıdaki unsurlardan hangisi dikkate alınmalıdır?
- A) Kararlar hep birlikte alınmalıdır.
- B) Kararları okul müdürü almalıdır.
- C) Kararları öğrenciler almalıdır.
19. Aşağıdaki çocuklardan hangisinin özel bir yeteneği vardır?

- A) 

- B)**
- 
- A cartoon illustration of a young boy with brown hair and blue eyes, wearing a purple shirt. He is sitting at a table covered with a yellow and white checkered tablecloth. On the table is a plate with a hamburger and french fries, and a red and white striped cup with a blue lid and a straw. The boy is holding a french fry in his right hand.

- C) 