




## TÜRKÇE


## Gayretli Çocuk



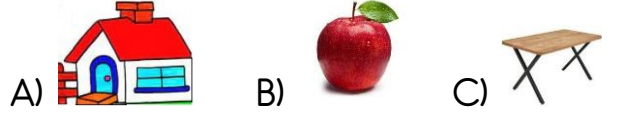
Tuğba İkinci sınıfa giden gayretli bir öğrenciydi. Sınıfta bütün derslerde sorulan sorulara parmak kaldırırdı.

Bir gün matematik dersinde, öğretmen akıllı tahtaya zor bir soru yazmıştı. Bu soruyu sadece Tuğba cevaplamıştı. Öğretmen çok sevinmiş, ödül olarak da onu sinemaya götürmüştü.

1. Zor soru **hangi derste** akıllı tahtaya yazılmıştı?  
A) Türkçe  
B) Matematik  
C) Hayat Bilgisi
2. Tuğba **nasıl** bir çocuktur?  
A) Tuğba tembel bir öğrencidir.  
B) O, normal bir öğrencidir.  
C) Tuğba gayretli bir çocuktur.
3. Tuğba **hangi derslerde** parmak kaldırmaktadır?  
A) Bütün derslerde  
B) Matematik  
C) Türkçe ve Hayat Bilgisi
4. Aşağıdaki çocuklardan hangisi **doğru** bilgi vermiştir?  
A)  Alfabemizde 8 sesli harf vardır.  
B)  Alfabemizde 25 sessiz harf vardır.  
C)  Alfabemizde toplam 30 harf vardır.
5. Aşağıdaki kelimelerden hangisinde **iki** sesli harf yan yana gelmiştir?  
A) Harf      B) Saat      C) sıra



6. Yukarıdaki sözcüklerin alfabetik sıralanışı hangi seçenekte doğru olarak verilmiştir?  
A) Parmak - çatal - minder  
B) Minder - çatal - parmak  
C) Çatal - minder - parmak
7. Aşağıdaki varlıkların hangisinin **harf sayısı** bakımından **farklıdır**?



SAYI	35	
Basamak adları	Onlar basamağı	Birler basamağı
Basamak değeri	▲	★

8. Yukarıdaki tabloda bulunan sayıya göre ▲ ve ★ hangi sayılar yazılmalıdır?

A) ▲ = 30 ★ = 5	B) ▲ = 5 ★ = 30	C) ▲ = 35 ★ = 0
--------------------	--------------------	--------------------

9. Yukarıdaki görseller arasındaki anlam ilişkisi aşağıdaki sözcüklerin hangisinde vardır?

- A) Uzun - kısa  
B) kalın - ince  
C) Yaşlı - genç

## MATEMATİK

10. 7 onluk 6 birlik vardır = .....

Yukarıdaki boşluğa hangi sayı gelmelidir?


- A) 67      B) 76      C) 75

11.

A A A A A A A A A A A A A A A A  
A A A A A A A A A A A A A A

Verilen A harflerinin sayısı aşağıdakilerden hangisine eşittir.

A) Yirmi sekiz B) On iki C) Yirmi bir

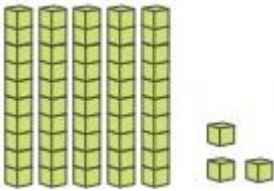


12. Sinem'in kalem kutusundaki kalemelerin 1 düzine olabilmesi için kaç kalem daha gereklidir?

A) 2 B) 3 C) 4

13. Erva 10'dan başlayarak 2 şer ritmik saymaktadır. Erva'nın 3. Söylediği sayı kaçtır?

A) 14 B) 16 C) 12



14.

Yukarıda onluk taban bloklarıyla modellenen sayıdan, 1 onluk blok çıkardığımızda yeni sayı aşağıdakilerden hangisi olacaktır?

A) 52 B) 53 C) 43

30	27	24	21	?
----	----	----	----	---

15. Banu 3'er geri ritmik sayma yaparken soru işareti olan yerde hangi sayıyı söylemelidir?

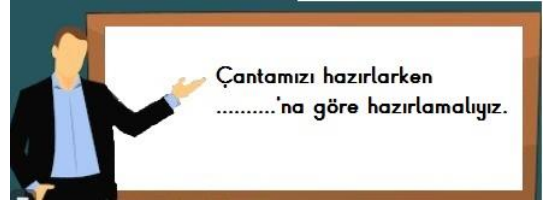
A) 19 B) 18 C) 22

20	24	28	?	36
----	----	----	---	----

16. Ceyda 4'er ileri ritmik sayarken soru işareti olan yerdeki sayıyı atlamıştır. Ceyda hangi sayıyı atlamıştır?

A) 32 B) 29 C) 35

### HAYAT BİLGİSİ



17.

Öğretmenin tahtaya yazdığı cümlede noktalı yere aşağıdakilerden hangisi gelmelidir?

A) Ödev defteri  
B) Ders programı  
C) Beslenme listesi

KURALLAR	✓	X
Koridorlarda koşabiliriz.	A	O
Derste istediğimiz gibi konuşabiliriz.	P	K
Sınıf kurallarını öğretmen ve öğrenciler birlikte koyar.	U	E
Okulu ve sınıfımızı temiz tutmak zorunda değiliz.	Z	L

18. Tablodaki ifadeleri doğru veya yanlış olarak işaretlediğinizde, şifre olan kelime aşağıdakilerden hangisidir?

A) Okul B) Akıl C) Kedi