

TÜRKÇE

OKULUM

Sen bizim evimiz gibisin,
Öğreniriz her şeyi,
Okumayı, yazmayı,
Sevgiyi, saygıyı, paylaşmayı,

Kitabımız bilgi dolu,
Öğretmenlerimizdir,
Güzel yapan okulu,
Özleriz gitmeyince onu.

Yağmur ÜNLÜ

- Şair okulu **neye** benzetmiştir?
A) Eve
B) Kitaba
C) Öğretmene
- Aşağıdakilerden hangisi **şiire göre** okulda öğrenilmektedir?
A) Uçak kullanmayı
B) Okumayı
C) Dikiş dikmeyi
- Şiir kaç dizeden (mısra) oluşmaktadır?
A) 7
B) 9
C) 8

- verdi – soğukta – kedive – üsüyen - battaniye



Yukarıda verilen sözcüklerden anlamlı ve kurallı bir cümle oluşturduğumuzda sıralama nasıl olmalıdır?

- 2 - 4 - 3 - 5 - 1
 - 4 - 3 - 1 - 5 - 1
 - 3 - 5 - 2 - 1 - 4
- Aşağıda verilen satır sonuna sığmayan sözcüklerin hangisinin bölünüşü doğrudur?



- Aşağıdakilerin hangisinde “**ilkokul**” sözcüğünün hecelerine ayrılışı doğru verilmiştir?

- İlk – o – kul
- İl - ko - kul
- İlk – ok – ul

- Türkçe Sözcüğünün **ilk hecesi** kaç **harflidir**?

- 1
- 3
- 4

MATEMATİK

- Aşağıdaki tabloda modellenen sayının onlar basamağındaki rakamın **basamak değeri** kaçtır?

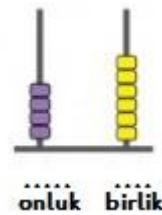
Sayı	84	
Basamak Adı	Onlar Basamağı	Birler Basamağı
Basamak Değeri

- 4
- 8
- 80



- Yukarıdaki noktalı alana aşağıdakilerden hangisi yazılmalıdır?


- Onlar
- Birler
- Onluklar



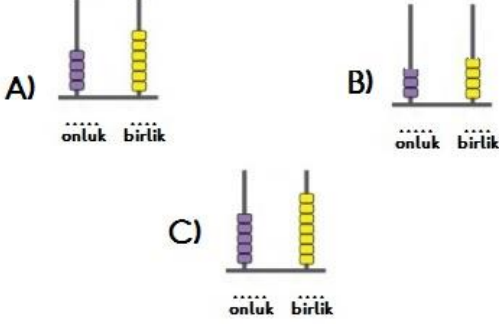
- Yukarıda abaküs ile modellen sayı kaçtır?

- 46
- 45
- 4 onluk + 7 birlik

11.



Yukarıda taban blokları ile modellenen sayı hangi seçenekte abaküs ile **doğru** modellenmiştir?



18'den başlayarak, 3'er geri sayarken 4. adımda hangi sayıyı söylerim?



Pınar

12.

Pınar'ın sorusunun cevabı aşağıdakilerden hangisidir?

- A) 9
B) 6
C) 8

2 - 4 - 6 - 8 - 10

13. Yukarıdaki sayı örüntüsü ile aynı kurala sahip örüntü aşağıdakilerden hangisidir?

A) 20 - 22 - 24 - 25 - 26

B) 12 - 14 - 16 - 18 - 20

C) 3 - 6 - 9 - 12 - 15

14. Aşağıda verilen sayı okunuşlarından hangisi **yanlıştır**?

- A) 47 (yetmiş dört)
B) 81 (seksen bir)
C) 95 (doksan beş)



15.

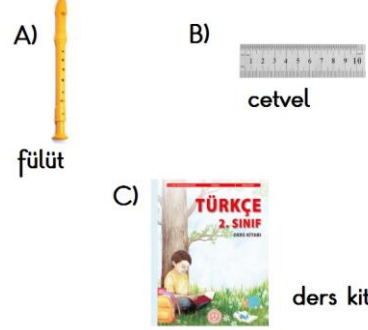
Yukarıdaki portakalların sayısı, aşağıdakilerden hangisinde **doğru** verilmiştir?

- A) 1 Deste
B) 2 Düzine
C) 1 Düzine

HAYAT BİLGİSİ

Türkçe	Türkçe	Matematik	Hayat Bilgisi	Görsel Sanatlar	Beden Eğitimi
--------	--------	-----------	---------------	-----------------	---------------

16. Seçil, ders programına göre hangi ders araç ve gerecini okula **götürmemelidir**?



17.

Krokiye göre okulun **sağ tarafında** aşağıdakilerden hangisi yer almaktadır?

- A) Market
B) Hastane
C) Park

18. Aşağıdakilerden hangisi kişisel bir özellik **değildir**?

- A) İyi kalpli olmak.
B) Uzun boylu olmak.
C) Heyecanlı olmak.