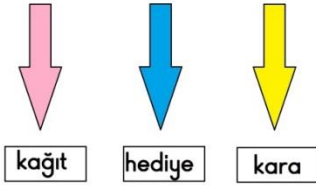


Son dersin bitiş zili çalmıştı. Tüm öğrenciler neşe içinde koşturarak okulu boşaltıyorlardı. Ezgi ve arkadaşı Kübra okul çıkışında buluştular. Kübra, Ezgi'nin yan sınıftan arkadaşısıydı. Evleri okula yakın sayılırdı. Ezgi ve Kübra komşu çocuklarıydılar. Her gün eve birlikte dönerlerdi.

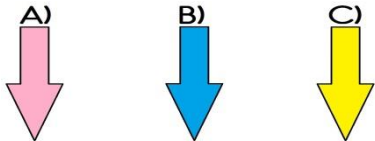
Yol üzerinde çok güzel kır çiçekleri açmıştı. Bir sürü çiçek kopardılar. Amaçları annelerine çiçek götürmekti. Eve geldiklerinde anneleri bahçe kapısının önünde sohbet ediyorlardı. Çocuklar arkalarında sakladıkları çiçekleri annelerine verdiler. Anneleri çiçekleri görünce çok sevindiler.

1. Ezgi ve Kübra okuldan **ne zaman** ayrıldılar?
A) Öğle arasında
B) Beşinci dersin sonunda.
C) Son dersin bitiş zili çaldıktan sonra.
2. Ezgi ve Kübra kır çiçeklerini nereden getirdiler?
A) Çiçekçiden aldılar.
B) Yol üzerinde buldular.
C) Öğretmenleri verdi.
3. Anneleri niçin çok sevinmişti
A) Anneleri, çocuklar onlara çiçek getirdiği için sevindiler.
B) Anneleri çocuklar okuldan geldikleri için sevindiler.
C) Anneleri markete gidecekleri için sevindiler.

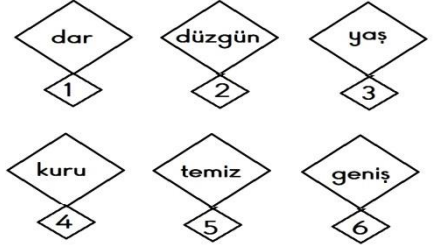


4.

Hangi renkli oktaki sözcüğün **eş anlamlısı yoktur**?

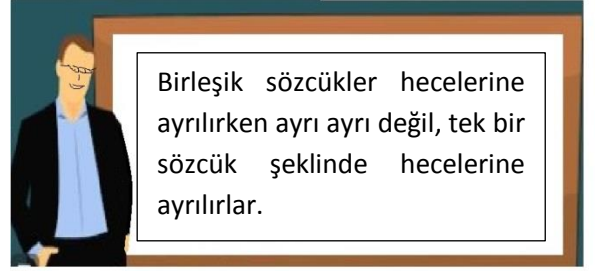
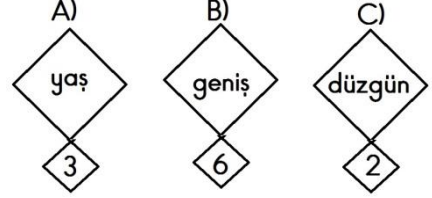


5. Aşağıdaki seçeneklerin hangisinde dört harfli bir hece kullanılmıştır?
A) Salim, yeni kalem aldı.
B) Tuna, süt içti.
C) Deniz, hayvanat bahçesinde kurt görmüş.



6.

Zıt anlamlı sözcükleri eşleştiriniz. Hangi sözcüğün eş anlamlısı **boşta** kalmaktadır?

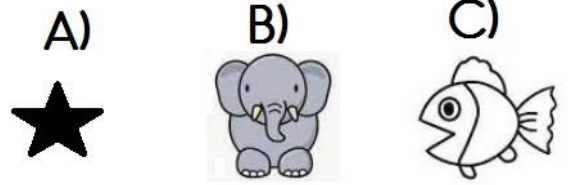


7.

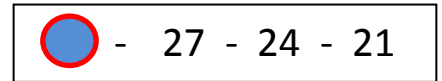
Yukarıdaki kurala göre aşağıdaki seçeneklerden hangisi hecelerine doğru olarak ayrılmıştır?


- A) Kır – ka – yak
B) Kırk - a - yak
C) Kır - kay - ak

8. Aşağıdakilerden hangisinin isminde **daha çok harf** vardır?



9.



Yukarıdaki örüntüde  sembol ile belirtilen yere hangi sayı gelmelidir?

- A) 29
B) 31
C) 30

Ad Soyad :

DENEME

10. Aşağıdaki toplama işlemlerinden hangisinin cevabı

yanlıştır?

A)
$$\begin{array}{r} 16 \\ + 4 \\ \hline 20 \end{array}$$

B)
$$\begin{array}{r} 10 \\ + 6 \\ \hline 16 \end{array}$$

C)
$$\begin{array}{r} 17 \\ + 4 \\ \hline 20 \end{array}$$

11. 64 Sayısı hangi onluğa yuvarlanır?

A) 60

B) 70

C) 65

12. Barış'ın 18 tane boya kalemi vardır. Annesi 3 kalem daha verdi. Barış'ın kaç boya kalemi oldu?

Yukarıdaki soruyu çözerken yaptığımız işlem aşağıdakilerin hangisinde **doğru** yapılmıştır?

A)
$$\begin{array}{r} 18 \\ + 3 \\ \hline 21 \end{array}$$

B)
$$\begin{array}{r} 18 \\ + 3 \\ \hline 20 \end{array}$$

C)
$$\begin{array}{r} 18 \\ + 3 \\ \hline 22 \end{array}$$

13. 36 Kalem ile kaç **deste** oluşturulur?

A) Üç

B) Dört

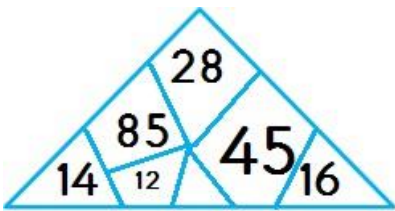
C) İki

14. Kaan 4'er ritmik sayma yaparken aşağıdaki sayılardan hangisini **söyler**?

A) 12

B) 20

C) 15

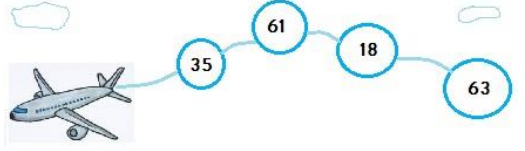


15. Üçgenin içindeki sayıların en küçüğü ile en büyüğünün toplamı kaçtır?

A) 28

B) 64

C) 97



16.

Uçağın götürdüğü sayıların **büyükten küçüğe** doğru sıralanışı hangi seçenekte **doğru** olarak verilmiştir?

A) 35 - 63 - 61 - 18

B) 63 - 61 - 35 - 18

C) 18 - 35 - 61 - 63

17. Grup çalışmaları öğrencilerde aşağıdakilerden hangisinin gelişmesini sağlar?

A) Arkadaşlığı

B) Televizyon izlemeyi

C) Akrabalığı

18. Aşağıdakilerden hangisi okulda kullanılan kaynaklardan değildir?

A) Elektrik

B) Sebze

C) Su

19. **Aysu:** Uzun boyluyum.

Bengü: Kıvrıkcık saçlarım var.

Birgül: İp atlamayı seviyorum.

Yukarıdaki çocuklardan hangisi **ilgi alanları** ile ilgili bir etkinliği söylemiştir?

A) Birgül

B) Bengü

C) Aysu

20. Aşağıdaki seçeneklerden hangisinde okula geliş veya gidişlerde uyulması gereken kurallardan bahsedilmiştir?

A) Okulun yakınındaki parkta oynayabiliriz.

B) Okulumuzun çevresindeki önemli yerleri bilmeliyiz.

C) Okul bahçesinde oyun oynamamalıyız.

21. Okul kaynaklarını ve eşyalarını nasıl kullanmalıyız?

A) Özenli

B) Dikkatsiz

C) Yıpratıcı