

2023 - 2024 Eğitim Öğretim Yılı Hamamköy Ortaokulu 6. Sınıf Fen Bilimleri Dersi
1. Dönem 1. Ortak Yazılı Sınavı

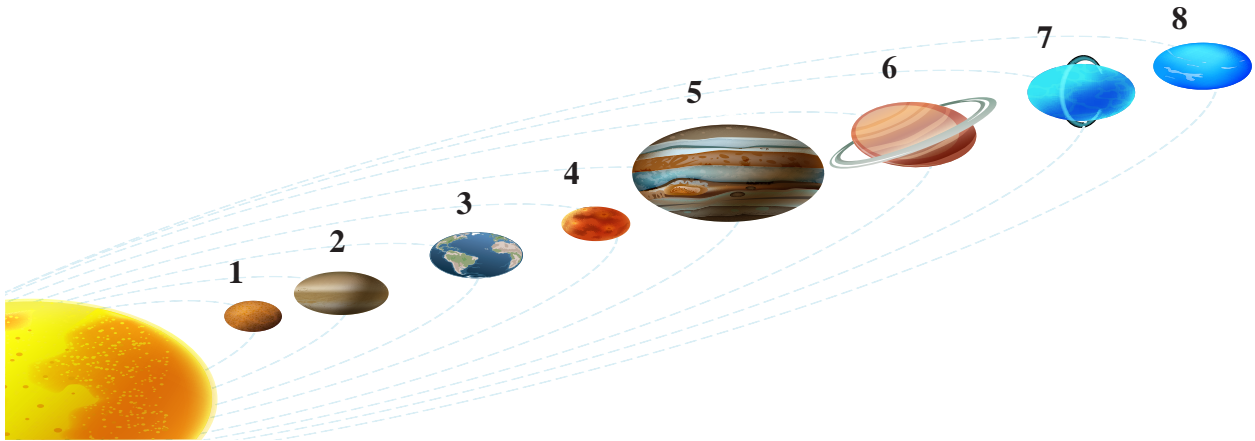
Adı ve Soyadı :

Sınıfı: 6/....

No:

PUAN:

Aşağıdaki görselde Güneş sistemine ait gezegenler numaralandırılarak verilmiştir.



Görselden yararlanarak 1 ve 2 numaralı soruları cevaplayınız.


1-) A) Asteroit kuşağı hangi iki gezegen arasında bulunur?(5 puan)

B) Karasal gezegenlerin numaralarını yazınız.(10 puan)

2-) A)Kızıl gezegen olarak bilinen gezegenin numarasını yazınız.(5 puan)

B)Verilen gezegenleri büyükten küçüğe doğru numaralarını kullanarak sıralayınız. (10 puan)

3-) Aşağıdaki şekilde bir tutulmanın görseli verilmiştir.

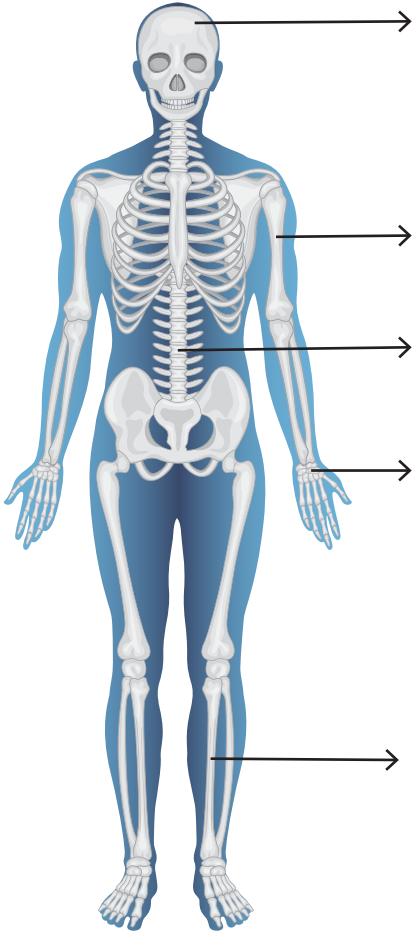


A) Tutulmanın adını yazınız.(5 puan)

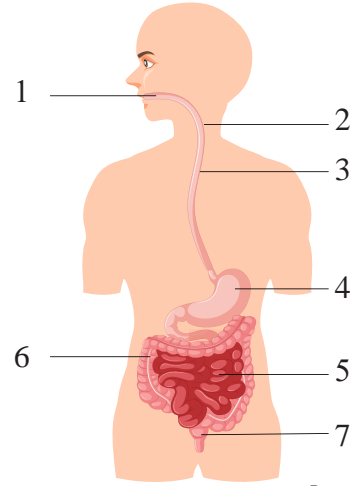
B) Tutulma Ay'ın hangi evresinde gerçekleşir, yazınız.(5 puan)

4-) Pankreas tarafından üretilip ince bağırsağa gönderilen salgının adını ve görevini yazınız.(10 puan)

5-) Aşağıda ok işareti ile gösterilmiş iskelet sistemine ait kemikleri kısa, uzun ve yassı kemik olarak gruplandırınız.(10 puan)



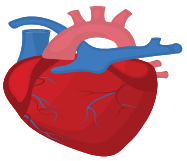
6-) Sindirim sistemi yapı ve organları aşağıdaki görselde numaralandırılarak verilmiştir.



Görseldeki yapı ve organ numaralarını kullanarak aşağıdaki soruları cevaplayınız.

- A) Kimyasal sindirimin gerçekleştiği organlar hangileridir?(5 puan)
- B) Sindirilmiş besinlerin emilimi hangi organda gerçekleşir?(5 puan)
- C) Besinleri bulamaç haline getiren organ hangisidir?(5 puan)
- D) Karbonhidratların kimyasal olarak sindirildiği organlar hangileridir?(5 puan)

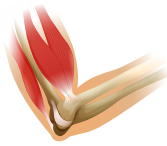
7-) Aşağıda verilen yapı ve organlarda bulunan kas çeşitlerini uygun boşluklara yazınız.(10 puan)



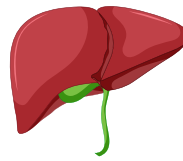
Kalp



Mide



Kol



Karaciğer



Bacak

8-) Aşağıdaki tabloda boş bırakılan yerleri uygun kavramlar ile doldurunuz.(10 puan)

Besin	Kimyasal Sindirimin Başladığı Yer	Kimyasal Sindirimin Bittiği Yer
Karbonhidrat		
Protein		
Yağ		