

TÜRKÇE

* Aşağıdaki kelimeleri sözlük sırasına göre numaralandıralım.

<input type="radio"/> baharat	<input type="radio"/> pasaj
<input type="radio"/> bakır	<input type="radio"/> patika
<input type="radio"/> bant	<input type="radio"/> pamuk
<input type="radio"/> kağıt	<input type="radio"/> zeytin
<input type="radio"/> kasap	<input type="radio"/> zarf
<input type="radio"/> kart	<input type="radio"/> zil

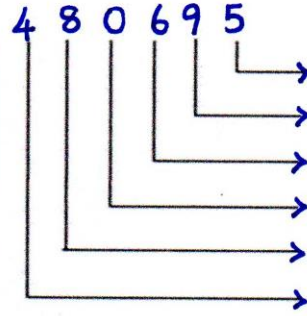
* Aşağıdaki kelimeleri hecelerine ayıralım.

☆ tren	⇒
☆ huzurevi	⇒
☆ hakimiyet	⇒
☆ ayakkabı	⇒
☆ günaydın	⇒
☆ prefabrik	⇒
☆ kızılırmak	⇒

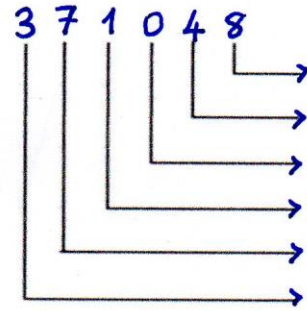
* Aşağıdaki kutulara eş sesli kelimelerden örnekler yazalım.

MATEMATİK

* Aşağıda verilen sayının basamak adlarını yazalım.




* Aşağıda verilen sayının basamak değerlerini yazalım.



* Rakamlarının basamak değerleri karışık olarak verilen sayıları bulalım.



Sayı:



Sayı:

FEN BİLİMLERİ

* Aşağıdaki cümlelerden doğru olanlara "D", yanlış olanlara "Y" yazalım.

- ☐ Kayaçlar, minerallerden oluşmaktadır.
- ☐ Kayaçların farklı olmasının sebebi yapısında bulunan minerallerdir.
- ☐ Okyanus ve deniz tabanlarında da kayaçlar vardır.
- ☐ Dünya'mızın yapısında karalar, sulardan daha fazladır.
- ☐ Yer kabuğu kayaç adı verilen büyük taşlardan oluşur.
- ☐ Yer kabuğu; okyanus tabanlarında kalın, dağlarda daha incedir.
- ☐ Kayaçların renkleri ve sertlikleri farklı olabilir.

Kayaç - taş - kaya - çakıl - kum

* Yukarıdaki sıralamada hangi ikisinin yeri değişirse kayaçlar büyükten küçüğe sıralanmış olur?

- A) kaya - çakıl B) kayaç - taş
C) taş - kaya D) kum - çakıl

* Canlıların üzerinde yaşadığı katman hangisidir?

- A) Su katmanı B) Kara katmanı
C) Hava katmanı D) Manto

SOSYAL BİLGİLER

* Kimliğin ön yüzünde ise "Ö", arka yüzünde ise "A", çip bölümünde ise "Ç" yazalım.

Fotoğraf

Anne adı

Cinsiyet

Kan grubu

T.C. kimlik no

Doğum yeri

Doğum tarihi

Baba adı

Seri no

İmza

* Aşağıdaki verilen bilgilerden doğru olanlara D, yanlış olanlara Y yazalım.

- () Tüm bireylerin ilgi alanları aynıdır.
- () Olayların oluş sırasına göre sıralanmasına kronoloji denir.
- () İnsanların boy, kilo, göz rengi gibi özellikleri duygusal özellikleridir.
- () Ayşe'nin sarı saçlı olması, onun fiziksel özelliklerindendir.
- () Kimliğin geçerlilik tarihi, kimliğin arka yüzündedir.

TÜRKÇE

* Aşağıda verilen dilimize girmiş yabancı kelimelerin Türkçe karşılığını yazalım.

Yabancı Kelime	Türkçe Karşılığı
• skor	
• modern	
• poşet	
• nasihat	
• menü	
• zirve	
• start	
• dekor	
• link	
• korner	
• bye bye	

* Aşağıdaki kelimelerden eş anlamlı olanları aynı renge boyayalım.

iri	görev	al
seviye	yaşlı	ikaz
uyarı	baş	küçük
genç	tespit	ihtiyar
vazife	büyük	belirleme
kırmızı	düzye	kafa

MATEMATİK

* Aşağıdaki sayı örüntülerinin kuralını bulup örüntüyü tamamlayalım.

☆ 73 - 80 - 77 - 84 - - 88

Kural:

☆ 745 - 740 - 748 - 753 - 745 -

Kural:

* Aşağıdaki sayıları sıralayalım.

◇ 9025, 8043, 9205, 7603, 8034

⇒ 1916, 1619, 6191, 9611, 1091

◇ 4381, 4831, 4183, 4083, 4318

⇒ 1029, 1290, 1111, 1920, 1301

* Aşağıdaki kurallara uygun sayıları bulalım.

😊 4 basamaklı en küçük çift sayı:

😊 Rak.farklı 5 bas.en büyük sayı:

😊 6 bas.en küçük tek sayı:

😊 4 bas.en büyük sayı:

😊 5 bas.en küçük sayı:

😊 6 bas.en büyük sayı:

FEN BİLİMLERİ

* Aşağıdaki verilen madenlerin kullanım alanlarını yazalım.

DEMİR

ALTIN

BOR

CIVA

BAKIR

MERMER

LİNYİT

* Hangi seçenekte verilen kayaçların tamamı madendir?

- A) altın mermer taş kömürü
- B) alüminyum kaya kum
- C) tahta çakıl toprak
- D) gümüş cıva taş

SOSYAL BİLGİLER

ilgi

ihtiyaç

yetenek

* Yukarıdaki kelimeleri anlamlarına uygun kutulara yazalım.

• İnsanların yaşamlarını sürdürebilmesi için gerekli olan durum ve eşyalara denir.

• Kişilerin bir şeyleri yapabilme ve anlayabilme kapasitesidir.

• Bir kişinin sevdiği ve yapmaktan hoşlandığı şeylere denir.

* Aşağıdaki eşleştirmeleri uygun şekilde yapalım.

Kahvaltıda iki tane tost yedim.

Çok güzel şarkı söylüyor.

Kitap okumayı seviyorum.

ilgi

yetenek

ihtiyaç

* Empati nedir? Bir örnekle açıklayalım.

Empati →

Örnek cümle →

TÜRKÇE

* Aşağıdaki deyimlerin anlamlarını yazalım.

■ Kulak misafiri olmak



■ Alın teri dökmek



■ Kulak cınlatmak



■ Gözü yolda kalmak



* Aşağıdaki cümlelerden kurallı olanların başına "K", devriklere "D" yazalım.

☐ Murat okula zamanında gelir.

☐ Ahmet kaybetmişti kalemını.

☐ Heyecanlıydı parka geldiği için.

☐ Yarın sinemaya gidiyor musun?

☐ Her gün alıyor mu ekmek?

☐ Tatilde Samsun'a gidecekti.

MATEMATİK

* Aşağıdaki işlemlerin tahmini ve gerçek sonucunun farkını bulalım. (En yakın onluğa yuvarlayalım.)

$$4256 - 1478$$

Gerçek Sonuç	Tahmini Sonuç	Fark

$$5726 + 1329$$

Gerçek Sonuç	Tahmini Sonuç	Fark

* Aşağıdaki işlemleri zihinden yapalım.

$$\diamond 4263 + 80 =$$

$$\diamond 7587 + 200 =$$

$$\diamond 8923 - 400 =$$

$$\diamond 6376 - 500 =$$

$$\diamond 1020 + 600 =$$

* Metin 4793 sayısının binler basamağı ile onlar basamağının yerini değiştiriyor. Oluşan yeni sayının 1043 eksiği kaçtır?

* "7, 4, 0, 1" rakamlarını birer kez kullanmak şartıyla yazılabilecek en küçük 4 basamaklı sayı kaçtır?

FEN BİLİMLERİ

fosil

paleontoloji

nesli

paleontolog

hava

canlı

* Yukarıdaki kelimeleri uygun başluklara yazalım.

Fosilleri inceleyerek _____ tükenmiş canlılar hakkında bilgi ediniriz.

Fosilleşme için canlı kalıntısının _____ ile bağlantısı kesilmelidir.

Taşlaşmış bitki yada hayvan kalıntılarına _____ denir.

Fosilleri inceleyen bilim insanlarına _____ denir.

Ölen her _____ fosilleşmez.

Fosilleri inceleyen bilim dalına _____ denir.

* Aşağıdaki fosillerle ilgili verilen bilgilerden hangisi yanlıştır?

- A) Canlıların kemik, diş gibi sert kısımları fosilleşir.
- B) Bitki kalıntılarından fosil oluşmaz.
- C) Fosilleri inceleyerek o bölge ile ilgili bilgi edinebiliriz.
- D) Yıllar geçtikçe canlı kalıntısının üzerindeki tabaka kalınlaşır.

SOSYAL BİLGİLER

* Aşağıdaki gelenek ve göreneklerden kültürümüze ait olanlara ✓ işareti koyalım.

☐ Kına gecesi yapmak

☐ Cadılar bayramı kutlamak.

☐ Eve ayakkabı ile girmek.

☐ Cenaze evine yemek götürmek.

☐ Noel bayramını kutlamak.

☐ Büyüklerin ellerinden öpmek.

☐ Hastaları ziyaret etmek.

* Aşağıdakilerden milli kültürümüze ait olanları boyayalım.

Pizza

Beyzbol

Keman

Nasrettin Hoca

Bale

Adana Kebap

Golf

Mantı

Halı dokuma

* Aşağıdaki verilen yiyecekler hangi ilimize aittir?

Tantuni →

Mantı →

Baklava →

Kayısı →

Leblebi →

Künefe →

TÜRKÇE

* Aşağıdaki atasözlerini tamamlayalım.

→ Damlaya damlaya olur.

→ Fazla göz çıkarmaz.

→ Üzüm üzüme kararır.

→ Rüzgar eken biçer.

→ Kaçan balık olur.

* Aşağıdaki kelime gruplarından cümle olanların başına "X" atalım.

☐ Sen de gel bizimle

☐ Bağlama çalmayı

☐ Gidiyorum

☐ Arkadaşım bize geldi

☐ Seninle oyun oynamak

☐ Kitap okudun mu

* Aşağıdaki kelimelerden eş sesli olanlara "✓" atalım.

tartı

diz

bardak

satır

sağ

kazan

hayır

yastık

MATEMATİK

* Aşağıdaki işlemlerde verilmeyenleri bulalım.

$$\begin{array}{r} \boxed{} \\ - 2635 \\ \hline 3225 \end{array}$$

$$\begin{array}{r} 3823 \\ + \boxed{} \\ \hline 6748 \end{array}$$

* Aşağıdaki toplama ve çıkarma işlemlerini yapalım.

$$\begin{array}{r} 5709 \\ + 2426 \\ \hline \end{array}$$

$$\begin{array}{r} 2965 \\ + 1829 \\ \hline \end{array}$$

$$\begin{array}{r} 5081 \\ + 1726 \\ \hline \end{array}$$

$$\begin{array}{r} 1884 \\ + 2206 \\ \hline \end{array}$$

$$\begin{array}{r} 2023 \\ + 2001 \\ \hline \end{array}$$

$$\begin{array}{r} 3924 \\ + 1048 \\ \hline \end{array}$$

$$\begin{array}{r} 7026 \\ - 3742 \\ \hline \end{array}$$

$$\begin{array}{r} 9284 \\ - 5327 \\ \hline \end{array}$$

$$\begin{array}{r} 8006 \\ - 1937 \\ \hline \end{array}$$

$$\begin{array}{r} 6389 \\ - 3698 \\ \hline \end{array}$$

$$\begin{array}{r} 7000 \\ - 1789 \\ \hline \end{array}$$

$$\begin{array}{r} 4727 \\ - 2136 \\ \hline \end{array}$$

FEN BİLİMLERİ

* Aşağıdaki boşluklara uygun kelimeleri yazarak cümleleri tamamlayalım.

→ Dünya'mızın _____ ve _____ olmak üzere iki türlü hareketi vardır.

→ Dünya'nın Güneş etrafında dolandığı _____ şeklindeki yola _____ denir.

→ Dünya, kendi eksenini etrafında bir tam tur dönüşünü _____ tamamlar.

→ Dünya'nın Güneş etrafında dolanması sonucunda _____ oluşur.

* Aşağıdakilerden hangisi Dünya'nın Güneş etrafında dolanması sonucunda oluşmaz?

- A) Mevsimler oluşur.
- B) Yıllık sıcaklık farkları oluşur.
- C) Gece ve gündüz oluşur.
- D) Yıl içerisinde gece ve gündüz süreleri değişir.

* Dünya, kendi eksenini etrafında dönüşünü ne kadar sürede tamamlar?

- A) 24 saat
- B) 1 hafta
- C) 52 hafta
- D) 365 Gün 6 saat

SOSYAL BİLGİLER

* Aşağıda verilen soruların cevaplarını yazalım.

• Atatürk nerede doğmuştur?

→

• Atatürk'ün babasının adı nedir?

→

• Atatürk'ün annesinin adı nedir?

→

• Atatürk'ün doğum ve ölüm tarihi nedir?

→

→

* Atatürk'ün okuduğu okulların adlarını sırasıyla yazalım.

1-

2-

3-

4-

5-

6-

7-

Bilgi Kutusu

Atatürk, Harp Akademisi'nden Kurmay Yüzbaşı olarak mezun olmuştur.


TÜRKÇE


* Aşağıdaki cümlelerde altı çizili kelimelerden gerçek anlamda oların kutusunu yeşil, mecaz anlamlıları kırmızı, terim anlamlıları sarıya boyayalım.

☆ Mert çok güzel gol attı. 

☆ Annesi çok sert konuştu. 

☆ Yemek acı olmuştu. 

☆ Doktor çocuğu muayene etti. 

☆ Ege üçgenleri maviye boyadı. 

* Aşağıdaki kelimelerin karşılıklarına zıt anlamlarını yazalım.

dolu	⇒	
kuzey	⇒	
düşman	⇒	
kuru	⇒	
ucuz	⇒	
gece	⇒	
sabah	⇒	

MATEMATİK

* Aşağıdaki problemleri çözelim.

• Ömer arkadaşları ile ormanlık alana 1.gün 3284 fidan, 2.gün ilk günden 157 fazla fidan dikmiştir. Ömer ile arkadaşları 2 günde toplam kaç fidan dikmiştir?

* Binler basamağı 5 olan en büyük dört basamaklı doğal sayı ile on binler basamağı 7 olan en küçük 4 basamaklı doğal sayının toplamı kaçtır?

* Serpil seyahat ederken yolda 1081 siyah araç, 2125 beyaz araç saymıştır. Serpil toplam kaç araç saymıştır?

* Sayı değerleri toplamı 25 olan 4 basamaklı en büyük sayı kaçtır?

FEN BİLİMLERİ

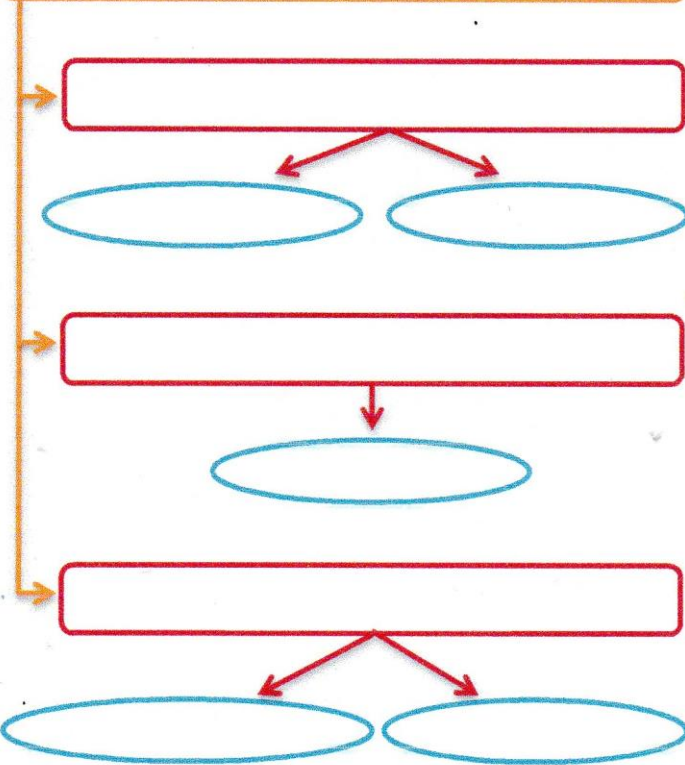
* Hayvansal ve bitkisel besinlere örnekler yazalım.

HAYVANSAL BESİNLER

BİTKİSEL BESİNLER

* Aşağıdaki boşlukları uygun şekilde tamamlayalım.

GÖREVLERİNE GÖRE BESİNLER



Obezite nedir? ⇒

SOSYAL BİLGİLER

Fransa

Almanya

Osmanlı Dev.

Bulgaristan

Macaristan

İngiltere

İtalya

Avusturya

Rusya

* Yukarıda 1. Dünya Savaşı'na katılan devletler karışık olarak verilmiştir. Devletleri uygun yerlere yazalım.

İtilaf Devletleri

→

→

→

→

→

→

İttifak Devletleri

→

→

→

→

→

→

* Mondros Ateşkes Antlaşması'nın maddelerinden 3 tanesini yazalım.

1-

2-

3-

* Aşağıda verilen yerleri hangi devletler işgal etmiştir?

İstanbul ve çevresi

İzmir ve çevresi

Adana, Antep ve çevresi

Kars ve çevresi