

ADI SOYADI: .....

## TÜRKÇE



Batman'dan Diyarbakır'a gidecek kara trene yetişmek zorundaydık. Çünkü o zamanlar tek ulaşım aramız kara trendi. Karayolu olmadığı için otobüs veya arabayla gitme şansımız da yoktu. Bu yüzden treni kaçırmamak için ailemle hızlı ve telaşlı bir şekilde istasyona doğru gittik. Biletimizi alır almaz hemen trene bindik. Gerçi ben bir çocuk olarak bu durumlardan hiç şikayetçi değildim. Severdim treni... Bacasından çıkardığı kara dumanla, upuzun vagonlarıyla bir ejderhayı andırıyordu. Hele trenin istasyondan çıkarken, raylarda çıkardığı sesler tam bir bando takımını andırıyordu.

Bindiğimiz trene Ara Tren derlerdi. Adından da anlaşılacağı gibi bizim Ara Tren her köyde ve ilçede dururdu. İstasyonda durduğu zamanki cümbüşü anlatamam. Ellerindeki yoğurt bakraçlarıyla trene binmeye çalışan teyzeler, vagonların yanından yolculara simit satmaya çalışan yaşlıtlarım, inen ve binen yolcular... Başımı trenin isli camlarına yaslar onları izlerdim.

*micone*

(İlk üç soruyu metne göre cevaplandırınız.)

1- Çocuk ve ailesi trene neden yetişmek zorundaydılar?

- A) Trenden başka ulaşım aracı olmadığı için
- B) Ailece tren seyahatini sevdikleri için
- C) Diyarbakır'a daha erken gitmek için

2- Çocuk ve ailesi hangi ulaşım aracıyla gittiler?

- A) otobüs
- B) tren
- C) araba

3- Aşağıdakilerden hangisi trene binmemiştir?

- A) Yoğurtçu teyzeler
- B) Yolcular
- C) Simitçi çocuklar

4-Çoğul eki almamasına rağmen birden çok varlığı belirten kelimeye topluluk adı diyoruz.

aile		şeker	
	çiçek		düzine
sınıf		sürü	

Buna göre tabloda kaç tane topluluk adı vardır?

- A) 4
- B) 6
- C) 2



Abisi köpeği aniden karşısında görünce: " Elif kaç! " dedi.

5-Yukarıdaki cümlede "kaç" kelimesi hangi anlamda kullanılmıştır?

- A) soru
- B) hareket
- C) zaman

doğal	veya	ile	insan
fakat	gibi	kadar	ve

Anlamı olan hece veya hece gruplarına kelime diyoruz. Yalnız "tek başına anlamı olmayan kelimelerde" anlam aranmaz.

6-Yukarıdaki açıklamaya göre tabloda bulunan kelimelerden kaç tanesinin tek başına anlamı yoktur?

- A) 2
- B) 4
- C) 6

Genç adam bisikletle uzaklaştı.  
İhtiyar adam bisikletle uzaklaştı.

7-Tablodaki cümlelerde, kırmızı renkle yazılı kelimelerle ilgili ifadelerden hangisi **yanlıştır**?

- A) Kelimeler cümleye farklı anlam katmıştır.
- B) Kelimeler zıt anlamlı kelimelerdir.
- C) Kelimelerin anlam özelliği aynıdır.

Sibel derslere katılmaktan bıkmış, canı oyun oynamak istemişti. Bu düşüncesini arkadaşı Ceren'e söyleyince hemen kabul etti. Arkadaşları ders işlerken, Sibel ve Ceren koridorda oyun oynadılar.

8-Yukarıda olaydan çıkarılabilecek dersi ifade eden atasözü aşağıdakilerden hangisidir?

- A) Sakla samanı gelir zamanı.
- B) Üzüm üzüme baka baka kararır.
- C) Dost kara günde belli olur.

İlk heceden sonraki hecelerin ilk harfi ünlü harf **olamaz**.

9- Yukarıdaki açıklamaya göre hangi kelime **yanlış** hecelenmiştir?

- A)gün-ay-dın
- B)ha-nı-me-li
- C)kır-ka-yak

10-Aşağıdaki cümlelerin hangisinde "nasıl" sorusunun cevabı **yoktur**?

- A) Ayaz okula geç kalmamak için hızlı yürüdü.  
B) Emirhan ödevlerini dikkatli yapıyordu.  
C) İsmail hafta sonu köyde ceviz toplayacak.

...	barış-sulh	...	Uzak-yakın
...	esir-tutsak	...	cahil-aydın
...	yumuşak-sert	...	davet-çağrı

11-Tablodaki kelimeleri anlam ilişkisine göre inceleyelim. Eş anlamları E, zıt anlamlı olan kelimeleri Z harfi yazdığımızda tablonun görünüşü nasıl olur?

- A) 

Z	E
E	Z
E	Z

 B) 

E	Z
E	Z
Z	E

 C) 

Z	E
Z	Z
E	E

12-Aşağıdaki ifadelerden hangisi doğrudur?

- A) "DERS" sözcüğü tek heceli ve dört harflidir.  
B) "RÜYA" sözcüğü dört heceli bir harflidir.  
C) "DOST" sözcüğünde üç sesli harf vardır.

## MATEMATİK

356

1-Yanıdaki sayıyla ilgili ifadelerden hangisi **yanlıştır**?

- A) Basamak değeri en büyük olan rakam 3'tür.  
B) Basamak değeri en küçük olan rakam 6'dır.  
C) Sayıyı oluşturan rakamların toplamı 356'dır.

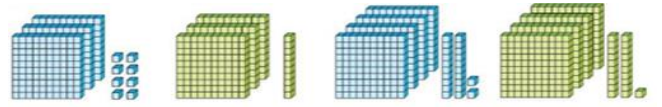


2-Yukarıdaki rakamlarla yazılabilecek en büyük çift sayı ile en küçük tek sayının **farkı** kaçtır?

- A) 369  
B) 309  
C) 216

3-Aşağıdaki parantezli işlemlerden hangisinin sonucu diğerlerinden **farklıdır**?

- A)  $(60 + 40) + 100 =$   
B)  $(90 + 30) + 120 =$   
C)  $(50 + 40) + 110 =$



4-Onluk taban bloklarıyla gösterilen sayıların büyükten küçüğe doğru sıralanışı aşağıdakilerden hangisidir?

- A)  $422 > 308 > 421 > 310$   
B)  $422 > 421 > 310 > 308$   
C)  $308 > 310 > 421 > 422$

5-"57A" bir çift sayı ise "A" yerine aşağıdaki rakamlardan hangisi **yazılamaz**?

- A)9 B)4 C)0

$$\begin{array}{r} 50 \\ + 10 \\ \hline 60 \end{array}$$

$$\begin{array}{r} 60 \\ + 6 \\ \hline 12 \end{array}$$

$$\begin{array}{r} 60 \\ + 12 \\ \hline 72 \end{array}$$

6-Yukarıdaki zihinden toplama işlemi, aşağıdaki toplama işlemlerinden hangisine aittir?

- A) **59 + 10** B) **56 + 16** C) **16 + 65**

Yüzler basamağı	Onlar basamağı	Birler basamağı

7-Yukarıda onluk taban bloklarıyla gösterilen sayının okunuşu aşağıdakilerden hangisidir?

- A) üç yüz on altı B) üç yüz altmış üç  
C) üç yüz altmış

işlem sonucu	tahmini sonuç	fark
$\begin{array}{r} 347 \\ + 264 \\ \hline \end{array}$		

8-Tablodaki toplama işleminin, işlem sonucu ile tahmini sonuç arasındaki fark kaçtır?

- A) 1 B) 2 C) 3

21 26 24 29 ... ...

9-Yukarıdaki örüntüde boş bırakılan yerlere aşağıdaki sayılardan hangisi yazılamaz?

- A)34 B)27 C)32

$$\begin{array}{r} 3 \quad \bigcirc \quad 4 \\ + \quad \bigcirc \quad 3 \quad 3 \\ \hline 5 \quad 7 \quad 7 \end{array}$$

10-Yandaki toplama işleminde verilmeyen rakamların toplamı kaçtır?

- A) 6 B) 4 C) 8

$$(456 + \text{🌸}) + 327 = (165 + 327) + 456$$

$$242 + (168 + 335) = \text{🌸} + (242 + 335)$$

11-Yukarıdaki parantezli toplama işleminde 🌸 ve 🌸 sembolleriyle gösterilen yerlere gelmesi gereken sayıların toplamı kaçtır?










- A)354  
B)436  
C)333

360 215 379 418 901 134

12-Tabloda bulunan çift sayıların toplamı kaçtır?

- A) 845  
B) 912  
C) 699

### HAYAT BİLGİSİ

1 	2 	3 
4 	5 	6 
7 	8 	9 

1-Tabloda doktor, çiftçi ve aşçı mesleğiyle uğraşanların kullandığı aletler gösterilmiştir. Aletlerin mesleklere doğru sıralanması aşağıdakilerden hangisidir?

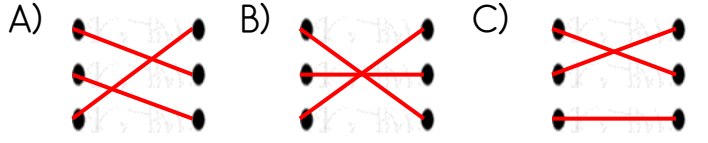
	DOKTOR	ÇİFTÇİ	AŞÇI
A)	1-2-9	3-6-8	4-5-7
B)	2-5-7	1-3-9	4-6-8
C)	2-6-7	3-4-8	1-5-9

Sınıfların ısınması • elektrik

Lavabo temizliği • su

Okulun aydınlatılması • doğalgaz

2-Okulda kullandığımız kaynaklar ve kullanıldığı yerlerin doğru eşleştirilmesi aşağıdakilerden hangisidir?



3-Aşağıdaki durumlardan hangisi, güçlü yönlerimizi bilmekle bir ilgisi yoktur?

- A) Sağlıklı büyümek B) Meslek seçmek  
C) Yapabileceğimiz sorumluluklar

4-Toplumda birçok mesleğin olmasının sebebi aşağıdakilerden hangisi olamaz?

- A) Toplumun ihtiyaçlarının çeşitli olması.  
B) Herkesin aynı işi yapmak istememesi.  
C) İhtiyaçların iş bölümüyle karşılanması.

5-Küçük bir yerin tarifini verebilmek için kağıt üzerine krokiyi nasıl çizmek gerekir?

- A)kabataslak B) planlı C)ölçülü

6-Aşağıdakilerden hangisi okulda yürütülen bir sosyal dayanışma faaliyeti olamaz?

- A) 2.sınıf kitaplığımızdaki kitapları 2.sınıfa geçen sınıflara vermek.  
B) Evde kullanmadığımız oyuncaklarımızı anasınıfına vermek  
C) Sınıfımıza yeni gelen arkadaşlara "Hoşgeldiniz!" demek.

7-Aşağıdaki mesleklerden hangisi gıda ihtiyacımızı karşılayacak çalışma yapmaz?



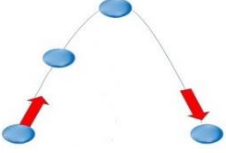
Bitkileri çok severim. Onları incelemek ve tanımak hoşuma gidiyor. Boş vakitlerimin çoğunu evimizin bahçesinde bitkilerin arasında geçiriyorum.



8-Yağız'ın ifadesine göre ileride hangi mesleği yapması uygun olur?


- A) veteriner B) ziraat C) marangoz

## FEN BİLİMLERİ



1-Alper elindeki topu havaya attığı zaman, sırasıyla hangi hareket özelliklerini gözlemleriz?

A)	B)	C)
1. yavaşlama	1. hızlanma	1. Yön değiştirme
2. Yön değiştirme	2. dönme	2. hızlanma
3. hızlanma	3. sallanma	3. yavaşlama



2-Emirhan ve kardeşi, dedesine ait inatçı eşiği ahıra götürmek için kuvvet uyguluyorlar. Görsele göre Emirhan, kardeşi ve

eşek sırasıyla hangi kuvveti kullanmaktadır?

	1.	2.	3.
A)	itme	çekme	çekme
B)	itme	itme	itme
C)	çekme	çekme	itme

3- Aşağıdaki ifadelerden hangisi doğrudur?

- A) Hareketli bir varlığa aynı yönde kuvvet uygulanırsa hızlanma olur.  
B) Viraja giren araba sallanarak yoluna devam eder.  
C) Saatteki akrep ve yelkovan yön değiştirme hareketi yapar.

- ❖ Dünya'mızı zararlı ışınlardan korur.
- ❖ Canlılar için önemli olan oksijen gazı bu katmandadır.
- ❖ Sel ve çığ doğal afetleri hava katmanının içinde gerçekleşmektedir.
- ❖ Hava katmanının diğer adı atmosferdir.

4-Hava katmanı ile ilgili ifadelerden kaç tanesi doğrudur?

- A)4 B)3 C)2


5-Aşağıdakilerden hangisinin hareketi yanlış eşleşmiştir?

- A) Atlıkarınca → Dönme  
B) İp atlayan çocuk → Sallanma  
C) Frenine basılan araba → Yavaşlama

1.	Dünya beş farklı katmanlardan oluşmuştur.
2.	Su katmanında yağmur, kar ve dolu bulunur.
3.	Hava katmanının bir diğer adı da atmosferdir.

6-Yukarıdaki ifadelerden hangileri doğrudur?

- A) yalnız 1 B) 2 ve 3 C)1 ve 3



I. Türk ve Müslüman bilim insanıdır.

II. Dünya'mızın küreye benzediğini söylemiştir.

7-Yukarıdaki özellikler aşağıdakilerden hangisine aittir?

- A) Farabi B) Biruni C) İbni Sina

8-Aşağıdaki varlıklardan hangisini hareket halindeyken kuvvet uygulayarak durdurabiliriz?



A)



B)



C)

Başarılar...