

2. SINIF KASIM ARA TATİLİ ETKİNLİKLERİ

ÖĞRETMENİM BURADA

TÜRKÇE

1. Alfabe kutusunda boş bırakılan yerleri tamamlayalım.

A					E								K	
1	2	3	4	5	6	7	8	9	10	11	12	13	14	15

	N							T						
16	17	18	19	20	21	22	23	24	25	26	27	28	29	

2. Aşağıda verilen harflerden önce ve sonra gelen harfleri yazalım.

	K	
--	---	--

	P	
--	---	--

	J	
--	---	--

	B	
--	---	--

	E	
--	---	--

	T	
--	---	--

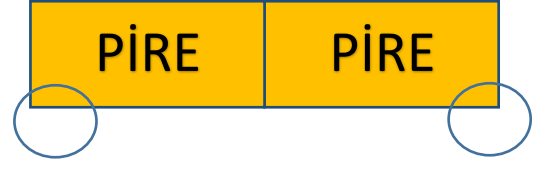
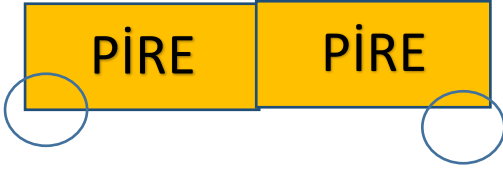
3. Aşağıda verilen tabloyu örnekteki gibi dolduralım.

Kelime	Heceleri	Ünlü Harfleri	Ünsüz Harfleri	Harf Sayısı	Hece Sayısı
Bilgisayar	Bil-gi-sa-yar	i-i-a-a	b-l-g-s-y-r	10	4
Kalemlik					
İlkokul					
Kitap					
Çocuk					
Kelebek					
On					
Aile					

2. SINIF KASIM ARA TATİLİ ETKİNLİKLERİ

ÖĞRETMENİM BURADA

4. Sözlük sıralamasında önce gelen kelimenin dairesini örnekteki gibi boyayalım.



5. Aşağıda verilen sözcükleri alfabetik sıraya koyalım.

Okul
Ev
Araba
Abla

1.
2.
3.
4.

Mandalina
Portakal
Muz
pırasa

1.
2.
3.
4.

6. Tabloda tek başına anlamı olmayan sözcükleri kırmızıya boyayalım.

Aile	Gibi	Sakin	Ama
Ya da	Kim	Bir	İçin
Su	Masa	Kitap	O
Sanki	Şey	Mavi	Çünkü

2. SINIF KASIM ARA TATİLİ ETKİNLİKLERİ

ÖĞRETMENİM BURADA

7. Satır sonuna sığmayan kelimelerden doğru yazılanların dairesini işaretleyelim.

Kar-
ete

A-
ile

kane-
pe

Aks-
aray

Kapa-
lıcarsı

Cev-
iz

Çilekc-
i

Kasım-
patı

8. Tablolarda verilen kelimelerin eş anlamlılarını ve zıt anlamlılarını yazalım.

Kelime	Eş anlamlısı
Öğrenci	
Okul	
Yaşlı	
Barış	
Lider	
İrmak	
Hediye	
Deprem	

Kelime	Zıt anlamlısı
Sıcak	
Ön	
Zengin	
Barış	
Cesur	
Siyah	
Karanlık	
Eksi	

2. SINIF KASIM ARA TATİLİ ETKİNLİKLERİ

ÖĞRETMENİM BURADA

MATEMATİK

1. Aşağıda ki tabloda verilen doğal sayıların okunuşlarını yazalım.

Sayı	Okunuşu
38	
01	
90	
24	
34	

Sayı	Okunuşu
27	
75	
63	
76	
45	

Sayı	Okunuşu
89	
92	
42	
58	
57	

2. Aşağıdaki tabloda okunuşları verilen sayıları yazalım.

Okunuşu	Sayı
Yetmiş beş	
Elli altı	
Yirmi altı	
Doksan dört	
İki	

Okunuşu	Sayı
Altmış bir	
Kırk dört	
Otuz dokuz	
Kırk sekiz	
Yetmiş dört	

Okunuşu	Sayı
Seksen yedi	
On sekiz	
Elli beş	
Doksan dokuz	
On beş	

3. Onluk ve birlikleri verilen sayıları yazalım.

4 onluk+ 7 birlik=..... 8 onluk+ 5 birlik=... 7 onluk=.....

7 birlik=... 9 onluk+ 7 birlik 3 onluk+4 birlik=.....

5 onluk+2 birlik=.... 4 onluk+1 birlik=..... 6 onluk=.....

4. Aşağıda verilen sayıların basamak adlarını ve basamak değerlerini yazalım.

78	Basamak Adı	Basamak Değeri	78	Basamak Adı	Basamak Değeri

2. SINIF KASIM ARA TATİLİ ETKİNLİKLERİ

ÖĞRETMENİM BURADA

5. Aşağıda istenilen ritmik saymaları yapalım.

2-.....-.....-.....-.....-.....-.....-.....-..... (İkişer)

3-.....-.....-.....-.....-.....-.....-.....-..... (Üçer)

4-.....-.....-.....-.....-.....-.....-.....-..... (Dörder)

5-.....-.....-.....-.....-.....-.....-.....-..... (Beşer)

10-.....-.....-.....-.....-.....-.....-.....-..... (Onar)

6. Aşağıdaki tabloda verilen kurallara uygun örüntüleri tamamlayalım.

Örüntünün Kuralı	Örüntü
Üçer artan	27-.....-.....-.....-.....-.....
Dörder azalan	72-.....-.....-.....-.....-.....
İkişer azalan	21-.....-.....-.....-.....-.....
Üçer azalan	38-.....-.....-.....-.....-.....
Dörder artan	45-.....-.....-.....-.....-.....
İkişer artan	83-.....-.....-.....-.....-.....

7. Aşağıda verilen boşlukları örnekteki gibi uygun sayılarla dolduralım.

3 düzine= 36 2 deste=.... 4 deste=.... 5 düzine=....

6 deste=.... 4 düzine=.... 2 düzine=.... 8 deste=....

8. Aşağıda verilen sayıları yanlarındaki açıklamaya uygun şekilde sıralayalım.

45-27-18-85=-.....-.....-..... (Büyükten küçüğe)

57-10-24-42=-.....-.....-..... (Küçükten büyüğe)

78-95-42-05=.....-.....-.....-..... (Büyükten küçüğe)

2. SINIF KASIM ARA TATİLİ ETKİNLİKLERİ

ÖĞRETMENİM BURADA

9. Aşağıda verilen sayıları en yakın onluğa yuvarlayalım.

$$45=.... \quad 57=.... \quad 85=..... \quad 34=.... \quad 58=..... \quad 29=..... \quad 78=....$$

$$71=.... \quad 21=..... \quad 9=.... \quad 13=.... \quad 25=.... \quad 66=..... \quad 55=....$$

10.Aşağıda verilen toplama işlemlerini yapalım.

78	27	35	54	22	37
12	52	47	26	35	8
+ _____	+ _____	+ _____	+ _____	+ _____	+ _____

65	34	42	58	22	7
25	63	47	19	21	85
+ _____	+ _____	+ _____	+ _____	+ _____	+ _____

11.Aşağıda verilen çıkarma işlemlerini yapalım.

87	95	27	18	54
25	38	18	9	37
- _____	- _____	- _____	- _____	- _____

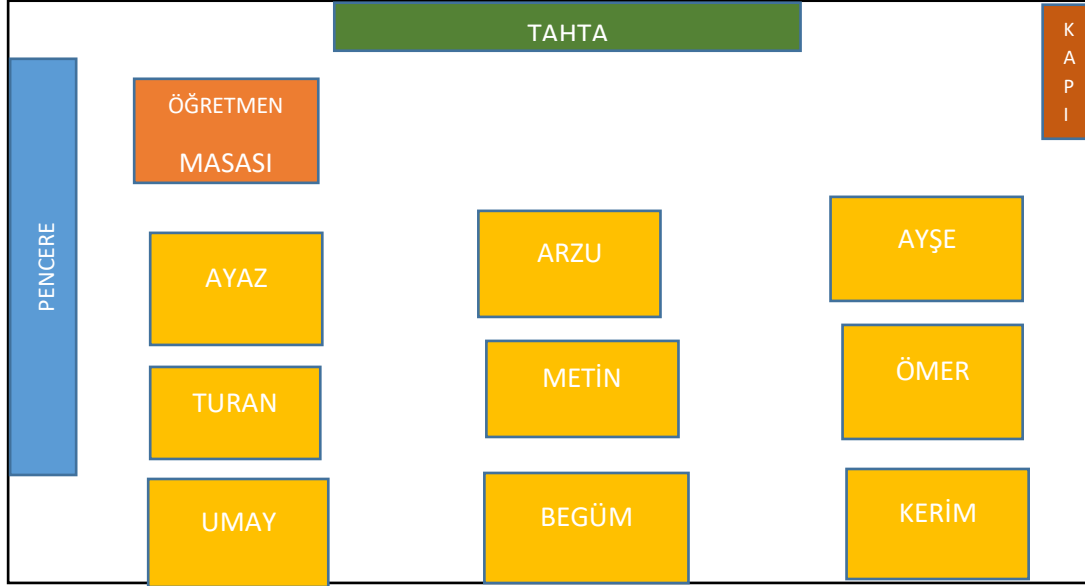
63	58	24	48	83
21	49	9	29	64
- _____	- _____	- _____	- _____	- _____

2. SINIF KASIM ARA TATİLİ ETKİNLİKLERİ

ÖĞRETMENİM BURADA

HAYAT BİLGİSİ

1. Verilen sınıf krokisine göre soruları cevaplayalım.



- Pencere kenarı en önde oturmaktadır.
- Kerim, Ömer'indır.
- Öğretmen masasına en uzak öğrencidır.
- Tahtanın karşısında ortada oturmaktadır.
- Turan, önünde,arkasındadır.
- Sınıfta toplam öğrenci vardır.
- Kapıya en yakın oturan öğrencidır.

2. SINIF KASIM ARA TATİLİ ETKİNLİKLERİ

ÖĞRETMENİM BURADA

2. Aşağıda verilen ifadelerden doğru olanların başındaki kalbi boyayalım.

- ♥ Sınıfta kuralları sadece öğretmen belirler.
- ♥ Dişlerimizi fırçalarken musluğu sonuna kadar açmalıyız.
- ♥ Bir yeri tarif ederken kroki çizeriz.
- ♥ Dış görünüşümüz ile ilgili özelliklerimize kişisel özellik denir.
- ♥ Soy ağacında hem anne hem baba tarafından akrabalarımız olur.
- ♥ Kaynakları kullanırken tutumlu olmalıyız.
- ♥ Annemizin kız kardeşi bizim halamızdır.
- ♥ Amcamız baba tarafından akrabamızdır.

3. Aşağıda verilen davranış doğru ise başına “D”, yanlış ise başına “Y” yazalım.

(.....) Gün ışığı yeterli ise lambaları kapatırım.

(.....) Bireylerin farklı yeteneklerine saygı duyarım.

(.....) Önce isteklerimi, sonra ihtiyaçlarımı karşılarım.

(.....) Aile büyüklerimi ziyarete giderim.

(.....) Soruyu cevaplayamayan arkadaşım ile eğlenirim.

(.....) Saç rengimin fiziksel özellik olduğunu bilirim.

(.....) Boşa akan muslukları kapatırım.

(.....) Sınıfta söz alarak konuşurum.

(.....) Arkadaşlarımdan fikirlerine önem vermem ve dinlemem.