

2-.... SINIFI MATEMATİK 1.DÖNEM 2.DENEME SINAVI

ADI:

SOYADI:

1) 9 onluk 8 birlikten oluşan sayının 28 fazlası kaçtır?

- A) 126 B) 115 C) 116

2)

7

12

17

22

?

Yukarıdaki örüntüde soru işareti yerine hangi sayı gelir?

- A) 26 B) 27 C) 28

3) " 66, 52, 88, 46, 25" sayılarının büyükten küçüğe sıralanışı hangi şıkta doğru verilmiştir?

- A) $88 > 66 > 52 > 46 > 25$
B) $88 > 52 > 66 > 46 > 55$
C) $88 < 66 < 52 < 46 < 25$

4) 5'den başlayıp ileriye beşer ritmik sayma yaparken beşinci saymada hangi sayıyı söyleriz?

- A) 30 B) 25 C) 35

5) Hangi seçenekte verilen toplama işleminin sonucu yanlıştır?

- A) $68 + 22 = 80$
B) $77 + 45 = 122$
C) $73 + 26 = 99$

6) Hangi seçenekte verilen çıkarma işleminin sonucu doğrudur?

- A) $91 - 33 = 58$
B) $85 - 27 = 57$
C) $62 - 24 = 39$

7) 4 düzine kalem 2 deste kalemden kaç fazladır?

- A) 30 B) 28 C) 20

8) Aşağıda verilen sayılardan hangisi en yakın onluğa doğru yuvarlanmıştır?

- A) 84 80
B) 77 70
C) 74 80

9) Aşağıda verilen sayılardan hangisi en yakın onluğa yanlış yuvarlanmıştır?

- A) 66 70
B) 84 90
C) 56 60

10) $52 + \text{?} = 90$ yandaki işlemde daire yerine kaç yazılmalıdır?

- A) 37 B) 38 C) 39

11) Aşağıdaki sayılardan hangisi 48'den büyük ve 56'dan küçüktür?

- A) 55 B) 58 C) 47

12) $81 - \text{?} = 29$ yandaki işlemde daire yerine kaç yazılmalıdır?

- A) 51 B) 62 C) 52

13) Ali kumbarasındaki 150 liranın bir miktarını harcadığında 82 lirası kalıyor. Acaba Ali' kaç lira harcamıştır?

- A) 67 B) 68 C) 69

2-.... SINIFI MATEMATİK 1.DÖNEM 2.DENEME SINAVI

ADI:

SOYADI:

14) Hangi seçenekte verilen çıkarma işleminin sonucu yanlıştır?

A) $60-22=36$

B) $75-45=30$

C) $80-26=54$

15) Hangi seçenekte verilen toplama işleminin sonucu doğrudur?

A) $78+22=90$

B) $53+47=100$

C) $48+32=70$

16) Aşağıda verilen sayılardan hangisi en yakın onluğa yanlış yuvarlanmıştır?

A) $44 \text{ ————— } 40$

B) $65 \text{ ————— } 60$

C) $76 \text{ ————— } 80$

17) 8 birlik 8 onluktan oluşan sayının 7 onluk fazlası kaçtır?

A) 158

B) 148

C) 168

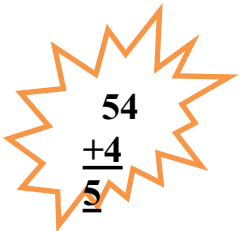
18) Feride'nin 9 onluk+ 8 birlik kadar parası vardır. Feride'nin kaç lirası vardır?

A) 89 TL

B) 98 TL

C) 88TL

19)) Yiğit, alttaki toplama işleminin sonucunu en yakın onluğa yuvarlayarak tahmin etmiştir.



$$\begin{array}{r} 54 \\ +4 \\ \hline 58 \end{array}$$

Gerçek sonuç ile tahmini sonuç arasındaki fark kaçtır?

A) 5

B) 2

C) 1

20)  - 48 = 29 yandaki çıkarma işleminde üçgen yerine kaç yazılmadır?
A) 77 B) 67 C) 78

21) 7 birlik ve 3 onluktan oluşan doğal sayı, aşağıdakilerden hangisidir?

A) 73

B) 10

C) 37

22) "74" sayısının sayı değeri toplamı kaçtır?
A) 70 B) 11 C) 47

23) 32'den başlayıp(otuz iki dahil) ileriye üçer üçer ritmik sayma yaparken yedinci saymada hangi sayıyı söyleriz?

A) 50

B) 53


C) 47

24) 4 deste kalem 8 düzine kalemin toplamı kaç kalem eder?

A) 56

B) 120

C) 136

25) $49 +$  $= 80$ yandaki işlemde üçgen yerine kaç yazılmadır?
A) 31 B) 41 C) 32

NOT: SORULARI DİKKATLİ OKUYUNUZ.