

3. SINIF KASIM ARA TATİLİ ETKİNLİKLERİ

ÖĞRETMENİM BURADA

TÜRKÇE

1. Aşağıda verilen tabloyu örnekteki gibi dolduralım.

KELİME	ÜNLÜ HARFLER	ÜNSÜZ HARFLER	İNCE ÜNLÜLER	KALIN ÜNLÜLER
Kitaplık	i-a-ı	k-t-p-l-k	İ	a-ı
Çekirdek				
Bilgisayar				
Mikroskop				
Sandalye				
Bağlama				
Radyatör				
Hoparlör				

2. Aşağıda verilen birleşik kelimeleri hecelerine ayıralım.

KELİME	HECELER
İlkokul	
Hanımeli	
Çanakkale	
Kavuniçi	
Denizaltı	
Yerelması	

KELİME	HECELER
Bilgisayar	
Boğaziçi	
Babaaanne	
Kızılırmak	
Kırkayak	
Aslanağzı	

3. Aşağıda verilen eş sesli kelimeler ile farklı anlamlara gelecek şekilde cümleler kuralım.

Saz →
→

Bin →
→

3. SINIF KASIM ARA TATİLİ ETKİNLİKLERİ

ÖĞRETMENİM BURADA

4. Aşağıda verilen kelimeleri alfabetik olarak sıralayalım.

Abajur	1.
Keman	2.
Abla	3.
Kemer	4.
Kent	5.

Nasip	1.
Nesil	2.
Nermin	3.
Nail	4.
Nitelik	5.

Tokat	1.
Toka	2.
Tatil	3.
Tarık	4.
Tarak	5.

5. Aşağıda verilen cümleleri uygun ifadelerle tamamlayalım.

- Hafta sonu pikniğe gidemedik çünkü
- Kaygan zeminde koştüğüm için
- Sokakta miyavlayan kediyi görünce
- Kantinde sıra beklerken aniden


6. Aşağıdaki cümleleri yazım yanlışlarını düzelterek tekrar yazalım.

- Atatürk ilkokulunda eğitim görüyorum.
-
- Haftasonu çanakkale gezisine katılacağım.
-
- mersin Şehir hastanesi açılışı yapıldı.
-
- Anlamını bilmediğim kelimeleri türkçe Sözlükten buldum.
-
- Doğu karadeniz bölgesini merak ediyorum.
-

3. SINIF KASIM ARA TATİLİ ETKİNLİKLERİ

ÖĞRETMENİM BURADA

7. Eş sesli kelimelerin bulunduğu yıldızları boyayalım.



8. Verilen kelimelerin eş anlamlılarını yazalım.

KELİME	EŞ ANLAMI
<i>Deprem</i>	
<i>Öğretmen</i>	
<i>Lider</i>	
<i>Barış</i>	
<i>Vatandaş</i>	
<i>Düş</i>	
<i>Al</i>	
<i>Cömert</i>	
<i>Yoksul</i>	
<i>Doktor</i>	

KELİME	EŞ ANLAMI
<i>Okul</i>	
<i>Öğrenci</i>	
<i>Soru</i>	
<i>Yurt</i>	
<i>İsim</i>	
<i>Armağan</i>	
<i>Beyaz</i>	
<i>Cimri</i>	
<i>İhtiyar</i>	
<i>Hatıra</i>	

3. SINIF KASIM ARA TATİLİ ETKİNLİKLERİ

ÖĞRETMENİM BURADA

MATEMATİK

1. Aşağıda verilen sayıların okunuşlarını yazalım.

950=.....

845=.....

754=.....

605=.....

457=.....

550=.....

397=.....

201=.....

110=.....

752=.....

85=.....

97=.....

2. Okunuşları verilen sayıları yazalım.

Sekiz yüz beş=.....

Dört yüz elli altı=.....

Dokuz yüz yetmiş bir=.....

Yüz bir=.....

Üç yüz elli iki=.....

İki yüz dokuz=.....

Beş yüz kırk iki=.....

Altı yüz altı=.....

3. Aşağıda verilen problemleri çözelim.

845 sayısının birler basamağını 2 arttırıp, yüzler basamağını 3 azalttığımızda hangi sayıyı elde ederiz?

Dört yüz elli altı sayısının 341 fazlası kaçtır?

Yüzler basamağı 4 olan en küçük sayı kaçtır?

3. SINIF KASIM ARA TATİLİ ETKİNLİKLERİ

ÖĞRETMENİM BURADA

4. Tablolardaki boşlukları uygun şekilde dolduralım.

857

.....yüzlük+.....onluk+.....birlik

Basamak
adı

Basamak değeri

Sayının okunuşu

748

.....yüzlük+.....onluk+.....birlik

Basamak
adı

Basamak değeri

Sayının okunuşu

401

.....yüzlük+.....onluk+.....birlik

Basamak
adı

Basamak değeri

Sayının okunuşu

692

.....yüzlük+.....onluk+.....birlik

Basamak
adı

Basamak değeri

Sayının okunuşu

5. Tablolarda verilen sayıları en yakın onluklarına ve yüzlüklerine yuvarlayalım.

En yakın
onluk

Sayı

En yakın
yüzlük

754

92

617

459

En yakın
onluk

Sayı

En yakın
yüzlük

805

147

534

352

3. SINIF KASIM ARA TATİLİ ETKİNLİKLERİ

ÖĞRETMENİM BURADA

6. Ritmik saymalarda verilen boşluklara uygun sayıları yazalım.

6-.....-.....-.....-30-.....-.....-.....-60

7-.....-.....-.....-42-.....-.....-.....-.....

.....-16-24-.....-.....-.....-.....-.....-.....

9-.....-.....-36-.....-.....-.....-.....-90

7. Aşağıda verilen Romen rakamlarının karşılıklarını yazalım.

XX=..... IX=..... V=..... III=..... VI=..... XVI=.....

IV=..... IXX=..... XVI=..... XIV=..... XIII=..... VIII=.....

8. Aşağıda verilen sayıları istenen kurala göre sembol kullanarak sıralayalım.

875-958-785-541-632 (Büyükten küçüğe)

.....

784-102-345-950-901(Küçükten büyüğe)

.....

9. Kurallar uygun örüntüler yazalım.









Beşer azalan	78-
Altışar artan	51-
Yedişer azalan	82-
Sekizer azalan	76-
Dokuzar artan	24-
İkişer azalan	27-
Sekizer artan	41-

3. SINIF KASIM ARA TATİLİ ETKİNLİKLERİ

ÖĞRETMENİM BURADA

FEN BİLİMLERİ

1. Doğru ifadelerin başındaki bulutu boyayalım.

-  Bir gemi hep aynı yöne giderse hareket ettiği yere döner.
-  Dünya silindir şeklindedir.
-  Dünyanın en dış katmanı çekirdektir.
-  Kulak işitme duyu organımızdır.
-  İnsanlar tarih boyunca Dünyanın şeklini araştırmışlardır.
-  Duyu organlarımızı korumamıza gerek yoktur.
-  Dünya bir öküzün boynuzlar arasında durmaktadır.
-  Gökyüzü dünyanın kapağıdır.

2. Duyu organlarımızın sağlığı için yapmamız gerekenlerin kutusunu boyayalım.

	Televizyonu en az 35 cm uzaktan izlemeliyiz.
	Kulak temizliğimizi sivri cisimlerle yapmalıyız.
	Kıyafet temizliğimize dikkat etmeliyiz.
	Haftada en az iki sefer banyo yapmalıyız.
	Tozlu ellerimizle gözümüzü kaşıyabiliriz.
	Her maddenin tadına bakmalıyız.
	Kimyasal maddeleri koklamamalıyız.
	Güneşe çıplak gözle bakmamalıyız.
	Çok sıcak içecekler tüketmeliyiz.
	Dişimizi fırçalarken dilimizi temizlemeliyiz.
	Kesici aletlerle oyun oynayabiliriz.

3. SINIF KASIM ARA TATİLİ ETKİNLİKLERİ

ÖĞRETMENİM BURADA

3. Cümlelerdeki boşlukları uygun ifadelerle tamamlayalım.

Dünyanın en dış katmanı

İnsanların yaşadığı katman

Dünyanın dörtte üçünü oluşturan katman

Hava olaylarının gerçekleştiği katman

Yer kabuğunun altındaki katman

En içteki katman

4. Cümlelerdeki boşlukları uygun ifadelerle tamamlayalım.

	İtme		Çekme		Hızlanma	
Yön değiştirme		Yön değiştirme		Dönme		Yavaşlama

- Viraja giren araba hareketi yapar.
- Çekmeceyi kapatırkenkuvveti uygulanır.
- Durağa yaklaşan otobüs hareketi yapar.
- Bize doğru gelen topa vurduğumuzda top
..... hareketi yapar.
- Kapıyı dışa doğru açarkenkuvveti
uygularız.
- Aşağı doğru düşen taş hareketi yapar.
- Yukarı doğru atılan tophareketi yapar.
- Atlı karınca hareketi yapar.

3. SINIF KASIM ARA TATİLİ ETKİNLİKLERİ

ÖĞRETMENİM BURADA

HAYAT BİLGİSİ

1. Yapmaktan hoşlandığımız işlerin bulunduğu kalpleri boyayalım.



2. Aşağıda verilen davranışlar doğru ise başına ‘‘D’’ yanlış ise başına ‘‘Y’’ yazalım.

	Arkadaşlarımızı fiziksel özelliklerine göre seçeriz.
	İyi arkadaşlıklar ömür boyu devam eder.
	Bizden farklı düşünenlerin fikirleri önemsizdir.
	Arkadaşlıkta dürüstlük önemlidir.
	Yemeklerden önce ve sonra eller yıkanmalıdır.
	Okulda istediğimiz gibi davranabiliriz.
	Arkadaşlarımızın sorunlarında tarafsız olmalıyız.
	Bencillik arkadaşlık ilişkilerinde çok önemlidir.
	Ödevlerimizi hafta sonunda yaparız.
	Okulu evimiz gibi düşünmeli o şekilde davranmalıyız.
	Kantin sırasında arkadaşlarımızın sırasını alabiliriz.