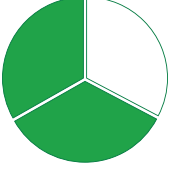


1 160 'ın $\frac{3}{4}$ 'ü aşağıdakilerden hangisidir ?

- A) 120 B) 150 C) 160 D) 180

2



270 sayısının yukarıdaki şekil olarak ifade edilen kesir kadarı aşağıdakilerden hangisidir ?

- A) 100 B) 150 C) 180 D) 200

3 240 'ün $\frac{5}{6}$ 'i aşağıdakilerden hangisidir ?

- A) 170 B) 180 C) 200 D) 220

4 Ahmet bey aracıyla 480 km'lik yolun $\frac{3}{4}$ 'nü gidiyor. Buna göre Ahmet bey kaç kilometre yol almıştır?



- A) 90 B) 180 C) 360 D) 400

5



Emre 330 sayfalık kitabın $\frac{2}{3}$ 'sini okumuştur . Geriye kaç sayfa kitabı kalmıştır?

- A) 70 B) 110 C) 140 D) 210

6



Berk elindeki 600 kg elmanın birinci gün $\frac{3}{10}$ 'ünü ikinci gün $\frac{7}{20}$ 'sini satmıştır. Geriye kaç kg elması kalmıştır ?

- A) 210 B) 240 C) 280 D) 320

KESİR PROBLEMLERİ

5.SINIF MATEMATİK

7



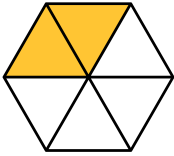
Gülben annesiyle beraber yaptıkları 80 adet bilekliğin $\frac{7}{8}$ 'ini tanesi 10 tl 'den satarsa toplam kaç tl para parası olur ?

- A) 600 B) 650 C) 700 D) 750

8 $\frac{5}{12}$ 'i 65 olan sayının tamamı aşağıdakilerden hangisidir ?

- A) 126 B) 144 C) 156 D) 168

9



Şekilde gösterilen kesir kadarı 120 olan sayının tamamı aşağıdakilerden hangisidir ?

- A) 240 B) 360 C) 480 D) 520

10



Bir duvarın 96 metrekaresini boyayan usta duvarın $\frac{6}{7}$ 'sını boyamış oluyorsa tüm duvarın alanı kaç metrekaredir ?

- A) 98 B) 112 C) 134 D) 156

11 Arda öğretmenin verdiği ödevin 48 sayfasını çözdüğünde ödevin $\frac{2}{3}$ 'sini bitirmiş oluyor. Öğretmeni toplam kaç sayfa ödev vermiştir ?

- A) 50 B) 54 C) 64 D) 72

12



Bir dağcı yerden 156 metre yüksekliğe tırmandığında tırmanacağı toplam yüksekliğin $\frac{6}{13}$ 'sına ulaşmış oluyor.

Bu dağın yüksekliği kaç metredir?

- A) 252 B) 284 C) 338 D) 348

13



Bir bakkal elindeki zeytinyağlarının 42 litresini satarsa tüm zeytinyağlarının $\frac{7}{12}$ 'sini satmış oluyor. Bu bakkal tüm zeytinyağlarını sattığında toplamda 1800 tl gelir elde ettiğine göre zeytinyağının litresini kaç tl'ye satmıştır?

A) 20

B) 24

C) 25

D) 32

14



Seda maaşının birinci gün $\frac{7}{18}$ 'sini ikinci gün $\frac{9}{18}$ 'unu harcadı. Geriye 800 tl'si kaldı. Buna göre Seda'nın maaşı kaç tl'dir ?


A) 6000

B) 7200

C) 8400

D) 9500

15



Ali kendi yaptığı tokaların $\frac{2}{9}$ 'sini satıp bu satıştan 320 tl gelir elde etmiştir. Ali bu tokaların tanesini 8 tl'ye satmaktadır. Buna göre Ali bu tokaların tamamını sattığında toplamda kaç tl gelir elde eder ?

A) 1320

B) 1440

C) 1560

D) 1680