

# 2. SINIF YARIYIL TATILI TEKRAR ETKİNLİKLERİ



22 Ocak 2024 - Pazartesi

## TÜRKÇE

Aşağıda verilen harflerle başlayan örnekteki gibi sözcükler yazalım

a <b>rkadaş</b>	b.....	c.....	d.....	e.....
f.....	g.....	h.....	i.....	j.....
k.....	l.....	m.....	n.....	ö.....
p.....	r.....	s.....	ş.....	t.....
u.....	ü.....	v.....	y.....	z.....

## MATEMATİK

Aşağıda onluk ve birlik olarak verilen sayıları karşlarına yazalım.

3 onluk + 2 birlik : <input type="text"/>	5 onluk + 4 birlik : <input type="text"/>	8 birlik + 1 onluk : <input type="text"/>
4 onluk + 9 birlik : <input type="text"/>	2 birlik + 6 onluk : <input type="text"/>	7 onluk + 0 birlik : <input type="text"/>

Tabloda boş bırakılan yerleri dolduralım.

85			47			39		
Basamak Adı	..... Basamağı	..... Basamağı	Basamak Adı	..... Basamağı	..... Basamağı	Basamak Adı	..... Basamağı	..... Basamağı
Basamak Değeri			Basamak Değeri			Basamak Değeri		

## HAYAT BİLGİSİ

İstenilen bilgileri özelliklerimize göre dolduralım.

Adım soyadım: .....

Cinsiyetim: .....

Boyum: .....

Kilom: .....



Yaşım: .....

Göz rengim: .....

Saç rengim: .....

İlgi alanım: .....



optimistogretmen

23 Ocak 2024 - Salı

TÜRKÇE

Verilen tabloyu istenen bilgilerle dolduralım.

SÖZCÜK	HARF SAYISI	ÜNLÜ HARFLER	ÜNSÜZ HARFLER
portakal			
bilgisayar			
ilköğretim			
kalemlik			
Afyonkarahisar			

MATEMATİK

Soruları cevaplayalım.

- Bir deste kaç nesnedir? .....
- Bir düzine kaç nesnedir?.....
- Bir desteden 4 fazla kalem kaç kalem eder?.....
- Bir düzineden 5 eksik çiçek kaç çiçek eder?.....

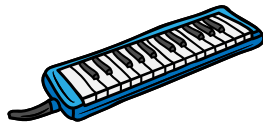
Verilen sayılardan başlayarak istenilen ritmik saymayı yapalım.

- 14 - ..... - ..... - ..... - ..... - .....  
ikişer
- 30 - ..... - ..... - ..... - ..... - .....  
üçer
- 24 - ..... - ..... - ..... - ..... - .....  
dörder
- 40 - ..... - ..... - ..... - ..... - .....  
beşer



HAYAT BİLGİSİ

Aşağıdaki araç gereçlerin hangi derslerde kullanılacağını yazalım.



.....

.....

.....

.....

.....



24 Ocak 2024 - Çarşamba

## TÜRKÇE

Sözcükleri sözlük sırasına göre kutucuklara yazalım.

okul	asker	zürafa	çiçek	deniz	ağ
1. <input type="text"/>	2. <input type="text"/>	3. <input type="text"/>	1. <input type="text"/>	2. <input type="text"/>	3. <input type="text"/>
cam	bavul	deve	muz	mandalina	üzüm
1. <input type="text"/>	2. <input type="text"/>	3. <input type="text"/>	1. <input type="text"/>	2. <input type="text"/>	3. <input type="text"/>
makine	lale	kütüphane	kekik	karabiber	kuşburnu
1. <input type="text"/>	2. <input type="text"/>	3. <input type="text"/>	1. <input type="text"/>	2. <input type="text"/>	3. <input type="text"/>
spor	park	resim	erik	elma	enginar
1. <input type="text"/>	2. <input type="text"/>	3. <input type="text"/>	1. <input type="text"/>	2. <input type="text"/>	3. <input type="text"/>

## MATEMATİK

Aşağıda verilen sayıları küçükten büyüğe sıralayalım.

24 - 48 - 35 - 19

68 - 77 - 24 - 45

82 - 59 - 44 - 53

Aşağıda verilen sayıları büyükten küçüğe sıralayalım.

15 - 64 - 42 - 37

52 - 41 - 90 - 12

62 - 84 - 73 - 63

Aşağıda verilen sayıları en yakın onluklarına yuvarlayalım.

18 → .....	63 → .....	82 → .....	39 → .....
44 → .....	56 → .....	77 → .....	21 → .....

## HAYAT BİLGİSİ

Krokiye göre soruları cevaplayalım.



- Marketin karşısında ne vardır? .....
- Eczanenin sağında ne vardır? .....
- Manav ve kırtasiyenin arasında ne vardır? .....
- Fırının solunda ne vardır? .....
- Eczaneden hastaneye geçmek isteyen bir kişi hangi caddeyi kullanır? .....



25 Ocak 2024 - Perşembe

## TÜRKÇE

Karışık olarak verilmiş hecelerden anlamlı sözcükler oluşturalım

men - ret - öğ

ke - lan - loğ

ba - kum - ra

dın - ay - lık

çer - ve - çe

ğa - lum - kap - ba

viz - te - yon - le

bol - bas - ket

cı - zı - ya

har - ba - ilk

fon - le - te

tim - il - re - köğ

## MATEMATİK

Verilen toplama işlemlerini yapalım.

$$\begin{array}{r} 26 \\ + 32 \\ \hline \end{array}$$

$$\begin{array}{r} 44 \\ + 15 \\ \hline \end{array}$$

$$\begin{array}{r} 37 \\ + 23 \\ \hline \end{array}$$

$$\begin{array}{r} 58 \\ + 16 \\ \hline \end{array}$$

$$\begin{array}{r} 43 \\ + 29 \\ \hline \end{array}$$

$$\begin{array}{r} 69 \\ + 12 \\ \hline \end{array}$$

Verilen çıkarma işlemlerini yapalım.

$$\begin{array}{r} 59 \\ - 45 \\ \hline \end{array}$$

$$\begin{array}{r} 67 \\ - 21 \\ \hline \end{array}$$

$$\begin{array}{r} 73 \\ - 35 \\ \hline \end{array}$$

$$\begin{array}{r} 44 \\ - 28 \\ \hline \end{array}$$

$$\begin{array}{r} 93 \\ - 74 \\ \hline \end{array}$$

$$\begin{array}{r} 75 \\ - 36 \\ \hline \end{array}$$

## HAYAT BİLGİSİ

Verilen ifadelerden doğru olanların başına "D" yanlış olanların başına "Y" yazalım.







- ☐ Hayat bilgisi dersinde melodika çalarız.
- ☐ Sınıfta ders sırasında konuşmamalı, söz almak için parmak kaldırmalıyız.
- ☐ Arkadaşlarımızın eşyasını izin almadan kullanabiliriz.
- ☐ Sınıf panosunu sınıfça düzenlemeliyiz.
- ☐ Sınıf başkanını demokratik yollarla seçmeliyiz.



26 Ocak 2024 - Cuma

## TÜRKÇE

Görseli verilen varlıkların size çağıştırdığı üç kelimeyi karşlarına yazalım.



## MATEMATİK

Verilen zihinden toplama işlemlerini yapalım.

$20 + 10 = \dots\dots$

$40 + 30 = \dots\dots$



$70 + 20 = \dots\dots$

$30 + 30 = \dots\dots$

$50 + 20 = \dots\dots$

$60 + 30 = \dots\dots$

$10 + 50 = \dots\dots$

$40 + 50 = \dots\dots$

Verilen zihinden çıkarma işlemlerini yapalım.

$60 - 50 = \dots\dots$

$90 - 60 = \dots\dots$



$70 - 20 = \dots\dots$

$50 - 40 = \dots\dots$

$40 - 30 = \dots\dots$

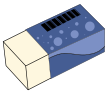
$80 - 30 = \dots\dots$

$40 - 40 = \dots\dots$

$60 - 30 = \dots\dots$

## HAYAT BİLGİSİ

Aşağıda görselleri verilen ders araç gereçlerini bulmacadan bulup boyayalım.



optimistogretmen

C	E	T	V	E	L	D	E	T	Y	K	S
K	G	H	J	K	L	E	C	V	S	K	Ö
İ	A	S	D	F	G	F	M	Ö	İ	Ç	Z
T	M	N	C	Z	İ	T	P	O	L	J	L
A	S	D	K	A	L	E	M	H	G	İ	Ü
P	E	T	İ	K	Ğ	R	Y	T	İ	Ö	K



29 Ocak 2024 - Pazartesi

## TÜRKÇE

Verilen sözcüklerin zıt anlamlarını karşlarına yazalım

uzun		sabah	
evet		ilk	
doğru		yaz	
güzel		genç	
kolay		zengin	

## MATEMATİK

Toplama işlemlerinde tahmini ve gerçek sonuçları bulup karşılaştıralım.

GERÇEK SONUÇ	TAHMİN	FARK
$\begin{array}{r} 42 \\ + 29 \\ \hline \end{array}$	$\begin{array}{r} + \\ \hline \end{array}$	$\begin{array}{r} - \\ \hline \end{array}$

GERÇEK SONUÇ	TAHMİN	FARK
$\begin{array}{r} 36 \\ + 48 \\ \hline \end{array}$	$\begin{array}{r} + \\ \hline \end{array}$	$\begin{array}{r} - \\ \hline \end{array}$

GERÇEK SONUÇ	TAHMİN	FARK
$\begin{array}{r} 63 \\ + 14 \\ \hline \end{array}$	$\begin{array}{r} + \\ \hline \end{array}$	$\begin{array}{r} - \\ \hline \end{array}$

Çıkarma işlemlerinde tahmini ve gerçek sonuçları bulup karşılaştıralım.

GERÇEK SONUÇ	TAHMİN	FARK
$\begin{array}{r} 58 \\ - 16 \\ \hline \end{array}$	$\begin{array}{r} - \\ \hline \end{array}$	$\begin{array}{r} - \\ \hline \end{array}$

GERÇEK SONUÇ	TAHMİN	FARK
$\begin{array}{r} 74 \\ - 29 \\ \hline \end{array}$	$\begin{array}{r} - \\ \hline \end{array}$	$\begin{array}{r} - \\ \hline \end{array}$

GERÇEK SONUÇ	TAHMİN	FARK
$\begin{array}{r} 64 \\ - 28 \\ \hline \end{array}$	$\begin{array}{r} - \\ \hline \end{array}$	$\begin{array}{r} - \\ \hline \end{array}$

## HAYAT BİLGİSİ

Verilen görsellerin altlarına ihtiyaç veya istek yazalım.



optimistogretmen

30 Ocak 2024 - Salı

## TÜRKÇE

Verilen sözcüklerin eş anlamlarını karşılıklarına yazalım

konuk		konut	
sonbahar		talebe	
yaşlı		yıl	
ad		sözcük	
mektep		rüya	

## MATEMATİK

Verilen problemleri dikkatlice çözelim.

1. Cansu'nun 26 cevizi vardır. Elif'in cevizleri Cansu'nun cevizlerinden 25 fazladır. İki arkadaşın toplam kaç cevizi vardır?

2. Deniz 27 kg, Hatice 24 kg, Kemal ise 18 kg'dır. Üç arkadaşın ağırlıkları toplamı kaç kg'dır?

3. Gülden'in 35 TL'si vardır. Babası Mehmet Bey kaç TL daha verirse Gülden'in 60 TL'si olur?

4. Bir fırın öğleden önce 17, öğleden sonra 24 pasta satmıştır. Bu fırın gün boyu tahmini toplam kaç pasta satmıştır?

## HAYAT BİLGİSİ

Okulun bize kazandırdığı olumlu duyguların yazılı olduğu bulutları maviye boyayalım.

Olumsuz ifade içeren bulutları ise kırmızıya boyayalım

iş birliği	kıskançlık	sorumluluk	disiplin	ayrımcılık
adalet	bencillik	sabır	taraflılık	





31 Ocak 2024 - Çarşamba

TÜRKÇE

Verilen sözcükleri bir cümle içinde kullanalım.

güneş

çanta

ağaç

elektrik

sabun

MATEMATİK

Verilen problemleri dikkatlice çözelim.

1. Sınıf mevcudumuz 45'tir. Sınıfımızda 22 kız öğrenci olduğuna göre erkek öğrenci sayımız kaçtır?

2. 48 sayfalık hikaye kitabımın sabah 14 sayfasını, öğlen 15 sayfasını okudum. Akşam kaç sayfa daha okursam kitap biter?

3. Müge 5 deste kaleminin 2 düzinesini İbrahim'e verdi. Müge'nin kaç kalemi kalır?

4. Bir çıkarma işleminde eksilen 71, fark 34 olduğuna göre çıkan kaçtır?

HAYAT BİLGİSİ

Aşağıdaki kağıtlara 5 tane nezaket ifadesi yazalım.



# 1 Şubat 2024 - Perşembe

## TÜRKÇE

Karışık verilen sözcüklerle anlamlı ve kurallı bir cümle oluşturalım.

oynadım - parkta - arkadaşlarımla - top

piknik - ailemle - yaptık - ormanda

Antalya - gideceğiz - ve - tatilde - İzmir'e

çok - öğretmenimi - seviyorum - okulumu - ve



## MATEMATİK

Verilen bilgilere göre, istenilenleri yazalım.



Kova 4 sürahi su ile dolmaktadır.



Sürahi 6 bardak su ile dolmaktadır.



1 bardak su

1. İki kova, kaç sürahi su alır?  
.....
2. Dört sürahi kaç bardak su alır?  
.....
3. Boş bir kova kaç bardak su ile dolar?  
.....
4. 12 bardak su ile kaç sürahi doldurulabilir?  
.....
5. Yarım sürahi, kaç bardak su ile dolar?  
.....

## HAYAT BİLGİSİ

Boşlukları uygun kelimeler ile tamamlayalım.

- Mevsiminde yetişen ..... ve ..... tüketmeliyiz.
- Yemeklerden ..... ve ..... ellerimizi yıkamalıyız.
- Tabağımıza ..... kadar yemek almalıyız.
- Yatmadan önce ..... fırçalamalıyız.
- Uzayan ..... kesmeliyiz.
- Hapşırırken ya da öksürürken ..... kapatmalıyız.



ağzımızı  
önce  
meyve  
sonra  
sebzelerden  
tırnaklarımızı  
yiyebileceğimiz  
dişlerimizi



2 Şubat 2024 - Cuma

## TÜRKÇE

Yay ayraç ile belirtilen yerlere uygun noktalama işaretlerini yazalım.

Okuldan en iyi Ravza( ) Yağmur( ) Ayşe ve Gonca ile anlaşıyorum( )

Eyvah( ) annem yemeği ocakta unutmuş ( )

Yarın sen de bizimle sinemaya gelecek misin ( )


Tatil ödevlerimi aksatmadan yapıyorum( )

Saatın kaç olduğunu farkında değilim( )



## MATEMATİK

Geometrik şekiller ile ilgili istenilen bilgileri yazalım.




İsmi:.....  
Köşe sayısı:.....  
Kenar sayısı:.....




İsmi:.....  
Köşe sayısı:.....  
Kenar sayısı:.....



İsmi:.....  
Köşe sayısı:.....  
Kenar sayısı:.....

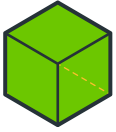


İsmi:.....  
Köşe sayısı:.....  
Kenar sayısı:.....



İsmi:.....  
Köşe sayısı:.....  
Kenar sayısı:.....

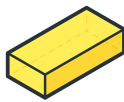
Geometrik cisimlerin adlarını altlarına yazalım.



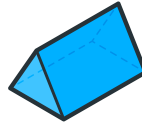
.....



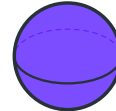
.....



.....



.....



.....



.....

## HAYAT BİLGİSİ

Verilen ifadelerden doğru olanların başına "D" yanlış olanların başına "Y" yazalım.

- ☐ Doğalgaz açıkken pencere ve kapıları uzun süre açık tutmamalıyız.
- ☐ Masa ve sıraların üzerine isimlerimizi yazıp resimler çizebiliriz.
- ☐ Lavabodan çıkarken muslukları kapatmalıyız.
- ☐ Güneş varken sınıftaki lambaları açık tutmalıyız.

