

2.SINIF

YARIYIL TATİL KİTABI

Not: Çalışmalarımın başka sitelerde aktif indirme linki verilmeden yayınlanmasına ve ticari amaçla çoğaltılmasına iznim yoktur.

👉 TÜM ETKİNLİKLERİME ULAŞMAK İÇİN HEMEN TAKİP EDİN 👉

İnstagram hesabımı takip etmek için [TIKLAYIN.](#)

[2.Sınıf Telegram grubumuza katılmak için TIKLAYIN.](#)

[Tüm 2.Sınıf Etkinlikleri için TIKLAYIN.](#)



Mutlulukla kullanın...

Safiye Öğretmen

2.SINIF

YARIL

TATİL ETKİNLİKLERİ



cevap anahtarına
ulaşmak için
telefonunuzdan
bu kodu okutun.

Öğrenci adı:

Sınıfı:



1) Alfabemizde boş bırakılan yerleri tamamlayalım.

		C						Ğ						L	M				P					T				Z	
1	2	3	4	5	6	7	8	9	10	11	12	13	14	15	16	17	18	19	20	21	22	23	24	25	26	27	28	29	

2) Alfabetik sırasına göre harfi bulalım, örnekteki gibi o harfle başlayan bir kelime yazalım.

16	m	aymun
4		

29		
11		

21		
24		

3) Alfabetik sırasına göre harfi bulalım, örnekteki gibi o harfle biten bir kelime yazalım.

1	arab	a
9		

28		
17		

4		
22		

4) Kelimleri sözlük sırasına göre [alfabetik sıra] sıralayalım.

top, toka, tarak, gül

1)	
2)	
3)	
4)	

tuz, yağ, balon, balık

1)	
2)	
3)	
4)	

ıspanak, pırasa, limon, lahana

1)	
2)	
3)	
4)	

HAYAT BİLGİSİ

- 1) • Kıvrık saçlarım var.
• Uzun boyluyum.
• Resim yapmayı severim.
• Göz rengim mavidir.

Yukarıdakilerden kaç tanesi fiziksel özelliğe örnektir?

- a) 1 b) 2 c) 3

2) Görsel sanatlar dersi için hangisini yanımıza almamız gerekir?

- a) sözlük
b) eşofman
c) resim defteri



EĞLENCE KUTUSU

Hayat bilgisi dersinde
öğretmen sordu:

- Balıklar neden konuşmaz?

Funda parmak kadırdı:

- Öğretmenim, siz de
başınızı suya soksanız
konuşamazsınız.



1) Aşağıda verilen bilgilerden yararlanarak hayvanların adlarını bulup yazalım.

<input type="text"/>	<input type="text"/>	<input type="text"/>	<input type="text"/>	<input type="text"/>	<input type="text"/>

- Pingu'nun sayısı 4 desteden 5 fazladır.
- Gıtgıt'ın sayısı 3 düzineden 6 azdır.
- Fifi'nin sayısı 5 desteden 10 fazladır.
- Kiki'nin sayısı 4 desteden 1 düzine fazladır.
- Titi'nin sayısı 2 düzineden 4 fazladır.
- Kurbi'nin sayısı 10 desteden 1 azdır.

2) Aşağıda modellerle gösterilen sayıları yazalım.

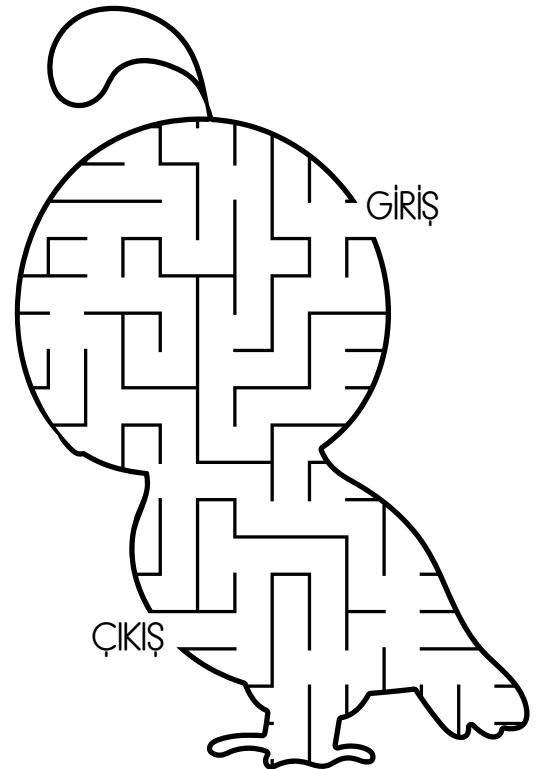
	Sayı <input type="text"/>		Sayı <input type="text"/>		Sayı <input type="text"/>
--	---------------------------	--	---------------------------	--	---------------------------

3) Sayıların okunuşunu yazalım.

67: _____
 55: _____
 90: _____
 41: _____

4) Aşağıda verilen iki basamaklı doğal sayıları yazalım.

9 onluk + 7 birlik = _____
 7 onluk + 9 birlik = _____
 3 onluk + 6 birlik = _____
 5 onluk + 3 birlik = _____





1) Tabloyu örnekteki gibi dolduralım.

VARLIK	İSİM	HARF SAYISI	SESLİ HARF	SESSİZ HARF
	patates	7	a-a-e	p-t-t-s

HAYAT BİLGİSİ


1) "Her zaman arkadaşlarımı kırmadan ve üzmeden konuşmaya dikkat ederim."

Yukarıdaki sözü söyleyen öğrenci için hangisini söyleyebiliriz?

- a) kaba
- b) saygılı
- c) saygısız

2) Tuğçe'nin oynadığı oyunun adı nedir?

- a) Seksek
- b) Saklambaç
- c) Yağ satarım



EĞLENCE KUTUSU

İki kedi oturuyormuş.

Birinin yavrusu gelip annesine:

- Hav hav, demiş.

Öteki kedi de:

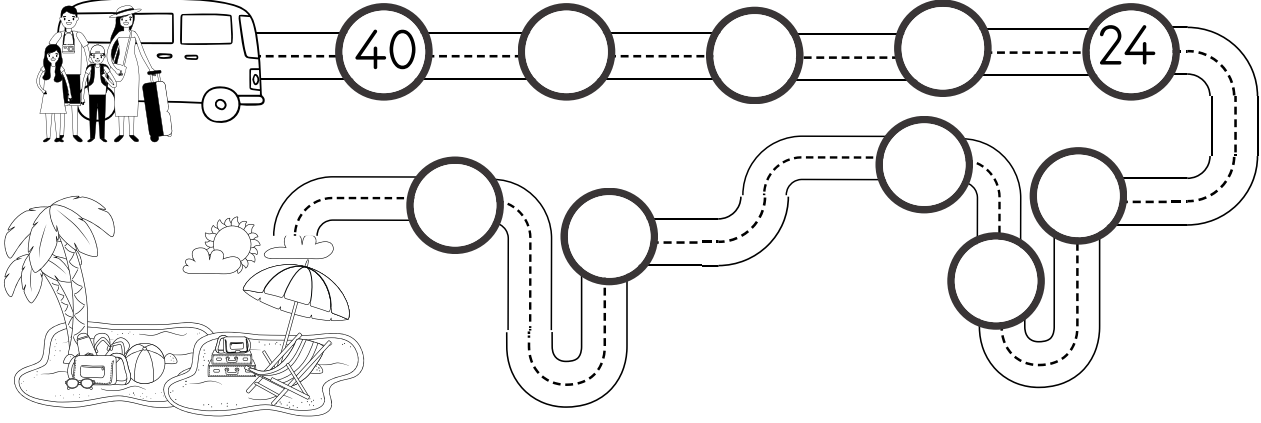
-Hayrola, senin çocuğa ne oldu böyle, demiş.

Anne kedi hemen cevap vermiş.

-Bizim çocuk yabancı dil öğreniyor.



1) Aşağıdaki aileyi geriye doğru dörder ritmik sayarak tatile götürelim.



2) Sayıları en yakın onluğa yuvarlayalım.

66: 48: 33: 92: 77:

1. Her gün 4 tane matematik problemi çözen Buğra, 40 tane problemi kaç günde çözer?

a) 8 b) 9 c) 10


2. Bir termos 10 bardak çay ile dolmaktadır. Üç termosu doldurmak için kaç bardak çay gerekir?

a) 20 b) 30 c) 40

3. Nurgül elindeki kâğıda 53'ten küçük, 45'ten büyük sayılar yazıyor. Buna göre kâğıda kaç tane sayı yazmıştır?

a) 7 b) 8 c) 9

Cümlelerde boş bırakılan yerleri resimlere göre tamamlayalım.



1. That is a c...ke

2. That is a go....ill...

3. That is aizz.....

4. That is an ambul.....ce



1) Tabloyu örnekteki gibi dolduralım.

KELİME	HECELE	HECE SAYISI
basketbol	bas-ket-bol	3
salatalık		
mercimek		
kırk		
öğrenci		
ilkokul		
Trabzon		
Atatürk		
kurbağa		

2) İlk örnekteki gibi bizden istenilen sayıda heceden oluşan kelime yazalım.

1	nar
3	
4	
2	
3	
2	
1	

HAYAT BİLGİSİ

1) Adresimizle ilgili olarak aşağıdakilerden hangisi doğru bir davranış değildir?

- a) Sipariş verdiğimiz ürünün eve ulaşması için adresimizi doğru olarak vermeliyiz.
- b) Adres bilgilerimizi herkese verebiliriz.
- c) Gerekli durumlarda adres bilgilerimizi güvenlik görevlilerine verebiliriz.

2) Zamanımızı verimli kullanmak için yapmalıyız. Noktalı yere hangi ifade gelmelidir?

- a) günlük plan
- b) adres
- c) ders



SÖYLE BAKALIM

Sabah kalktım
Pencereyi açtım
Bahçede tırtıl
Yaprakları yiyor
Kıtır kıtır
Pis tırtıl
Hain tırtıl
Neden yedin bizim
yaprakları
Kıtır kıtır
Ben de seni yiyeyim mi?
Çıtır çıtır.



1) İleriye ritmik sayarak boşlukları dolduralım.

İkişer 68

Üçer 3

Dörder 20

2) Geriye ritmik sayarak boşlukları dolduralım.

İkişer 98

Üçer 30

Dörder 32

3) Aşağıdaki işlemleri ok yönünde yaparak ilerleyelim.

$$\begin{array}{r}
 99 \\
 - 23 \\
 \hline
 \end{array}
 \rightarrow
 \begin{array}{r}
 \boxed{} \\
 - 19 \\
 \hline
 \end{array}
 \rightarrow
 \begin{array}{r}
 \boxed{} \\
 - 18 \\
 \hline
 \end{array}
 \rightarrow
 \begin{array}{r}
 \boxed{} \\
 + 28 \\
 \hline
 \end{array}
 \rightarrow
 \begin{array}{r}
 \boxed{} \\
 + 23 \\
 \hline
 \end{array}
 \rightarrow
 \begin{array}{r}
 \boxed{} \\
 - 5 \\
 \hline
 \end{array}$$

1. Melike 68 sayfalık kitabın ilk gün 23 sayfasını, ikinci gün 16 sayfasını, üçüncü gün ise geri kalanını okuyarak bitirdiğine göre, Melike üçüncü gün kaç sayfa kitap okumuştur?

- a) 45 b) 39 c) 29



2. 21'den başlayarak(21 dahil) ileriye doğru üçer sayarsak 3. saymada hangi sayıyı söyleriz?

- a) 24 b) 27 c) 30

3. Damacanadan 7 bardak su aldığımızda geriye 56 bardak su kalıyor. Buna göre damaca toplam kaç bardak su alır?

- a) 63 b) 59 c) 49

Aşağıdaki bulmacayı verilen kelimelerle dolduralım.





1) Aşağıdaki tabloyu istenilen şekilde dolduralım.

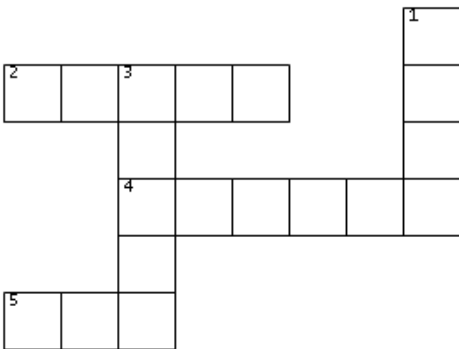
CÜMLE	KELİME SAYISI	HECE SAYISI
En çok kırmızı kazağımı seviyorum.	5	13
Akşam yemeğinde köfte ve salata yedik.		
Hafta sonu Elif ile beraber dedemlere ziyarete gittik.		
Sınıfın havalanması için pencereyi açar mısın?		
Kahvaltıda çay içmeyi ve sucuklu yumurta yemeyi çok seviyorum.		
Sevimli minik kuzu çayırlarda zıpladı.		
Kalemliğinde hangi renk boya kalemleri var?		
Telefon numaranı öğrenebilir miyim?		
Eyyahh, komşumuzun çatısında yangın çıktı!		

2) Yanda verilen sayı kadar kelime kullanarak cümle yazalım

4	
5	
6	
7	


3) Kelimelerin zıt anlamlısını bulmacada yerine yazalım.

4) Kelimelerin eş anlamlısını bulmacada yerine yazalım.



1. KISA
2. KÜÇÜK
3. GENÇ
4. ZAYIF
5. TATLI

1. HEKİM
2. OKUL
3. MİSAFİR
4. SİYAH
5. KIRMIZI





1) Aşağıdaki örüntülerin kuralını bulup devam ettirelim.

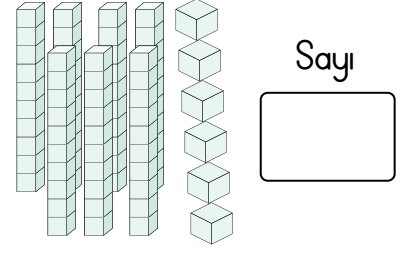
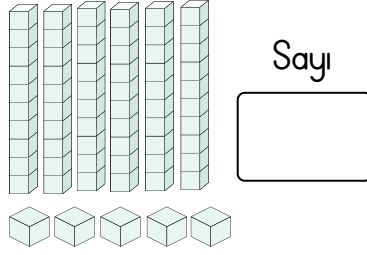

51 57 75

63 53 13

42 44 43 45 44

11 10 20 19 29

2) Aşağıda modellerle gösterilen sayıları yazalım.



1. Bardaklardan hangisini doldurmak için daha fazla suya ihtiyaç vardır?

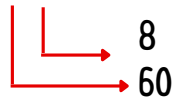


2. Yanda basamak değeri verilen sayı hangisidir?

a) 86

b) 68

c) 66



3. 5★ küçüktür 55'ten

Öğretmen tahtaya yukarıdaki ifadeyi yazıp küçük sayının birler basamağını yıldız koyarak kapatıyor.

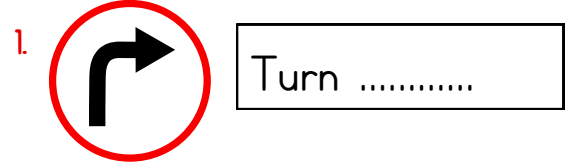
Buna göre ★ yerine kaç farklı rakam yazılabilir?

a) 5

b) 4

c) 3


Görsele uygun olarak noktalı bölüme gelmesi gereken seçeneği işaretleyelim



a) right

b) up

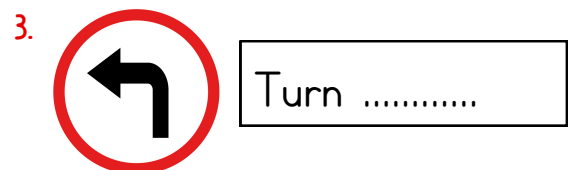
c) close



a) door

b) cake

c) window



a) are

b) left

c) my



1) Tablodaki soruların cevaplarını yazalım.

	Kim?	Nereye?
Tuğçe dün otobüsle dedesinin köyüne gitti.		

	Kim ?	Nasıl?
Ferit ile Pelin yürüyerek eve gitti.		

	Ne zaman?	Ne?
Dedem bazı geceler bize Keloğlan Masalları anlatırdı.		

	Ne?	Ne zaman?
Duru sabah erkenden kalkıp yumurta haşladı.		



	Nereye?	Niçin?
Atatürk, 19 Mayıs'ta ülkemizin geleceği için Samsun'a çıktı.		

	Kim ?	Ne?
Nasrettin Hoca pazara giderken yolda bir adam gördü.		

	Kim?	Ne?
Kral Şakir, Necati'ye kırmızı renkli bir kazak hediye etti.		

	Kim ?	Nasıl?
23 Nisan gösterisinde öğrenciler doya doya eğlendi.		

2) Aşağıdaki hayvan bilmecelerini okuyalım, cevaplarımızı bulmacada yerine yazalım.



- 1) Yüzlerce iğnesi var ama dikiş yapamaz.
- 2) Kanatları var uçar, rengi içimizi açar. Ona doğru yaklaşırsan, hemen kanat açıp kaçar.
- 3) Havlayamaz köpek değil, zıplayamaz tavşan değil. Kanadı var kuş değil, denizi sever balık değil.
- 4) Gelişi aslan gibi, duruşu kaplan gibi, yayılır hasır gibi.
- 5) Konuşur insan değil, gagası var uzun değil.
- 6) Yol üstünde kırmızı iplik.
- 7) Gece gezer, gündüz kaçar.
- 8) Karadan baktım bir taş, yanına vardım dört ayak bir baş.
- 9) Uzunudur ip değil, ısırır köpek değil.



1. Hakan kantin kuyruğunda baştan 4. sondan 6. sıradadır. Buna göre bilet kuyruğunda toplam kaç kişi vardır?

- a) 8 b) 9 c) 10

2. Onur 23, Anıl 15 yaşındadır. 4 yıl sonra ikisinin yaşları toplamı kaç olur?

- a) 38 b) 46 c) 42

3. 3 birlik 2 onluktan oluşan sayıyı 35'ten çıkardığımızda sonuç kaç olur?

- a) 3 b) 12 c) 13

4. Onlar basamağında 9 rakamı bulunan en büyük iki basamaklı doğal sayının 5 eksiği kaçtır?

- a) 94 b) 84 c) 74

Karışık verilen sayıları düzelterek yazalım.

w o t	2
___	___

i x s	6
___	___

u r f o	4
___	___

n n i e	9
___	___

v e i f	5
___	___

n e o	1
___	___

g h t e i	8
___	___

v s e n e	7
___	___



1) Şiirde boş bırakılan kelimeleri yazalım.

yaşamak – sağlıktan – sen –
vücuduna – erken – dinçlik

SAĞLIK ÖĞÜDÜ

Seviyorsan canını,

..... iyi bak.

Kuvvetlendir kanını,

İstersen çok

Vakitli yat, kalk,

Çok dikkat et zamana.

Ne güzeldir çalışmak

..... verir insana

..... yaşarsan, bu vatan,

Ancak yaşar, yükselir.

Bunu bil, böyle inan,





Varlık, gelir.

V. Cem AŞKUN

2) Kedinin üzerinde kelimenin harf sayısı, köpek üzerinde kelimede geçmesi gereken sesli harf yazıyor. Bu kurala uygun kelimeler yazalım.



börek



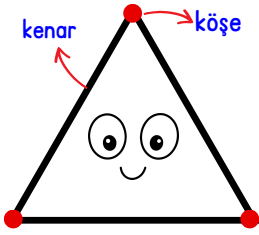
HAYAT BİLGİSİ

1) Annemizin erkek kardeşine, kız kardeşine deriz. **Noktalı yerlere sırasıyla hangileri gelmelidir?**

- a) amca – hala
- b) dayı – hala
- c) dayı – teyze

2) Annesi Zuhal'in odasına girince oyuncaklarının toplanmamış olduğunu gördü. **Buna göre Zuhal için hangisini söyleyebiliriz?**

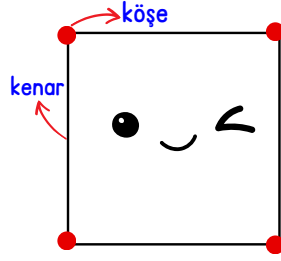
- a) Çalışkan değildir.
- b) Dürüst birisi değildir.
- c) Sorumluluklarını yerine getirmiyor.



Adım:

Kenar Sayım :.....

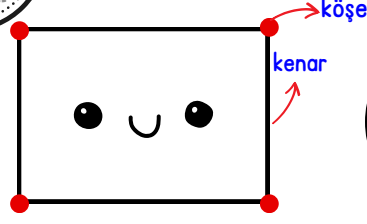
Köşe Sayım:.....



Adım:

Kenar Sayım :.....


Köşe Sayım:.....



Adım:

Kenar Sayım :.....

Köşe Sayım:.....

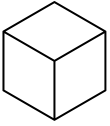


Adım:

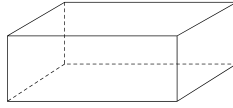
Kenar Sayım :.....

Köşe Sayım:.....

Geometrik cisimlerin adlarını yazalım.




.....



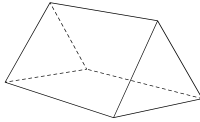
.....



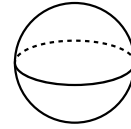
.....



.....



.....




.....

1. Onlar basamağı 5 olan iki basamaklı en büyük sayı ile birler basamağı 2 olan iki basamaklı en küçük sayıyı toplarsak toplam kaç olur?

a) 85 b) 79 c) 71

2. En büyük ve en küçük sayıların yazıldığı balonlar patlıyor.



Patlamayan balonlardaki sayıların toplamı kaçtır?

a) 96 b) 45 c) 81


Aşağıdaki diyalogu sırasına uygun şekilde numaralandıralım.

- ☐ Hi, Gizem!
- ☐ Great, thanks.
- ☐ I'm fine, you?
- ☐ How are you?
- ☒ 1 Good morning, Burak.







1) Alfabemizdeki büyük harfleri sırasıyla takip ederek çizelim. Çıkan şekli boyayalım.




2) Görsellere uygun cümleler yazalım.









HAYAT BİLGİSİ

1) Kişisel bakım sağlığımız için çok önemlidir.

Aşağıdakilerden hangisi kişisel bakımdır?

- a) Dengeli beslenmek
- b) Sağlıklı yiyecekler yemek
- c) Tırnak kesmek

2) Aşağıdaki davranışlardan hangisi sağlığımızı olumsuz yönde etkiler?

- a) Mevsimine uygun sebzeler yemek.
- b) Açıkta satılan yiyecekleri almak.
- c) Yeterince uyumak.

3) Aşağıdaki hangisi yaz mevsimine uygun bir sebzedir?

- a) biber
- b) portakal
- c) kivi



1) Geriye ritmik sayarak boşlukları dolduralım.

Beşer 45 20

Dörder 36 32

2) İleriye ritmik sayarak boşlukları dolduralım.

Beşer 55 65

Dörder 12

3) Aşağıdaki çıkarma işlemlerinde verilmeyen sayıları bulalım.

$$\begin{array}{r} \boxed{} \\ - 29 \\ \hline 23 \end{array} \quad + \quad \begin{array}{r} \boxed{} \\ \boxed{} \\ \hline \boxed{} \end{array}$$

$$\begin{array}{r} \boxed{} \\ - 47 \\ \hline 34 \end{array} \quad + \quad \begin{array}{r} \boxed{} \\ \boxed{} \\ \hline \boxed{} \end{array}$$

$$\begin{array}{r} \boxed{} \\ - 45 \\ \hline 19 \end{array} \quad + \quad \begin{array}{r} \boxed{} \\ \boxed{} \\ \hline \boxed{} \end{array}$$

$$\begin{array}{r} \boxed{} \\ - 59 \\ \hline 33 \end{array} \quad + \quad \begin{array}{r} \boxed{} \\ \boxed{} \\ \hline \boxed{} \end{array}$$

1. Bir inekten 1 kova süt çıkmaktadır.
1 kova süt ise 16 şişeyi sütle dolduruyor.
Bu durumda 2 inekten kaç şişe süt çıkar?


a) 18 b) 26 c) 32

2. Annem 60 tane muzlu, 32 tane de
çilekli pankek yaptı. Pankeklerin 30
tanesini komşumuza ikram ettik.
Geriye toplam kaç pankek kalmıştır?


a) 62 b) 30 c) 92

COLOURS


İstenilen renklere göre boyayalım.




red



blue



orange




yellow




pink



black



green



brown



1) Aşağıda verilen kelimeleri örnekteki gibi bulmacanın içinde bulmaya çalışalım.

m	o	z	i	s	o	r	u	m	i	u	k	i	u	a	v	o	f			
m	g	d	v	i	d	ü	g	k	t	ğ	t	u	a	i	l	e	h	u	y	v
ü	u	t	ğ	a	i	p	ü	n	f	j	p	o	ğ	ş	z	d	g	z	o	p
f	i	z	i	k	s	e	l		ö	z	e	l	l	i	k	u	b	s	r	ğ
b	ş	z	z	r	a	o	z	g	d	l	c	t	a	s	a	r	r	u	f	n
ç	d	ğ	ü	a	y	k	k	r	n	e	z	a	k	e	t	y	v	s	c	ğ
g	z	ş	i	b	g	a	b	c	c	u	f	ö	p	l	a	n	i	p	c	j
j	g	b	i	a	ı	i	i	j	d	z	y	c	ğ		c	a	e	ş	t	j
g	f	ğ	m	m	p	d	f	l	g	t	c	i	e	ö	g	i	b	g	r	ç
d	y	l	l	n	j	d	m	c	a	g	v	ü	ğ	z	ğ	ü	j	ü	o	t
e	v	i	a	u	i	y	b	j	m	e	y	d	s	e	v	g	i	ü	f	y
ç	a	ç	s	j	i	ü	v	y	a	r	d	ı	m	l	a	ş	m	a	h	v
ü	p	y	i	s	k	n	z	d	ğ	l	i	e	ş	l	ğ	a	f	g	j	a
ü	r	h	y	d	j	p	ğ	h	t	c	n	v	ğ	i	h	t	i	y	a	ç
f	b	k	p	ğ	b	o	k	j	ğ	i	s	t	e	k	ö	m	ö	p	i	ü

1. kişisel özellik
2. ~~aile~~
3. fiziksel özellik
4. tasarruf
5. sorumluluk
6. nezaket
7. tasarruf
8. ihtiyaç
9. saygı
10. istek
11. akraba
12. plan
13. yardımlaşma
14. sevgi

HAYAT BİLGİSİ

1) Aşağıdaki davranışlardan hangisi yanlıştır?

- a) Hastalandığımızda vakit kaybetmeden doktora gitmeliyiz.
- b) Günde üç defa dişlerimizi fırçalamalıyız.
- c) Her öğünde aynı tür besinlerle beslenmeliyiz.

2) Aşağıdaki hangisi sağlık çalışanı değildir?

- a) Eczacı
- b) Diş hekimi
- c) Terzi


SÖYLE BAKALIM

Dal sarkar kartal kalkar,
Kartal kalkar dal sarkar.

Kırk kırık küp.

Kırkının da kulpu kırık

Kara kırık küp.







1) Geriye ritmik sayarak boşlukları dolduralım.

İkişer  96    88 





Üçer  27    

2) İleriye ritmik sayarak boşlukları dolduralım.

İkişer  44  48  

Üçer  6   

3) En yakın onluğu çiçeğin ortasındaki sayı olan yaprakları boyyalım.



1. 35 ve 57 sayısının onlar basamaklarının basamak değerleri toplamı kaçtır?

a) 70 b) 80 c) 90


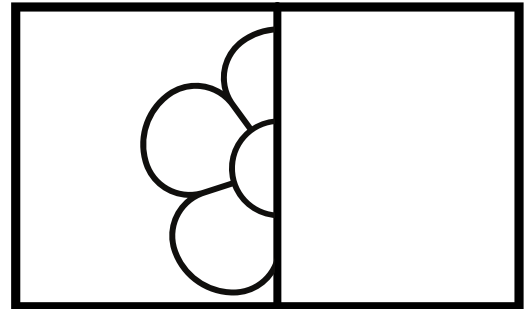
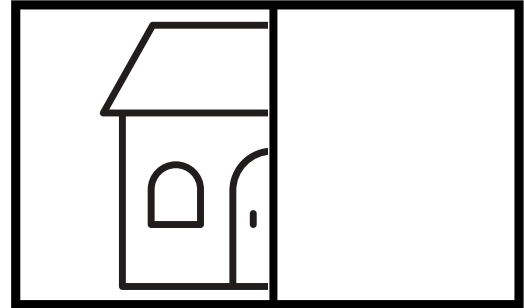
2. İlay 15 katlı apartmanın en son katında oturuyor. 11. kata kadar asansörle, geri kalan katları ise yürüyerek çıkıyor. İlay kaç katı yürüyerek çıkmıştır?

a) 3 b) 4 c) 5

3. Beren'in 59 balonu vardır. Balonların 13'ü sarı, 26'sı beyaz geriye kalanı ise pembedir. **Pembe balonların sayısı kaçtır?**

a) 20 b) 39 c) 46

4) Aşağıdaki şekillerin simetrisini çizip resmi boyyalım.





1) Aşağıda verilen kelimeleri örnekteki gibi bulmacanın içinde bulmaya çalışalım.

yapmayı - parka - yürüyüş - dinlemeyi
- basketbol - film - Isparta'da - börek - araba



Merhaba, ben Ecrin. On iki yaşındayım ve yaşıyorum. Resim ve müzik severim. Ayrıca ile ilgileniyorum. Benim bir kardeşim var adı Yunus Emre. O yedi yaşında. yarış oyunları ve dışarıda vakit geçirmeyi çok sever. O ve arkadaşları okuldan sonra giderler. Annem ve babam yapmayı ve izlemeyi sever. Annem çok güzel sarma ve yapar.

HAYAT BİLGİSİ

1) Aşağıdaki davranışlardan hangisi yanlıştır?

- a) Bahçede oynarken bir şeyler yemek.
- b) Ağızımızı kapatarak yemek yemek.
- c) Bir şey yedikten sonra dökülenleri toplamak.

2) Aşağıdaki durumların hangisi hava kirliliğine neden olur?

- a) Denize dökülen atık sular.
- b) Fabrika bacalarından çıkan gazlar.
- c) Çevreye atılan çöpler.



BİL BAKALIM

Sarı mendil mavi denize düşerse ne olur?
İslanır.

Bir kamyonu kim tek eliyle durdurabilir?

Trafik polisi.

Küp şeker toz şekere ne demiş?
Dökürüyorsun.



1) Toplama işlemlerindeki verilmeyen sayıları bulalım.

$$\begin{array}{r} 34 \\ + \boxed{} \\ \hline 78 \end{array}$$

$$\begin{array}{r} 45 \\ + \boxed{} \\ \hline 90 \end{array}$$

$$\begin{array}{r} 22 \\ + \boxed{} \\ \hline 56 \end{array}$$

$$\begin{array}{r} 13 \\ + \boxed{} \\ \hline 88 \end{array}$$

$$\begin{array}{r} \boxed{} \\ + 29 \\ \hline 54 \end{array}$$

$$\begin{array}{r} \boxed{} \\ + 79 \\ \hline 99 \end{array}$$

$$\begin{array}{r} \boxed{} \\ + 19 \\ \hline 41 \end{array}$$

$$\begin{array}{r} \boxed{} \\ + 45 \\ \hline 62 \end{array}$$

1. Cebimde bir miktar para vardı. 50 liraya bir top alınca geriye 35 liram kaldı. Buna göre top almadan önce cebimde kaç lira vardı?

- a) 85 b) 90 c) 95

2. Dün 54 sayfalık kitabımın 14 sayfasını okudum. Bugün ise dün okuduğumdan 4 sayfa fazla okudum. Okumadığım kaç sayfa kalmıştır?

- a) 40 b) 32 c) 22

2) Bulmacada gizlenen renkleri bulalım.

A	Y	M	S	C	İ	E	N	R	E	D	Q
O	E	R	E	A	T	O	O	K	N	R	F
İ	L	S	A	B	L	A	C	K	G	Y	B
N	L	S	W	R	R	M	P	T	P	N	L
T	O	T	D	O	E	E	G	J	İ	R	U
O	W	D	E	W	M	O	R	A	N	G	E
R	R	H	P	N	U	G	A	R	K	E	A
Y	F	A	İ	A	G	F	Y	U	T	O	P
H	M	M	D	T	İ	R	R	G	O	L	D
P	U	P	P	L	E	K	E	M	E	L	H
D	V	T	U	A	D	Z	C	E	E	E	Y
P	S	İ	L	V	E	R	U	A	N	S	T

RED

YELLOW

BLUE

ORANGE

PINK

~~PURPLE~~

BROWN

BLACK

GİZLİ RENKLERİ BUL



Şiiri okuyalım, soruları cümle kurarak cevaplayalım.

BAYRAM YERİ

Anne, bugün bayram
Haydi, giydir yeni elbiselerimi!
Saçlarımı tara,
Mendilimi ver!
Bugün çok güzel olmalıyım
Elini öpeceğim dedemin, babamın
Sonra bayram yerine gideceğim.
Bilsen, neler var bayram yerinde
Hele o salıncaklar,
Horoz şekerleri,
Sıra sıra dizilmiş oyuncaklar.
Atlıkarıncalar üstünde
Dönüp duruyor çocuklar!
Şükrü Enis REGÜ

1) Çocuk annesinden ne yapmasını istiyor?

2) Çocuk kimlerin elini öpecekmiş?

3) Bayram yerinde neler varmış?

4) Şiir kaç kelimeden oluşmuştur?

HAYAT BİLGİSİ

1) Aşağıdakilerden hangisi yemekten önce uyulması gereken görgü kuralıdır?

- a) Ağzımızda yiyecek varken konuşmamak.
- b) Ellerimizi yıkamak.
- c) Peçete kullanmak.

2) Aşağıdaki davranışlardan hangisi doğrudur?

- a) Tabağımıza çok fazla yemek koymak.
- b) Yemeğe herkesten önce başlamak.
- c) Yemekten sonra yemeği hazırlayana teşekkür etmek.



BİL BAKALIM

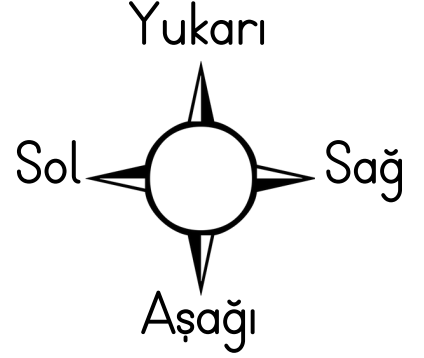

Havlayamaz köpek değil,
zıplayamaz tavşan değil.
Kanadı var kuş değil,
denizi sever balık değil

Akşam baktım çok idi,
Sabah baktım yok idi.

Gökte gördüm köprü,
rengi yedi türlü.



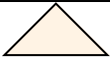
Resme uygun olacak şekilde aşağıdaki boşlukları dolduralım.



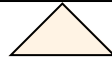
- Tavşan 2 birim aşağı 1 birim sağa gidince ulaşır.
- Tavşan 2 birim aşağı, 2 birim sola ardından 2 birim aşağı inince ulaşır.
- Tavşan 1 birim yukarı, 4 birim sola giderse..... ulaşır.
- Tavşan 2 birim sola, 1 birim aşağı, 1 birim sola giderse..... ulaşır.
- Tavşan 2 birim yukarı, 2 birim sağa giderse..... ulaşır.

Aşağıdaki işlemlerin eşit olabilmesi için noktalı yerlere gelmesi gereken sayıları bulalım.

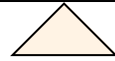
$$20+18 = 19+....$$



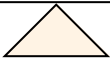
$$90-50 = 30+....$$



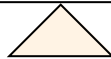
$$25+50 = 50+....$$



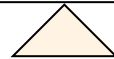
$$57-17 = 60-....$$



$$44-13 = 20+....$$



$$86-86 = 53-....$$



Öğrenci Adı:

HİKÂYE HARİTASI

Başlama Tarihi: / /

Bitiş Tarihi: / /

Kitabın Adı:

Yazar:

Sen Olsaydın Kitabın Adını Ne Koyardın?

Kitaba Verdiğim Puan:

☆ ☆ ☆ ☆ ☆

ilkokulburada.com

Karakter:



Yer:



Zaman:

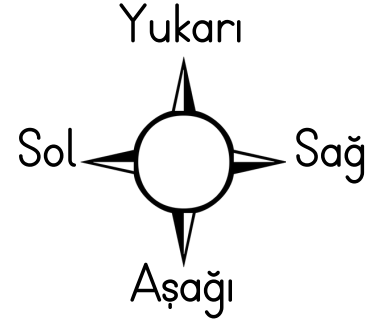



Olay:



Olayları Kısaca Anlatalım:

Resme uygun olacak şekilde aşağıdaki boşlukları dolduralım.



- Fatma bir kare sağa, ardından bir kare yukarı giderse ulaşır.
- Fatma bir kare aşağı, ardından bir kare sola giderse ulaşır.
- Fatma bir kare sola, ardından bir kare yukarı giderse ulaşır.
- Fatma bir kare sağa, ardından bir kare aşağı giderse ulaşır.
- Fatma bir kare aşağı giderse ulaşır.
- Fatma bir kare aşağı, ardından bir kare sağa, ardından iki kare yukarı giderse ulaşır.

Aşağıdaki tabloyu zihinden toplama işlemi yaparak dolduralım.

+	20	30	40	10
50				
60				
40				

