

Adım:.....


KUBİLAY İLKOKULU 1/F SINIFI TOPLAMA

Soyadım:


ÇIKARMA PROBLEMLERİM-2





- 1) Beden Eğitimi dersinde 8 topun 3'ü patladı. Orhan öğretmen oynamamız için 5 top daha getirdi. Kaç sağlam topumuz oldu?




- 2) İçinde 12 yolcunun olduğu bir minibüse 1. durakta 4 yolcu bindi, minibüsten 6 yolcu indi. Son durumda minibüste kaç yolcu vardır?




- 3) Visal, 20'den küçük en büyük sayıdan 10 çıkarırsa hangi sayıyı elde eder?




- 4) Yarınki gün salı ise dünkü gün haftanın kaçınıcı günüdür?



- 5) 25 TL olan harçlığımın 13 lirasına top aldım. Eve gelince 8 TL de abim verdi. Şimdi kaç lira param var?




- 6) Bugünden 3 gün sonrası salı ise bugünden önceki gün hangisidir?



- 7) Alttaiki işlemleri sıra ile yaparak karenin değerini bulunuz.

$$\begin{aligned} 8 + 7 &= \triangle \\ \triangle - 5 &= \diamond \\ \diamond + 4 &= ? \end{aligned}$$



- 8) Alttaiki işlemleri sıra ile yaparak üçgenin değerini bulunuz.

$$\begin{aligned} \square - 6 &= 3 \\ 7 + \square &= \triangle \\ \triangle - 8 &= ? \end{aligned}$$

