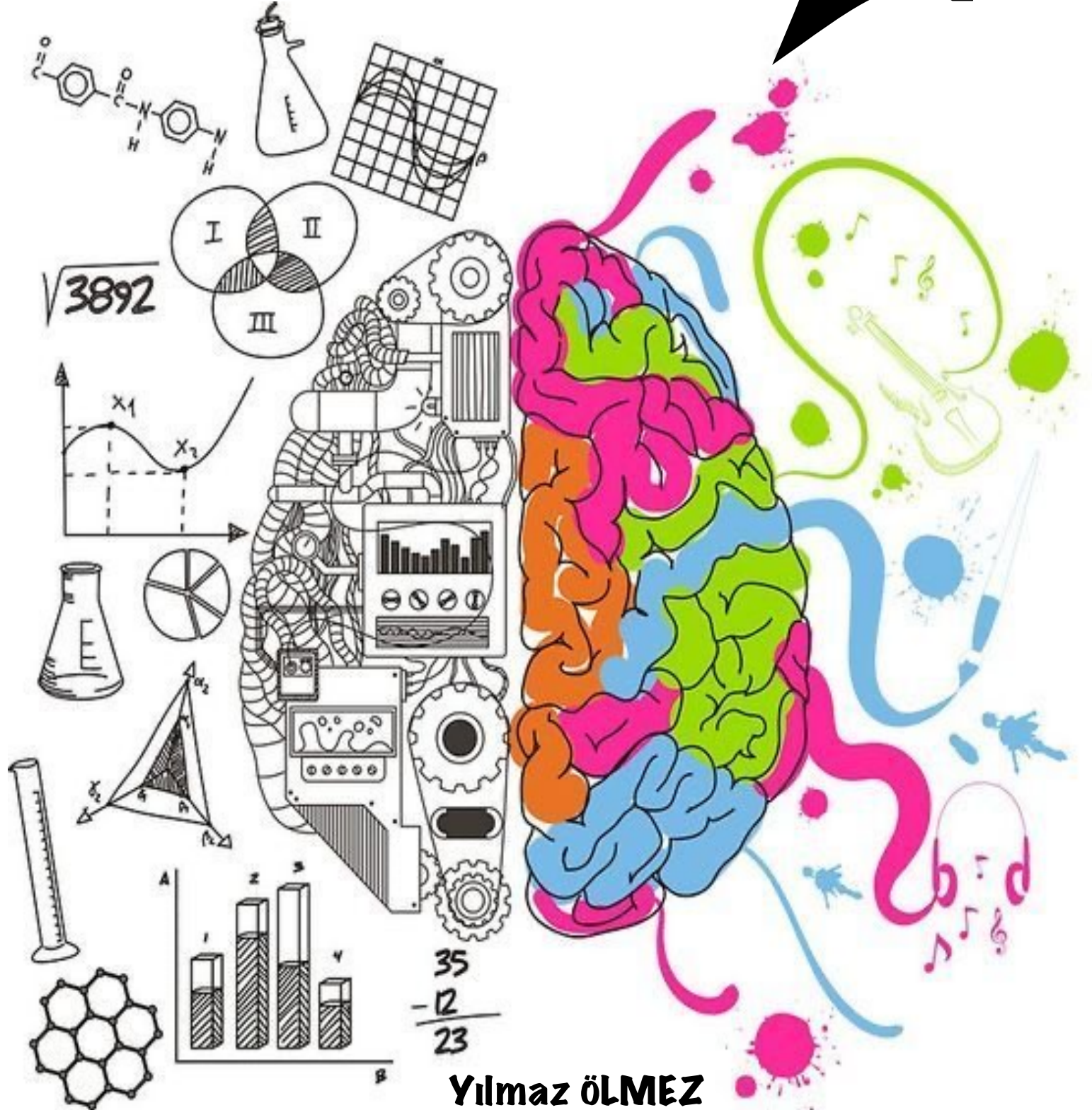



BİLSEM

DENEME SINAVI



Yılmaz ÖLMEZ

Bilsem Nedir?

Bilsem nedir, ne amalar, nasıl başvurulur?

Bilsem, Bilim ve Sanat Eđitim Merkezlerinin kısaltılmıř ismidir. İlkokullarda sınavla tespit edilen zel yetenekli đrencilerin rgn eđitim kurumlarındaki eđitimlerini aksatmayacak řekilde bireysel yeteneklerinin farkında olmalarını sađlamak ve sahip oldukları kapasitelerini geliřtirerek st dzeyde kullanmalarını sađlamak amacıyla devlete bađlı olarak aılmıř olan zel eđitim kurumlarıdır. Trkiye genelinde her ilde bir bilsem olmakla birlikte nfus yođunluđuna gre byk řehirlerde birden fazla bilsem olabilmektedir.

İçindekiler

NOT : Sınava başlamadan yanınızda cevapları not alabileceğiniz bir kağıt bulundurunuz.



1. Bölüm

ŞİFRELEME

ŞİFRELEME 1

KELİMELER

KALEM
MALEK
KELAM
LAMEK
LEMKA

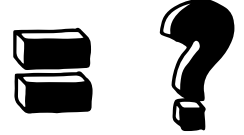


SAYI KARŞILIĞI

97254
45972
95247
27954
47952

İSTENEN

KALEM



A

B

C

D

47952

45972

49752

47592

ŞİFRELEME 2

KELİMELER

TABO
ABOT
OBAT
TOBA



SAYI KARŞILIĞI

1823
8231
1328
3281

İSTENEN

TABAK



A

28187

B

18287

C

17872

D

18782

ŞİFRELEME 3

KELİMELER

OKUL
KULO
OLUK
LUOK

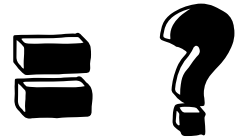


SAYI KARŞILIĞI

5238
8325
5832
2358

İSTENEN

OKUL



A

2385

B

5832

C

8325

D

5238

ŞİFRELEME 4

KELİMELER

SAY
ASY
AYS
YSA



SAYI KARŞILIĞI

531
315
153
135

İSTENEN

SAY



A

531

B

315

C

153

D

135

ŞİFRELEME 5

KELİMELER

YAZ

YAK

AKA

SAYI KARŞILIĞI

513

851

855

Not: Sayılar karışık verilmiştir.

İSTENEN

KAYA

= ?

A

8551

B

8115

C

6551

D


6115



2.Bölüm


KÜP ÇÖZÜMLEME

KÜP ÇÖZÜMLEME 1




Renkli küp çevirildikçe oluşan durumlardan hareketle. Soru işareti (?) yerine gelecek olan rengi bulunuz ?


A




B




C



D




KÜP ÇÖZÜMLEME 2




Renkli küp çevirildikçe oluşan durumlardan hareketle. Soru işareti (?) yerine gelecek olan rengi bulunuz ?


A




B




C



D




KÜP ÇÖZÜMLEME 3




Renkli küp çevirildikçe oluşan durumlardan hareketle. Soru işareti (?) yerine gelecek olan rengi bulunuz ?


A




B




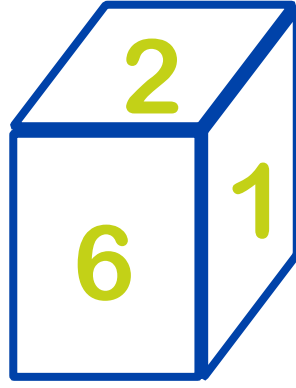
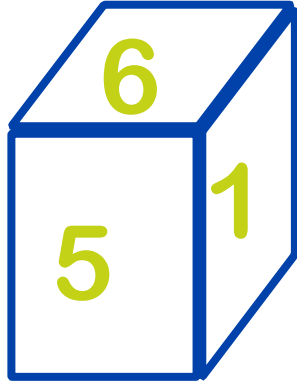
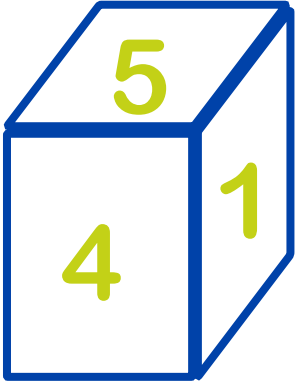
C



D



KÜP ÇÖZÜMLEME 1



1'den 6'ya kadar sayılar yazılan küp çevirildikçe bu durumlar oluşuyor. Soru işareti (?) yerine gelecek sayıyı bulunuz ?

A

6

B

5

C

4

E

3


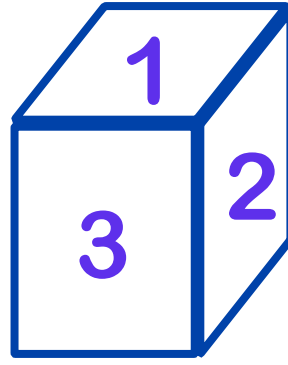
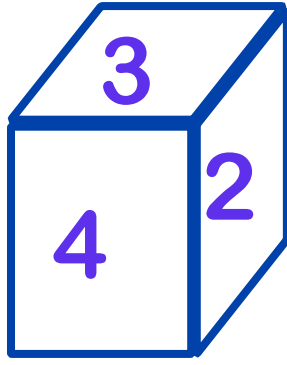
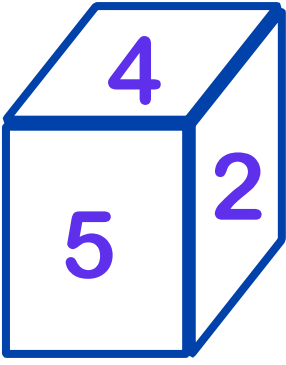
F

2

G

1

KÜP ÇÖZÜMLEME 2



1'den 6'ya kadar sayılar yazılan küp çevirildikçe bu durumlar oluşuyor. Soru işareti (?) yerine gelecek sayıyı bulunuz ?

A

3

B

4

C

5

E

6

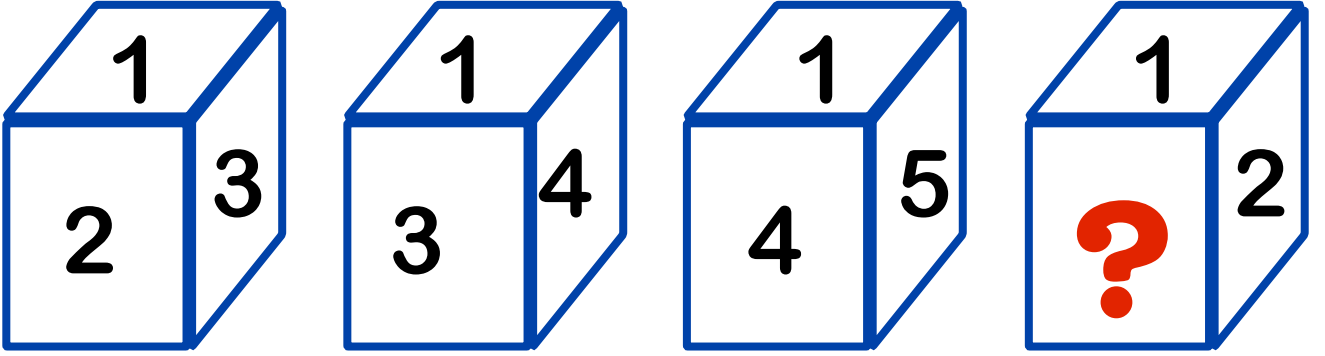
F

1

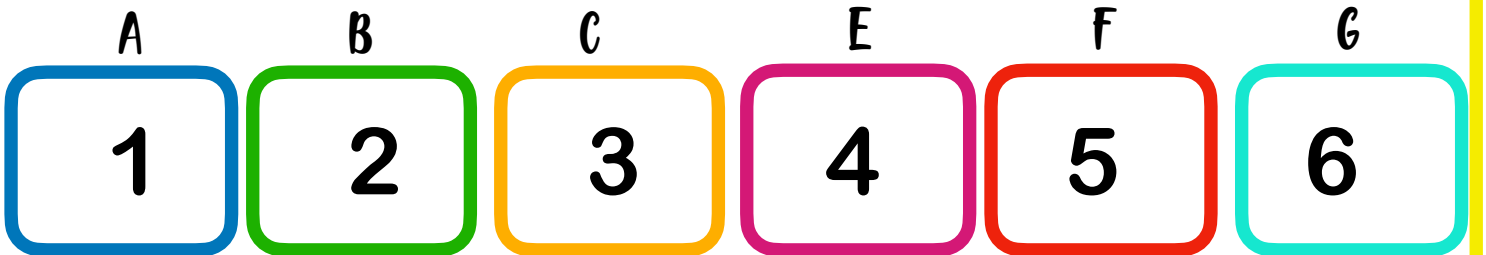
G

2

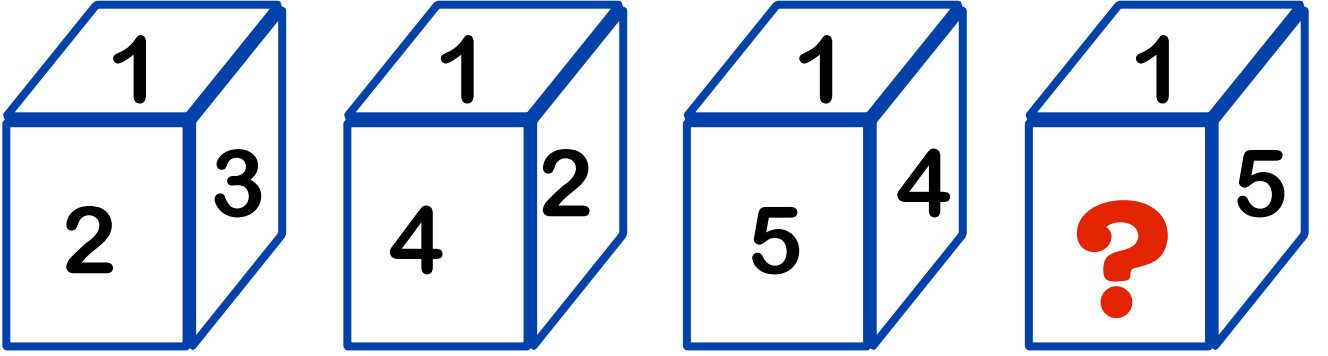
KÜP ÇÖZÜMLEME 3



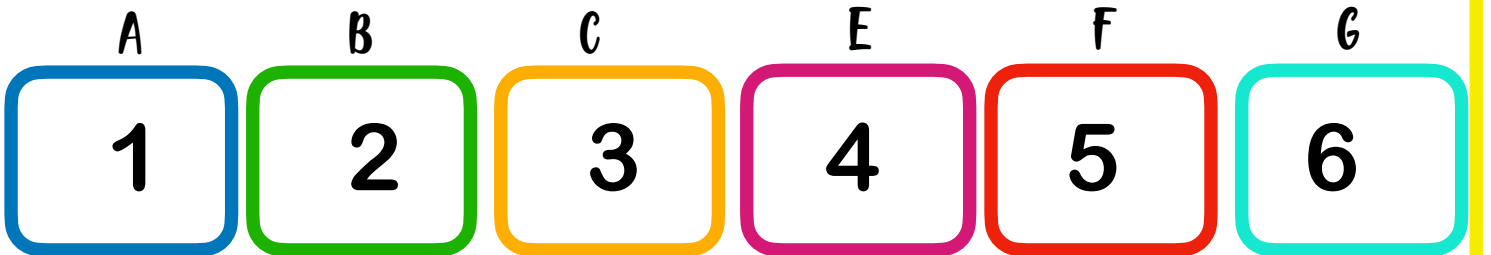
1'den 6'ya kadar sayılar yazılan küp çevirildikçe bu durumlar oluşuyor. Soru işareti (?) yerine gelecek sayıyı bulunuz ?



KÜP ÇÖZÜMLEME 4



1'den 6'ya kadar sayılar yazılan küp çevirildikçe bu durumlar oluşuyor. Soru işareti (?) yerine gelecek sayıyı bulunuz ?





3. Bölüm

ŞEKLİN DEVAMI

ŞEKLİN DEVAMI 1

B

⌘

᠃

᠄

K

⌘

᠎

᠏

A

⌘

V

?

Soru işareti yerine gelecek şekli bulunuz ?

A

A

B

⌘


C

V

D

⌘

ŞEKLİN DEVAMI 2



Soru işareti yerine gelecek şekki bulunuz ?

A



B

C

D



ŞEKLİN DEVAMI 3




Soru işareti yerine gelecek şekki bulunuz ?

A




B



C



D





4. Bölüm

AYNADAKİ GÖRÜNTÜSÜ

AYNADAKİ GÖRÜNTÜSÜ 1



Aynadaki görüntüsünü gösteren şıkkı bulunuz ?

A

B

C

D



AYNADAKİ GÖRÜNTÜSÜ 2



A

B

C

D






6. Bölüm


GÖLGE BULMA

GÖLGE BULMA 1




Doğru gölgeyi gösteren şıkkı bulunuz ?

GÖLGE BULMA 1



Doğru gölgeyi gösteren şıkkı bulunuz ?

GÖLGE BULMA 2



Doğru gölgeyi gösteren şıkkı bulunuz ?



7. Bölüm

GÖRSEL İLİŞKİ

GÖRSEL İLİŞKİ 1



A.



B.




C.




Görsel ile ilişkili olan şıkkı bulunuz ?

GÖRSEL İLİŞKİ 1



Görsel ile ilişkili olan şıkkı bulunuz ?

GÖRSEL İLİŞKİ 2



Görsel ile ilişkili olan şıkkı bulunuz ?

GÖRSEL İLİŞKİ 2



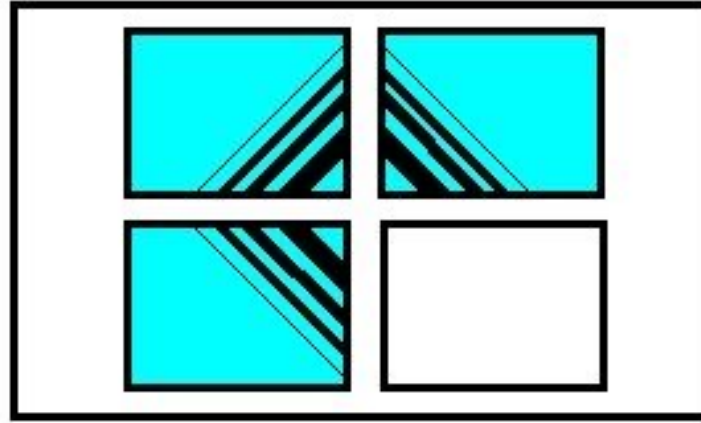
Görsel ile ilişkili olan şıkkı bulunuz ?



8. Bölüm

Şekil Tamamlama

ŞEKİL TAMAMLAMA 1



1



2



3



4



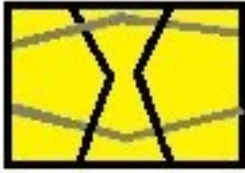
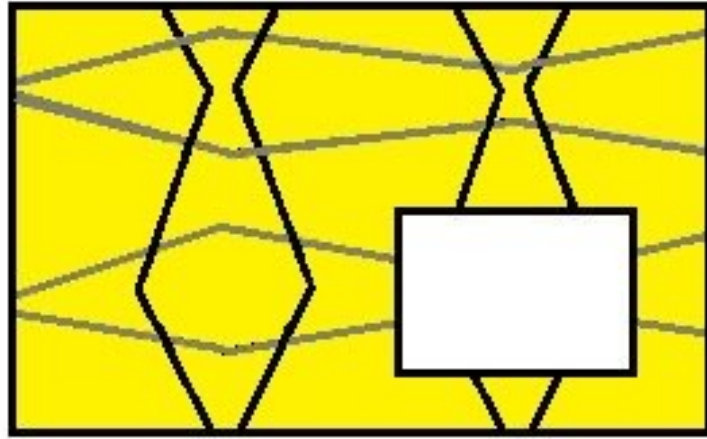
5



6

Görselde eksik bölgeye gelecek şekki bulunuz ?


ŞEKİL TAMAMLAMA 1



1



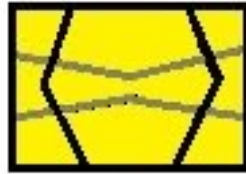
2




3



4



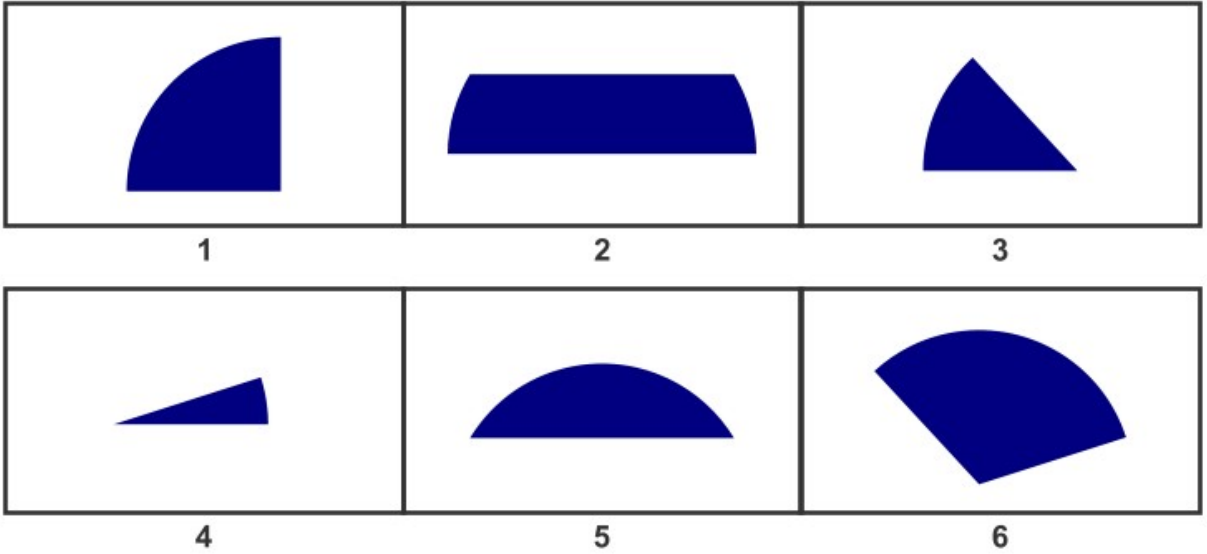
5



6

Görselde eksik bölgeye gelecek şıkkı bulunuz ?

ŞEKİL TAMAMLAMA 2



Görseli oluşturmak için hangi şekiller seçilmelidir ?



9. Bölüm

Değer Bulma

DEĞER BULMA 1

$$\text{fox} + \text{fox} = 8$$

$$\text{chicken} + \text{fox} = 7$$

$$\text{chicken} + \text{snail} = 5$$

$$\text{snail} + \text{fox} = ?$$

Eşitliği sağlayan değeri bulunuz ?

DEĞER BULMA 1

$$\text{♥} + \text{♥} = 2$$

$$\text{💎} + \text{♥} = 4$$

$$\text{⚡} + \text{💎} = 7$$

$$\text{⚡} + \text{♥} = ?$$

Eşitliği sağlayan değeri bulunuz ?



10. Bölüm

Kelime Eşleme


KELİME EŞLEME 1

Ahır



İnek

Kümes



?

İlk kelime eşleşmesine göre “?” yerin ne gelmesi uygundur ?

A

Tavuk

B

Keçi

C


Arı

D

At

KELİME EŞLEME 2

Kulak



Küpe

Parmak



?

İlk kelime eşleşmesine göre “?” yerin ne gelmesi uygundur ?

A

Kolye

B

Yüzük

C

Toka

D

Taç

KELİME EŞLEME 3

Öğretmen → Okul

Doktor → ?

İlk kelime eşleşmesine göre “?” yerin ne gelmesi uygundur ?

A

Okul

B

Hastane

C

Aşı

D

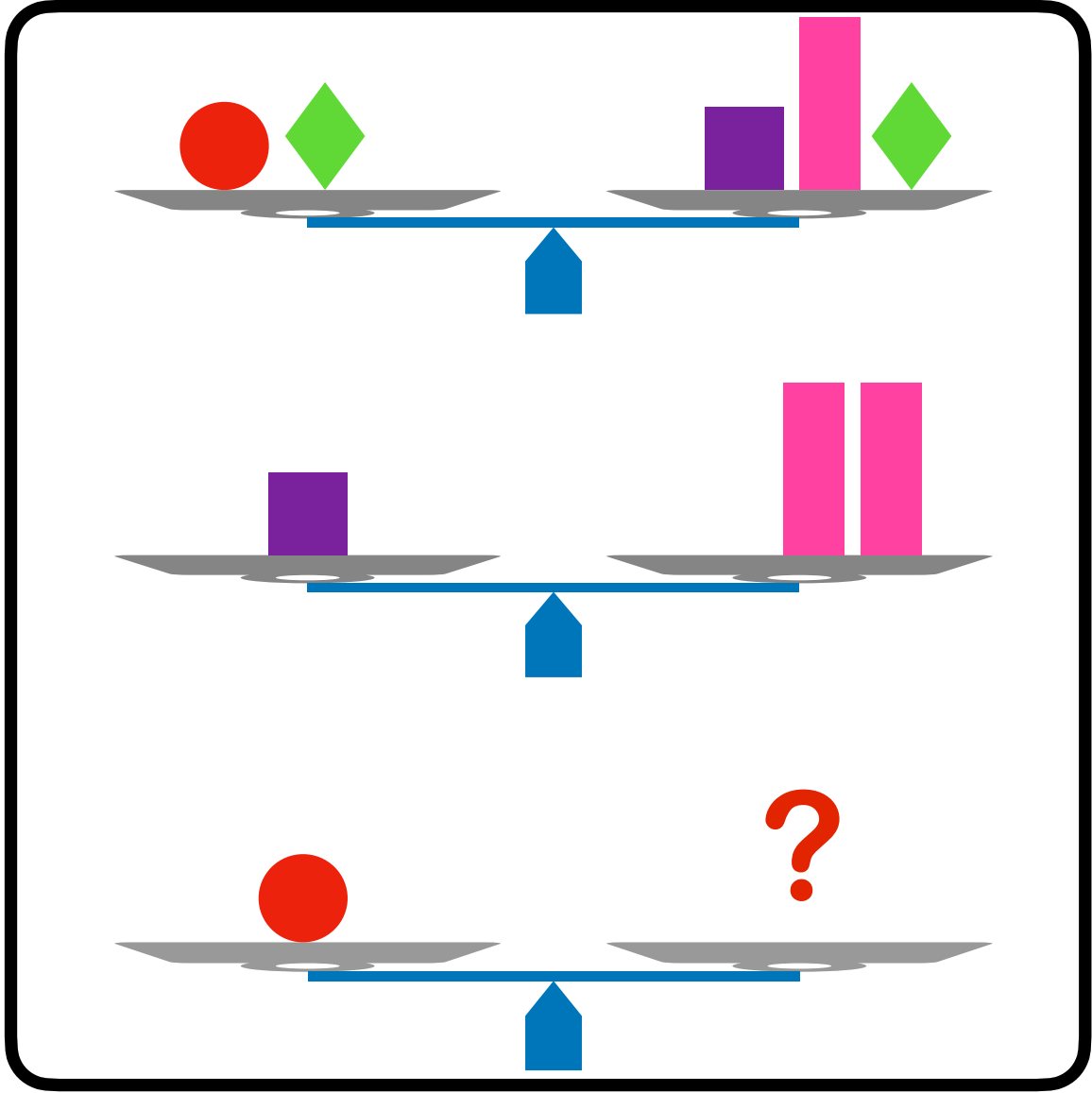
İlaç



1 1. Bölüm


Terazi Dengeleme

TERAZİ DENGELEME 1

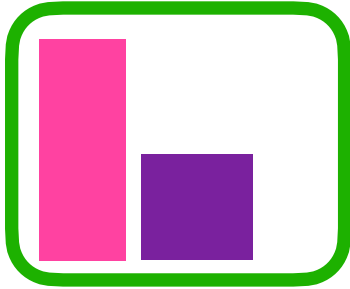


Teraziler dengede ise “?” yerin hangi seçenek gelmesi uygundur ?


A




B



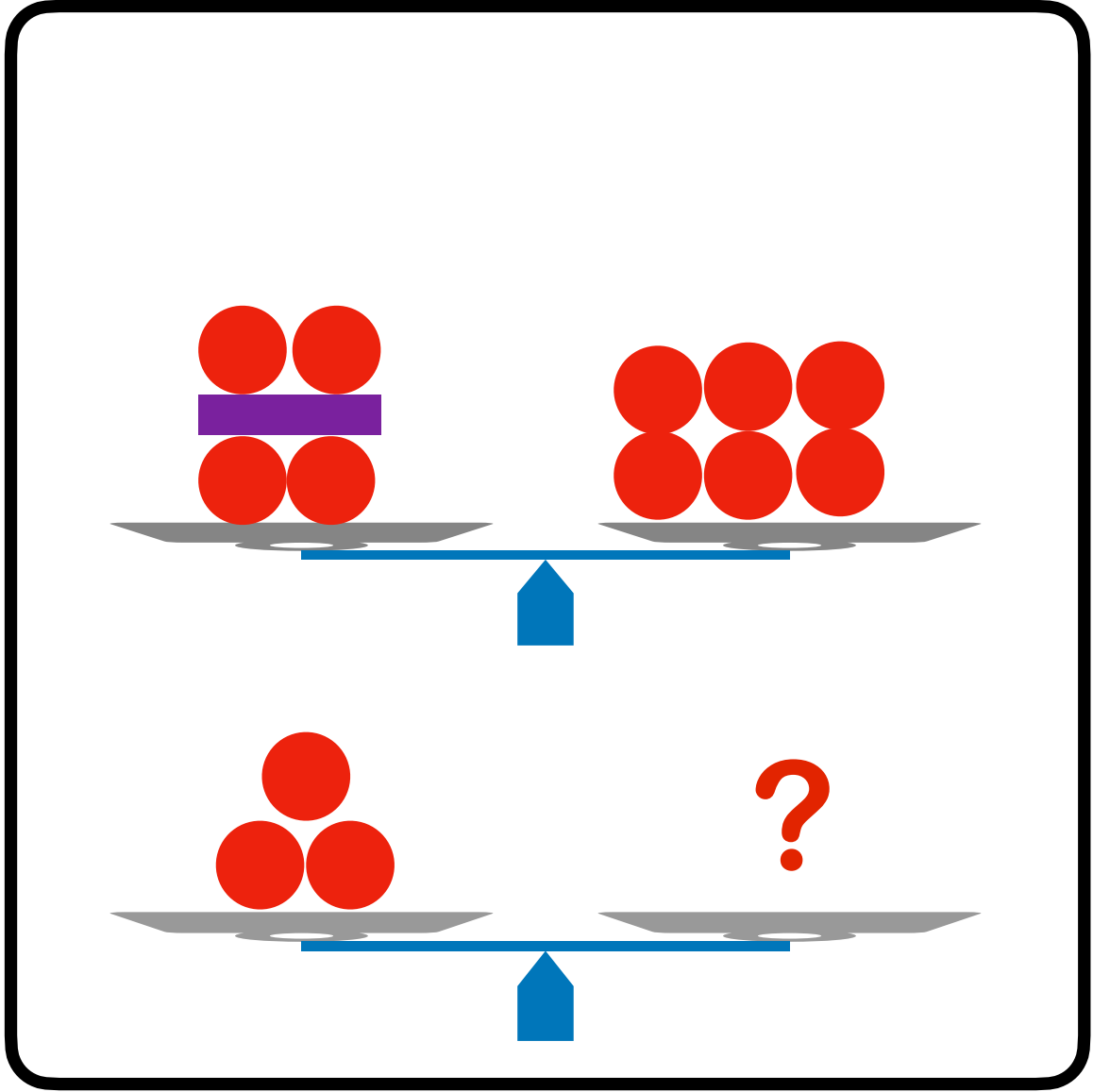
C



D




TERAZİ DENGELEME 1




Teraziler dengede ise “?” yerin hangi seçenek gelmesi uygundur ?


A




B



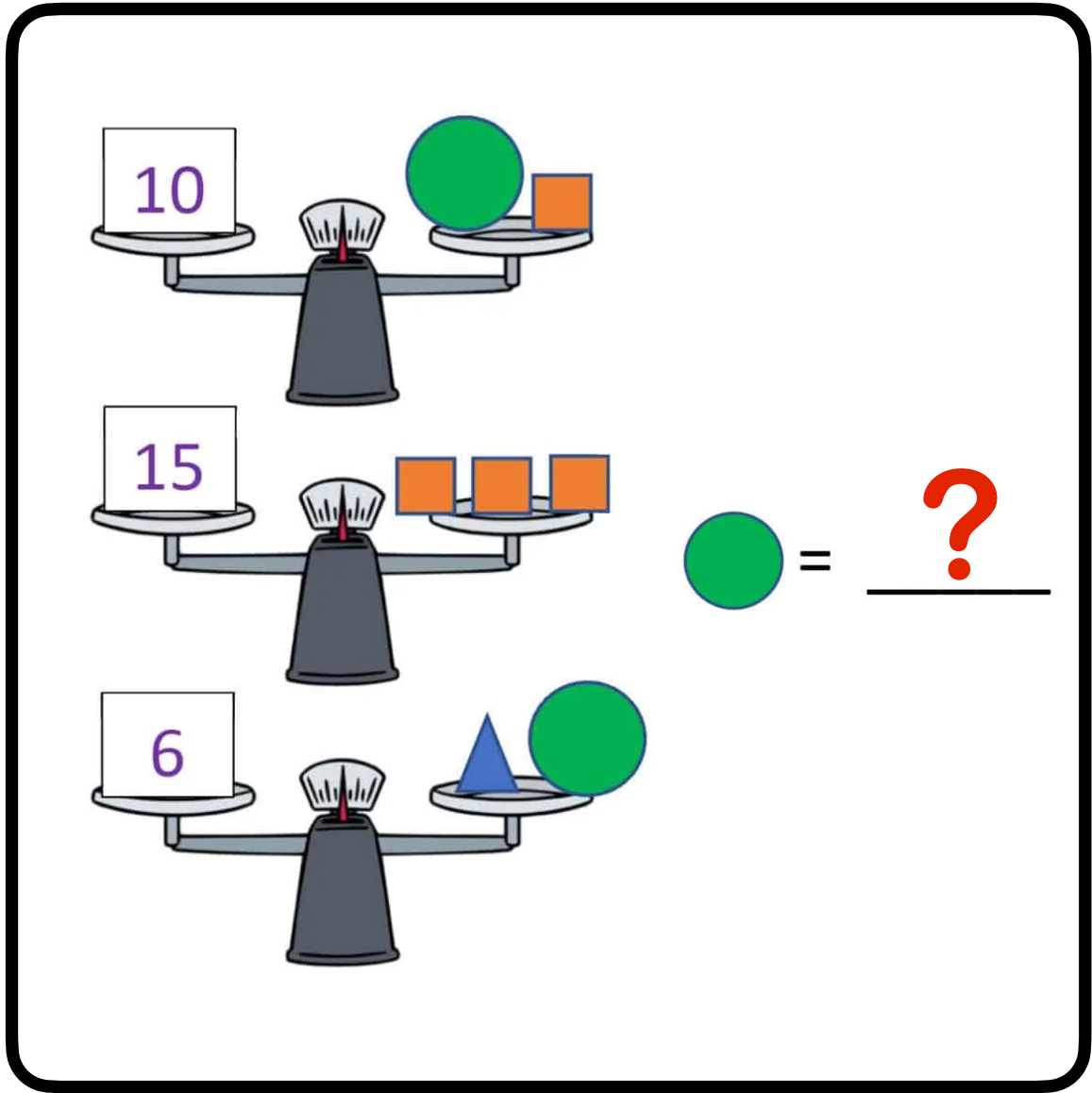
C



D



TERAZİ DENGELEME 2



Teraziler dengede ise “?” yerin hangi seçenek gelmesi uygundur ?

A

B

C

D

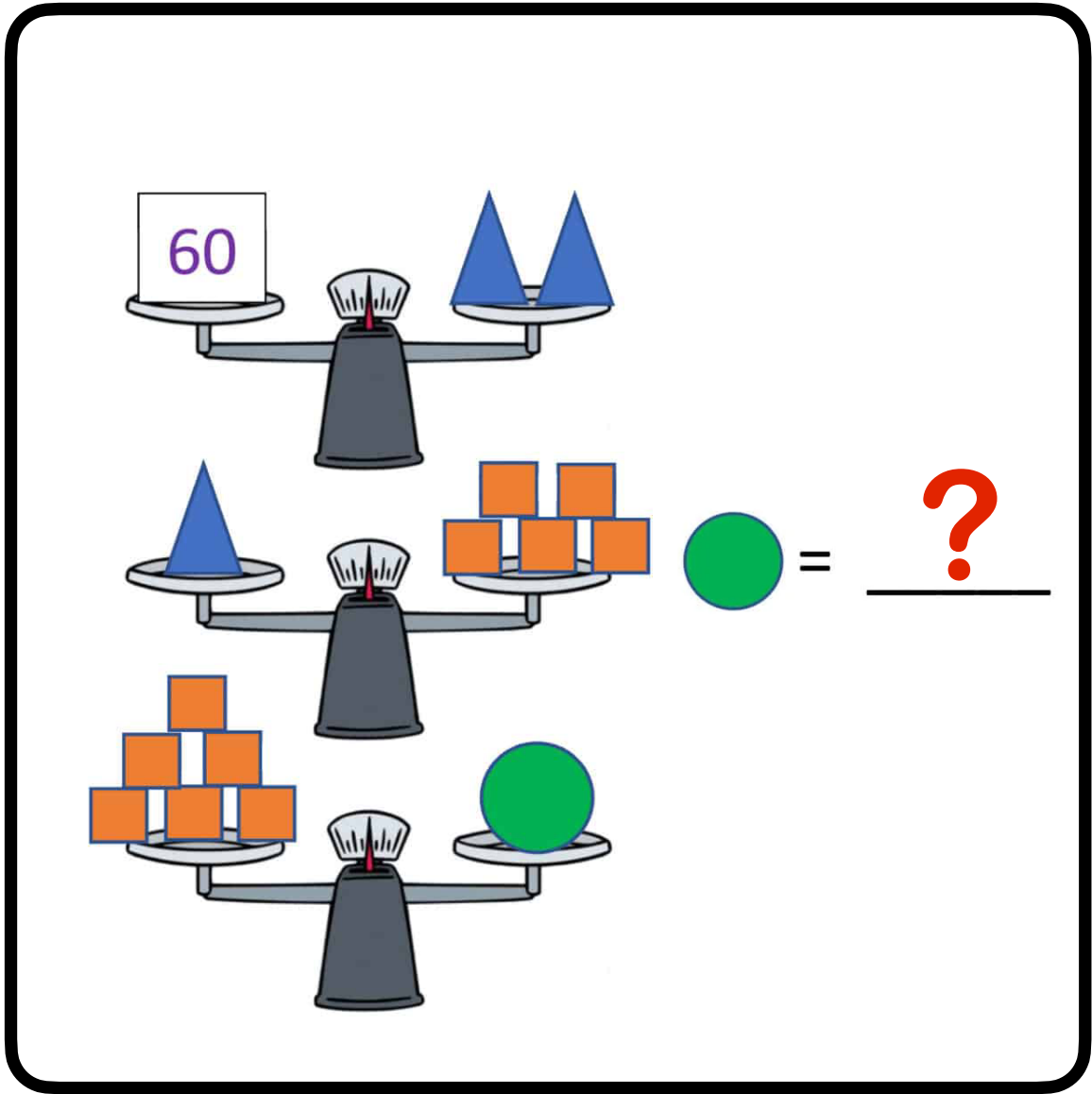
1

3

5

2

TERAZİ DENGELEME 3



Teraziler dengede ise “?” yerin hangi seçenek gelmesi uygundur ?

A

B

C

D

30

6

36

60



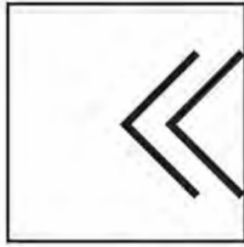
12. Bölüm

Örüntüler

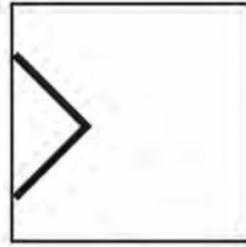
ÖRÜNTÜ 1



(A)



(B)



(C)



(D)

NV-FS

Örüntüde “?” yerin hangisinin gelmesi uygundur ?

A

B

C

D

A

B

C

D



13. Bölüm

CEVAPLAR

