

2023-2024 EĞİTİM ÖĞRETİM YILI ŞEHİT CEMAL MUTLU İLKOKULU

3. SINIFLAR EKSİKLİKLERİMİZİ GÖRELİM ÇALIŞMASI

AD VE SOAD:.....

SINIF VE NOSU:3/.....

TOPLAM DOĞRUM:.....

TÜRKÇE

EN SEVİLEN MEVSİM

Haydar öğretmen öğrencilerine "Çocuklar en sevdiğiniz mevsim nedir?" diye sordu. Mahir biraz düşündükten sonra parmak kaldırdı: "En sevdiğim mevsim kış öğretme-nim." dedi. Haydar öğretmen "Mahir neden kış seviyorsun?" diye sordu. Mahir: "Öğretmenim, kışın yağan kar ile etrafta harika manzaralar oluşuyor." diye cevap verdi. Öğretmen daha sonra söz hakkını Nehir'e verdi. Nehir: "Benim en sevdiğim mevsim sonbahar öğretmenim" dedi. Öğretmen nedenini sorunca "Sonbaharın renkleri çok güzel öğretmenim sarı, turuncu ve kahve-rengi benim en sevdiğim renkler" diye sözlerini bitirdi. Söz hakkı Zehra'ya gelmişti. Zehra, en sevdiği mevsime kış dedi. Zehra'nın kış sevmeye nedeni ise doğum gününün kışın olmasıydı. Arkadaşları Zehra'nın cevabını çok ilginç buldu. Bütün arkadaşları mevsimlere has özelliklerinden dolayı mevsimleri severken; Zehra'nın sevmeye nedeni arkadaşlarından farklıydı.

1. 2. soruyu metne göre cevaplandırınız.

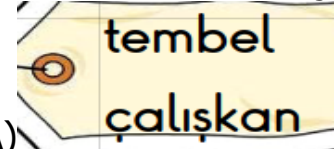
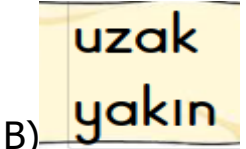
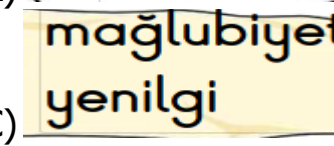
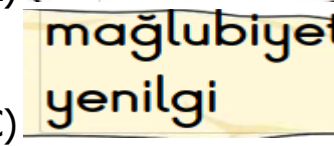
1)Yukarıda verilen metinde aşağıda verilen sorulardan hangisinin cevabı yoktur?

- A) Mahir ne zaman parmak kaldırdı?
- B) Nehir'in sonbaharı sevmeye nedeni nedir?
- C) İlkbahar mevsimini seven öğrencinin ismi nedir?

2)Metinde birbiriyle aynı mevsimi seven öğrenciler kimlerdir?

- A) Mahir-Nehir B) Nehir-Zehra
- C) Zehra-Mahir

3)Aşağıdaki sözcük çiftlerinden hangisi arasında diğerlerinden farklı bir anlam ilişkisi vardır?

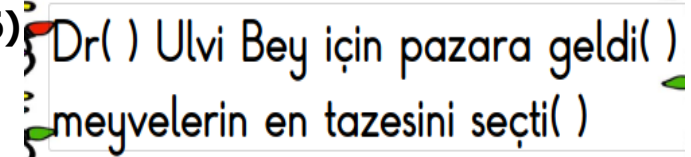
- A)  
- B) 
- C) 

4) Aşağıdaki cümlelerin hangisinde "dolu" sözcüğü iki farklı anlamıyla da kullanılmıştır?

- A)Bu sepet dolu.
- B) Dün gece dolu yağdı.
- C) Çantamın gözü kalemle dol.

5) Aşağıdaki cümlelerden hangisi hayal ürünü ifade içermektedir?

- A) Yaşlı kurt dağdan aşağıya indi.
- B) Karınca çalışmaktan belim kamburladı diyerek söylendi.
- C) Babam kanepenin üstünde uyudu

- 6) 

Yukarıda verilen () yerlere sırasıyla hangi noktalama işaretleri gelmelidir?

- A) (.) (,) (.)
- B) (.) (.) (.)
- C) (,) (,) (.)

7)	Derman	Adana	Sinem
	Cezve	Süpürge	Yelek

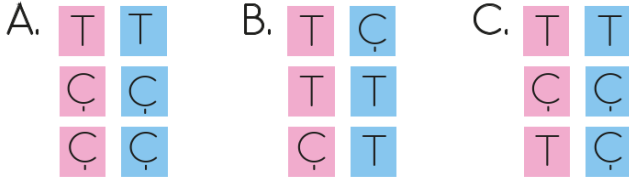
Tablodaki özel isimleri boyadığımızda yeni şekil nasıl olur?



8) Aşağıdaki isimlerden tekil olanların yanındaki kutucuğa "T" çoğul olanlarınkine "Ç" yazılacaktır.

incir	<input type="checkbox"/>	kalemler	<input type="checkbox"/>
kiler	<input type="checkbox"/>	silgi	<input type="checkbox"/>
denizler	<input type="checkbox"/>	fular	<input type="checkbox"/>

Buna göre kutuların son görünümü nasıl olur?

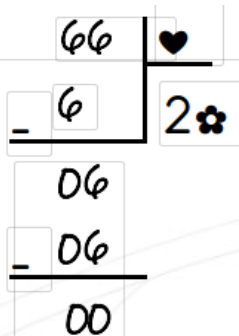


Dallarında bülbüller öter,
Börtü Böcek şarkı söyler.
Bu güzelim anlar,
Herkezi mutlu eder.

9) Yukarıdaki şiirin kaçınıcı mısralarında yazım yanlışlığı yapılmıştır?

A. 1 ve 2 B. 1 ve 4 C. 2 ve 4


MATEMATİK TESTİNE GEÇİNİZ

10) 

Yukarıda verilen bölme işleminde ♥ ve ♣ sembolleri birer rakamdır. Buna göre ♥ x ♣ sonucu kaçır?

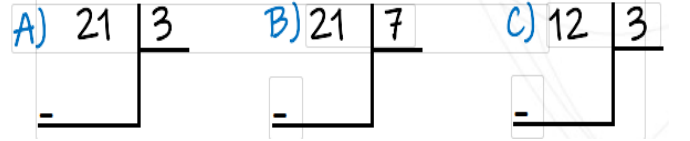
A) 4 B) 6 C) 5

11)



Alperen yukarıda verilen kalemleri üçerli gruplandırıp, verilen gruplamayı bölme işlemi olarak ifade ediyor.

Yukarıda verilenlere göre aşağıdakilerden hangisi doğru bir ifadedir?



12)

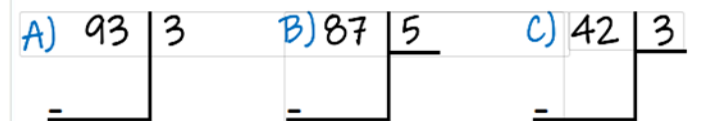
Bir bölme işleminde bölünen sayı 95 bölün 3 olduğuna göre bölüm ile kalan kaçır?

Ali öğretmen tahtaya yukarıda verilen soruyu yazıyor ve öğrencilerinden çözmelerini istiyor.


Yukarıda verilen sorunun doğru cevabı aşağıdakilerden hangisidir?

A) 0 B) 1 C) 2

13) Aşağıda verilen bölme işlemlerinden hangisinin kalanı diğerlerinden farklıdır?



14)



Yandaki çıkarma işlemini sonucu kaçır?

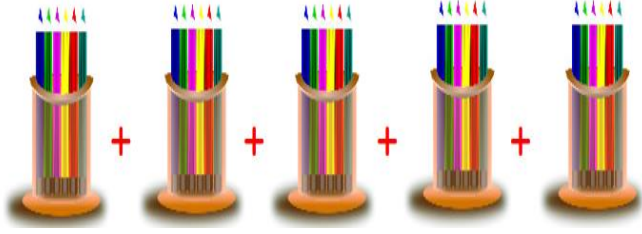
A) 66 B) 220 C) 286

15) Aşağıdakilerden hangisi yanlıştır?

A) Sayını sağ tarafına bir sıfır yazmak demek, sayıyı 10 ile çarpmak demektir.
B) Ardışık geriye saymayı bölme işlemi olarak ifade ederiz.
C) Bölün çarpı bölüm kalanı verir.

16) Babam 250 aldığı gömleğin 150 TL'sini peşin ödedi. Geriye kalan parayı 2 taksitte ödediğine göre aylık taksiti kaç TL'dir?

- A) 50 B) 25 C) 100



17) Yukarıdaki işlemin çarpma işlemi olarak nasıl ifade ederiz?

- A. 5×5 B. 5×4 C. 5×6

18) 19 sayısı Romen rakamıyla nasıl yazılır?

- A) XX B) XVIII C) XIX

FEN BİLİMLERİ TESTİNE GEÇİNİZ
Ali öğretmenin sorduğu soruya Emine aşağıda verilen cevabı veriyor.



Çevremizdeki nesneleri görmemizi sağlayan, varlıkların üzerine düşerek onları aydınlatan enerjiye denir.

19) Yukarıda verilenlere göre Ali öğretmenin sorduğu soru ne olur?

- A) Işık kaynağı nedir?
B) Işık nedir?
C) Görme olayı nasıl gerçekleşir.

20) Sıvı maddelerle ilgili aşağıda verilen bilgilerden hangisi yanlıştır?

- A) Sıvı maddeler akışkan maddelerdir. Bulundukları ortama yayılırlar.
B) Sıvı maddeler bulundukları kabın şeklini alırlar.
C) Sıvı maddeler dışardan kuvvet uygulanmadığı sürece şeklini korur.



21) Esmâ ödevini yaparken elektrikler gidince ödev yapmayı bırakmak zorunda kaldı Buna aşağıdakilerden hangisi doğrudur?

- A) Loş ışık olan ortamda ders çalışmak daha sağlıklıdır.
B) Işık görme işlevinin gerçekleşmesi için gerekli olan bir enerjidir.
C) Işık her zaman ihtiyaç duyduğumuz bir kaynak değildir.



22) Ceren babasına okuduğu kitabın kapağında yer alan deniz fenerinin ne işe yaradığını sormuştur. Babası Ceren'e hangi cevabı verirse doğru bir cevap vermiş olur?

- A) Deniz feneri doğal bir ışık kaynağıdır ve denizin aydınlanmasını sağlar.
B) Deniz fenerleri yaydıkları ışık ile gemi kaptanlarına yol gösterir.
C) Deniz feneri balıkların besinlerini bulmasını sağlar.



Asfalt yol



Taş yol

23) Nusretler köylerine giderken taş yol yerine asfalt yolu tercih etmektedir. Bu durumun nedeni aşağıdakilerden hangisi olabilir?

- A) Asfalt yol, taş yola göre daha pürüzsüzdür
B) Taş yol, asfalt yola göre daha pürüzsüzdür.
C) Asfalt yol, taş yola göre daha pürüzlüdür



24) Yukarıdaki levhanın anlamı nedir?

- A) Yaya geçidi B) okul geçidi
C) Bisiklet giremez.



25) Yukarıdaki levhanın anlamı nedir?

- A) Yaya geçidi B) okul geçidi
C) Bisiklet giremez.



Paramızı gereksiz yere harcamamalıyız.

Recep

26) Recep için aşağıdakilerden hangisini söyleyebiliriz?

- A. Cimri
B. Tutumlu
C. Yardımsever



Bisikletime kimsenin binmesine izin vermem.

Alp Arda

27) Alp Arda için aşağıdakilerden hangisini söyleyebiliriz?

- A. Cömert
B. Paylaşımçı
C. Kıskanç



28) "Ben olmasaydım eğer yiyecekleriniz bozulur ve yiyeceklerinizi uzun süre saklayamazdınız." diyen ev eşyası sizce hangisidir?

- A) Televizyon B) Buzdolabı C) Ocak

İNGİLİZCE TESTİNE GEÇİNİZ

I'm big. You are



29) Boşluğa hangi kelime gelmelidir?

- A. small
B. big
C. huge



This is number

30) Boşluğa gelmesi gereken kelime nedir?

- A) fifteen
B) thirteen
C) fourteen

BAŞARILAR DİLERİM.