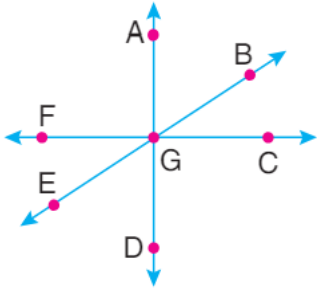


2.DÖNEM 2.MATEMATİK YAZILISI

1) "Deniz geçen seneden bu yana tam 19 kilo almış." Cümlesini cebirsel ifade olarak yazınız.

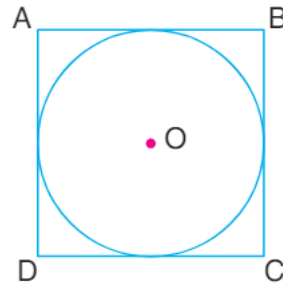
2) 8,9,10,15,19,37 veri grubunun açıklığını bulunuz.

3)



Yukarıda verilen şekilde bulunan 4 farklı açıyı sembollerle gösteriniz.

4)



Yanki şekilde O merkezli çember, ABCD karesine teğettir.

Çemberin çapı 36 cm olduğuna göre, karenin çevresi kaç cm'dir?

5)

50 hektometrekarelik tarlanın 45 dekarlık kısmı sulanmıştır.

Geriye sulanmayan kaç  $m^2$  tarla kalmıştır?

6)

$$70\,000\,000\,m^2 - 250\,000\,dam^2$$

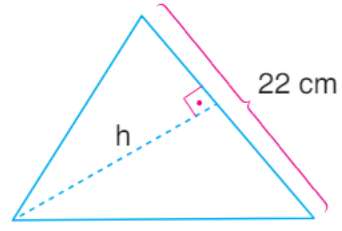
Yukarıdaki işlemin sonucu kaç  $km^2$  dir?

7)

$$\underbrace{0,3 + 0,3 + 0,3 + \dots + 0,3}_{300 \text{ tane}}$$

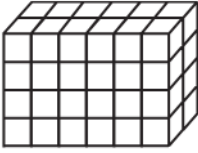
Yukarıda verilen işlemin sonucu kaçtır?

8)



Yanda verilen üçgenin alanı  $165 \text{ cm}^2$  olduğuna göre,  $h$  kaç  $\text{cm}$ 'dir?

9)



Birimküplerden oluşturulmuş şekildeki dikdörtgenler prizmasının hacmi kaç birimküptür?