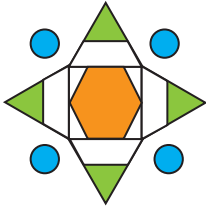


Sınıf ve no: /

[illegible]

01.




Yukarıdaki görselde hangi geometrik şekiller vardır? (MBU.MU 1.3.5.)


02.



Yukarıdaki görselde kesik beyaz çizgiler hangi geometrik şekle modeldir? (MBU.MU 1.4.1.)



03.



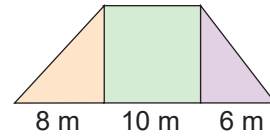
(MBU.MU 1.4.2.)

Yukarıdaki görselde a kaç derecedir?

A large rectangular area filled with horizontal and vertical dashed lines, forming a grid pattern suitable for practicing letter formation and alignment. The grid consists of approximately 18 columns and 6 rows of squares defined by the dashed lines.


04.

Şekilde yamuk şeklindeki bir bahçe kare ve dik üçgen şeklinde üç parçaya ayrılmıştır.



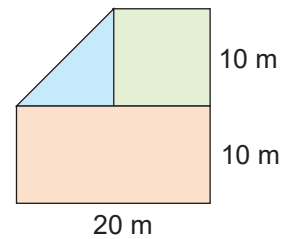
(MBU.MU 1.4.3.)

Buna göre, bahçe alanı kaç metrekaredir?



05.

Şekilde bir arsa kare, üçgen ve dikdörtgen şeklinde üç parçaya ayrılmıştır.



(MBU.MU 1.4.3.)

Buna göre, arsanın alanı kaç metrekaredir?

