




1 - " Sayıları yazmak için kullanılan işaretlere rakam denir. "

Aşağıdakilerden hangisi rakam değildir ?

- A)  B)  C) 

2 - Aşağıdaki doğal sayılardan hangisinin okunuşu yanlış verilmiştir ?

- A) 67 → Altmış yedi  
B) 76 → Yetmiş altı  
C) 96 → Altmış dokuz

3 -



Yukarıda verilen şemadaki çiçekleri sayarken hangi sayıyı söyleyemeyiz ?

- A)  B)  C) 

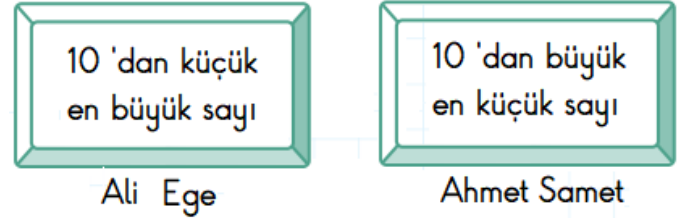
4 -

34	.....	43
21	.....	12
15	.....	15

Yukarıdaki sayılar karşılaştırılarak aralarındaki boşluğa uygun ifadeler yazılırsa hangi seçenekte verilen doğru olur ?

- A) büyüktür  
küçüktür  
küçüktür
- B) küçüktür  
büyüktür  
eşittir
- C) büyüktür  
küçüktür  
eşittir

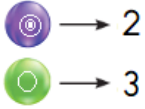
5 -



Ali Ege ile Ahmet Samet 'in belirttiği sayılarla ilgili verilen ifadelerden hangisi doğrudur ?

- A) Ali Ege ile Ahmet Samet 'in belirttiği sayılar birbirine eşittir.  
B) Ali Ege 'nin belirttiği sayı , Ahmet Samet 'in belirttiği sayıdan büyüktür.  
C) Ahmet Samet 'in belirttiği sayı , Ali Ege 'nin belirttiği sayıdan büyüktür.

6 -



Onluk	Birlik

Yukarıdaki şekillerin karşılığı olan rakamları yerlerine yazdığımızda yerine hangi sayı gelir ?

A)



B)



C)



7 -

"A B C C A B C C A ? ? "


Yukarıdaki örüntüyü tamamlamak için soru işareti yerlerine hangi harfler yazılmalıdır ?

A) A - B

B) B - C

C) C - A

8 -



Yukarıdaki kalemlden iki onluk oluşturduktan sonra kaç kalem artar ?

A) 3

B) 7

C) 13

9 -



" Otomobil , kamyon dan sonra . . . . sıradadır. "

Görselde ilk başta otobüs en son da motosiklet olduğuna göre cümlede noktalı yere aşağıdakilerden hangisi yazılmalıdır ?

A) beşinci

B) dördüncü

C) üçüncü

10 - Hangi seçenekte verilen ritmik saymalar yapıldığında taralı bölüme farklı bir sayı gelir ?

A)



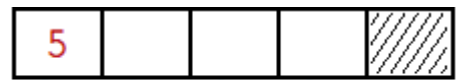
→ Onar geri

B)



→ İkişer ileri

C)



→ Beşer ileri

