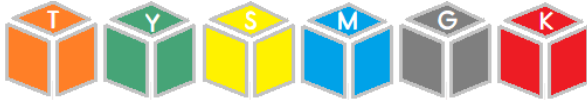


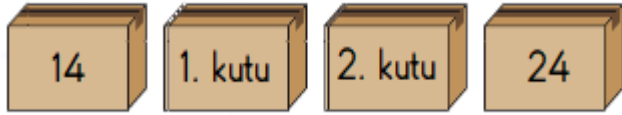
1 -



Yukarıdaki şekle göre , sarı küp ile kırmızı küp arasında hangi renk küpler vardır ?

- A) Mavi - Gri
- B) Sarı - Mavi - Gri
- C) Mavi - Gri - Kırmızı

2 -



Yukarıdaki verilen kutularda 14 ile 24 arasındaki sayılar yer almaktadır. Birinci kutuda en küçük sayı , ikinci kutuda en büyük sayı bulunmaktadır.

Buna göre , birinci ve ikinci kutularda hangi sayılar yazılabilir ?

- A) 1. kutu : 13
2. kutu : 23
- B) 1. kutu : 15
2. kutu : 25
- C) 1. kutu : 15
2. kutu : 23

3 -

Onluk	Birlik
.....	8
Kırk sekiz	

Yukarıdaki tabloda noktalı yere aşağıdakilerden hangisi yazılmalıdır ?

A)



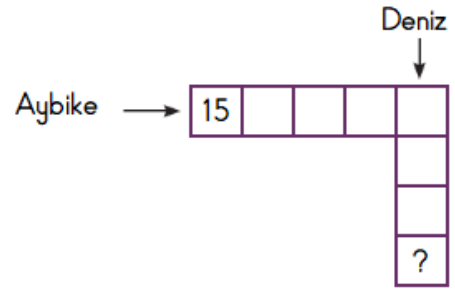
B)



C)



4 -



Aybike , 15 'ten başlayıp ileriye doğru beşer , Deniz , işaretli kutudan başlayıp ileriye doğru ikişer ritmik sayıyor.

Buna göre " ? " yerine hangi sayı yazılır ?

- A) 40
- B) 41
- C) 43

5 - 20 'den başlayarak ikişer ikişer geriye doğru saydığımızda beşinci saymada hangi sayıyı söyleriz ?

A)



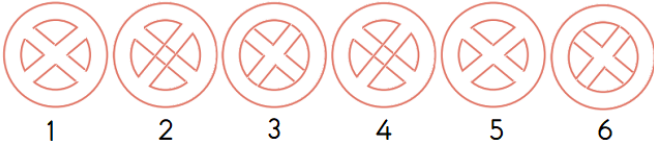
B)



C)



6 -



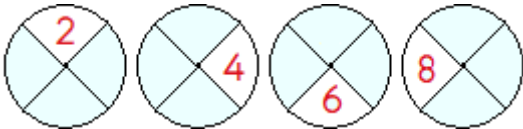
Yukarıdaki eş nesne eşleştirmeleri hangi seçenekte doğru verilmiştir ?

- A) 1 - 4 ; 2 - 3 ; 5 - 6
B) 1 - 5 ; 4 - 2 ; 3 - 6
C) 3 - 5 ; 2 - 4 ; 6 - 1

7 - Aşağıdaki ifadelerden hangisi doğrudur ?

- A) Yarışmada 3. sıradakini geçtiğimizde 2. oluruz.
B) Yarışmada 2. sıradakini geçtiğimizde 1. oluruz.
C) Yarışmada 1. sıradakini geçtiğimizde 1. oluruz.

8 -

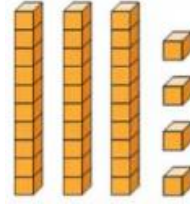


Yukarıdaki örüntüye göre beşinci şekil aşağıdakilerden hangisi gibi olur ?

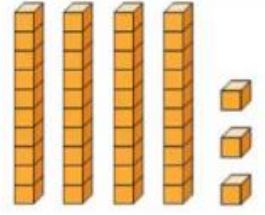
- A) B) C)

9 - " Serra Doğa 'nın okul numarası 4 birlik 3 onluktan oluşuyor. " Serra Doğa 'nın okul numarasının onluk taban bloklarıyla gösterimi hangisidir ?

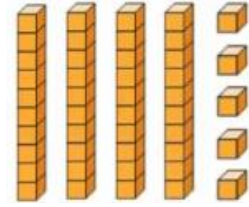
A)



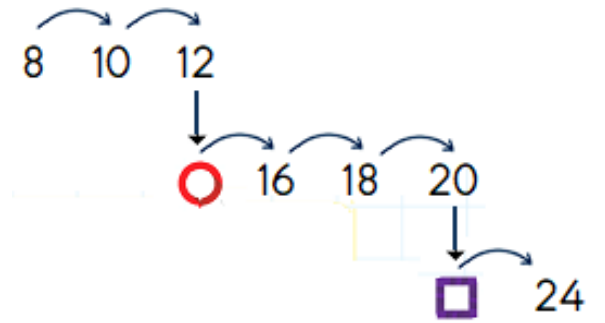
B)



C)



10 -



Yukarıdaki ikişer ritmik saymada ve yerine sırasıyla hangi sayılar gelmelidir ?

- A) 14 - 22 B) 13 - 21
C) 11 - 19

