

1 -



Yukarıdaki görsele göre aşağıdaki ifadelerden hangisi yanlıştır ?

- A) Masanın üstünde köpek var.
- B) Kedinin karşısında tavuk var.
- C) Köpek yukarıda tavuk aşağıdadır.

2 -



Yukarıdaki varlıklardan hangisinin eşi yoktur ?

A)



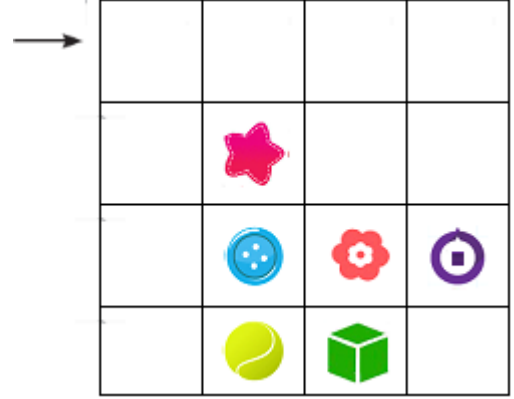
B)



C)



3 -



Yukarıdaki tabloda ; 3 kare sağa ,2 kare aşağıya ,1 kare sola ilerlediğimizde hangi şekle ulaşılır ?

A)




B)



C)



4 -



Yukarıda verilen varlıklar ağırdan hafife doğru sıralandığında hangi seçenekte verilen sıralama doğru olur ?

A)



B)



C)




5 - Hangi seçenekte görsellere göre verilen ifade yanlıştır ?

A)



Araba , kamyondan hafiftir.

B)



Limon , çilekten ağırdır.

C)



Motosiklet , bisikletten hafiftir.

6 -



Yukarıdaki görsele göre aşağıda verilen ifadelerden hangisi bize göre doğrudur ?

- A) Keçi , ineğin solunda , eşeğin sağındadır.
- B) Eşek en soldadır.
- C) At , ineğin sağındadır.

7 -



Yukarıdaki görselin gölgesi hangi seçenekte verilmiştir ?

A)



B)



C)



8 -



Yukarıdaki görselle ilgili ifadelerden hangisi yanlıştır ?

- A) En yüksekte çiçek var.
- B) Bardaklar , kitaplardan daha yüksektedir.
- C) Kitaplar , radyodan daha alçaktadır.