






1 - “  sayısı 16 ‘den küçük , 14 ‘ten büyüktür. “

Yukarıdaki ifadede “  “ yerine gelecek sayının 4 fazlası kaçtır ?

- A)  B)  C) 

2 - Sınıfımızda 9 erkek , erkeklerden 3 fazla kız öğrenci vardır. Sınıfımızın mevcudu kaçtır ?

- A)  B)  C) 

3 -

$$\begin{array}{r} \blacksquare \\ + 9 \\ \hline 17 \end{array} \quad \begin{array}{r} 8 \\ + \bullet \\ \hline 13 \end{array}$$

Yukarıdaki işlemlere göre

$\blacksquare + \bullet$  kaçtır ?

- A) 13 B) 17 C) 30

4 -

Fark	=	9
Eksilen	=	15
Çıkan	=	6

Yukarıda terimleri verilen çıkarma işlemi aşağıdakilerden hangisidir ?

- A)  $9 - 15 = 6$   
B)  $15 - 6 = 9$   
C)  $15 - 9 = 6$

5 - Aşağıda verilen işlemlerden hangisi birer eksiltme yoluyla yapılan zihinden çıkarma işlemi kuralına uygun değildir ?

- A)  $12 - 3 = ?$

$$\begin{array}{ccccccc} 12 & - & 11 & - & 10 & - & 9 \\ \downarrow & \downarrow & \downarrow & \downarrow & \downarrow & \downarrow & \downarrow \\ -1 & -1 & -1 & -1 & -1 & -1 & -1 \end{array}$$

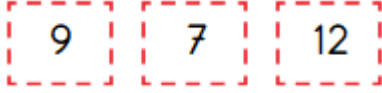
- B)  $16 - 4 = ?$

$$\begin{array}{ccccccc} 16 & - & 15 & - & 14 & - & 13 & - & 12 \\ \downarrow & \downarrow & \downarrow & \downarrow & \downarrow & \downarrow & \downarrow & \downarrow & \downarrow \\ -1 & -1 & -1 & -1 & -1 & -1 & -1 & -1 & -1 \end{array}$$

- C)  $20 - 5 = ?$

$$\begin{array}{ccccccc} 20 & - & 19 & - & 17 & - & 14 & - & 10 & - & 5 \\ \downarrow & \downarrow & \downarrow & \downarrow & \downarrow & \downarrow & \downarrow & \downarrow & \downarrow & \downarrow & \downarrow \\ -1 & -2 & -3 & -4 & -5 & -6 & -7 & -8 & -9 & -10 & -11 \end{array}$$

6 -

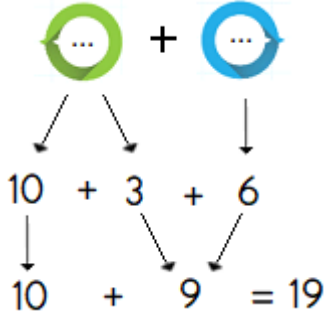


Yukarıdaki sayılar Adem , Ayaz ve Bünyamin 'in misket sayılarını göstermektedir. Adem 'in misket sayısı en az , Ayaz 'in misket sayısı en fazladır.

Buna göre aşağıdakilerden hangisi söylenemez ?

- A) Bünyamin 'in 9 misketi vardır.
- B) Adem 'in misket sayısı Ayaz 'in misket sayısından 5 fazladır.
- B) Bünyamin ile Adem 'in misketlerinin toplamı 16 'dır.

7 -




Candan Sevay 'in zihinden yaptığı toplama işlemi aşağıdakilerden hangisidir ?


- A)  $13 + 6$
- B)  $16 + 3$
- C)  $19 + 9$

8 - Nehir 8 , kardeşi 6 yaşındadır. 2 yıl sonra Nehir ile kardeşinin yaşları toplamı kaç olur ?

A)



B)



C)



9 -

-	7	4
16		

Yukarıdaki çıkarma işlemi tablosunda



ve



yerine gelecek sayıların farkı kaçtır ?

A) 11

B) 8

C) 3

10 -

$$\begin{array}{r}
 1 \text{ onluk} + 7 \text{ birlik} \\
 - \quad \quad \quad 5 \text{ birlik} \\
 \hline
 1 \text{ onluk} + 2 \text{ birlik}
 \end{array}$$

Ecrin 'in zihinden yaptığı işlem aşağıdakilerden hangisidir ?

- A)  $17 - 5 = ?$
- B)  $12 + 5 = ?$
- C)  $17 + 5 = ?$

