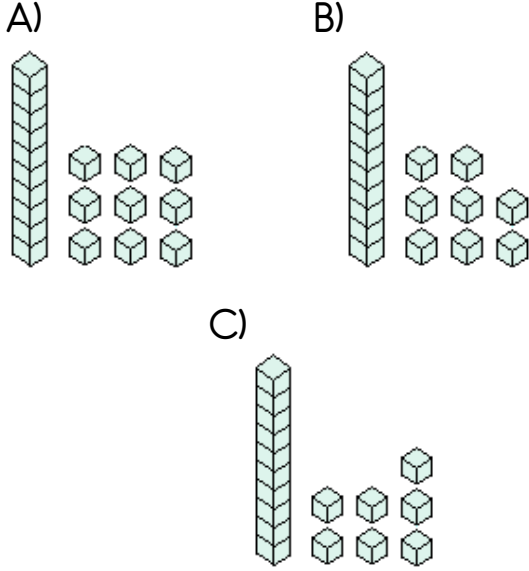
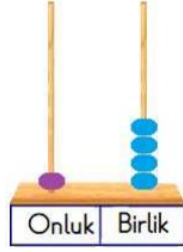
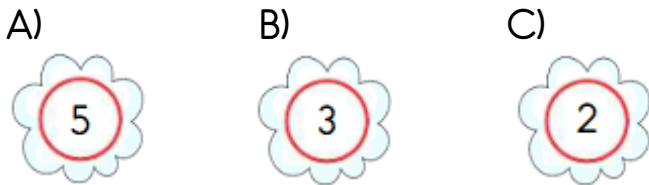


1 - Abaküste gösterilen sayının 3 fazlası kaçtır ?



2 - Damla fındıklarının 8 tanesini yedi. Geriye 7 fındığı kaldı.

Damla fındıklarının 10 tanesini yeseydi geriye kaç fındığı kalırdı. ?



3 -

$$17 - 5 = \text{★}$$

$$\text{★} - 3 = \text{●}$$

Yukarıdaki verilen işlemlere göre ● kaçtır ?

A) 7 B) 8 C) 9

4 -

$$14 + 4 = ?$$

Tuna , yukarıdaki toplama işlemini sayıyı onluk ve birliklerine ayırma yöntemi kullanarak zihinden yapıyor.

Buna göre Tuna 'nın yaptığı işlem hangisidir ?

A)
$$\begin{array}{r} 14 + 4 = ? \\ \swarrow \quad \searrow \quad \downarrow \\ 8 + 6 + 4 \\ \downarrow \quad \swarrow \quad \searrow \\ 8 + 10 = 18 \end{array}$$

B)
$$\begin{array}{r} 14 + 4 = ? \\ \swarrow \quad \searrow \quad \downarrow \\ 10 + 4 + 4 \\ \downarrow \quad \swarrow \quad \searrow \\ 10 + 8 = 18 \end{array}$$

C)

$$\begin{array}{r} 14 + 4 = ? \\ \downarrow \quad \swarrow \quad \searrow \\ 14 + 3 + 1 \\ \swarrow \quad \searrow \quad \downarrow \\ 17 + 1 = 18 \end{array}$$

5 - Aşağıdaki ifadelerden hangisi yanlıştır ?

- A) Birin herhangi bir sayı ile toplamı bire eşittir.
- B) Bir sayının kendisi ile toplamını ikişer saymada söyleriz.
- C) Bir sayının sıfır ile toplamı sayının kendisine eşittir.

6 -



Furkan , 1. ve 2. tabaktaki cevizleri 3. tabağa koyuyor. 1. tabakta kaç tane ceviz vardı ?

A)

B)

C)



7 -



Yukarıdaki modellenen çıkarma işlemi aşağıdakilerden hangisidir ?

A)

B)

C)

$$\begin{array}{r} 17 \\ - 9 \\ \hline ? \end{array}$$

$$\begin{array}{r} 17 \\ - 8 \\ \hline ? \end{array}$$

$$\begin{array}{r} 9 \\ - 8 \\ \hline ? \end{array}$$

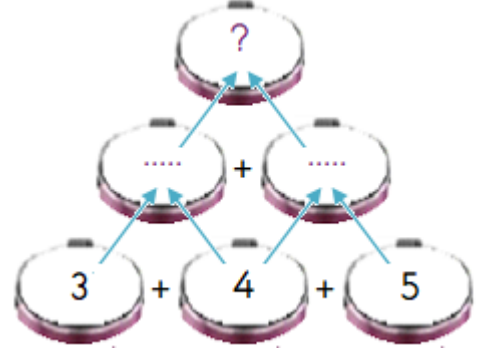
8 - Aşağıdaki işlemlerden hangisinin sonucu " 1 onluk 3 birlik " e eşittir ?

A) $17 - 5$

B) $8 + 6$

C) $9 + 3 + 1$

9 -



Yukarıdaki şemada " ? " yerine aşağıdaki sayılardan hangisi gelir ?

A) 16

B) 14

C) 12

10 - Bir çıkarma işleminde en büyük sayının bulunduğu terim hangisidir ?

A)

B)

C)



11 - Yanda verilen toplama işlemi 10 'a tamamlama yöntemi ile yapılacağına göre

$$7 + 5 = ?$$

♥ ve ● yerine

aşağıdakilerden hangisi yazılmalıdır ?

A) ♥ = 4 ; ● = 1

B) ♥ = 3 ; ● = 2

C) ♥ = 5 ; ● = 0