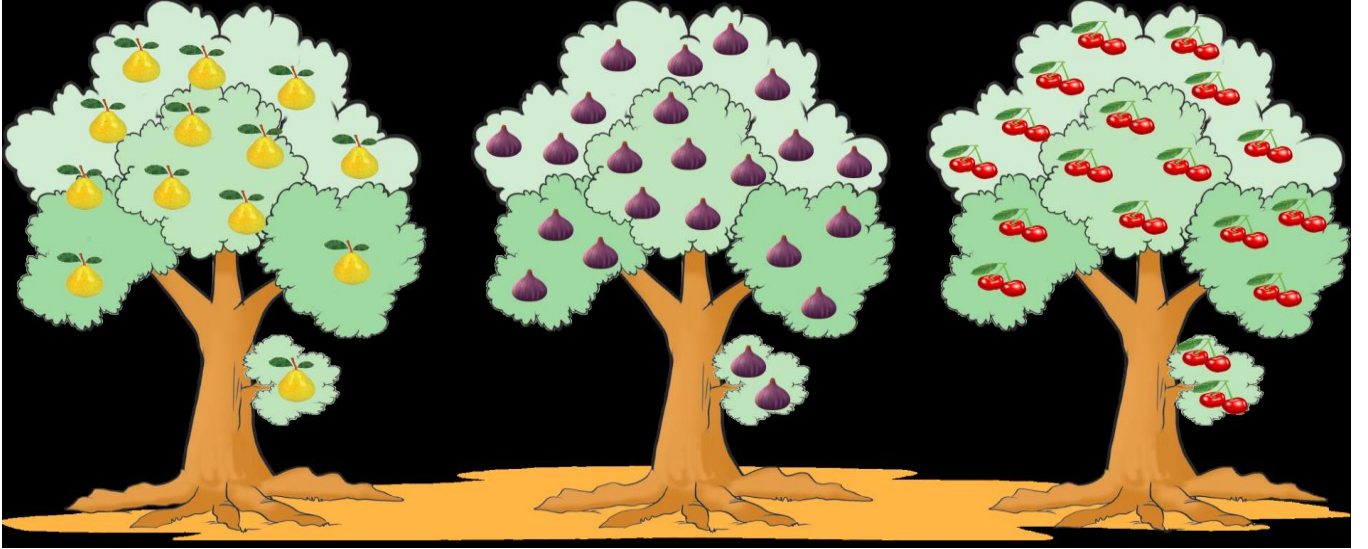


2018-2019 EĞİTİM ÖĞRETİM YILI ATATÜRK İLKOKULU İYEP PROGRAMI
MATEMATİK MODÜL 1 DEĞERLENDİRME SINAVI

Sınavınız 9 sorudan oluşmaktadır. Sınav süreniz 40 dakikadır. Lütfen soruları en az 2 kere okuyunuz. Önemli yerlerin altını çiziniz. Başarılar dilerim.

1. Aşağıdaki ağaçlardaki meyvelerin sayısını ağaçların altındaki kutucuklara yazınız.



ARMUT:

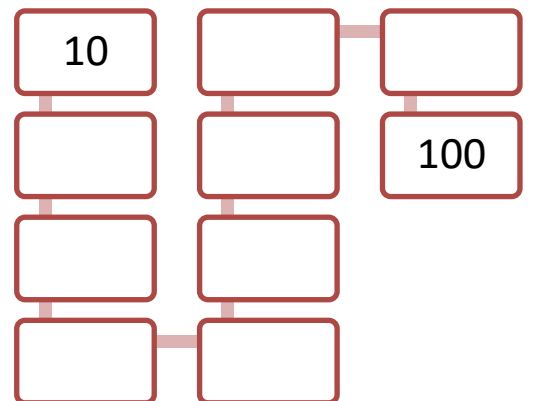
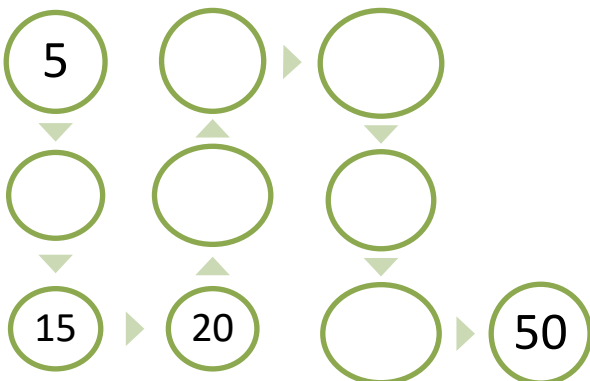
İNCİR:

KİRAZ:

2. Aşağıda verilen rakamların öncesinde, arasında ve sonrasındaki rakamlarını yazınız.



3. Aşağıda verilen 5' er ve 10' ar ritmik saymaları tamamlayınız.



2018-2019 EĞİTİM ÖĞRETİM YILI ATATÜRK İLKOKULU İYEP PROGRAMI
MATEMATİK MODÜL 1 DEĞERLENDİRME SINAVI

Sınavınız 9 sorudan oluşmaktadır. Sınav süreniz 40 dakikadır. Lütfen soruları en az 2 kere okuyunuz. Önemli yerlerin altını çiziniz. Başarılar dilerim.

4. Aşağıdaki verilen a ve b ritmik saymalarını yapınız.


a. Aşağıdaki kutucukları 2' şer ritmik sayarak tamamlayınız.

2	→		→		→		→		→		→		→		→		→		→	
---	---	--	---	--	---	--	---	--	---	--	---	--	---	--	---	--	---	--	---	--

b. Aşağıdaki kutucukları 20' den geriye 1' er sayarak tamamlayınız.

20	→		→		→		→		→		→		→		→		→		→	
	←		←		←		←		←		←		←		←		←		←	
	→		→		→		→		→		→		→		→		→	2	→	

5. Aşağıda verilen nesneleri onluk ve birliklerine ayırarak yazınız.

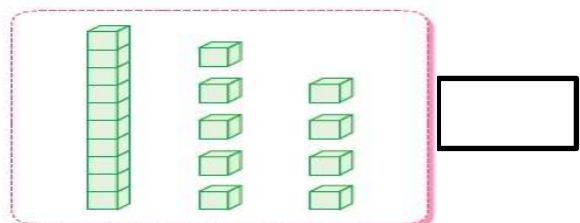
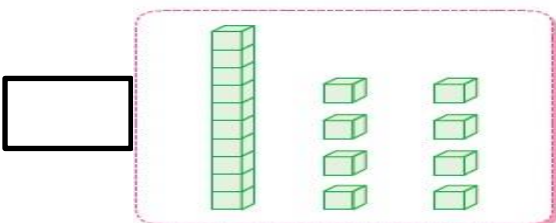


	onluk	+		birlik	=	
--	-------	---	--	--------	---	--



	onluk	+		birlik	=	
--	-------	---	--	--------	---	--

6. Aşağıda modellenmiş olarak verilen sayıları yazınız.



2018-2019 EĞİTİM ÖĞRETİM YILI ATATÜRK İLKOKULU İYEP PROGRAMI
MATEMATİK MODÜL 1 DEĞERLENDİRME SINAVI

Sınavınız 9 sorudan oluşmaktadır. Sınav süreniz 40 dakikadır. Lütfen soruları en az 2 kere okuyunuz. Önemli yerlerin altını çiziniz. Başarılar dilerim.

7. Aşağıda verilen toplama işlemlerinin sonuçlarını kutucuklara yazınız.

$\begin{array}{r} 6 \\ + 3 \\ \hline \end{array}$	$\begin{array}{r} 15 \\ + 4 \\ \hline \end{array}$	$\begin{array}{r} 10 \\ + 3 \\ \hline \end{array}$	$\begin{array}{r} 13 \\ + 5 \\ \hline \end{array}$	$\begin{array}{r} 19 \\ + 1 \\ \hline \end{array}$
---	--	--	--	--

8. Aşağıda verilen çıkarma işlemlerinin sonuçlarını kutucuklara yazınız.

$\begin{array}{r} 7 \\ - 2 \\ \hline \end{array}$	$\begin{array}{r} 11 \\ - 3 \\ \hline \end{array}$	$\begin{array}{r} 16 \\ - 9 \\ \hline \end{array}$	$\begin{array}{r} 8 \\ - 2 \\ \hline \end{array}$	$\begin{array}{r} 5 \\ - 4 \\ \hline \end{array}$
$\begin{array}{r} 10 \\ - 7 \\ \hline \end{array}$	$\begin{array}{r} 13 \\ - 8 \\ \hline \end{array}$	$\begin{array}{r} 2 \\ - 0 \\ \hline \end{array}$	$\begin{array}{r} 10 \\ - 5 \\ \hline \end{array}$	$\begin{array}{r} 9 \\ - 5 \\ \hline \end{array}$

9. Aşağıda verilen problemleri çözünüz.

a. Ceren'in 9 kalemı vardır. Ceren'e 4 kalemde babası aldı. Ceren'in toplam kaç kalemı oldu?

b. Filiz önce 9 çilek yedi, daha sonra 8 çilek daha yedi. Filiz toplam kaç çilek yedi?

c. Ahmetlerin evinde 11 kişi yaşamaktadır. Ahmetlerin evinden 6 kişi misafir olarak Alilere gitti. Ahmetlerin evinde kaç kişi kaldı?

d. Emir' in cebinde 9 ceviz vardır. Emir cebindeki cevizlerin hepsini yedi. Emir' in kaç cevizi kaldı.