

1 - Aşağıdaki hayvanların hangisinin barınağı ahır değildir ?

A) B) C)



2 - Aşağıdaki hayvanlardan hangisi yaşadığı yer bakımından diğerlerinden farklıdır ?

A) B) C)



3 - Hangisinin çevreye zararı yoktur ?

- A) Ağaçlardan düşen yapraklar.
- B) Lavaboya dökülen atık yağlar.
- C) Metal kutular ile plastik şişelerin çöpe atılması.

4 - Aşağıdaki bilgilerden hangisi yanlıştır ?

- A) Geri dönüşüm çevre kirliliğini önler.
- B) Geri dönüşüm kaynakların tükenmesini sağlar.
- C) Geri dönüşüm ülke ekonomisine katkı sağlar.

5 - " Doğayı korumak için kaynaklarımızı tasarruflu kullanmamız gerekir. " Hangi kaynaktan tasarruf yapmamıza gerek yoktur ?

A) Güneş B) Elektrik C) Doğalgaz

6 - 1. Güneş 'in etrafında dolanması

2. Kendi etrafında dönmesi

3. Ay 'in etrafında dolanması

Yukarıdakilerden hangisi ya da hangileri Dünya 'nın hareketlerindendir ?

A) Yalnız 3 B) 1 - 2

C) 1 - 2 - 3

7 - 1. Yapraklarını dökerler.

2. Meyve verirler.

3. Çiçek açarlar.

4. Yaprakları çıkar.

Bitkilerdeki gelişme , oluş sırasına göre sıralandığında hangisi doğru olur ?

A) 2 - 3 - 4 - 1

B) 3 - 4 - 2 - 1

C) 4 - 3 - 2 - 1

8 - Aşağıdaki ifadelerden hangisi yaz mevsimi ile ilgilidir ?

- A) Havalar soğur , yağmurlar yağmaya başlar.
B) Doğa canlanmaya başlar , ağaçlar çiçek açar.
C) Meyveler olgunlaşır , ekinler biçilir.

9 - Yanda verilen geri dönüşüm kutusuna aşağıda verilen maddelerden hangisini atmamız doğru değildir ?



- A)  Metal kutu
B)  Gazete
C)  Meyve ve sebze atıkları

10 - “ , Dünyamızın ışık ve kaynağıdır. ”

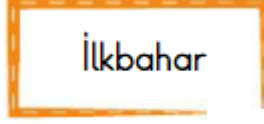


Yukarıdaki cümlede boş bırakılan yerlere sırasıyla aşağıdakilerden hangisi gelmelidir ?

- A) Yıldız ~ su
B) Ay ~ besin
C) Güneş ~ ısı

11 - * Havalar serinlemeye başlar.

- * Yağışlar uzun sürer.
* Ağaçların yaprakları dökülür.

Yukarıda verilen bilgiler hangi mevsime aittir ?

- A)  İlkbahar
B)  Sonbahar
C)  Kış

12 - () Kışın gündüzler kısa geceler uzun olur.

() Göçmen kuşlar sonbahar mevsiminde göç ederler.

() Kış mevsiminde doğa uyanır , ağaçlar çiçek açar.

Yukarıdaki bilgilerden doğru olanlara “ D ” , yanlış olanlara “ Y ” yazarsak aşağıdaki tablonun hangisi doğru olur ?

- A)

D
D
D

B)

D
D
Y

C)

D
Y
D

