


GEOMETRİK CİSİMLER - ÖRÜNTÜ TEST - 1

1 - Aşağıdaki geometrik şekillerden hangisinin kenar sayısı diğerlerinden farklıdır ?

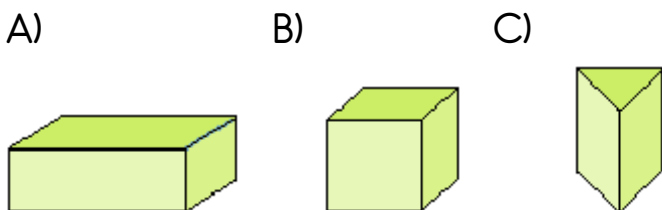
- A) Üçgen B) Kare
C) Dikdörtgen

- 2 - * Köşelerim yok.
* Eğri yüzeyim var.
* Düz yüzeyim var.


Yukarıdaki özelliklere sahip cisim hangisi olabilir ?



3 - Aşağıdaki hangi cismin yüzeyinden yararlanarak kare çizebiliriz ?



4 - Aşağıdakilerden hangisi çembere benzer ?



5 -



Yukarıdaki örüntüde noktalı yerlere sırasıyla hangi şekiller gelmelidir ?



6 -



Emir Batu , yukarıda verilen kibrit çöplerini kullanarak sıranın üzerine dikdörtgen şekli oluşturmak istiyor.

Bunun için en az kaç tane kibrit çöpü kullanır ?

- A) 4 B) 6 C) 8

7 - Aşağıda verilen örüntülerden hangisinin kuralı diğerlerinden farklıdır ?

A)



B)



C)



8 - Aşağıdakilerden hangisi bir örüntü değildir ?

A)



B)



C)




9 -

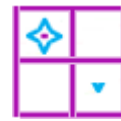


Yukarıdaki örüntüde “ ? ” yerine aşağıdakilerden hangisi gelir ?

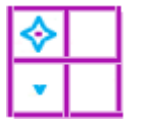
A)



B)



C)



10 - Yandaki geometrik cismi kullanarak aşağıdaki geometrik şekillerden hangisini çizemeyiz ?



A)



B)



C)



11 - Aşağıdakilerden hangisi dikdörtgenin özelliklerinden biridir ?

A) İki tane köşesi vardır.

B) Karşılıklı kenar uzunlukları birbirine eşittir.

C) Bütün kenarları birbirine eşittir.