

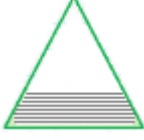
KESİRLER TEST - 1

1 - Aşağıdaki şekillerden hangisinin yarısı taralıdır ?

A)



B)



C)



2 -



Yukarıdaki tabakta 3 bütün elma olması için tabağa aşağıdakilerden hangisi konmalıdır ?

A)



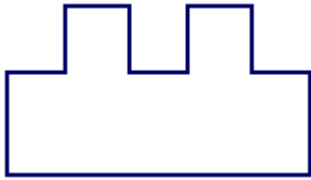
B)



C)

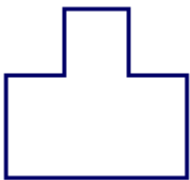


3 -

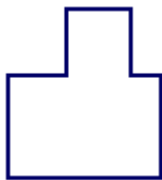


Yukarıdaki şeklin yarısını gösteren şekil aşağıdakilerden hangisidir ?

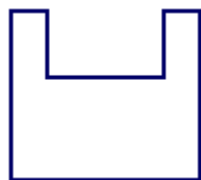
A)



B)



C)



4 - Saat sekiz buçuğu gösteren seçenek hangisidir ?

A)



B)



C)



5 -

2024 EYLÜL						
Pzt.	Sa.	Car.	Per.	Cu.	Cmt.	Pa.
						1
2	3	4	5	6	7	8
9	10	11	12	13	14	15
16	17	18	19	20	21	22
23	24	25	26	27	28	29
30						

Yukarıdaki takvime göre aşağıdaki ifadelerden hangisi yanlıştır ?

- A) Eylül ayı , haftanın son günü ile başlamaktadır.
- B) Eylül ayında dokuz tatil günü vardır.
- C) Eylül ayında yedi tane pazartesi günü vardır.

6 - Yılın ilk ve son ayı hangi mevsim ya da mevsimler içerisinde yer alır ?

- A) Sonbahar - kış
- B) Kış
- C) Kış - ilkbahar


KESİRLER TEST - 1

7 - Yandaki saatte yelkovan 12 'yi göstermektedir.

Saatın 4 'ü göstermesi için akrebin hangi sayının üstüne gelmesi gerekir ?




- A) 4 B) 6 C) 8



Yukarıdaki elmaların yarısını kardeşime verdim , yarısını da ben aldım.

Aşağıdaki seçeneklerden hangisi kardeşime verdiğim elmaları göstermez ?



9 - Yarın günlerden çarşambadır.

Buna göre dün hangi gün olur ?

- A) B) C)



10 - Yandaki takvimde bugünün tarihi verilmiştir.


Buna göre 17 Eylül

hangi gündür ?



- A) Pazartesi B) Salı
C) Çarşamba

11 - Bir kasedeki 8 çileğin yarısını yedim. Bir tanesini de yere düşürdüm. Kasede kaç çilek kaldı ?



12 - “ Saat modelindeki kısa ibre uzun ibre gösterir. ” ifadesindeki boşluklara sırasıyla hangisi yazılmalıdır ?

- A) Saat - dakikayı
B) Dakika - saati
C) Saniye - dakikayı

