

1 -



Yukarıdaki kalemlerden ;

* En kısa olanı Duru 'nun , en uzun olanı Alya 'nındır. Diğer kalem ise İnci 'nindir.

Buna göre hangi kalem İnci 'ye aittir?

- A) 1 B) 2 C) 3

2 -



Her bir ataş 2 parmak uzunluğundadır. Buna göre kalemin uzunluğu kaç parmak uzunluğundadır ?

- A) 12 B) 8 C) 6

3 - Yandaki kovayı hangisi ile daha çabuk doldurabiliriz?



- A) B) C)



4 -



Ekrandaki cümlede noktalı yerlere sırasıyla hangileri yazılmalıdır ?

- A) Ayakla - karışla
B) Adımla - parmakla
C) Adımla - kulaçla

5 - Aybike 'nin

3 adımının uzunluğu

bir metre geliyor.

Aybike 9 adım yürürse kaç metre yürümüş olur ?



- A) 9 B) 6 C) 3

6 -

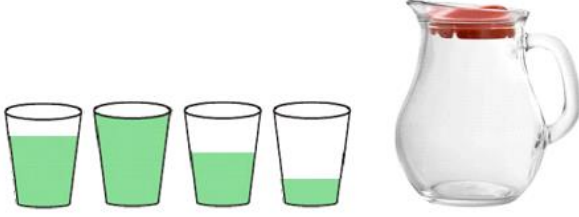


3 çay bardağı ile 1 kupa dolduruluyor.

Buna göre 5 kupa doldurmak için kaç çay bardağı sıvı gereklidir ?

- A) 9 B) 12 C) 15

7 -

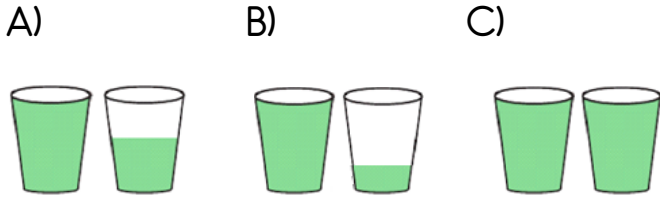


* Yukarıdaki bardaklar eşit miktarda meyve suyu alıyor.

* Boş sürahi 4 bardak meyve suyu ile doluyor.

* Bardaklardaki meyve suları boş sürahiye dökülüyor.

Sürahinin tam dolması için aşağıdaki bardaklardaki meyve sularından hangisi sürahiye dökülmelidir ?



8 -



Ömer Ediz yukarıdaki şişeleri meyve suyu ile doldurmak istiyor.

Buna göre , kaç numaralı şişeye en çok meyve suyu koyar?

- A) 1 B) 2 C) 3

9 -

Tablo : Sevilen Dondurma Çeşitleri

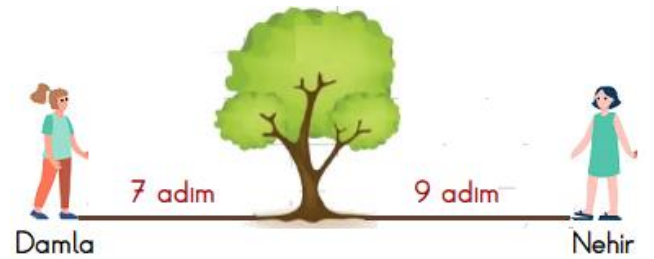
Dondurma Çeşitleri	Öğrenci Sayısı
Çilekli	10
Vanilyalı	7
Çikolatalı	15
Vişneli	9

Yukarıdaki tabloda , 1 - B sınıfı öğrencilerinin sevdikleri dondurma çeşitleri gösterilmiştir.

Tabloya göre aşağıdaki ifadelerden hangisi yanlıştır ?

- A) En çok sevilen dondurma çeşidi çikolatalı en az sevilen vanilyalıdır.
 B) Vişneli ile vanilyalı dondurma sevenlerin sayısı çikolatalı dondurma sevenlerin sayısına eşittir.
 C) En çok sevilen ile en az sevilen dondurma çeşidinin farkı 8 'dir.

10 -



Damla ağaçtan 7 adim , Nehir ağaçtan 9 adim uzaktadır.

Buna göre iki çocuğun arası kaç adımdır ?

- A) 16 B) 17 C) 18