

YENİ MÜFREDAT

2024-2025

ZİYA GÖKALP ORTAOKULU 5. SINIFLAR EYLÜL TARAMASI

MATEMATİK-TÜRKÇE-FEN
SOSYAL-DİKAB-İNGİLİZCE

AD SOYAD:

SINIF:

YANLIŞ SORULAR DOĞRULARI GÖTÜRMEYECEKTİR

SIRALAMA AÇIKLANMAYACAKTIR

CEVAP ANAHTARINI İŞARETLEMİYİ UNUTMAYINIZ



	DOĞRU	YANLIŞ	BOŞ
TÜRKÇE			
MATEMATİK			
FEN BİLGİSİ			
DİN KÜLTÜRÜ			
SOSYAL BİLGİLER			
İNGİLİZCE			

52 SORU
40 DK!



hendekziyagokalportaokulu



www.hendekziyagokalportaokulu.meb.k12.tr

TÜRKÇE TARAMA SINAVI

1. "Kalkmak" sözcüğü, aşağıdakilerin hangisinde "yükselmek, yukarı çıkmak" anlamında kullanılmıştır?

- A) Yasanın bu maddesi kalkmış.
- B) Köyümüzde bu adet çoktan kalktı.
- C) Terazinin bir gözü inince diğer gözü kalkar.
- D) Saat onda kalkacak trene yetişmemiz zor görünüyor.

2. Aşağıdaki cümlelerin hangisinde altı çizili sözcük mecaz anlamıyla kullanılmıştır?

- A) Genç adam, gözlerini kapatarak şiiri dinledi.
- B) Gün battı, dağlar karardı, yıldızlar parladı.
- C) Bardaktan boşanırcasına bir yağmur yağdı.
- D) Satıcının ince davranışı müşteriyi etkiledi.

3. Aşağıdaki altı çizili sözcüklerin hangisi terim anlamıyla kullanılmıştır?

- A) Köşkün parlayan camları dikkatini çekti.
- B) Parmağıyla yoldan geçen bir adamı gösterdi.
- C) Şarkının notaları sazın tellerinde yankılanıyordu.
- D) Halı döşeli merdiveni, kucağında kedisiyle çıktı.

4. Aşağıdaki altı çizili kelimelerden hangisi "sadece" anlamında kullanılmıştır?

- A) Yeni yazdığı birkaç şiir çok etkileyiciydi.
- B) Ulaşım sorunları giderilince köprüyü tamamen unuttular.
- C) Bazen yumurta pişiriyor, genellikle salatayla besleniyordu.
- D) Yalnızca duygularına başvurduğu için çoğu zaman yanılırdı.

5. Aşağıdaki cümlelerin hangisinde "çıkmaq" sözcüğü "bulaşmak" anlamında kullanılmıştır?

- A) Bayramın son günü ikisinin de işi çıkmış.
- B) Akıllı çıktı da arkadaşına uymadı.
- C) Kravatın boyası gömleğe çıkmış.
- D) Yola çıkmadan eve gidip uyumak istedim.

6. Aşağıdakilerin hangisinde altı çizili sözcük, mecaz anlamıyla kullanılmıştır?

- A) Birdenbire yüzünde bir çocuk sevinci parladı.
- B) Şahin, karşıdaki kayalıklara kadar uçtu.
- C) O gece, ateşi kırtan aşağıya düşmedi.
- D) Yaprakların hafif hışırısını duyarak çalılıkları geçtik.

7. Aşağıdaki sözcükler alfabetik sıraya göre dizildiğinde, hangisi 3. sırada yer alır?

- A) Dişçilik
- B) Dijital
- C) Dikenli
- D) Dinamik

Yatağım, yorganım, halım toprak

Katığım, **ekmeğim**, balım toprak!

8. Bu dizelerdeki "ekmek" sözcüğünün sesteşi aşağıdakilerin hangisinde kullanılmıştır?

- A) Odayı, kızarmış **ekmek** kokusu bürümüşü.
- B) Boş tarlasını **ekmek** için biraz tohum istemişti.
- C) Güvercinlerine kendi eliyle **ekmek** yedirirdi.
- D) Kuru **ekmek** ile zeytin peynir, vazgeçilmez kahvaltısıydı.

- 1. büyük
- 2. küçük
- 3. başlar
- 4. adımlarla
- 5. işler

9. Yukarıdaki sözcüklerle anlamlı ve kurallı bir cümle oluşturulursa sıralama nasıl olur?

- A) 1-5-2-4-3
- B) 2-3-4-5-1
- C) 3-1-5-4-2
- D) 5-2-1-3-4

"Yaşlı kadın ormanın kenarındaki evde kendi haline yaşarmış."

10. Bu cümlede aşağıdaki sorulardan hangisinin cevabı yoktur?

- A) Nerede?
- B) Kim
- C) Niçin
- D) Nasıl?

"Anahtarları evin kapısında unutmuşum."

11. Yukarıdaki cümlede altı çizili bölüm aşağıdaki sorulardan hangisinin cevabıdır?

- A) Kim?
- B) Nasıl?
- C) Ne zaman?
- D) Nerede?

12. Aşağıdaki atasözlerinden hangisi tutumlu olmayı öğütlemektedir?

- A) Ayağını yorganına göre uzat.
- B) Ne ekersen onu biçersin.
- C) Borç yiğidin kamçısıdır.
- D) Parayı veren düdüğü çalar.

"Yarışmada kendisine haksızlık yapılınca küplere bindi."

13. Altı çizili deyim cümleye kattığı anlam aşağıdaki seçeneklerin hangisinde yoktur?

- A) Evi dağıtınca annem bana çok kızdı.
- B) Bizim evden ayrılmamıza çok üzüldü.
- C) Yaramazlık yapan çocukları görünce çok kızıyor.
- D) Sözümü dinlemeyen insanlar beni çok sinirlendiriyor.

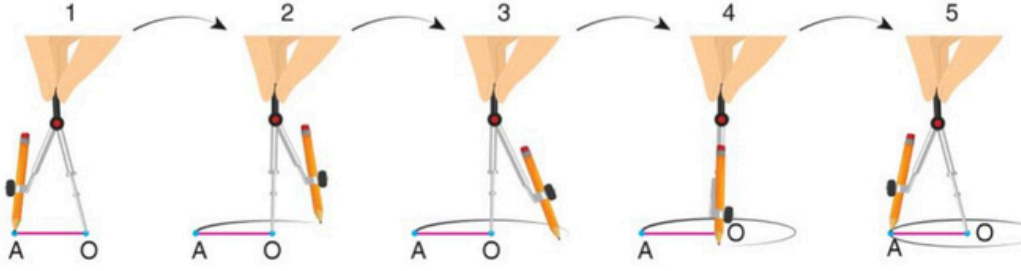
14. Aşağıda yay ayrıla belirtilen yerlerden hangisine nokta (.) getirilemez?

- A) Ders 12()45'te başlayacak.
- B) Dr() Elif Hanım dün rahatsızlanmış.
- C) Müdür odasının 3() katta olduğunu söyledi.
- D) Ankara()dan abim gelmiş



MATEMATİK TARAMA SINAVI

1. Aşağıda bir geometrik şeklin çizim aşamaları verilmiştir.



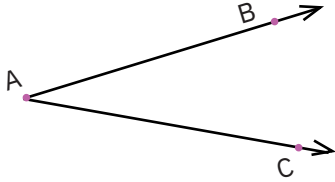
Buna göre çizilen geometrik şekil ile ilgili;

- Bir noktaya eşit uzunluktaki noktaların birleşimidir.
- Çizim aracı olarak pergel kullanılmıştır.
- Doğru parçalarından oluşmaktadır.
- Çemberdir.

İfadelerinden kaç tanesi doğrudur?

- A) 1 B) 2 C) 3 D) 4

2.



İki ışının bir araya gelmesiyle oluşan şekil ile ilgili aşağıda verilen bilgilerden hangisi yanlıştır?

- A) AB ışını ile AC ışınının birleşmesiyle oluşan açıya açılık denir. B) Yukarıdaki açı A açısı olarak isimlendirilir.
C) Açı, sembolle \widehat{ABC} şeklinde gösterilir. D) Yukarıdaki açının ölçüsü $m(\widehat{CAB})$ şeklinde gösterilir.

3. DE ve DF ışınlarının başlangıç noktaları birleştirilerek bir açı oluşturulacaktır.

Buna göre, bu açının okunuşu aşağıdakilerden hangisi gibi olamaz?

- A) D açısı B) DEF açısı
C) EDF açısı D) FDE açısı

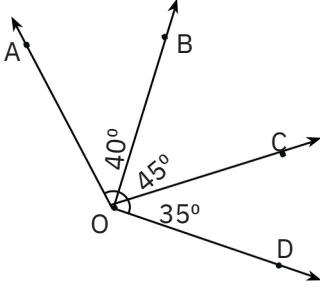
4. Aşağıda bir doğru, bir doğru parçası ve bir ışın verilmiştir.



Verilenlerin sembolle gösterimi aşağıdakilerden hangisinde doğru olarak eşleştirilmiştir?

- | | 1 | 2 | 3 |
|----|---------------------------|-----------------|-----------------------|
| A) | \overleftrightarrow{AB} | \overline{CD} | \overrightarrow{EF} |
| B) | \overleftrightarrow{AB} | \overline{CD} | \overrightarrow{FE} |
| C) | \overleftrightarrow{AB} | \overline{CD} | \overrightarrow{EF} |
| D) | \overleftrightarrow{AB} | \overline{CD} | \overrightarrow{FE} |

MATEMATİK TARAMA SINAVI



5. Verilen şekle göre aşağıdakilerden hangisi yanlıştır?

A) $m(\widehat{AOC}) = 75^\circ$ B) $m(\widehat{BOD}) = 80^\circ$
C) $m(\widehat{DOC}) = 35^\circ$ D) $m(\widehat{AOD}) = 120^\circ$

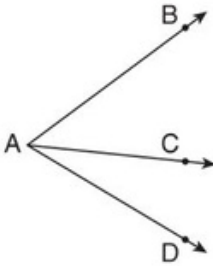
6. Bir matematik öğretmeni temel geometrik kavramlar konusu işlendikten sonra sınıf tahtasına aşağıda verilenlerin görsellerini çizmiştir.

- I. İki ucu kalemtraş ile açılmış bir kurşun kalem
II. Bir adet ok
III. Bir adet çubuk kraker

Buna göre öğretmenin çizdiği görseller aşağıdakilerin hangisinde verilenlere model olarak gösterilebilir?

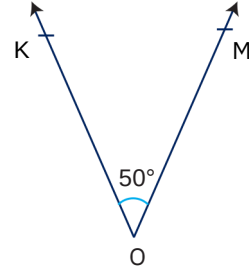
	I.	II.	III.
A)	Doğru parçası	Işın	Doğru
B)	Doğru	Işın	Doğru parçası
C)	Işın	Doğru	Doğru parçası
D)	Doğru	Doğru parçası	Işın

7. Aşağıda AB, AC ve AD ışınlarıyla oluşturulan açılar gösterilmiştir.



Buna göre aşağıdakilerden hangisi oluşturulan açılardan birinin sembolle gösterimi olamaz?

A) \widehat{ABC} B) \widehat{BAD} C) \widehat{CAB} D) \widehat{DAC}



8. Verilen açı ile ilgili aşağıdakilerden hangisi yanlıştır ?

A) $m(\widehat{KOM}) = 50^\circ$
B) Kollarından biri [KO'dır.
C) MOK açısı olarak isimlendirilir.
D) Köşesi O noktasıdır.

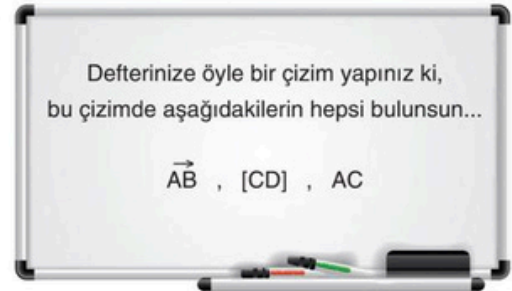
9. Bir matematik öğretmeni geometrik çizimler konusunu işlerken öğrencileriyle aşağıdaki etkinliği yapmıştır.



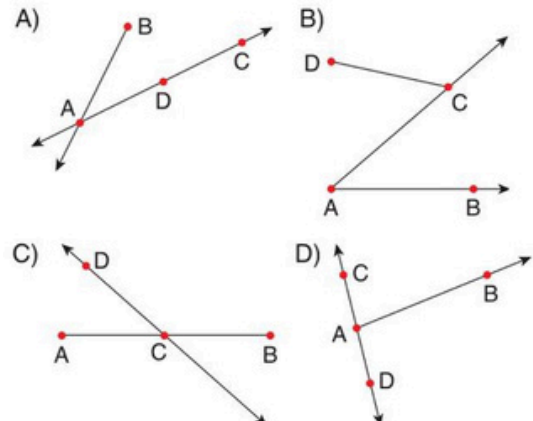
Buna göre matematik öğretmeni öğrencilerinden aşağıda verilen bilgilerden hangisine ulaşmalarını istemiştir?

- A) Çember, sabit bir noktaya eşit uzaklıktaki noktaların birleşimidir.
B) Çember en az 12 doğru parçasının birleşiminden oluşur.
C) Çember çizmek için pergel kullanılır.
D) Çember en az iki nokta ile oluşturulur.

10. Aşağıda bir matematik öğretmenin sınıf tahtasına yazdıkları gösterilmiştir.

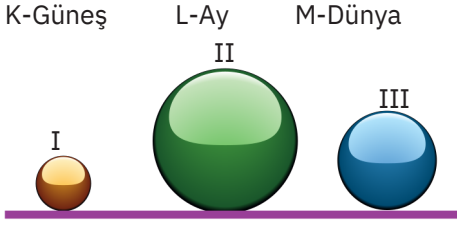


Buna göre aşağıdakilerden hangisi çizimi doğru yapan bir öğrenciye ait olabilir?



FEN BİLİMLERİ TARAMA SINAVI

1. Aşağıdaki farklı büyüklükte küreler ile Güneş, Dünya ve Ay eşleştirilecektir.



Buna göre aşağıdaki seçeneklerde verilen eşleştirme-lerden hangisi doğrudur?

- A) I-L
II-K
III-M
- B) I-M
II-K
III-L
- C) I-K
II-L
III-M
- D) I-M
II-L
III-K

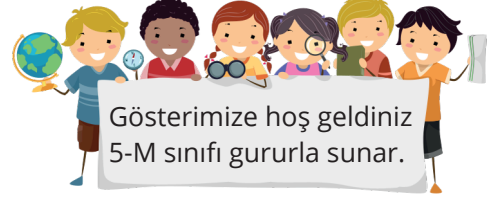
2. Ebru Öğretmen Güneş, Dünya ve Ay'ın hareket çeşitlerini hazırladığı bir model üzerinden anlatıyor.



Ebru öğretmen bu anlatım sırasında öğrencilerine aşağıdaki hangi bilgiyi verirse yanlış olur?

- A) Güneş kendi eksenini etrafında dönme hareketi yapar.
B) Ay sadece kendi eksenini etrafında dolanma hareketi yapar
C) Dünya kendi eksenini etrafında dönme hareketi yapar.
D) Dünya, Güneş etrafında dolanma hareketi yapar.


3. 5-M sınıfı öğrencileri Güneş, Dünya ve Ay'ın birbirlerine göre hareketleri ile ilgili bir gösteri hazırlıyorlar. Bu gösteride Dündar Dünya, Güven Güneş, Aytun ise Ay'ı temsil ediyor.



Buna göre öğrenciler gösteri sırasında aşağıdaki hangi hareketi yaparlarsa yanlış olur?

- A) Dündar, Güven'in etrafında dolanma hareketi yapıyor.
B) Aytun, Dündar'ın etrafında dolanma hareketi yapıyor.
C) Güven, Aytun'un etrafında dolanma hareketi yapıyor.
D) Aytun, kendi eksenini etrafında dönme hareketi yapıyor.

4. Astronomi alanında kullanılan ilk teleskobu icat eden ve Güneş'in kendi eksenini etrafında dönme hareketi yaptığı sonucuna ulaşan bilim insanı kimdir?



5.



Verilen tanılayıcı dallanmış ağaçta yukarıdaki ifadede başlanarak "Doğru (D)" ya da "Yanlış (Y)" yönünde ilerlenirse, kaç numaralı çıkışa ulaşılır?

- A) 1. çıkış B) 2. çıkış C) 3. çıkış D) 4. çıkış

FEN BİLİMLERİ TARAMA SINAVI

6. Günümüzde bilimin ulaştığı bilgilere göre, Güneş'te ortaya çıkan ısı ve ışığın kaynağı hangi iki maddedir?

- A) Hidrojen ve Oksijen
- B) Argon ve Helyum
- C) Oksijen ve Azot
- D) Hidrojen ve Helyum

7. Aşağıdaki öğrencilerden hangisi Güneş'in özellikleri ile ilgili yanlış bir bilgi vermiştir?

A) Güneş'in de tıpkı Dünya gibi katmanları vardır.



Elif

B) Güneş'ten yayılan enerjinin tamamı Dünya'ya ulaşır.



Arda

C) Güneş'in şekli küreseldir.



Orhan

D) Güneş kendi eksenini etrafında döner.



Ekin

8.

Dünya, Güneş ve Ay ile ilgili aşağıda verilen ifadelerden hangisi yanlıştır?

- A) Ay, Dünya etrafında dolandır.
- B) Dünya'daki yaşamın temel kaynağı Güneş'tir.
- C) Güneş katmanlardan oluşmaktadır.
- D) Güneş'in yüzeyindeki sıcaklık merkezindeki sıcaklıktan fazladır.

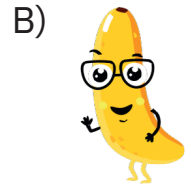

9. Arda, defterine Güneş'in özelliklerinden dört tanesini yazacaktır.



Buna göre Arda aşağıda verilen hangi özelliği yazarsa yanlış olur?

- A) Güneş'in çekirdek kısmı, yüzeyinden daha sıcaktır.
- B) Dünya'mıza olan uzaklığı yaklaşık 150 milyon kilometredir.
- C) Dünya'mızın etrafında dolanma hareketi yapar.
- D) Yüksek enerjili patlamalar sayesinde ısı ve ışık yaymaktadır.

10. Aşağıdaki seçeneklerde görselleri yer alan meyvelerden hangisi Güneş, Dünya ve Ay'ı modellemek için daha uygundur?



DİKAB TARAMA SINAVI

1. Yüce Allah, yeryüzünde ve göklerde bulunan bütün varlıkları yaratandır. Bütün galaksiler ve içinde bulunan yıldızlar, gezegenler vs. Allah'ın (c.c.) yarattığı varlık alanıdır. Ayrıca bu varlıklar birbirleriyle tam bir uyum içerisinde.

Bu metinde vurgulanan varlık alanı aşağıdakilerden hangisi ile ifade edilemez?

- A) Kâinat B) Âlem C) Evren D) Tevhit

2. Kendisine düşünme yeteneği verilen insan çevresini ve kendisini inceleyerek hayatın var olma amacını inceleyerek bir ve tek olan bir ilah olduğunu anlamaya çalışır.

Bu metinde varlıkların,

I. Akıllı kullanmaya yönlendirir.

II. Belirli bir süreliğine yaratılmıştır.

III. Bir amaç doğrultusunda yaratılmıştır.

özelliklerinden hangilerine değinilmiştir?

- A) I ve II B) I ve III
C) II ve III D) I, II ve III

3. Yüce Allah her zaman yaratmaya devam etmektedir. Allah'ın (c.c.) yaratmasının son bulduğunu söylemek doğru değildir.

Bu metni aşağıdaki ayetlerden hangisi destekler?

- A) "...O her an yaratma halindedir."
(Rahmân suresi, 29. ayet)
- B) "O, yaratan, yoktan var eden, şekil veren Allah'tır."
(Haşr suresi, 24. Ayet)
- C) "Sizin ilâhınız bir tek ilâhtır. O'ndan başka ilâh yoktur."
(Bakara suresi, 163. ayet)
- D) "Göklerdeki ve yerdeki her şeyi kendi katından (bir nimet olarak) sizin hizmetinize verendir..."
(Câsiye suresi, 13. ayet)

4. Allah'ın (c.c.) yarattığı varlıklar incelendiğinde bütün varlıkların belirli bir uyum içerisinde olduğu dikkat çeker. Varlıklar arasında hata ve kusur görmek mümkün değildir. İnsanların şahit olduğu bozukluklar insanlar tarafından gerçekleştirilmiştir. Evrenin özünde asla bir kusur bulunamaz.

Bu metinde aşağıdakilerden hangisine vurgu yapılmıştır?

- A) Varlıklar bir amaç için yaratılmıştır.
B) Bütün varlıkların belirli bir ömrü vardır.
C) Evrende bir düzen bulunmaktadır.
D) Her varlık insana hizmet için yaratılmıştır.

- "Ne Güneş'in A'ya yetişip çatması uygundur ne de gece gündüzü geçebilir. Her biri bir yörüngede yüzüp gider."

(Yâsin suresi, 40. ayet)

- "Allah, yedi göğü ve yerden bir o kadarını yaratandır. Allah'ın emri bunlar arasından inip durmaktadır..."

(Talâk suresi, 12. ayet)

5. **Bu ayetlerde aşağıdakilerden hangisine dikkat çekilmek istenmiştir?**

- A) Kâinatta bir ölçü vardır.
B) İnsan, düşünen bir varlıktır.
C) Varlıklar, insanlar için yaratılmıştır.
D) Evrendeki düzene insanlar zarar verir.

DİKAB TARAMA SINAVI

6. “Onlar ayaktayken, otururken ve yanları üzerine yatarken Allah’ı anarlar. Göklerin ve yerin yaratılışı üzerinde düşünürler. ‘Rabbimiz! Bunu boş yere yaratmadın, seni eksikliklerden uzak tutarız. Bizi ateş azabından koru.’ derler.”

(Âl-i İmrân suresi, 191. ayet)

Bu ayet,

- I. Evrendeki en değerli canlı insandır.
II. Hiçbir varlık gereksiz yaratılmamıştır.
III. İnsan, varlıkların amacını düşünmelidir.

düşüncelerinden hangilerini doğrular?

- A) Yalnız I B) I ve II C) II ve III D) I, II ve III

SOSYAL BİLGİLER TARAMA SINAVI

Soru 1: Dâhil olduğumuz gruplarda birtakım rollere sahip oluruz. Örneğin aile içinde çocuk, okulda öğrenci, sınıfta sınıf başkanı ve hentbol takımında kaleci rolünde olabiliriz. Birden çok grupta yer aldığımız için aynı anda birden fazla role de sahip oluruz. Dâhil olduğumuz gruplara ve üstlendiğimiz rollere göre çeşitli haklar elde eder ve sorumluluklar üstleniriz.

Bu metne göre aşağıdaki yargılardan hangisine ulaşamaz?

- A) Rollerin gruplarda bulunmanın bir sonucu olduğuna
B) Grup ve rollerin hak ve sorumluluklar getirdiğine
C) Farklı gruplarda farklı roller üstlenildiğine
D) Gruplar değişse de rollerin aynı kaldığına

Soru 2: Yaşam koşullarının iyileştirilmesi, doğanın korunması, yardımlaşma ve dayanışma faaliyetleri için sosyal sorumluluk gruplarına katılabiliriz.

Buna göre aşağıdaki katıldığımız faaliyetlerden hangisi sosyal sorumluluk gruplarının yapacağı çalışmalar arasında değerlendirilemez?

- A) Depremde zarar görenlere sıcak yemek dağıtılması B) Solisti olduğumuz okul korosunun velilere konser vermesi
C) Erozyonu önlemek ve çevreyi korumak için ağaç dikilmesi D) Köyün içme suyu şebekesinin temizlenerek temiz suya kavuşması

Soru 3:

“ Vatanını en çok seven, görevini en iyi yapandır.”

Mustafa Kemal ATATÜRK

Mustafa Kemal bu sözüyle aşağıdaki kavramlardan hangisinin önemini vurgulamıştır?

- A) Sorumluluk B) Hak C) Birlik beraberlik D) Vatan sevgisi

4. ve 5. Soruları aşağıdaki metne göre cevaplayınız.

Mehmet Akif ÖZTÜRK evde anne baba ve ablasıyla birlikte yaşamaktadır. Ziya Gökalp Ortaokulu 5.sınıfta okumaktadır. Okulda hem sınıf başkanlığı yapmakta hem de futbol takımında takım kaptanı olarak oynamaktadır.

Soru 4: Metne göre Mehmet Akif ÖZTÜRK'ün yer aldığı grup ve rollerin sayısı sırasıyla aşağıdakilerden hangisidir?

	<u>Grup</u>	<u>Rol</u>
A)	4	7
B)	3	5
C)	2	4
D)	5	6

Soru 5: Metne göre verilen grup rol eşleştirmesinden hangisi yanlıştır?

- | | |
|-----------------|---------------------------------|
| A) Aile- Evlat | B) Okul-Öğrenci |
| C) Sınıf-Oyuncu | D) Futbol takımı- Takım kaptanı |

Soru 6: Aşağıda 23 Nisan Ulusal Egemenlik Bayramına Türkiye'den katılan Ayaz İNAN'ın ülkemizin kültürü ile ilgili verdiği bilgiler belirtilmiştir.

Merhaba, ben Ayaz İNAN. Türkiye'den katılıyorum. Zeybek adlı oyunumuzda cepken dediğimiz, gömlek üstüne giyilen ve üzeri işlemeli bir kıyafet giyeriz. Kare şeklinde kesilen ince hamurların içine kıyma koyularak yapılan Kayseri mantısından başka kebab, baklava ve etli ekmek de diğer geleneksel lezzetlerimizdendir. Geleneksel Türk evlerinin üst katlarında cepheden dışarı çıkıntı yapan, cumba dediğimiz bir oda bölümü bulunur.

Buna göre kültürümüzle ilgili aşağıdaki hangi alandaki bilgiye ulaşamaz?

- | | | | |
|-----------|---------------|----------|----------|
| A) Mimari | B) Halk oyunu | C) Yemek | D) Sanat |
|-----------|---------------|----------|----------|

İNGİLİZCE TARAMA SINAVI

Bruno is a student from Italy. He likes learning English. He prepares two lists to study countries and nationalities but he makes some mistakes.

Countries	Nationalities
America	Japanese
China	French
German	Spanish
Brazil	Canada
Russia	British

1.

Which two words are **WRONG**?

- A) America / British B) Brazil / French C) German / Canada D) China / Japanese



I speak French and Japanese.



I'm Spanish.



I'm thirteen years old.



I love maths and history.

2.

Which of the following is **WRONG** according to the information above?

- A) Jane → languages
B) Marcus → nationality
C) Alex → age
D) Linda → country

- Robin : _____?
Jasmine : Eight.
Robin : _____?
Jasmine : Social studies, art, and music.
Robin : _____?
Jasmine : I love social studies. It's really fun.

3.

Which question **DOES NOT** Robin ask Jasmine?

- A) Are you in the 8th grade B) What is your favorite class
C) How many classes do you have a day D) Which classes do you have on Tuesday



Larissa

I love maths and science.

Mark

I speak Turkish, Chinese and Russian.

Vera

I enjoy art and music at school.

Peggy

Physical education is my favorite class.

4. Who is good at learning languages?

A) Larissa

B) Mark

C) Vera

D) Peggy



Oscar : I love science and maths, but I hate physical education.

Jane : I like social studies, music, and language classes.

Brain : Science, physical education and art are my favorite classes. I don't like maths.

Timothy : I like physical education and maths, but I hate social studies and drama.

5. Who likes the classes above?

A) Oscar

B) Jane

C) Brain

D) Timothy

Clara : Hello! I'm Clara. What's your name?

Lorenzo : Hi! My name is Lorenzo. Nice meeting you.

Clara : Nice meeting you, too. _____?


Lorenzo : I'm Italian, but I live in England.

Clara : _____?

Lorenzo : Three: They are English, French and Spanish.

Clara : Wow! You're good at learning languages. _____?

Lorenzo : I love social studies and physical education.



6.

Which of the following DOES NOT take place in the conversation?

A) What are your favorite classes

B) What nationality are you

C) How many languages do you speak

D) Where do you study

AD SOYAD:
SINIF:

ÖĞRETMEN TARAFINDAN DOLDURULACAK KISIMDIR

DOĞRU YANLIŞ BOŞ

TÜRKÇE _____

MATEMATİK _____

FEN BİLGİSİ _____

DİN KÜLTÜRÜ _____

SOSYAL BİLGİLER _____

İNGİLİZCE _____

TÜRKÇE

CEVAP FORMU				
1	A	B	C	D
2	A	B	C	D
3	A	B	C	D
4	A	B	C	D
5	A	B	C	D
6	A	B	C	D
7	A	B	C	D
8	A	B	C	D
9	A	B	C	D
10	A	B	C	D

11	A	B	C	D
12	A	B	C	D
13	A	B	C	D
14	A	B	C	D

MATEMATİK

CEVAP FORMU				
1	A	B	C	D
2	A	B	C	D
3	A	B	C	D
4	A	B	C	D
5	A	B	C	D
6	A	B	C	D
7	A	B	C	D
8	A	B	C	D
9	A	B	C	D
10	A	B	C	D

FEN BİL.

CEVAP FORMU				
1	A	B	C	D
2	A	B	C	D
3	A	B	C	D
4	A	B	C	D
5	A	B	C	D
6	A	B	C	D
7	A	B	C	D
8	A	B	C	D
9	A	B	C	D
10	A	B	C	D

DİKAB

CEVAP FORMU				
1	A	B	C	D
2	A	B	C	D
3	A	B	C	D
4	A	B	C	D
5	A	B	C	D
6	A	B	C	D

SOSYAL B.

CEVAP FORMU				
1	A	B	C	D
2	A	B	C	D
3	A	B	C	D
4	A	B	C	D
5	A	B	C	D
6	A	B	C	D

İNGİLİZCE

CEVAP FORMU				
1	A	B	C	D
2	A	B	C	D
3	A	B	C	D
4	A	B	C	D
5	A	B	C	D
6	A	B	C	D

DOĞRU SEÇENEĞİN İÇİNİ TAMAMEN DOLDURUNUZ!

AD SOYAD:
SINIF:

ÖĞRETMEN TARAFINDAN DOLDURULACAK KISIMDIR

DOĞRU YANLIŞ BOŞ

TÜRKÇE _____

MATEMATİK _____

FEN BİLGİSİ _____

DİN KÜLTÜRÜ _____

SOSYAL BİLGİLER _____

İNGİLİZCE _____

TÜRKÇE

CEVAP FORMU				
1	A	B	<input checked="" type="radio"/>	D
2	A	B	C	<input checked="" type="radio"/>
3	A	B	<input checked="" type="radio"/>	D
4	A	B	C	<input checked="" type="radio"/>
5	A	B	<input checked="" type="radio"/>	D
6	<input checked="" type="radio"/>	B	C	D
7	A	B	C	<input checked="" type="radio"/>
8	A	<input checked="" type="radio"/>	C	D
9	<input checked="" type="radio"/>	B	C	D
10	A	B	<input checked="" type="radio"/>	D

11	A	B	C	<input checked="" type="radio"/>
12	<input checked="" type="radio"/>	B	C	D
13	A	<input checked="" type="radio"/>	C	D
14	A	B	C	<input checked="" type="radio"/>

MATEMATİK

CEVAP FORMU				
1	A	B	<input checked="" type="radio"/>	D
2	A	B	<input checked="" type="radio"/>	D
3	A	<input checked="" type="radio"/>	C	D
4	A	B	C	<input checked="" type="radio"/>
5	<input checked="" type="radio"/>	B	C	D
6	A	<input checked="" type="radio"/>	C	D
7	<input checked="" type="radio"/>	B	C	D
8	A	<input checked="" type="radio"/>	C	D
9	<input checked="" type="radio"/>	B	C	D
10	A	B	C	<input checked="" type="radio"/>

FEN BİL.

CEVAP FORMU				
1	<input checked="" type="radio"/>	B	C	D
2	A	<input checked="" type="radio"/>	C	D
3	A	B	<input checked="" type="radio"/>	D
4	A	B	<input checked="" type="radio"/>	D
5	<input checked="" type="radio"/>	B	C	D
6	A	B	C	<input checked="" type="radio"/>
7	A	<input checked="" type="radio"/>	C	D
8	A	B	C	<input checked="" type="radio"/>
9	A	B	<input checked="" type="radio"/>	D
10	<input checked="" type="radio"/>	B	C	D

DİKAB

CEVAP FORMU				
1	A	B	<input checked="" type="radio"/>	D
2	A	<input checked="" type="radio"/>	C	D
3	<input checked="" type="radio"/>	B	C	D
4	A	B	<input checked="" type="radio"/>	D
5	<input checked="" type="radio"/>	B	C	D
6	A	B	<input checked="" type="radio"/>	D

SOSYAL B.

CEVAP FORMU				
1	A	B	C	<input checked="" type="radio"/>
2	A	<input checked="" type="radio"/>	C	D
3	<input checked="" type="radio"/>	B	C	D
4	A	<input checked="" type="radio"/>	C	D
5	A	B	<input checked="" type="radio"/>	D
6	A	B	C	<input checked="" type="radio"/>

İNGİLİZCE

CEVAP FORMU				
1	A	B	<input checked="" type="radio"/>	D
2	A	B	C	<input checked="" type="radio"/>
3	<input checked="" type="radio"/>	B	C	D
4	A	<input checked="" type="radio"/>	C	D
5	A	B	<input checked="" type="radio"/>	D
6	A	B	C	<input checked="" type="radio"/>

DOĞRU SEÇENEĞİN İÇİNİ TAMAMEN DOLDURUNUZ!