

Tembel

Suzan çok tembel bir çocuktur. Canı bir şey yapmak istemezdi. Okula istemeye istemeye gider, ödev yapmayı sevmezdi.

Günlerden bir gün, sınıfa yeni bir öğrenci geldi. Merve çok çalışkan biriydi. Suzan, Merve ile iyi arkadaş oldu. Suzan da artık Merve gibi çalışkan olmak istiyordu.

1. Metnin anafikri aşağıdakilerden hangisidir?

- A) Tembellik iyi bir davranıştır.
- B) İnsanlar birbirini etkiler.
- C) Merve tembel bir çocuktur.

2. Metnin konusu hangisidir?

- A) Suzan'ın karnının acıkması.
- B) Merve'nin okula istemeyerek gitmesi.
- C) Suzan'ın Merve'den etkilenerek çalışmaya başlaması.

3. Suzan, neden çalışkan olmaya karar vermiştir?

- A) Suzan, Merve'nin çalışkan olmasından etkilenmiştir.
- B) Tembel olmaktan sıkılmıştır.
- C) Öğretmeni çalışkan olmasını istemiştir.

4. Mehmet, saat 14()30'da parka gelecek.

Yukarıdaki metinde () ile belirtilen yere hangi noktalama işareti gelmelidir?

- A) Nokta
- B) Ünlem işareti
- C) Kesme işareti

Görev	↔	Vazife
Özlem	↔	Hasret
Soru	↔	Yanıt

5. Yukarıdaki verilenlerden hangi sözcüğün eş anlamlısı yanlış olarak yazılmıştır?

- A) Özlem - hasret
- B) Soru - yaanıt
- C) Görev - vazife

6. Annem, mevsim salatasına tuz attı mı, atmadı mı?

Yukarıdaki cümle kaç sözcükten oluşmaktadır?

- A) 6
- B) 7
- C) 8

Bir elin nesi var,
iki elin sesi var

7. Yukarıdaki atasözümüzün anlamı hangisidir?

- A) İki elimizden ses çıkar.
- B) Kalabalıklar gürültülü yerlerdir.
- C) Zor işler beraber yapılırsa başarılabilir

8. "Afacan" sözcüğünün zıt anlamlısı aşağıdakilerden hangisidir?

- A) Açıkgoz
- B) Yaramaz
- C) Uslu



9. Yıldız yerine gelmesi gereken sayının en yakın yüzlüğe yuvarlanmış hali 400 olduğuna göre yıldız yerine aşağıdaki sayılardan hangisi gelebilir?

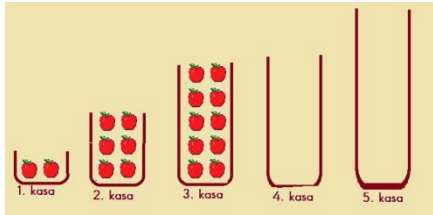
- A) 190
- B) 449
- C) 510

10.

256, 205, 310, 282, 255

Verilen sayıların, küçükten büyüğe doğru sıralanmış hali hangisidir?

- A) $205 < 256 < 255 < 310 < 2282$
- B) $310 < 282 < 256 < 255 < 205$
- C) $205 < 255 < 256 < 282 < 310$



11. Kasalardaki elmalar belirli bir kurala göre dizilmiştir.

Buna göre 5. Kasada kaç elma olması gerekir?

- A) 12
- B) 15
- C) 18



3. 0. 8

12. Peliin bazı rakamlar söylemiştir.
Bu rakamlar ile oluşturulabilecek 3 basamaklı en büyük tek sayı kaçtır?
- A) 803
 - B) 830
 - C) 308

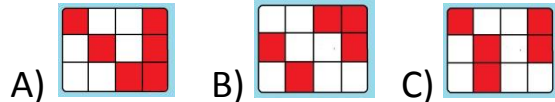


13. Buna göre Okan aşağıdaki sayılardan hangisini söylememiştir?

- A) 42
- B) 48
- C) 56

282	105	915	170
411	500	745	236
107	693	580	324

14. Yukarıdaki tabloda çift sayılar boyandığında tablo nasıl görünür?



$$\begin{array}{r} 324 \\ + 286 \\ \hline 610 \end{array}$$

A

$$\begin{array}{r} 435 \\ + 385 \\ \hline 810 \end{array}$$

B

$$\begin{array}{r} 249 \\ + 561 \\ \hline 710 \end{array}$$

C


15. Yukarıdaki toplama işlemlerinden hangisinin sonucu doğrudur?

- A) A
B) B
C) C

16. Aşağıdaki toplama işlemlerinin hangisinin sonucu çifttir?

- A) $IX + IV = ?$
B) $IV + VII = ?$
C) $VI + VIII = ?$

17. Aşağıdaki canlılardan hangisi hava katmanında yaşamaktadır?



18. Aşağıda verilen bilgilerden doğru olanların başındaki rakamlar işaretlenecektir.

- 1 Hava olayları, su tabakasında meydana gelir.
2 Hava katmanının diğer adı Atmosferdir.
3 Dünya'nın 4'te 3'ü sularla kaplıdır.
4 Yer kabuğu taş toprak ve kayalardan oluşur.

İşaretlenen rakamlar yukarıdan aşağı yazıldığında hangi sayı oluşur?

- A) 123 B) 234 C) 134

19. Uzaydan çekilen fotoğraflarda Dünya hangi renkte görülmektedir?

- A) Pembe
B) Yeşil
C) Mavi



20. Tatma alma ve dokunma duyu organlarımız hangi seçenekte doğru olarak verilmiştir?

- A) Göz – Kulak
B) Dil – Deri
C) Kulak – Dil

21. Hangisi duyu organlarımızdan değildir?

- A) Beyin B) Burun C) Göz



22. Duyu organı ve görevleri eşleştirmelerinden hangisi yanlıştır?

- A) A B) B C) C

23. Göz sağlığımız ile ilgili aşağıdakilerden hangisini yapmamız sakıncalıdır?

- A) Kitapları 30 cm mesafeden okumalıyız.
B) Televizyonu yakından izlememeliyiz.
C) Başkasının gözlüğünü takabiliriz.



24.

Caner kulak sağlığı ile ilgili bir afiş hazırlayacaktır. Verilen görsel ile ilgili olarak afişe neler yazmalıdır?

- A) İşitilebilir bir ses tonu ile konuşmalıyız.
- B) Gürültülü ortamlar kulak sağlığımızı olumsuz etkiler.
- C) Banyo yaparken kulaklarımızın içini de yıkamalıyız.


25. Aşağıdaki ifadelerden hangisi yanlıştır?

- A) Kesici ve delici cisimler derimize zarar verebilir.
- B) Yabancı maddeleri koklamamalıyız.
- C) Bütün sıvı maddelerin tadına bakabiliriz.

26. Aşağıdaki yerlerden hangisinin krokisi çizilemez?

- A) Dünya
- B) Sınıf
- C) Ev

27. Aşağıdakilerden hangisi arkadaşlık ilişkilerinde olmaması gereken bir davranıştır?



A)



B)



C)



28. Arkadaşımızla sorun yaşadığımızda, bu durumu nasıl çözmeliyiz?

- A) Arkadaşımız ile kavga ederek çözeriz.
- B) Bir şey yapmamıza gerek yoktur.
- C) Onunla konuşarak sorunumuzu çözmeliyiz.

29. Aşağıdakilerden hangisi sosyal yardımlaşma ve dayanışmaya örnek verilemez?

- A) Kardeş köy okuluna kitap toplama kampanyası düzenlemek.
- B) Beslenmesini unutan arkadaşımızla, beslenmemizi paylaşmak.
- C) Yetim çocuklara yardım kampanyasına katkıda bulunmak.

Okulumuzda gerçekleştirilen sosyal etkinliklerin çeşitli yararları vardır.

30. Aşağıdakilerden hangisi okullarda düzenlenen sosyal etkinliklerin yararlarından değildir?

- A) Kendimizi üzgün hissederiz.
- B) Kendimize olan güvenimiz artar.
- C) İnsanlarla iyi ilişkiler kurmamızı sağlar.

Ad Soyad :

Ne Kadar Öğrendim?

07/10/2024

CEVAPLAR

1B	2C	3A	4A
5B	6A	7C	8C
9B	10C	11C	12A
13C	14A	15A	16C
17B	18B	19C	20B
21A	22A	23C	24B
25C	26A	27C	28C
29B	30A		