



5. SINIF SOSYAL BİLGİLER

2. ÖĞRENME ALANI 1. ÖĞRENME ÇIKTISI AÇIK UÇLU SORULAR


YÖNERGE

**** Aşağıdaki açık uçlu soruların cevaplarını sorunun karşısındaki cevaplar yazan sütuna yazınız.

**** Birden çok cevabı olan sorular için numaralandırma yapılmıştır. Tüm numaralandırılan yerler doldurulmalıdır.

**** Sorular kolaylık ve takip açısından her kazanım için ayrı ayrı hazırlanmıştır.

Öğrenme Çıktısı: SB.5.2.1. Yaşadığı ilin göreceli konum özelliklerini belirleyebilme

S. NO	SORULAR	CEVAPLAR
1	Bir yerin ana ve ara yönler kullanılarak diğer yerlere göre konumunu ifade eden kavramdır.	
2	 <p>Verilen tabeladaki bilgiler neyi ifade etmektedir?</p>	
3	<p>Adana'nın batısında, Antalya'nın doğusundayım. Sertavul Geçidi ile Orta Anadolu'ya bağlanırım. Akdenizliyim, severim güneşi. Kış gelip kapıyı çalsa da aralar, lakin açmam kapıyı. Uzun sahil şeridimde kurulu seralarım. Limanım ile dünya ticaretine açılırım.</p> <p>Göreceli konumu verilen şehrin adı nedir?</p>	
4	<p>Konya'dan sonra yüz ölçümü en büyük il benim. Tam sekiz komşum var. İki bin metreden yüksektir dağlarım. Ülkemin en büyük nehri topraklarımda doğar. Bir yanda tarihî köklerim, Divriği Ulu Camii ile yükselirim. Bir yanda kongrem var, cumhuriyete erişirim.</p> <p>Verilen şehrin göreceli konum alanlarından hangileri ile ilgili bilgilere ulaşılabilir?</p>	<p>*</p> <p>*</p> <p>*</p> <p>*</p>





@sosyalhocasimustafa



@sosyalhocasimustafakarakus

S. NO	SORULAR	CEVAPLAR
5	<p>Ülkemizin Avrupa'ya kara ve demir yolu ile bağlantısını sağlayan beş sınır kapısına sahip, Yunanistan ve Bulgaristan sınırı boyunca uzanan, birçok anıt bulunan bir sınır ilidir.</p> <p>Göreceli konumu verilen şehrin adı nedir?</p>	
6	<p>Ülkemizin peribacaları ile ünlü ilidir. Bu ilimizde Göreme Millî Parkı, Karain Güvercinlikleri, Derinkuyu ve Kaymaklı yer altı şehirleri, Karlık ve Yeşilöz kiliseleri yer alır.</p> <p>Göreceli konumu verilen şehrin adı nedir?</p>	
7	<p>Bir ayağım Orta Karadeniz, diğeri Doğu Karadeniz. Çevremde Samsun, Giresun, Sivas ve Tokat... Topraklarım çok dağlıktır. Canik ve Giresun Dağları çevreler beni. Çambaşı ve Perşembe en meşhur yaylalarım. Vona Koyu, Karadeniz kıyısında doğal limanım.</p> <p>Göreceli konumu verilen şehrin adı nedir?</p>	
8	<p>Yükseltisi en fazla illerden biriyim. Adımı efsanelere konu olan dağımdan almışım. Fırat Nehri'nin en önemli koludur Murat Nehri'm. Güneyimde Van Gölü, Doğuda Gürbulak Sınır Kapısı ile Irak... Erzurum en geniş komşumdur benim.</p> <p>Göreceli konumu verilen şehrin adı nedir?</p>	
9	<p>Osman Furkan arkadaşı ile buluşmadan önce arkadaşına aşağıdaki bilgileri vermiştir.</p> <p>“Kaymakamlık binası karşısında, Şehir Parkı'nın yanındaki Belediye Kütüphanesinde seni bekliyor olacağım.”</p> <p>Buna göre Osman Furkan bulunduğu yerle ilgili hangi şeyi ifade etmiştir?</p>	
10	<p>Uluslararası ticaret potansiyeli en yüksek limanlarımızdan birine sahiptir. Ülkemizin muz üretiminin yaklaşık üç bölü dördü, çilek üretiminin yarısı ve limon üretiminin iki bölü üçü bu ilimizde yapılmaktadır.</p> <p>Göreceli konumu verilen şehrin adı nedir?</p>	



@sosyalhocasimustafa



@sosyalhocasimustafakarakus



5. SINIF SOSYAL BİLGİLER

2. ÖĞRENME ALANI 2. ÖĞRENME ÇIKTISI AÇIK UÇLU SORULAR

YÖNERGE

**** Aşağıdaki açık uçlu soruların cevaplarını sorunun karşısındaki cevaplar yazan sütuna yazınız.

**** Birden çok cevabı olan sorular için numaralandırma yapılmıştır. Tüm numaralandırılan yerler doldurulmalıdır.

**** Sorular kolaylık ve takip açısından her kazanım için ayrı ayrı hazırlanmıştır.

Öğrenme Çıktısı: SB.5.2.2. Yaşadığı ilde doğal ve beşerî çevredeki değişimi neden ve sonuçlarıyla yorumlayabilme

S. NO	SORULAR	CEVAPLAR
1	Doğada insan eli değmeden oluşan ve gezilip görülebilecek özelliği olan yerlere ne ad verilir?	
2	İnsanların, ihtiyaçlarını karşılamak amacıyla doğayı değiştirerek meydana getirdikleri farklı varlıklara ne ad verilir?	
3	Karalar üzerindeki dört tarafı kapalı çukurlardaki su birikintilerine ne ad verilir?	
4	Belirli yükseklikteki ve büyüklükteki çeşitli ağaçlar, çalılar, otsu bitkiler, mantarlar, mikroorganizmalar, böcekler ve hayvanlar bütününi içeren, topraklı alanda genellikle doğal yollardan oluşmuş bir kara ekosistemine ne ad verilir?	
5	Çevresine göre yüksekte kalan, tabandan zirveye doğru yamaçları eğimli yeryüzü şekillerine ne ad verilir?	
6	Akarsuların yataklarını derinleştirerek oluşturduğu “U” veya “V” şeklindeki uzun oluklara ne ad verilir?	
7	Devlet görevlilerinin veya din âlimlerinin mezarlarının bulunduğu oda şeklindeki yapıya ne ad verilir?	
8	Anadolu Selçuklu ve Osmanlı döneminde, hem kimsesizlerin ücretsiz olarak tedavi edildiği; hem de hekimlerin yetiştirildiği tıp eğitimine hizmet eden vakıf kuruluşlara ne ad verilir?	
9	İçinde kumaş, mücevher, silah ve benzeri değerli eşyanın satıldığı kapalı çarşıya ne ad verilir?	
10	Müslüman ülkelerde orta ve yükseköğretimin yapıldığı eğitim kurumlarının genel adına ne ad verilir?	





S. NO	SORULAR	CEVAPLAR
11	<p>1- Akarsu</p> <p>2- Müze</p> <p>3- Cami</p> <p>4- Ova</p> <p>Yukarıda verilen kavramların hangi varlık unsuru olduklarını yazınız.</p>	<p>1-</p> <p>2-</p> <p>3-</p> <p>4-</p>
12	<p>.....?.....; Küresel ısınma, teknolojik gelişmeler, nüfus artışı, beşerî çevrenin genişlemesi, doğal kaynakların bilinçsizce tüketilmesi, çevre kirliliği gibi sebeplerle zaman içinde değişikliğe uğrayabilmektedir.</p> <p>Metindeki ? işaretli yere hangi kavram gelmelidir?</p>	
13	<p>Yerleşik hayata geçen ilk insanların, yerleşim yerlerini akarsu, göl kenarları ve verimli tarım arazilerine kurmalarının temel amacı nedir?</p>	
14	<p>1- Yol ve köprü</p> <p>2- Ev ve apartman</p> <p>3- Park</p> <p>4- Hastane</p> <p>5- Okul</p> <p>6- Market</p> <p>Yukarıda verilen beşeri çevre unsurlarının hangi amaçlar için kullanıldığını yazınız.</p>	<p>1-</p> <p>2-</p> <p>3-</p> <p>4-</p> <p>5-</p> <p>6-</p>
15	<p>Doğal ve beşerî çevremizde yaşanan değişimler yaşadığımız ili birçok açıdan etkileyebilir. Örneğin çevremizdeki bir akarsuyun üzerine yapılan barajın, tarım, orman ve fabrikalara etkisini açıklayınız.</p>	<p>Tarım:</p> <p>Orman:</p> <p>Fabrika:</p>





S. NO	SORULAR	CEVAPLAR
16	<p>Toz fırtınalarının en önemli nedeni bitki örtüsünün tahrip olması</p> <p>"... İstanbul Üniversitesinden yapılan açıklamada özellikle ülkemizin iç kesimleri ve güneydoğusunda bitki örtüsünün tahrip edilmesiyle erozyonun arttığına, bunun sonucunda da toz fırtınalarının yaşandığına dikkat çekildi. Açıklamada toz fırtınalarının günlük yaşamı olumsuz etkilediği, hastalık sorunlarını tetiklediği ve ekili dikili alanlara zarar verdiği belirtildi..."</p> <p>(Genel ağdan alınmıştır.)</p> <p>1- Erozyonun artmasına sebep olan durum nedir?</p> <p>2- Toz fırtınalarına hangi afet sebep olmuştur?</p> <p>3- Toz fırtınaları hangi alanları etkilemiştir?</p>	<p>1-</p> <p>2-</p> <p>3-</p> <p>*</p> <p>*</p> <p>*</p>
17	<p>"Su Kardeşliği" projesi hazırlanmıştır. Bu proje kapsamında çocuklara yönelik su varlığının yaşam için önemi, su kirliliği, su tasarrufu, suyun sürdürülebilirliği ve su ayak izi konularında hazırlanan eğitim etkinlikleri gerçekleştirilmektedir.</p> <p>"Su Kardeşliği" projesini işbirliği yaparak uygulayan resmi ve sivil toplum kurumlarının adlarını yazınız?</p>	<p>Resmi kurum:</p> <p>Sivil toplum kurumu:</p>
18	<p>Ahmet: "Şimdi sizlere insanların doğayı değiştirmesine birkaç örnek vereceğim."</p> <p>* Köprü * Tünel * Yol</p> <p>Ahmet'in verdiği doğayı değiştiren beşeri unsur örnekleri hangi amaçla yapılmış olabilir?</p>	
19	<p>Ayşe: "Şimdi sizlere insanların doğayı değiştirmesine birkaç örnek vereceğim."</p> <p>* Tarla * Sera * Fabrika</p> <p>Ayşe'nin verdiği doğayı değiştiren beşeri unsur örnekleri hangi amaçla yapılmış olabilir?</p>	





5. SINIF SOSYAL BİLGİLER

2. ÖĞRENME ALANI 3. ÖĞRENME ÇIKTISI AÇIK UÇLU SORULAR

YÖNERGE

**** Aşağıdaki açık uçlu soruların cevaplarını sorunun karşısındaki cevaplar yazan sütuna yazınız.

**** Birden çok cevabı olan sorular için numaralandırma yapılmıştır. Tüm numaralandırılan yerler doldurulmalıdır.

**** Sorular kolaylık ve takip açısından her kazanım için ayrı ayrı hazırlanmıştır.

Öğrenme Çıktısı: SB.5.2.3. Yaşadığı ilde meydana gelebilecek afetlerin etkilerini azaltmaya yönelik farkındalık etkinlikleri düzenleyebilme

S. NO	SORULAR	CEVAPLAR
1	Yer kabuğundaki aniden oluşan sarsıntı ve titreşimlere ne ad verilir?	
2	“Tarihimizdeki büyük ve yıkıcı depremlerden biri 17 Ağustos 1999’da gerçekleşti. Binlerce can kaybı yaşanan bu depremde sonra bilim insanları “Deprem değil, ihmal öldürür.” açıklamasında bulundular. “Deprem değil, ihmal öldürür.” sözü ile bilim insanları neye dikkat çekmek istemişlerdir?	
3	* İlin afet ve acil durum tehlike ve risklerini belirlemek * Afet ve acil durum hazırlıklarını koordinasyon içinde yapmak, uygulamak ve uygulatmak * İl afet ve acil durum yönetim merkezini yönetmek, kesintisiz ve güvenli haberleşmeyi sağlamak Görevleri verilen İçişleri Bakanlığına bağlı olan kurumun adı nedir?	
4	Taş, toprak ve kayaların eğimli arazilerde kayarak yer değiştirmesidir. Açıklaması verilen kavramın adını yazarak bu doğal afetin en çok görüldüğü bölgenin adını yazınız?	* *









S. NO	SORULAR	CEVAPLAR
5	<p>Cumhuriyet tarihinin en büyük sel felaketi 1957 yılında Ankara’da meydana gelmiş ve 169 kişi hayatını kaybetmiştir. Buna, Hatip Çayı Vadisi’nin yerleşime açılması neden olmuştur. Ağaçların bilinçsizce kesilmesi ve yamaçlarda teraslama yapılmaması da selin zararlarını artırır.</p> <p>Ankara’da meydana gelen sel felaketine sebep olan ifadeleri yazınız?</p>	<p>*</p> <p>*</p>
6	<p>Türkiye’deki afetlerin %61’ini deprem %15’ini erozyon, %14’ünü sel, %5’ini heyelan, %4’ünü orman yangını, %1’ini çığ oluşturuyor. 20. yüzyılın başından bu yana meydana gelen doğal afetlerde yaklaşık 100 bin insan hayatını kaybetmiş, 175 bin insan yaralanmış, yaklaşık 650 bin konut yıkılmış ya da ağır hasar görmüştür.</p> <p>1- Ülkemizde en fazla yaşanan afet nedir?</p> <p>2- Afetlerde, insanlar en çok nasıl zarar görmüştür?</p> <p>3- Afetlerden en çok etkilenen durum nedir?</p> <p>Metne göre soruların cevaplarını yazınız?</p>	<p>1-</p> <p>2-</p> <p>3-</p>
7	<p>Erozyonu önlemek için alınması gereken tedbirleri maddeler halinde yazınız?</p>	<p>1-</p> <p>2-</p> <p>3-</p> <p>4-</p>
8	<p>Dağ’ın yüksek yerindeki büyük kar kütlelerinin koparak yuvarlanmasıdır.</p> <p>Açıklaması verilen kavramın adını yazarak bu doğal afetin en çok görüldüğü bölgenin adını yazınız?</p>	<p>*</p> <p>*</p>





S. NO	SORULAR	CEVAPLAR
9	Kurak, yarı kurak, yarı nemli alanlarda iklim değişimleri ve insan faaliyetleri neticesinde oluşan arazi tahribatına ne ad verilir?	
10	Doğada havadaki basınç değişimlerine bağlı olarak oluşan, kendi eksenini etrafında dönerek hareket edebilen, yüksek hızlara ulaşabilen ve yıkıcı etkileri olan şiddetli bir rüzgâr çeşidine ne denir?	
11	Yeryüzü hareketlerine bağlı ortaya çıkan afetler nelerdir?	* *
12	1- Kuraklık 2- Çölleşme Verilen afetlerin oluşmasında etkili olan faktörleri yazınız.	1- 2-
13	 (1)  (2)  (3)  (4) Görselleri verilen afetlerin adlarını yazınız	1- 2- 3- 4-





S. NO	SORULAR	CEVAPLAR
14	<p>1980 yılında, Amerika Birleşik Devletleri'nde yaşanan Helens Yanardağı patlamasında 57 kişi hayatını kaybetti. 200 ev, 47 köprü, 24 kilometre demir yolu ve 300 kilometre kara yolu tahrip oldu.</p> <p>Bu olay, insanların hangi alanlarda etkilemiştir?</p>	<p>*</p> <p>*</p> <p>*</p>
15	<p>* Bulaşıcı ve salgın hastalıkların çıkmasına neden olur (Tifo, tifüs, sarılık vb.).</p> <p>* Yerleşim yerinin alt yapısını bozar.</p> <p>* Yörenin ekonomik yapısını bozar.</p> <p>* Psikolojik olarak moral bozukluğuna neden olur.</p> <p>Afetlerin toplum hayatına etkisi ile ilgili verilenlerden sağlıkla ilgili olmayan etkileri belirten ifadeleri yazınız?</p>	<p>*</p> <p>*</p>
16	<p>Afetlerin belli bölgelerde meydana gelme olasılığının daha yüksek olduğunu artık biliyoruz. Bu, büyük ölçüde yer kabuğundaki fayların hareket etmesinden kaynaklanmaktadır.</p> <p>Metinde insan yaşamına çok büyük etkisi olan hangi afetten bahsedilmiştir?</p>	
17	<p>1-</p> <p>Art arda deprem olunca okullar tatil edildi.</p> <p>Düzce'nin Gölyaka ilçesinde sabah saatlerinde art arda meydana gelen hafif şiddette 4 depremin ardından okullar tatil edildi.</p> <p>2-</p> <p>Sanayi vurgun yedi</p> <p>Deprem bölgelerindeki fabrikalar zor durumda. İki gündür üretim yapılmıyor.</p> <p>Verilen gazete haberlerinin hangi alanları etkilediğini yazınız?</p>	<p>1-</p> <p>2-</p>





@sosyalhocasimustafa



@sosyalhocasimustafakarakus

5. SINIF SOSYAL BİLGİLER

2. ÖĞRENME ALANI 4. ÖĞRENME ÇIKTISI AÇIK UÇLU SORULAR

YÖNERGE

**** Aşağıdaki açık uçlu soruların cevaplarını sorunun karşısındaki cevaplar yazan sütuna yazınız.

**** Birden çok cevabı olan sorular için numaralandırma yapılmıştır. Tüm numaralandırılan yerler doldurulmalıdır.

**** Sorular kolaylık ve takip açısından her kazanım için ayrı ayrı hazırlanmıştır.

Öğrenme Çıktısı: SB.5.2.4. Ülkemize komşu devletler hakkında bilgi toplayabilme

S. NO	SORULAR	CEVAPLAR
1	1- Bulgaristan 2- Ermenistan 3- Irak Verilen ülkemizin komşularının başkentlerini yazınız.	1- 2- 3-
2	1- Türkçe 2- Farsça 3- Arapça-Kürtçe Verilen resmi dillerin ülkemizin hangi komşularına ait olduğunu yazınız.	1- 2- 3-
3	1- Leva 2- Lari 3- Dinar Verilen para birimlerinin ülkemizin hangi komşularına ait olduğunu yazınız.	1- 2- 3-
4	Ülkemizin kuzeybatısı ve batısına olan komşuların adlarını yazınız.	1- 2-
5	Ülkemizin kuzeydoğusunda olan komşuların adlarını yazınız.	1- 2-



@sosyalhocasimustafa



@sosyalhocasimustafakarakus



@sosyalhocasimustafa



@sosyalhocasimustafakarakus

S. NO	SORULAR	CEVAPLAR
6	Ülkemizin güneyinde yer alan en uzun kara sınırımızın olduğu ilke nedir?	
7	<div><div> (1)</div><div> (2)</div><div> (3)</div><div> (4)</div></div> <p>Verilen komşu ülke bayraklarının hangi ülkelere ait olduğunu yazınız.</p>	<div><div>1-</div><div>2-</div><div>3-</div><div>4-</div></div>
8	<div><div> (1)</div><div> (2)</div><div> (3)</div><div> (4)</div></div> <p>Verilen komşu ülke bayraklarının hangi ülkelere ait olduğunu yazınız.</p>	<div><div>1-</div><div>2-</div><div>3-</div><div>4-</div></div>



@sosyalhocasimustafa



@sosyalhocasimustafakarakus



@sosyalhocasimustafa



@sosyalhocasimustafakarakus

2. ÖĞRENME ALANI AÇIK UÇLU SORULAR CEVAP ANAHTARI

2. ÖĞRENME ALANI 1. ÖĞRENME ÇIKTISI CEVAP ANAHTARI			
S. NO	CEVAPLAR	S. NO	
1	Göreceli konum	6	Nevşehir
2	Yaklaşmakta olduğumuz veya gitmek istediğimiz yere göre mevcut konumumuzu ifade etmektedir.	7	Ordu
3	Mersin	8	Ağrı
4	* Çevre iller * Yeryüzü şekilleri * Tarihi mekân * Siyasi olaylar	9	Göreceli konum
5	Edirne	10	Mersin



@sosyalhocasimustafa



@sosyalhocasimustafakarakus



@sosyalhocasimustafa



@sosyalhocasimustafakarakuş

2. ÖĞRENME ALANI

2. ÖĞRENME ÇIKTISI CEVAP ANAHTARI

S. NO	CEVAPLAR	S. NO	
1	Doğal varlık	11	1- Doğal 2- Beşeri 3- Beşeri 4- Doğal
2	Beşeri varlık	12	Doğal çevre
3	Göl	13	Su ve gıda ihtiyacını karşılamaktır.
4	Orman	14	1- Ulaşım 2- Barınma 3- Dinlenme ve eğlenme 4- Sağlık 5- Eğitim 6- Alışveriş
5	Dağ	15	Tarım: Kurak topraklara sulama imkanı sunar. Orman: Ormanlık alanların sular altında kalmasına sebep olur. Fabrika: İlin göç almasını sağlayıp nüfusunu artırır.
6	Vadi	16	1- Bitki örtüsünün tahrip edilmesidir. 2- Erozyon 3- * Günlük yaşam * Sağlık * Tarım



@sosyalhocasimustafa



@sosyalhocasimustafakarakuş



@sosyalhocasimustafa



@sosyalhocasimustafakarakus

7	Türbe	17	Resmi kurum: T.C. Millî Eğitim Bakanlığı Sivil toplum kurumu: TEMA (Türkiye Erozyonla Mücadele, Ağaçlandırma ve Doğal Varlıkları Koruma Vakfı)
8	Şifahane	18	Ulaşım yapmak
9	Bedesten	19	Üretim yapmak
10	Medrese		



@sosyalhocasimustafa



@sosyalhocasimustafakarakus



2. ÖĞRENME ALANI

3. ÖĞRENME ÇIKTISI CEVAP ANAHTARI

S. NO	CEVAPLAR	S. NO	
1	Deprem	10	Hortum
2	Binaların deprem yönetmeliğine uyulmadan sağlam yapılmadığına, yapılmaması gereken yerlere yapıldığına, yapılırken yeterince kontrol edilmediğine	11	* Deprem * Kaya düşmesi
3	AFAD (Afet ve Acil Durum Yönetimi Başkanlığı)	12	1- Hava durumu ve iklim kaynaklı 2- İklim, yeryüzü hareketleri ve insan faaliyetleri
4	* Heyelan * Karadeniz	13	1- Obruk 2- Orman yangını 3- Heyelan 4- Şimşek
5	* Hatip Çayı Vadisi'nin yerleşime açılması neden olmuştur. * Ağaçların bilinçsizce kesilmesi ve yamaçlarda teraslama yapılmaması	14	* Yaşam * Barınma * Ulaşım
6	1- Deprem 2-Yaralanarak zarar görmüşlerdir. 3- Konutların yıkılması veya hasar görmesi	15	* Yerleşim yerinin alt yapısını bozar. * Yörenin ekonomik yapısını bozar.
7	1-Araziler ağaçlandırılmalıdır. 2- Tarım arazileri eğime dik sürülmelidir. 3- Mera hayvancılığı yerine besi hayvancılığı yapılmalıdır. 4- Tarım arazileri bol sulanmamalıdır.	16	Depremden bahsedilmiştir.
8	* Çığ * Doğu Anadolu	17	1- Eğitim 2- Ekonomi
9	Çölleşme		





@sosyalhocasimustafa



@sosyalhocasimustafakarakus

2. ÖĞRENME ALANI

4. ÖĞRENME ÇIKTISI CEVAP ANAHTARI

S. NO	CEVAPLAR	S. NO	
1	1- Sofya 2- Erivan 3- Bağdat	5	1- 2-
2	1- Nahçıvan (Azerbaycan) 2- İran 3- Irak	6	Suriye
3	1- Bulgaristan 2- Gürcistan 3- Irak	7	1- Gürcistan 2- Bulgaristan 3- Ermenistan 4- Yunanistan
4	1- Bulgaristan 2- Yunanistan	8	1-Nahçıvan (Azerbaycan) 2- İran 3- Irak 4- Suriye



@sosyalhocasimustafa



@sosyalhocasimustafakarakus