

10. SINIF COĞRAFYA DERSİ

1. DÖNEM 1. ORTAK YAZILI SENARYOLARINA YÖNELİK SORU ÖRNEKLERİ

Senaryolar, okul genelinde yapılacak ortak sınavlara yönelik oluşturulabilecek farklı yazılı örneklerini ifade eder. Genel Müdürlüğümüzce eğitim kurumu sınıf/alan zümrelerine örnek oluşturması açısından konu soru dağılım tablosunda verilen örnek senaryolarda yer alan kazanımlardan bazılarına yönelik soru örnekleri hazırlanmıştır.

Okul genelinde uygulanacak ortak sınavlar, eğitim kurumu sınıf/alan zümreleri tarafından ilan edilen konu soru dağılım tabloları göz önünde bulundurularak açık uçlu veya açık uçlu ve kısa cevaplı sorulardan oluşacak şekilde yapılacaktır. Çoktan seçmeli, eşleştirme, doğru/yanlış gibi diğer soru türleri kesinlikle kullanılmayacaktır.



1. dönem konu soru dağılım tablolarına ulaşmak için karekodu okutunuz.




Soru çözümlerine ulaşmak için karekodu okutunuz.

Not: Soru örneklerinin kazanımları, öğretmenlerimizin kazanım ve soruları eşleştirmesi için verilmiş; bilgilendirme amaçlıdır. Yapılacak olan yazılı sınavlarda bu kazanım ifadelerine sınav kâğıtlarında yer verilmeyecektir.

Kazanım: 10.1.1. Dünya'nın tektonik oluşumunu açıklar.

1. Yer kabuğu bir bütün hâlinde değildir, parçalara ayrılmıştır. Farklı büyüklükteki yer kabuğu parçalarının her birine levha denir. Bu levhalar mantonun üst kısmındaki konveksiyonel akıntılara bağlı olarak hareket eder.

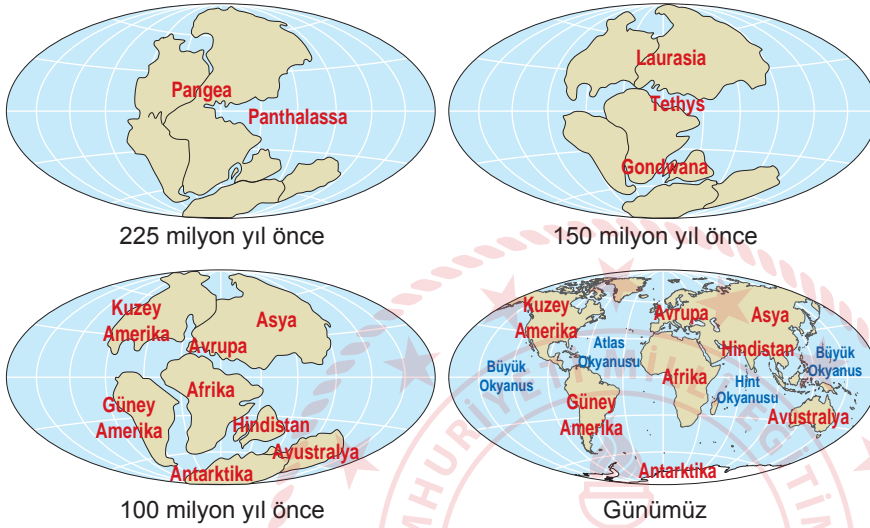
Buna göre aşağıdaki levha hareketlerini açıklayarak sonuçlarını yazınız.





Kazanım: 10.1.1. Dünya'nın tektonik oluşumunu açıklar.

2. Şekilde Dünya'nın zaman içerisinde geçirdiği tektonik değişim aşamaları gösterilmiştir.



Aşamaları inceleyerek Dünya'nın geçirmiş olduğu tektonik değişimi açıklayınız.

Kazanım: 10.1.2. Jeolojik zamanların özelliklerini tektonik olaylarla ilişkilendirerek açıklar.

3. Aşağıdaki haritada Anadolu levhası, çevresindeki levhalar ve bunların hareket yönleri verilmiştir.

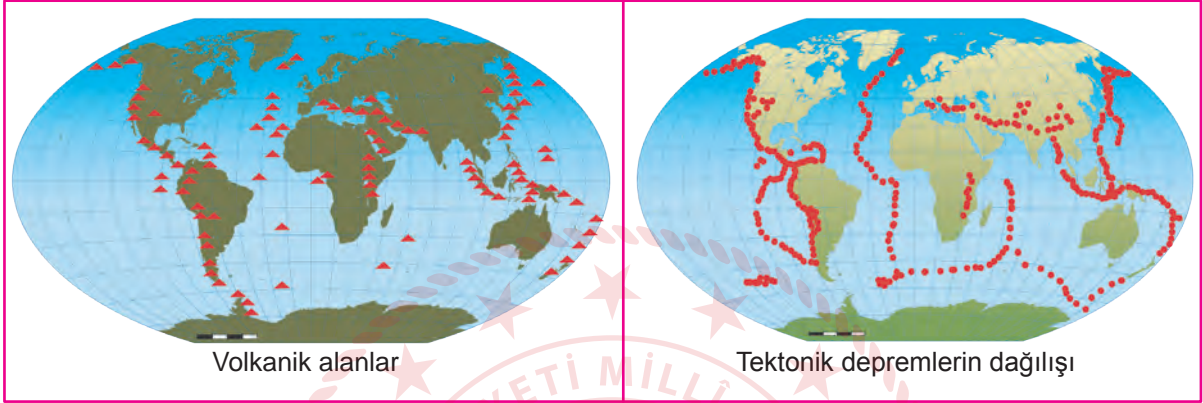


Buna göre haritada gösterilen levhaların, Türkiye'nin tektonik yapısını nasıl etkilediğini açıklayınız.



Kazanım: 10.1.3. İç kuvvetleri; yer şekillerinin oluşum sürecine etkileri açısından açıklar.

4. Aşağıdaki haritalarda Dünya'daki volkanik alanlar ile tektonik depremlerin dağılışı gösterilmiştir.



Volkanik alanlar ile tektonik depremlerin dağılışının paralellik göstermesinin nedenini yazınız.



1. SINAV

COĞRAFYA 10

Kazanım: 10.1.4. Kayaçların özellikleri ile yeryüzü şekillerinin oluşum süreçlerini ilişkilendirir.

5. Kayaçların aşınmaya karşı direnci ile yeryüzü şekillerinin oluşumu arasındaki ilişkiyi bir örnekle açıklayınız.

