

DOĞAL SAYILARLA TOPLAMA VE ÇIKARMA İŞLEMİ GEREKTİREN PROBLEMLER



1. Bir çiftlikte 2771 tane hayvan vardır. Bu hayvanların 1300'ü tavuk, 1184'ü keçi, geriye kalanlar ise civcivdir. Buna göre civciv sayısı kaçtır?

2. Köyümüzde 1537 çam ağacı, çam ağacından 179 az fınar ağacı vardır. Köyümüzdeki toplam ağaç sayısı kaçtır?

3. Osman'ın 1488 TL'si vardır. Mine'nin parası Osman'ın parasından 981 TL eksiktir. Alper'in parasında Mine'nin parasından 83 TL fazladır. Buna göre üç kişinin paraları toplamı kaçtır?

4. 4 basamaklı rakamları farklı en küçük tek sayının 3500 fazlasının 999 eksiği kaçtır?

5-


Kira	1500 TL
Kredi	1665 TL
Mutfak Gideri	1000 TL
Faturalar	1280 TL

2-

Tabloda Perihan Hanım'ın bir ay içinde yaptığı harcamalar gösterilmiştir. Perihan Hanım'ın maaşı 9850 TL olduğuna göre maaşından kalan para kaç TL'dir?

6- Rıza çarşamba günü 1027 km, perşembe günü 1246 km yol gitmiştir. Rıza üç günde 7865 km yol gittiğine göre cuma günü kaç km gitmiştir?

7- Bir kamyon 8500 kg kumun önce 2568 kg'ını sonra 3926 kg'ını taşıyor. Kamyonun taşıyacağı kaç kg kum kalmıştır?

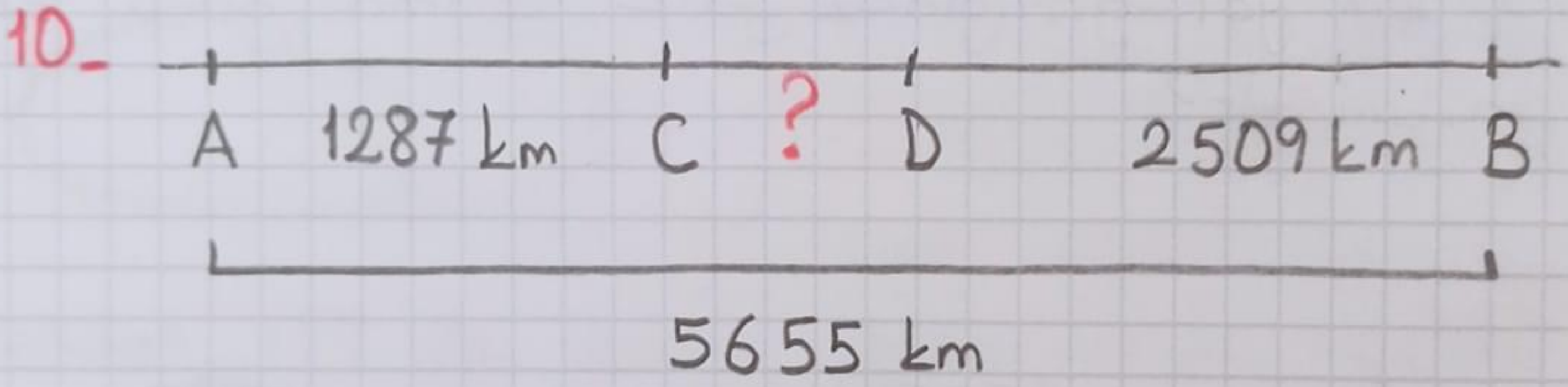


8- 7, 0, 3, 2 rakamlarıyla oluşturulan en büyük ve en küçük çift sayıların toplamının 5115 eksiği kaçtır?



Problem çözmek
çok eğlenceli.


9. Bir terziğin 5397 m kumaşı vardır. 1328 m'sini etekler için 2016 m'sini gömlekler için kullanıyor. Terzinin elinde kaç m kumaşı kalmıştır?



Yukarıda verilen uzaklıklara göre C ile D arası kaç km olur?

11. En yakın yüzlüğe yuvarlandığında 3400 olan en büyük ve en küçük sayının toplamının 1500 eksigi kaçtır?

12. En yakın yüzlüğe yuvarlandığında 2700 olan en büyük ve en küçük sayının toplamının 1340 eksigi kaçtır?



13.- Bir trende 2196 erkek, erkeklerden 594 eksik kadın yolcu vardır. Buna göre trende kaç yolcu vardır?

14.- Bahçedeki 6350 kg domatesin 1237 kilosu ile salça, 2188 kilosu ile konserve yaptık. Geri kalanını sattığımıza göre kaç kg domates satılmıştır?

15.- Bir televizyon 5500 TL, bulaşık makinesi televizyondan 1250 TL ucuzdur. İkisini alıp 7000 TL verdiğime göre kaç TL borcum kaldı?

16.- Bir basketbol maçını 1413 kadın, 1715 erkek, 952 çocuk izlemektedir. Salon 6000 kişilik olduğuna göre kaç koltuk boş kalmıştır?

17.- Müge Hanım'ın 6820 TL'si vardır. 1385 TL'si ile gömlek, 2560 TL'si ile pantolon alırsa geriye kaç TL'si kalır?

18.



Bot 2570 TL



Pantolon 1830 TL



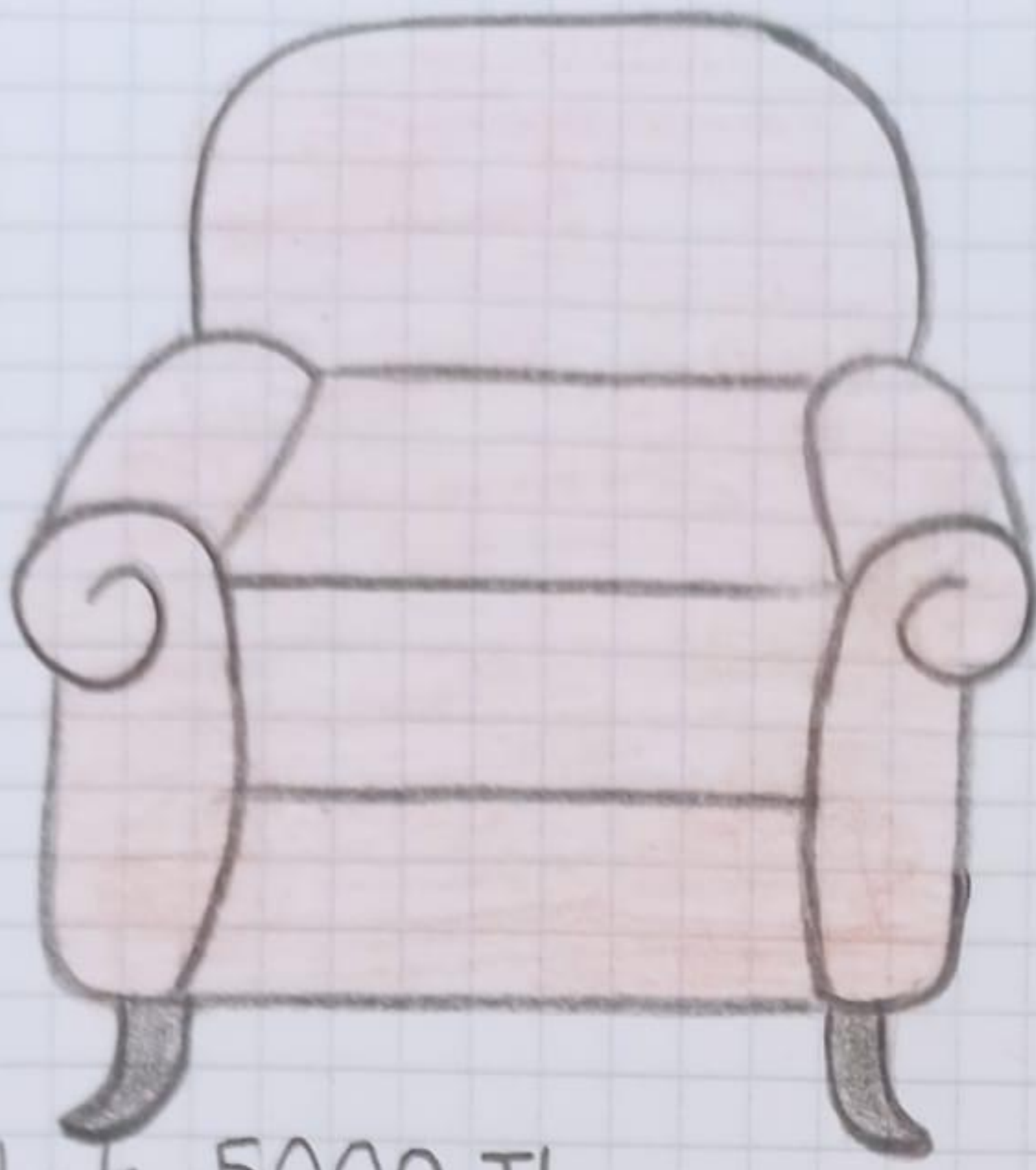
Yelek 1200 TL

Yukarıdaki ürünleri alan Bilge'ye satıcıya 4000 TL verirse kaç TL borcu kalır?

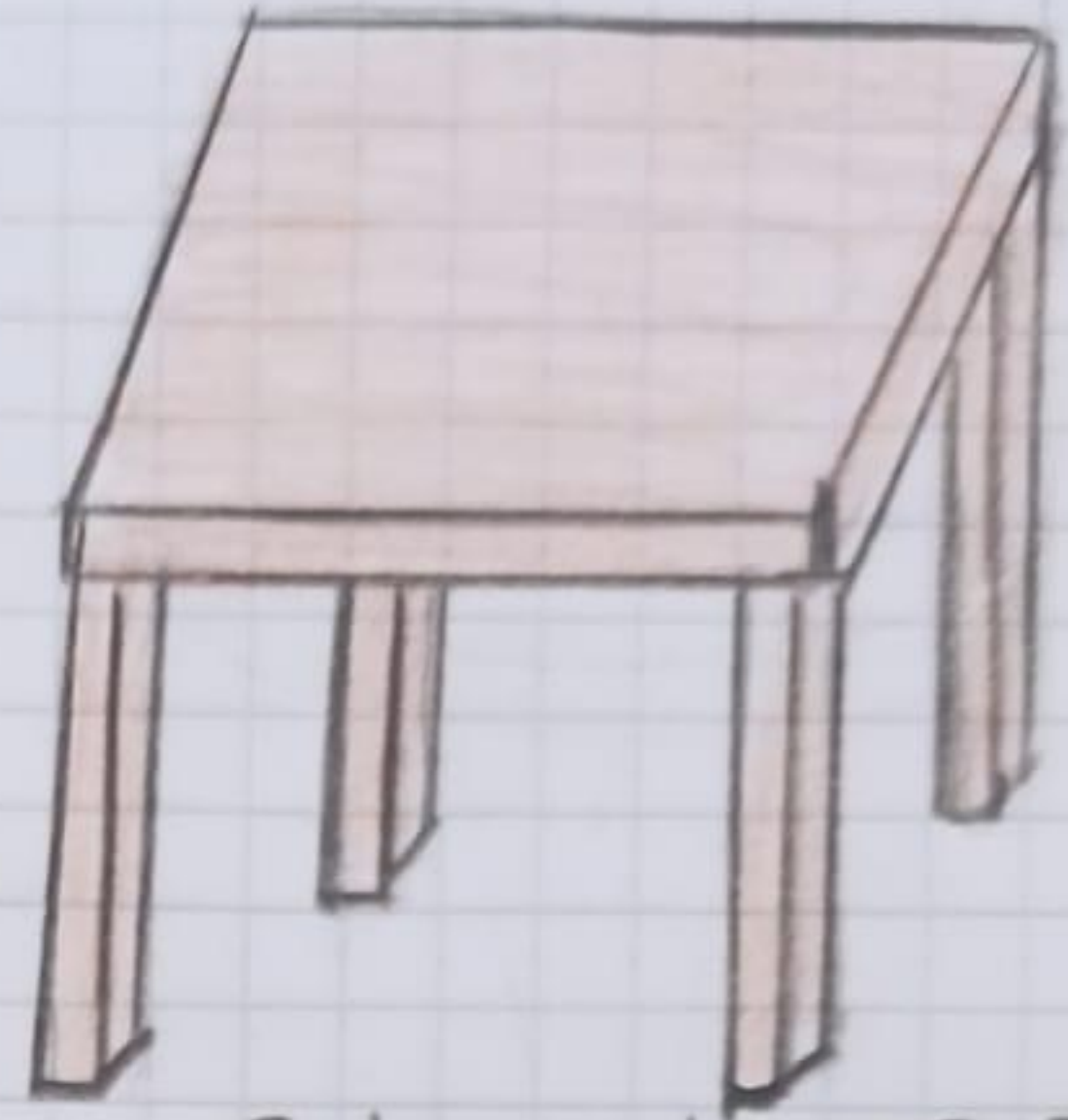
19. Bir koşucu 1. gün 3045 m. 2. gün bundan 1250 m az koşmuştur. Buna göre koşucu iki günde toplam kaç m koşmuştur?

20. Annem bana 2625 TL verdiğinde 6000 TL param oluyor. 1965 TL verirse kaç liram olur?

21. 6, 5, 8, 1 rakamlarıyla oluşturan 4 basamaklı en büyük ve en küçük sayıların en yakın yüz-lüğe göre tahmini farkının 900 fazlası kaç olur?




Koltuk 5000 TL



Sehpa 1370 TL

22- Yukarıdaki görsellerde verilene uygun toplama ve çıkarma işlemi gerektiren bir problem kurunuz ve çözünüz.



Kiraz 1428 kg



Kayısı 2590 kg



Çilek 1273 kg

23- Yukarıdaki görsellerde verilene uygun toplama ve çıkarma işlemi gerektiren bir problem kurunuz ve çözünüz.

HAK VE ÖZGÜRLÜKLER İHLAL EDİLEMEZ



♥ Çocuk Hakları Bildirisi, her dilden, dinden, cinsiyetten, ırktan çocukları koruyan bir bildiridir. Her çocuk bu hak ve özgürlüklere çaba göstermeden sahip olur.

♥ Fakat bazı çocuklar yaşadıkları olaylar nedeniyle hak ve özgürlüklerinin ihlaliyle karşılaşabilir.

♥ Hak ve özgürlüklerimizin ihlal edildiği durumlarda kendimizi

- Değersiz
- Dışlanmış
- İncinmiş
- Öfkeli hissedebiliriz.

İnsanlara karşı güvenimiz azalır ve insanlarla sağlıklı ilişkiler kuramayız.

♥ Hak ve özgürlükleri kısıtlanan bireylerin de olabileceğini düşünerek onlara karşı duyarlı olmalıyız. Kendi hak ve özgürlüklerimizin ihlal edilmesini istemediğimiz gibi başkalarının hak ve özgürlüklerinde ihlal edilmemesi için elimizden geleni yapmalıyız.

BİR DUA TANIYORUM

SÜBHANEKE DUASI VE ANLAMI

İnsanın bütün samimiyetiyle Yüce AL lah'a yönelmesi, isteklerini O'na iletmesi, O'ndan yardım dilemesi ve O'na güvenmesine **dua** denir.

Sübhâneke duası;

- ♥ Allah'ın yüceliğini ifade eder.
- ♥ Çocuklara ilk öğretilen dualardandır.
- ♥ Tekbir ile namaza başladıktan sonra ilk olarak bu dua okunur ve her namazda Allah'ın yüceliği duılır.
- ♥ Cenaze namazlarında okunur.

Okunuşu

Sübhâneke Allahümme
ve bihamdik
Ve tebara kesmük
Ve teâlâ ceddük
(Ve celle senâük)
Ve la ilahe gayruk

Anlamı

Allah'ım! Sen tüm
ekbâliklerden, kurur
ve ayıplardan uzak-
sın, seni hep böyle
överim. Senin adın
kutludur. Varlığın her
şeyden üstündür
(Senin zannın yücedir)
Senden başka ilah
yoktur.

★ Sübhâneke duasında geçen "Ve celle senâük" sadece cenaze namazında okunur. Onun dışındaki namazlarda okunmaz.

TEKRAR EDELİM

2

1. Allah'ın güzel söz ve davranışlarımıza verdiği karşılığa denir.

Yukarıdaki cümlede noktalı yere hangisi gelmelidir?

A) Besmele
C) Günah

B) Sevap
D) Helal

2. Aşağıdakilerden hangisi günlük konuşmalarımızda kullandığımız selamlaşma ifadelerinden birisi değildir?

A) Selamün Aleyküm
C) Maşallah

B) Hayırlı sabahlar
D) Merhaba

3. Müslümanların Hz. Muhammed'e (s.a.v.) olan sevgilerini ve saygılarını göstermek için kullandıkları dua ifadesine ne denir?

A) İnşallah B) Tekbir C) Besmele D) Salavat

4. Aşağıdakilerden hangisi Allah'a (c.c.) şükür ifadelerinden biri değildir?

A) Hamdolsun

B) Salavat

C) Elhamdülillah

D) Allah'im sana şükürler olsun.

5. Aşağıdaki boşlukları uygun sözcüklerle dolduralım.

■ Yemek yemeye başlarken deriz.

■ Allah'ın (c.c.) hoşlanmadığı işi yapmaktır.

■ Tekbir demektir.

■ Dinimizde yasaklanan işleri yapan kişi işlemiş olur.

■ Hasta ziyaretine gittiğimizde hastaya deriz.

■ Bir hata yaptığımızda Yüce Allah'tan af dilemek için deriz.

GÜVENLİ YOLLARI KULLANALIM



Kara yollarında yol ve trafik güvenliğinin sağlanması için yol çizgileri, trafik işaret levhaları, ışıklı işaret cihazları, alt ve üst geçitler ile aydınlatma cihazları vardır. Böyle yollara **güvenli yollar** denir.

Bir yolun güvenli olabilmesi için yolda;

- ♥ Yaya kaldırımı,
- ♥ Alt ve üst geçitler,
- ♥ Işıklı trafik işaret cihazı
- ♥ Trafik işaret levhaları
- ♥ Yol çizgileri bulunmalıdır.

Bu sayılanların olmadığı çukurların, tümseklerin bulunduğu yollar **güvenli olmayan yollardır**.

Yol ve trafik güvenliğinin sağlanması için güvenli yolları tercih etmeliyiz. Güvenli olmayan yolları kullanmak zorunda kalırsak çok dikkatli olmalıyız. Aksi halde can ve mal güvenliğimizi tehlikeye atmış oluruz.

Gideceğimiz yere güvenli bir şekilde ulaşmak, kısa sürede ulaşmaktan daha önemlidir.

ÇALIŞMA SAYFASI




1. Aşağıdaki cümlelerdeki başluk-
ları uygun kelimelerde dolduralım.

kavşaklar	kazalara	güvenli	
yolları	can	polis	geçerken
alt geçitli	güvenlik	yaya	

1. Güvenli yolları seçmek _____ güvenliğimiz için çok önemlidir.
2. _____ olan yollar güvenli yollardandır.
3. _____ yolları kullanmalıyız.
4. Yol uzun da olsa güvenli _____ tercih etmeliyiz.
5. Bütün yollarda _____ önlemleri alınmamış olabilir.
6. _____ güvenli yollardandır.
7. Karşıya _____ güvenli yolları kullanmalıyız.
8. _____ geçidi olan yollar güvenli yollardır.
9. Güvenli olmayan yolları kullanmak _____ neden olabilir.
10. Hiçbir işaretin olmadığı _____ güvenli yerlerden değildir.

Ç. SAĞLIĞA ZARARLI MADDELER ①



Sigara

Sağlıklı bir hayat yaşamak için sağlığa zararlı maddelerden uzak durmalıyız. Sigara ve alkol sağlığa zararlı maddeler arasındadır. Sigara ve alkol kullanımı gibi zararlı alışkanlıkların sağlığı olumsuz etkilediği bilinmesine rağmen birçok kişi bu maddeleri kullanmaya devam etmektedir. Bunun nedeni sigara ve alkol bağımlılık yapan maddelerin bulunmasıdır. Sigara-
daki bağımlılık yapan maddeye **nikotin** denir. Böyle zararlı alışkanlıklar edinildiğinde hem kullanan kişi hem de kişinin yakın çevresi bundan olumsuz etkilenmektedir.

Sigaranın Vücudumuza Verdiği Zararlar

- Solunumda görev yapan organ ve yapıları tahrip ederek bronşit, astım gibi hastalıklara sebep olur.
- Kalp ve damar hastalıklarının oluşmasına sebep olur.



Alkol

■ Uyku bozukluğu, iştahsızlık ve strese sebep olur.

■ Solunumda görev yapan akciğer ve gırtlak başta olmak üzere tüm organları etkileyerek kanser riskini artırır.

■ Yaşam süresini kısaltarak erken yaşta ölümlere sebep olur.

Alkolün Vücudumuza Verdiği Zararlar

■ Kişinin bilincini kaybetmesine neden olur.

■ Kansere yakalanma riskini artırır.

■ Kalbin ritmini bozarak kanın vücutta sağlıklı dolaşımını engeller.

■ Unutkanlığa neden olur.

■ Solunum, sindirim ve boşaltımda görev yapan organ ve yapılarda hasarlara yol açar.



- Sigaranın sağlığa olan zararlarının yanında çevreye de büyük zararı vardır. Çevreye atılan izmaritler çevre kirliliğine neden olur. Benzer şekilde alkol kutuları ve şişeleri çevreye atıldığında kirliliğe neden olur.



- Alkol, sigara ve bağımlılık yapan maddelerin kullanıldığı yerlerden uzak durmak bizi bu alışkanlıklardan korur.

- Alkol ve sigara gibi maddelerden uzak durmanın bir diğer yolu spor yapmaktır.

- Ülkemizde çeşitli yasalar ile sigara bağımlılığının önüne geçilmeye çalışılmaktadır. Bu yasalarla kapalı alanlarda örneğin;


Kamu binalarında,

Toplu taşıma araçlarında,

Lokantalarda vb. sigara içmek yasaklanmıştır.

- En son çıkan bu kanun **Dumansız Hava Sahası** adıyla yürütülmektedir.

- Ülkemizde alkol ve sigara gibi zararlı maddelerle mücadele etmeyi amaçlayan kuruluşlar vardır. Bunlardan en önemlisi **Yeşilay Cemiyeti**dir.



ÖĞRENDİKLERİMİZİ TEKRAR EDELİM

①

1. Aşağıdaki ifadelerden doğru olanlara **D**, yanlış olanlara **Y** yazalım.

Her ülkenin kendine ait bir kültürü vardır.

Kimlik kartımızda T.C. kimlik numaramız yazılıdır.

Kronolojide tarihler önemli değildir.

Her insanın parmak izi farklıdır.

İnsanların kişisel ve fiziksel özellikleri bir birinden farklıdır.



2.

Müge bisiklet sürmeyi ve piyano çalmayı çok sever. Kimi zaman çok yardımsever ve anlayışlı kimi zaman da çok öfkeli. Öğretmeni resim yapma konusunda çok başarılı olduğunu söyler.

Metinden yararlanarak Müge'nin ilgi, yetenek ve duygusal özelliklerini yazalım.

İlgisi	Yetenek	Duygusal özellikler

3. Aşağıdaki kelimelerden yararlanarak boşlukları dolduralım.

kışıye - kronoloji - akıllı - saygı
fotoğraflardan - geleneksel

■ Olayların oluş sırasına göre sıralanmasına denir.

■ Bireylerin farklı özelliklerine göstermek gerekir.

■ T.C. kimlik kartları kimlik kart özelliği taşımaktadır.

■ T.C. kimlik kartı kimlik özeldir.


■ Mendil kapmaca kapmaca çocuk oyunudur.

■ Aile tarihimizi öğrenmek için aynalar faydalanabiliriz.

4. Aşağıda verilen milli kültür öğelerimizle örnekleri eşleştirelim.

Gelenekler
El sanatları
Yemekler
Kıyafetler
Bayramlar
Halk oyunları

Ramazan Bayramı
Zeybek
Misafire ikram
Manti
El dokuma halı
Bindallı



5- Aşağıdaki ifadeleri tablonun uygun bölümüne yazınız.

- Hayvan besleme
- Göz rengi
- Utangaçlık
- Hoşgörü
- Saç rengi
- Sinirlilik
- Boy
- Merhamet
- Şiir yazma
- Kilo
- Resim yapma
- Zeka oyunları

	Fiziksel Özellikler	Duygusal Özellikler	Bireysel İlgi ve Yetenekler
1			
2			
3			
4			

6- Aile tarihimizi araştırırken yararlandığımız kaynakları tablonun uygun bölümüne yazınız.

- Kartpostal
- Köstekli saat
- Mektup
- Çeyiz sandığı
- Diploma
- Bilet
- Davetiye
- Karne
- Madalya
- Fotoğraf albümü
- Kahve değirmeni
- Posta pulu

Yazılı Kaynaklar	Görsel Kaynaklar	Eşyalar

7. Aşağıdakilerden hangisinde bireysel bir yeteneğin varlığından söz edilmektedir?

- A) Hayvan beslemek.
- B) Yabancı müzik dinlemekten hoşlanmak.
- C) Etkileyici duygusal şiirler yazmak.
- D) Türkçe dersini sevmek.

8. Soyağacımızda hangisi bulunmaz?

- A) Komşumuz
- B) Dedemiz
- C) Halamız
- D) Babamız

9. T.C. kimlik kartımızda hangisi bulunmaz?

- A) Doğum tarihi
- B) Anne adı
- C) T.C. kimlik numarası
- D) Adres

10. Aşağıdaki halk oyunlarından hangisi milli kültürümüze ait değildir?

- A) Horon
- B) Zeybek
- C) Tango
- D) Halay

11. Aşağıdakilerden hangisi her insanın kimlik belgesinde farklıdır?

- A) Ana adı
- B) Kan grubu
- C) Baba adı
- D) TC kimlik numarası

12. I. 14 Eylül 2015 tarihinde ilkokula başladı.

II. 5 Mayıs 2009 tarihinde İzmir'de doğdu.

III. 4 Aralık 2012 tarihinde kardeşi oldu.

Fatih ile ilgili verilen bilgilere göre kronolojik sıra nasıl olmalıdır?

- A) I, II, III
- B) II, III, I
- C) III, II, I
- D) I, III, II

13. Mine kıvrık saçlı, mavi gözlü, uzun boylu, zayıf bir çocuktur.

Yukarıda Mine'nin hangi özellikleri anlatılmıştır?

- A) Duyguval özellikleri
- B) Yetenekleri
- C) İlgi alanları
- D) Fiziksel özellikleri

14. Aşağıdakilerden hangisi geleneksel çocuk oyunlarına örnek gösterilemez?

- A) Topaç çevirme
- B) Bilgisayar oyunları
- C) Saklambaç
- D) Delye

15. Aşağıdakilerden hangisi farklılıklara saygı duyan bir kişinin özelliklerinden olamaz?

- A) Bencil olmak
- B) Duyarlı olmak
- C) Saygılı olmak
- D) Anlayışlı olmak

16. Aşağıdakilerden hangisi milli kültürümüzü yansıtan bir öğe değildir?

- A) Karagöz ile Hacivat
- B) Keloglan
- C) Narettin Hoca
- D) Heidi

17. I. Gitar çalmayı sevmek

II. Yeni güzel besteler üretmek

III. Güzel şarkı sözleri yazmak

Yukarıdakilerden hangilerini yetenek olarak adlandırabiliriz?

- A) Yalnız I
- B) I ve II
- C) II ve III
- D) I ve III

18. Aşağıdakilerden hangisi milli kültürümüzü yansıtmaz?

- A) Cadılar bayramı
- B) Kına gecesi
- C) Asker uğurlama
- D) Bayramda el öpme

VARLIKLARIN ÖZELLİKLERİNİ BİLDİREN KELİMELELER



Varlıkları renk, sayı, şekil ve durum bakımından anlatan kelimeler varlıkları niteler. Bu kelimeler varlıkların adından önce gelir. Varlıkların **renğini**, **sayısını**, **şeklini** ve **durumunu** belirten kelimelere **ön ad** denir. Ön adlar isimlerden önce gelir.





Üç havuç → Sayısını belirtiyor.

Turuncu havuç → Rengini belirtiyor.

Taze havuç → Durumunu belirtiyor.


Uzun havuç → Şeklini belirtiyor.



iki bardak
Sayısını belirtiyor.



Mavi kuş
Rengini belirtiyor.



Kare çerçeve
Şeklini belirtiyor.



Kırık vazı
Durumunu belirtiyor.



Dört biber → Sayısını
Acı biber → Durumunu
Sivri biber → Şeklini
Yeşil biber → Rengini belirtiyor.

Örnek Ön Adlar

Sayı

Bir kedi
On defter
Dokuz ağaç
Elli fındık
Sekiz armut
Kırk tabak

Renk


Mavi bulut
Kırmızı elma
Sarı lale
Beyaz örtü
Pembe tavşan
Siyah toka

Şekil

Yuvarlak masa
Dikdörtgen bayrak
Kare tepsi
Silindirik boru
Sivri kalem
Üçgen peynir

Durum

Yaşlı kadın
Kırık gözlük
Soğuk hava
Ekşi limon
Hızlı tren
Patlak balon



Yukarıdaki görsellerle ilgili uygun ön adlar yazalım.

SELAM OLSUN ATA'MA

Yıl bin dokuz yüz otuz sekiz,
Gün Kasım'ın onu,
Saat dokuzu beş geç,
Sanki zaman durdu.


Sarı saçlı mavi gözlü lider,
Kapatmış gözlerini, yandı yürekler
Üzüldü kadın, çocuk ve erkekler.
Soldu sanki tüm çiçekler.

Kendine geldi Türk Milleti,
Yas tutma zamanı değildi,
Her fikri her eseri,
Şimdi bize emanetti.

Emanetin bizde canla başla,
Ağlamıyor, anlıyoruz gururla,
Kurdüğün Cumhuriyet yolunda,
Selam olsun Ata'ma.

Handan KÖTÜĞ

ONSUZ KASIM
SONSUZ ÖZLEM



Sevgi, Saygı ve Minnetle...
10 Kasım 1938