

7. SINIF SOSYAL BİLGİLER I. DÖNEM II. YAZILI SORULARI

Soru1 :

Kazanım: 6.1.5. Bir soruna getirilen çözümlerin hak, sorumluluk ve özgürlükler temelinde olması gerektiğini savunur.

Günlük yaşamda karşılaştığımız bazı sorunların çözümünde yardım alınabilecek telefon hatlarından faydalanınız.

Buna göre, aşağıda verilen telefon hattının ne amaçla hizmet verdiğini kısaca yazınız. (5 puan)

Alo 175 Tüketici Şikayet Hattı:

Soru 2 :

Kazanım: 6.2.1.Orta Asya'da kurulan ilk Türk devletlerinin coğrafi, siyasal, ekonomik ve kültürel özelliklerine ilişkin çıkarımlarda bulunur.

Uygurların Mani dinini benimsemeleri ile yaşamlarında bir çok değişiklik olmuştur.

Bu değişikliklerden bir tanesini yazınız. (10 puan)

Soru 3 :

Kazanım: 6.2.4. Türklerin Anadolu'yu yurt edinme sürecini XI ve XIII. yüzyıllar kapsamında analiz eder.

1. Kervansaray 2. Medrese 3. Darüşşifa

Türk İslam kültürü ile oluşturulmuş olan bu mimari eserlerin hangi alanda yapıldığını yazınız? (3 x 5 = 15 puan)

1 -

2 -

3 -

Soru 4 :

Kazanım: 6.2.4. Türklerin Anadolu'yu yurt edinme sürecini XI ve XIII. yüzyıllar kapsamında analiz eder.

- ` Tarihteki ilk Türk denizci beyliğidir.
- ` İzmir ve çevresinde kurulmuştur.

Özellikleri verilen beyliğin adını yazınız. (10 puan)

Soru 5 :

Kazanım: 6.2.3. Türklerin İslamiyet'i kabulleri ile birlikte siyasi, sosyal ve kültürel alanlarda meydana gelen değişimleri fark eder.

Harezmşahlar yıkıldıktan sonra Gazneli Mahmut tarafından himaye altına alınan bilim insanı Biruni, yaptığı çalışmalarla sarayda büyük itibar görmüştür. Öyle ki Gazneli Mahmut onun için "Sarayımın en değerli hazinesi" ifadesini kullanmıştır. Biruni, çağdaş astronominin temellerini atmış, tıp ve eczacılık alanlarında önemli birçok eser yazmıştır.

Sadece verilen bilgiye göre, Gazneliler hakkında hangi bilgiye ulaşılabilir? Yazınız. (10 puan)

Soru 6 :

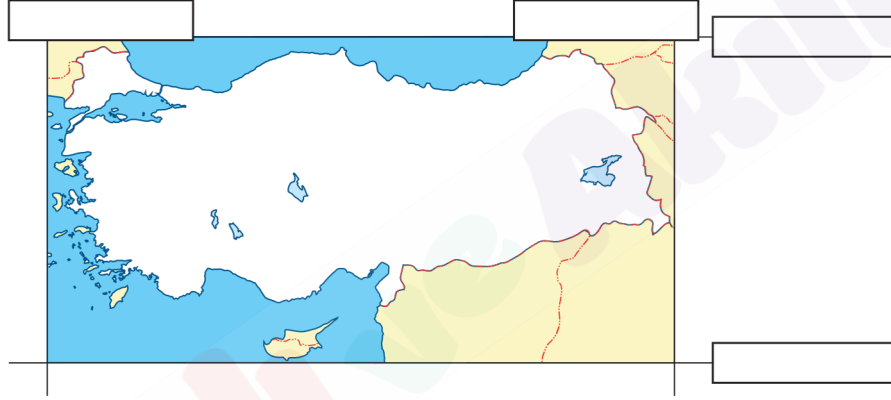
Kazanım: 6.2.5. Tarihî ticaret yollarının toplumlar arası siyasi, kültürel ve ekonomik ilişkilerdeki rolünü açıklar.

Çin'in Şian şehriden başlayıp Avrupa'ya kadar uzanan dünyaca ünlü bir ticaret yolunun adını (10 puan) yazınız.

Soru 7 :


Kazanım: 6.3.1. Konum ile ilgili kavramları kullanarak kıtaların, okyanusların ve ülkemizin coğrafi konumunu tanımlar.

Aşağıda verilen kutucuklara Türkiye'nin matematiksel adresini yazınız. (5 x 4 = 20 puan)



Soru 8 :

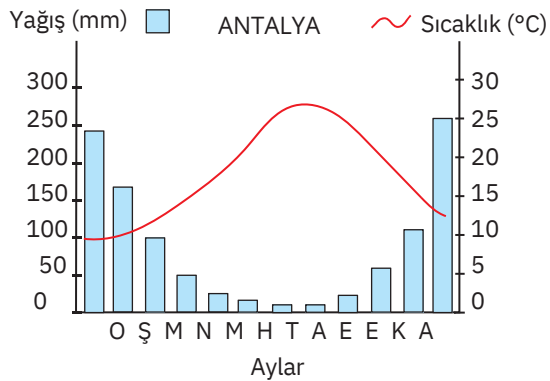
Kazanım: 6.3.1. Konum ile ilgili kavramları kullanarak kıtaların, okyanusların ve ülkemizin coğrafi konumunu tanımlar.



Aynı paralel üzerinde olmalarına rağmen Eskişehir ve Erzurum arasındaki sıcaklık farkının nedeni nedir? Yazınız. (10 puan)

Soru 9 :

Kazanım: 6.3.2. Türkiye'nin temel fiziki coğrafya özelliklerinden yer şekillerini, iklim özelliklerini ve bitki örtüsünü ilgili haritalar üzerinde inceler.



Yanda Akdeniz ikliminin etkili olduğu Antalya'ya ait sıcaklık ve yağış grafiği verilmiştir. Grafikte ilgili soruları cevaplayınız. (2 x 5 = 10 puan)

• En sıcak aylar:

.....

• Yağışın en az olduğu mevsim:

.....

(Dikkat mevsimle ayı karıştıрма)