

AD: _____

SINIF: _____

SOSYAL BİLGİLER

1.DÖNEM

2.YAZILI

- 1
- Birlikten kuvvet doğar.
 - Yalnız taş, duvar olmaz.
 - Bir elin nesi var, iki elin sesi var.

Yukarıda verilen atasözleri ile vurgulanan düşünce nedir? Yazınız. (5 puan)

.....

- 2
- Göktürkler çok eşya kullanmazdı. Hafif ve sağlam malzemeleri tercih ederdi.
- Bu durumun nedeni nedir? Yazınız. (5 puan)**

.....

.....

- 3
- Karahanlılar Türk-İslam tarihindeki
- ilk medreseyi açtılar.
 - ilk posta teşkilatını kurdular.
 - Ribat adı verilen kervansarayları inşa ettiler.

Bu gelişmeler ile Karahanlılar hangi alanlarda çalışmalar yapmıştır? Yazınız. (3x5=15 puan)

1-

2-

3-

- 4
- Anadolu'da kurulan ilk Türk beyliklerinden 2 tanesinin adını yazınız. (2x5=10puan)**

1-

2-

- 5
- Müşrikler, Bedir Savaşı'nın intikamını almak için tekrar saldırdılar. Savaş, bir dağın çevresinde yapıldı. Müslümanlar bu savaşta büyük kayıplar verdi. Bu durumun en önemli sebebi Hz. Muhammed'in (s.a.v.) dağa yerleştirdiği okçuların savaşın kazanıldığını düşünerek bulundukları yerleri terk etmesidir.
- Anlatılan tarihî olayın adı nedir? Yazınız. (5 puan)**

- 6
- Harezmşahlar yıkıldıktan sonra Gazneli Mahmut tarafından himaye altına alınan bilim insanı Biruni, yaptığı çalışmalarla sarayda büyük itibar görmüştür. Öyle ki Gazneli Mahmut onun için "Sarayımın en değerli hazinesi" ifadesini kullanmıştır. Biruni, çağdaş astronominin temellerini atmış, tıp ve eczacılık alanlarında önemli birçok eser yazmıştır.

Sadece verilen bilgiye göre, Gazneliler hakkında hangi bilgiye ulaşılabilir? Yazınız. (10puan)

.....

.....

.....

AD: _____

SINIF: _____

SOSYAL BİLGİLER

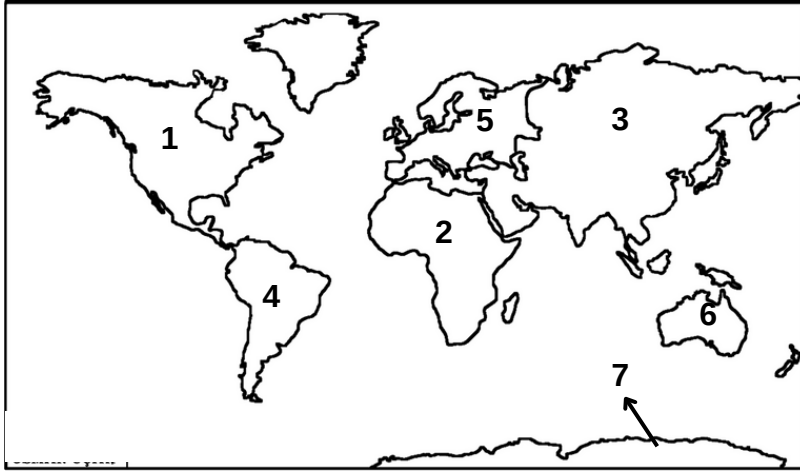
1.DÖNEM

2.YAZILI

7 Aşağıda verilen kutucuklara Türkiye'nin matematiksel adresini yazınız. (3x4=12 puan)



8 Haritada numaralandırılmış kıtaların isimlerini yazınız. (21 puan)



- 1-.....
- 2-.....
- 3-.....
- 4-.....
- 5-.....
- 6-.....
- 7-.....

9 Türkiye'de görülen iklimlerin adını yazınız. (4x3=12 puan)

.....
.....
.....

AD: _____

SINIF: _____

CEVAP ANAHTARI

1.DÖNEM

2.YAZILI

- 1
- Birlikten kuvvet doğar.
 - Yalnız taş, duvar olmaz.
 - Bir elin nesi var, iki elin sesi var.

Yukarıda verilen atasözleri ile vurgulanan düşünce nedir? Yazınız. (10 puan)

YARDINLAŞMA
DAYANIŞMA
BİRLİK

- 2
- Göktürkler çok eşya kullanmazdı. Hafif ve sağlam malzemeleri tercih ederdi.
Bu durumun nedeni nedir? Yazınız. (5 puan)

GÖÇEBE YAŞAM

- 3
- Karahanlılar Türk-İslam tarihindeki
- ilk medreseyi açtılar.
 - ilk posta teşkilatını kurdular.
 - Ribat adı verilen kervansarayları inşa ettiler.

Bu gelişmeler ile Karahanlılar hangi alanlarda çalışmalar yapmıştır? Yazınız. (3x5=15 puan)

- 1- **EĞİTİM**
2- **İLETİŞİM**
3- **EKONOMİ**

- 4
- Anadolu'da kurulan ilk Türk beyliklerinden 2 tanesinin adını yazınız. (2x5=10puan)

ARTUKLULAR
1- **SALTUKLULAR**
2- **ÇAKA BEYLİĞİ**
DANIŞMENTLİLER
MENGÜCEKLİLER

- 5
- Müşrikler, Bedir Savaşı'nın intikamını almak için tekrar saldırdılar. Savaş, bir dağın çevresinde yapıldı. Müslümanlar bu savaşta büyük kayıplar verdi. Bu durumun en önemli sebebi Hz. Muhammed'in (s.a.v.) dağa yerleştirdiği okçuların savaşın kazanıldığını düşünerek bulundukları yerleri terk etmesidir. Anlatılan tarihî olayın adı nedir? Yazınız. (5 puan)

UHUD SAVAŞI

- 6
- Harezmşahlar yıkıldıktan sonra Gazneli Mahmut tarafından himaye altına alınan bilim insanı Biruni, yaptığı çalışmalarla sarayda büyük itibar görmüştür. Öyle ki Gazneli Mahmut onun için "Sarayımın en değerli hazinesi" ifadesini kullanmıştır. Biruni, çağdaş astronominin temellerini atmış, tıp ve eczacılık alanlarında önemli birçok eser yazmıştır.

Sadece verilen bilgiye göre, Gazneliler hakkında hangi bilgiye ulaşılabilir? Yazınız. (10puan)

EĞİTİME ÖNEM VERMİŞLERDİR.

AD: _____

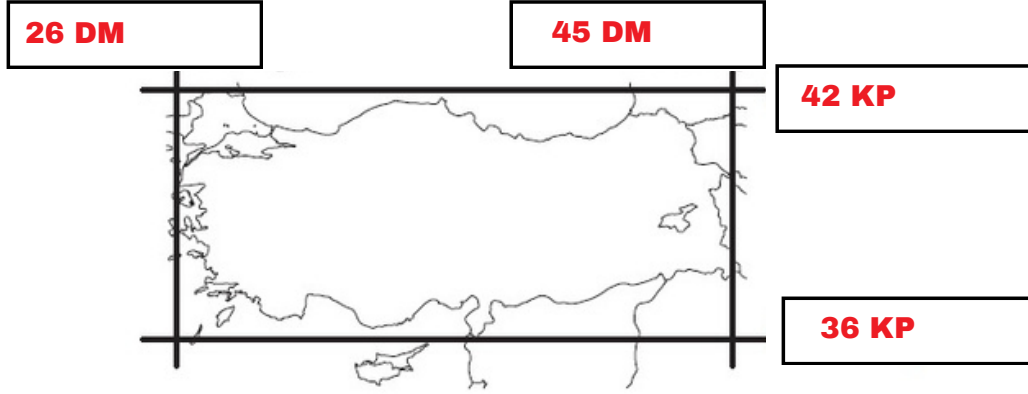
SINIF: _____

SOSYAL BİLGİLER

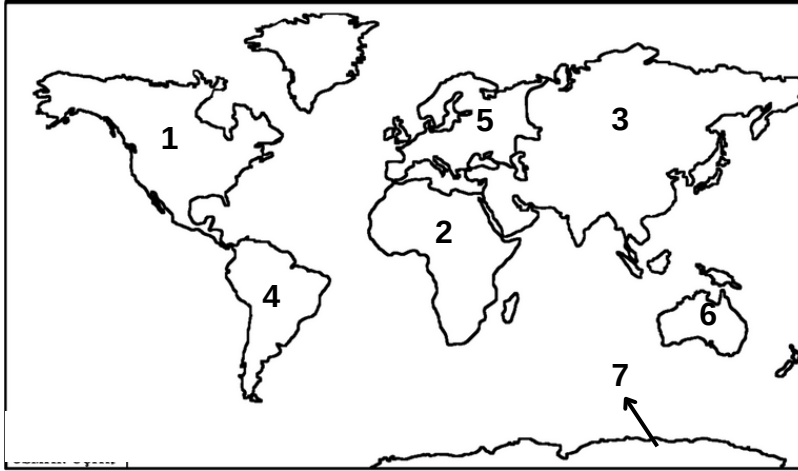
1.DÖNEM

2.YAZILI

7 Aşağıda verilen kutucuklara Türkiye'nin matematiksel adresini yazınız. (3x4=12 puan)



8 Haritada numaralandırılmış kıtaların isimlerini yazınız. (21 puan)



- 1- **KUZEY AMERİKA**
- 2- **AFRİKA**
- 3- **ASYA**
- 4- **GÜNEY AMERİKA**
- 5- **AVRUPA**
- 6- **AVUSTURALYA**
- 7- **ANTARTİKA**

9 Türkiye'de görülen iklimlerin adını yazınız. (4x3=12 puan)

KARASAL
.....
AKDENİZ
.....
KARADENİZ
.....