

**2024-2025  
EĞİTİM ÖĞRETİM YILI  
YARI YIL TATİL  
GÖREVLERİ**

**Adım Soyadım**

.....





Sevgili Öğrencilerim,

Uzun bir dönemin ardından güzel bir tatili hak ettiniz. Tatilinizi bol bol dinlenerek, ailenizle keyifli zamanlar geçirerek ve sevdiklerinizle birlikte unutulmaz anılar biriktirerek değerlendirmenizi çok isterim.

Ayrıca kitaplar, size yepyeni dünyaların kapısını açar. Bu tatilde sevdiğiniz türde kitaplar okuyarak hem eğlenebilir hem de bilgi hazinenizi genişletebilirsiniz.

Dinlenmek kadar oyun oynamayı ve doğayla iç içe olmayı da ihmal etmeyin. Unutmayın, tatil sadece dinlenmek değil, aynı zamanda yeni şeyler keşfetmek ve kendinizi geliştirmek için bir fırsattır. Hepinize harika bir tatil diliyorum. Enerjinizi toplayarak, yeni dönemde görüşmek üzere!

Sevgilerimle,  
Öğretmeniniz  
Esra DEMİRHAN EROĞLU




# TATİLDE HANGİ KİTAPLARI OKUDUM

## Kitap Takip Çizelgesi



Adım:

Soyadım:

	Kitap Adı	Yazarı	Başlama tarihi	Bitirme Tarihi	Veli İmza
1					
2					
3					
4					
5					
6					
7					
8					
9					
10					
11					
12					
13					
14					
15					
16					
17					
18					
19					
20					
21					
22					
23					

**Şimdi otur ve tatil planını  
yap,eksiklerini belirle, okulistik ve  
morpa kampüse gir ve eksik olduğun  
yerleri tekrar et!**



**Eksik  
olduğum,çalışmam  
gereken konular:**

.....

.....

.....

**Eksik  
olduğum,çalışmam  
gereken konular için  
ne yaptım?**

.....

.....

.....



Bir şarkı ya da türkü öğren  
ve okula dönünce bize  
söyle!





Ailenle bir film izle ve bize  
bu filmi anlatan bir mektup  
yaz.





# FARKI BUL

## BOYAMA KAĞIDI



# Örüntüyü tamamlar mısın?

3	6		12		18
4		16	20	24	
5	10			25	30
6		12	18		30
7	14	21			42
8	24		40		56
9	18		36	45	



# Aşağıdaki işlemleri yapar mısın?

$$\begin{array}{r} 10 \\ \times 2 \\ \hline \end{array}$$

$$\begin{array}{r} 26 \\ \times 3 \\ \hline \end{array}$$

$$\begin{array}{r} 14 \\ \times 4 \\ \hline \end{array}$$

$$\begin{array}{r} 60 \\ \times 5 \\ \hline \end{array}$$

$$\begin{array}{r} 51 \\ \times 6 \\ \hline \end{array}$$

$$\begin{array}{r} 82 \\ \times 7 \\ \hline \end{array}$$

$$\begin{array}{r} 21 \\ \times 8 \\ \hline \end{array}$$

$$\begin{array}{r} 75 \\ \times 9 \\ \hline \end{array}$$

$$\begin{array}{r} 93 \\ \times 2 \\ \hline \end{array}$$

$$\begin{array}{r} 36 \\ \times 3 \\ \hline \end{array}$$

$$\begin{array}{r} 57 \\ \times 4 \\ \hline \end{array}$$

$$\begin{array}{r} 63 \\ \times 5 \\ \hline \end{array}$$

$$\begin{array}{r} 72 \\ \times 6 \\ \hline \end{array}$$

$$\begin{array}{r} 18 \\ \times 7 \\ \hline \end{array}$$

$$\begin{array}{r} 33 \\ \times 8 \\ \hline \end{array}$$

$$\begin{array}{r} 29 \\ \times 9 \\ \hline \end{array}$$

$$\begin{array}{r} 56 \\ \times 2 \\ \hline \end{array}$$

$$\begin{array}{r} 45 \\ \times 3 \\ \hline \end{array}$$

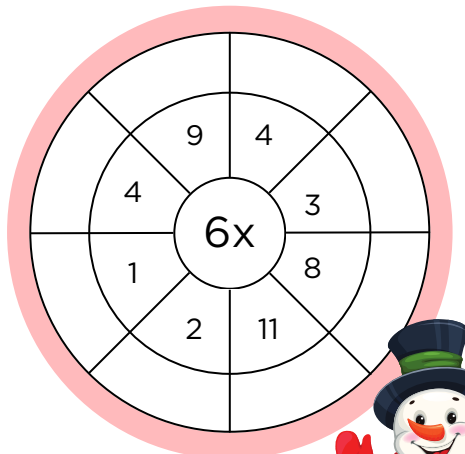
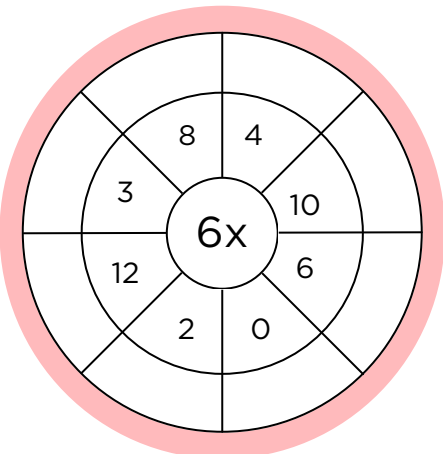
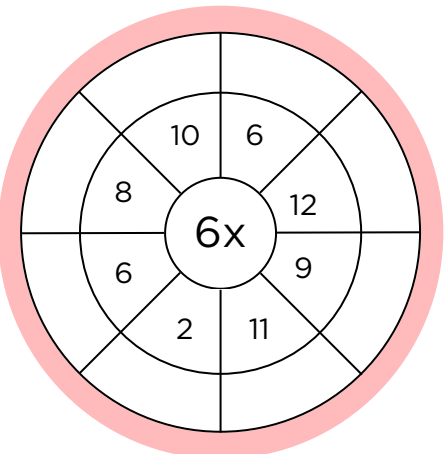
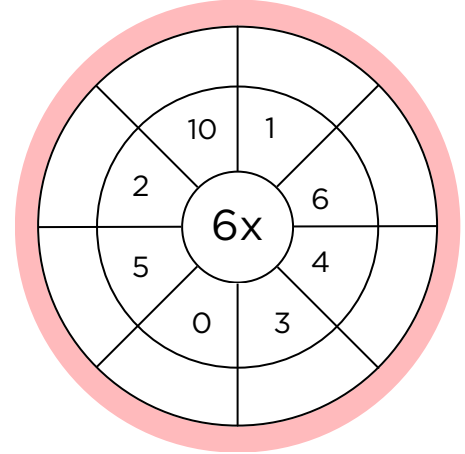
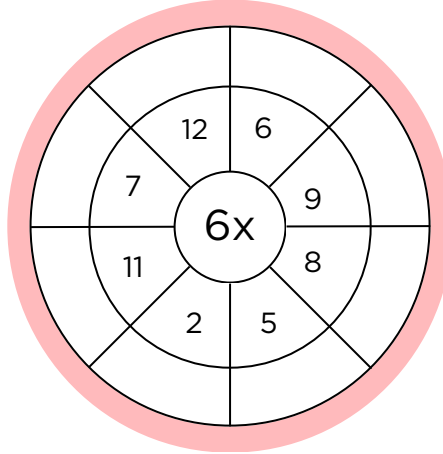
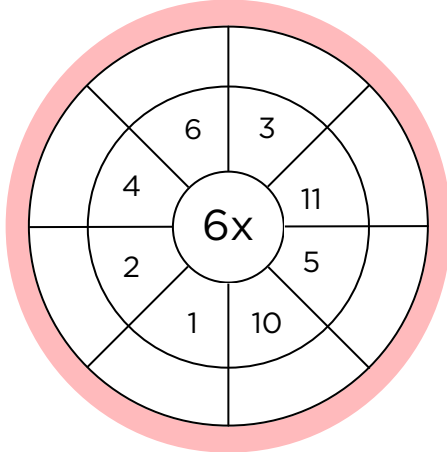
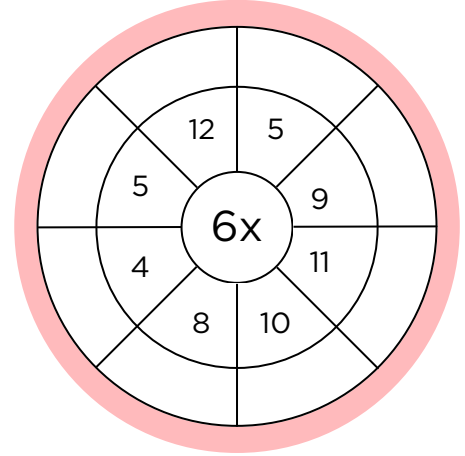
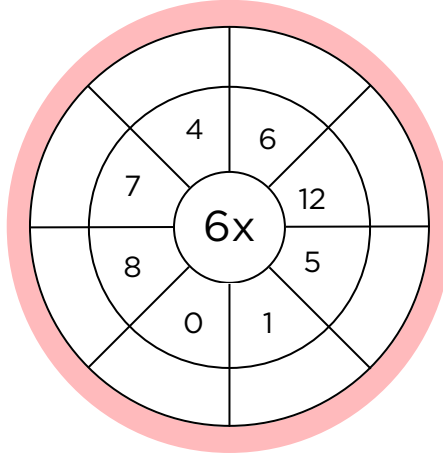
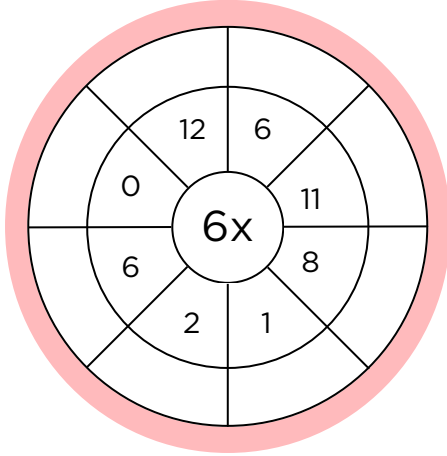
$$\begin{array}{r} 35 \\ \times 4 \\ \hline \end{array}$$

$$\begin{array}{r} 22 \\ \times 5 \\ \hline \end{array}$$


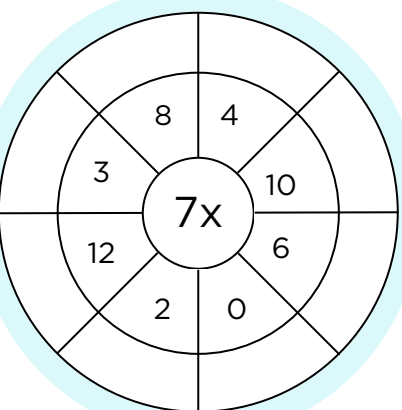
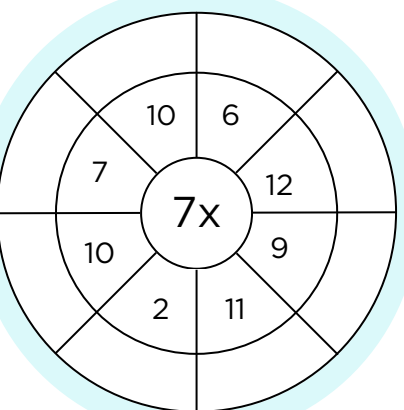
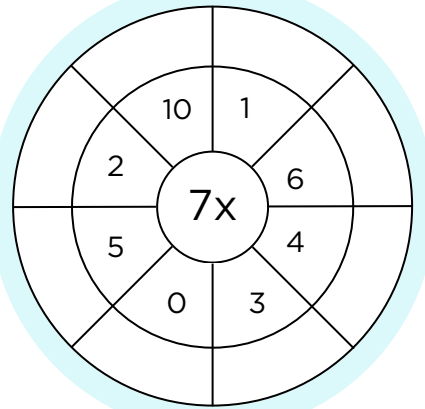
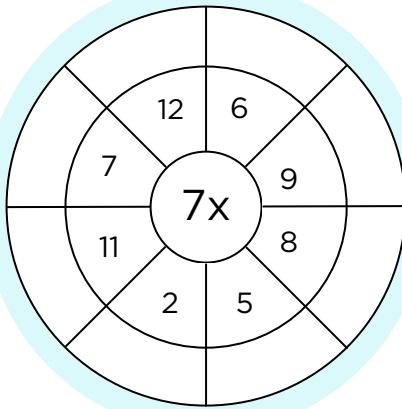
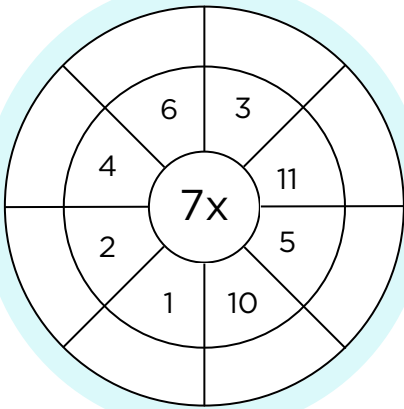
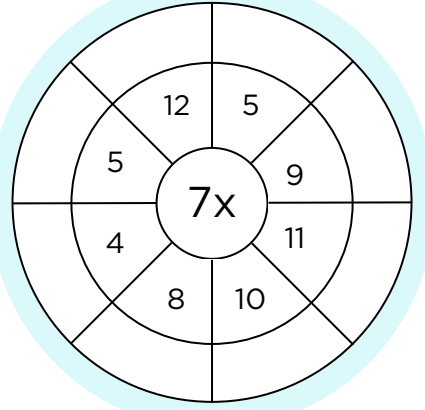
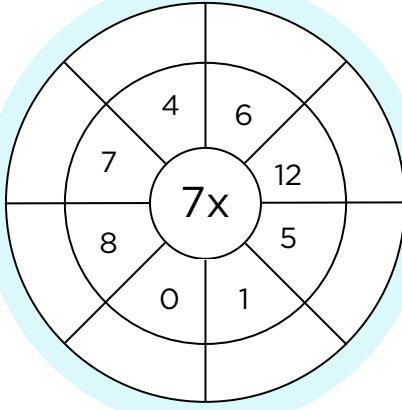
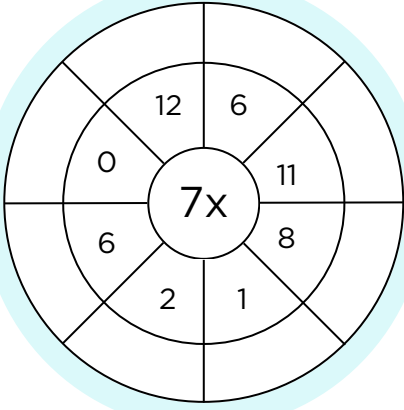





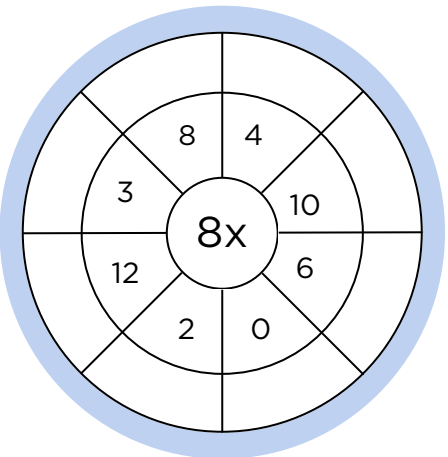
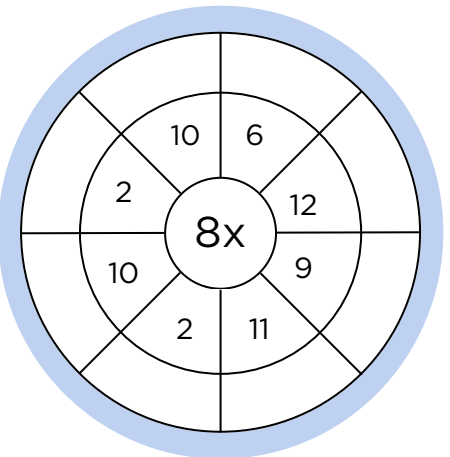
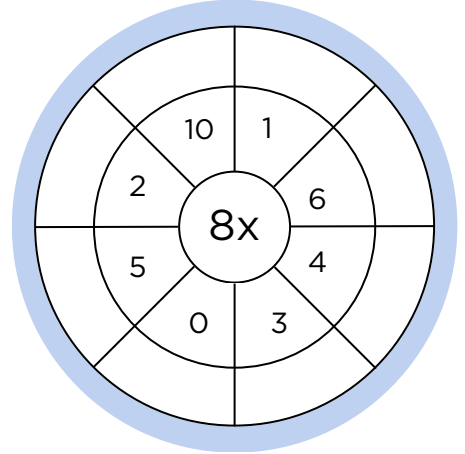
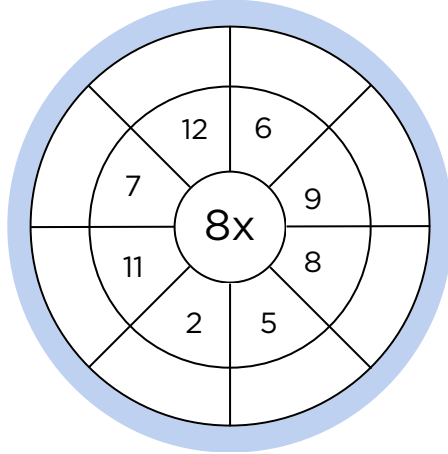
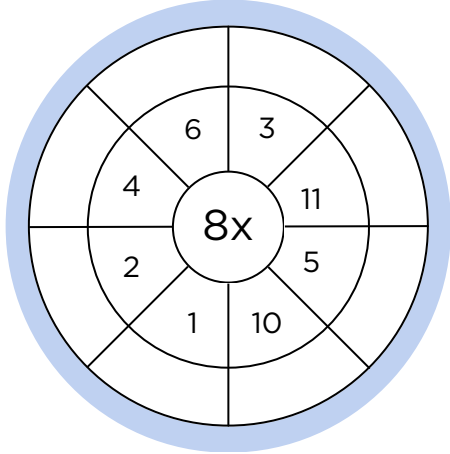
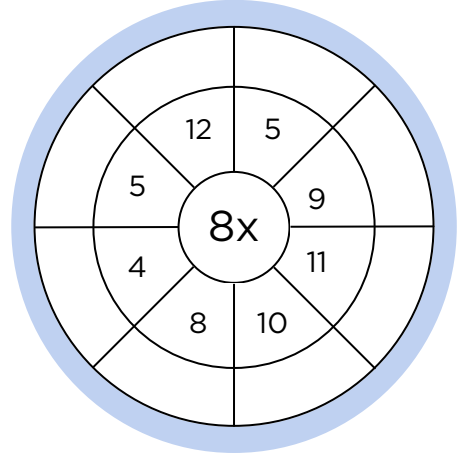
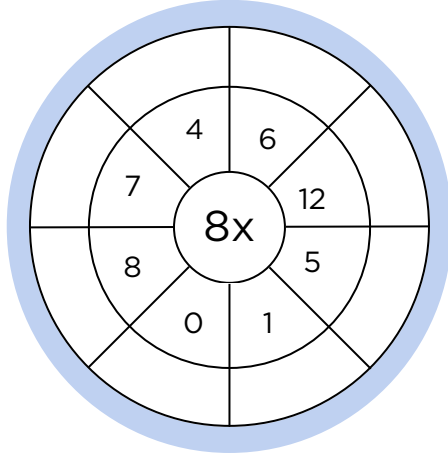
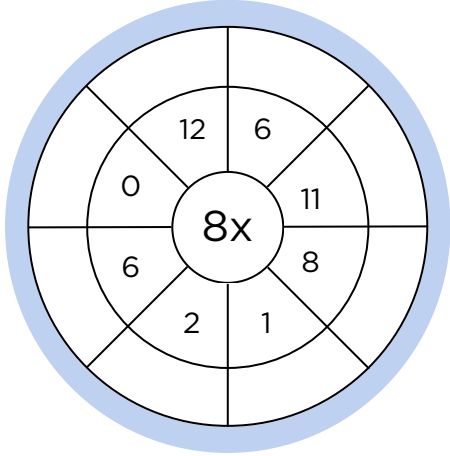

# 6'LARI NE KADAR BİLİYORSUN?



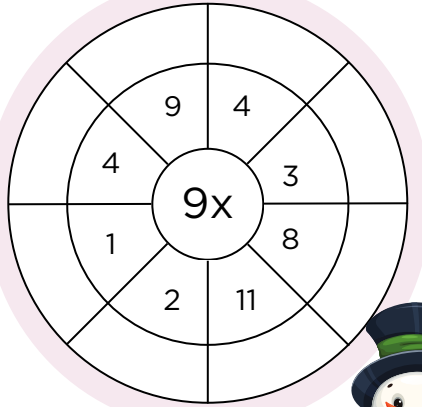
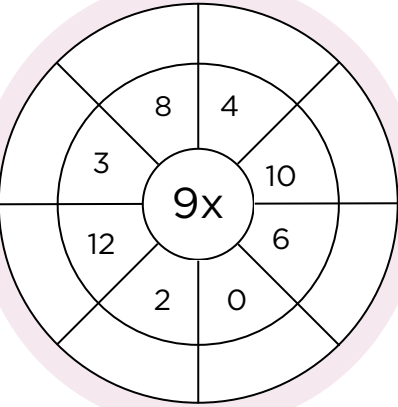
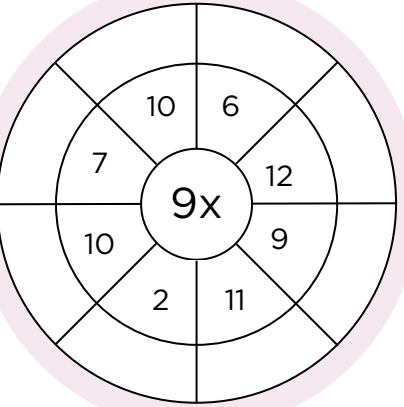
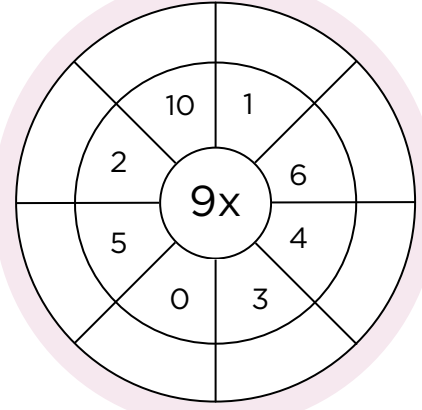
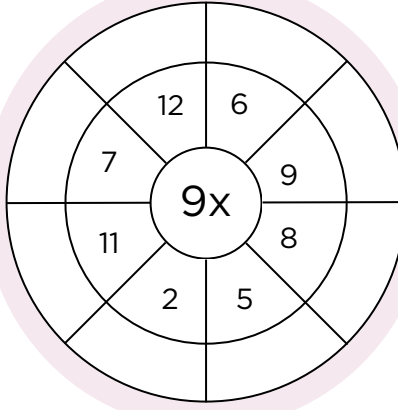
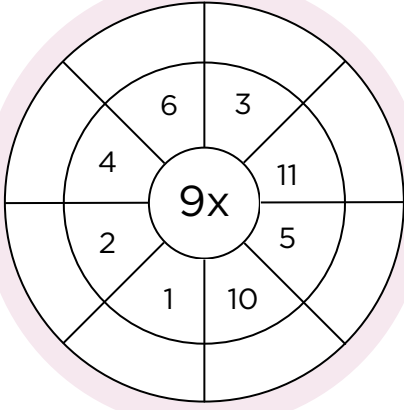
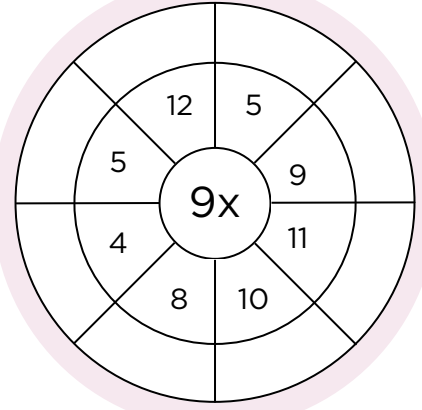
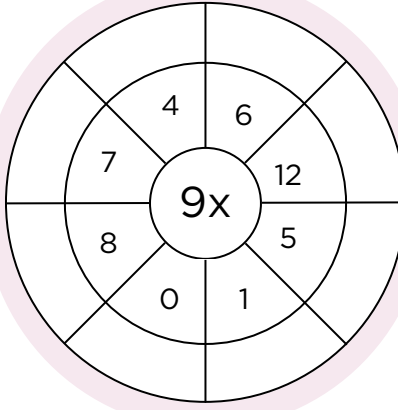
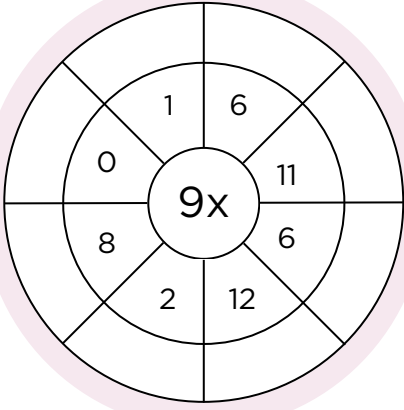

# 7'LERİ NE KADAR BİLİYORSUN?



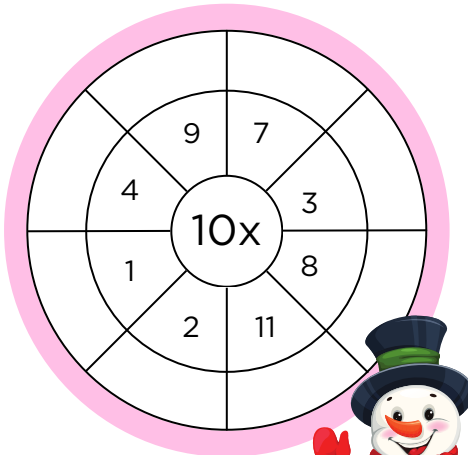
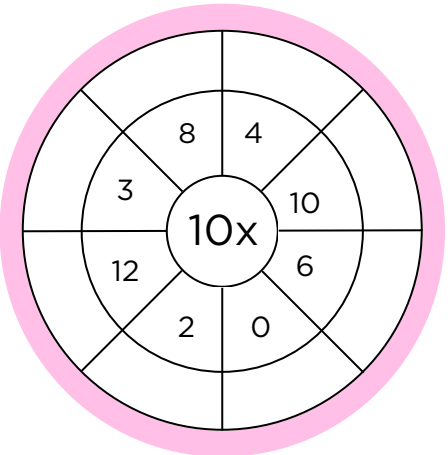
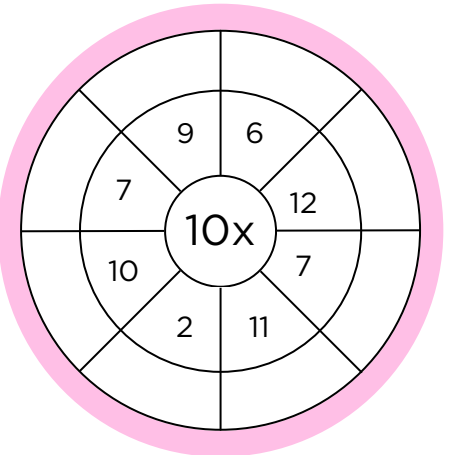
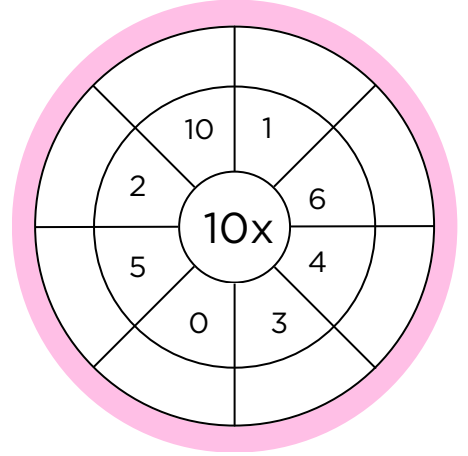
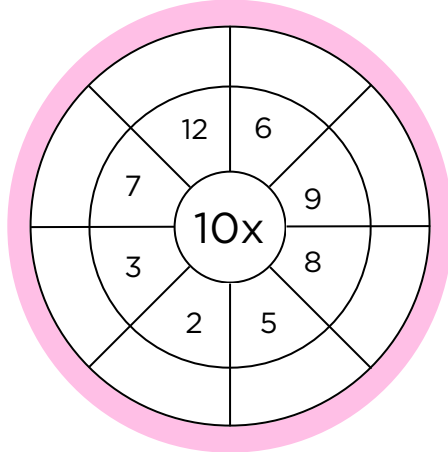
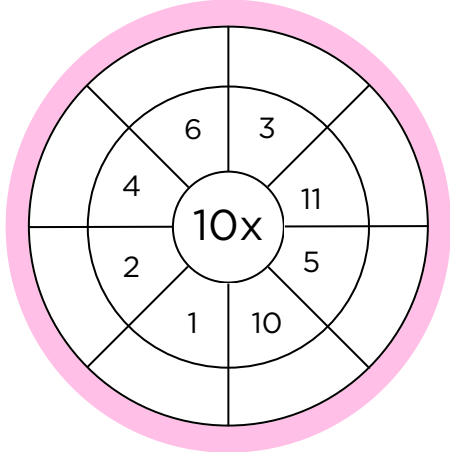
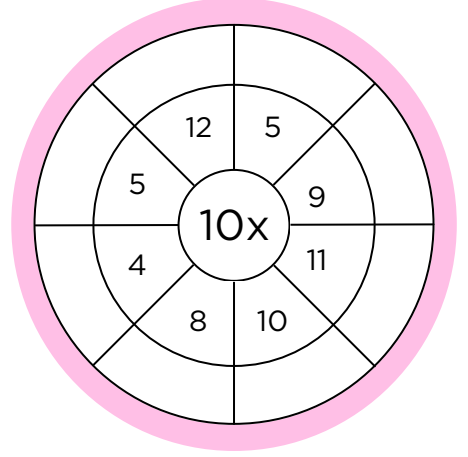
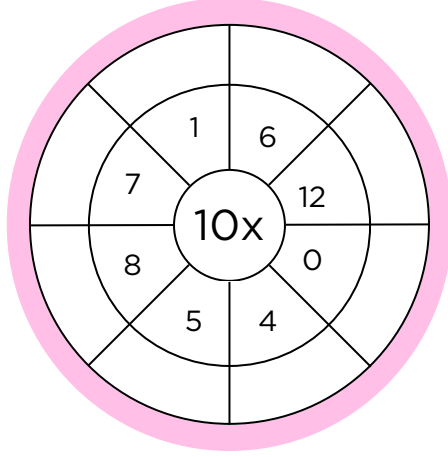
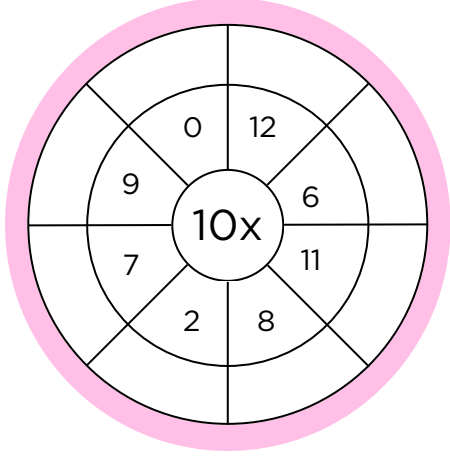

# 8'LERİ NE KADAR BİLİYORSUN?



# 9'LARI NE KADAR BİLİYORSUN?

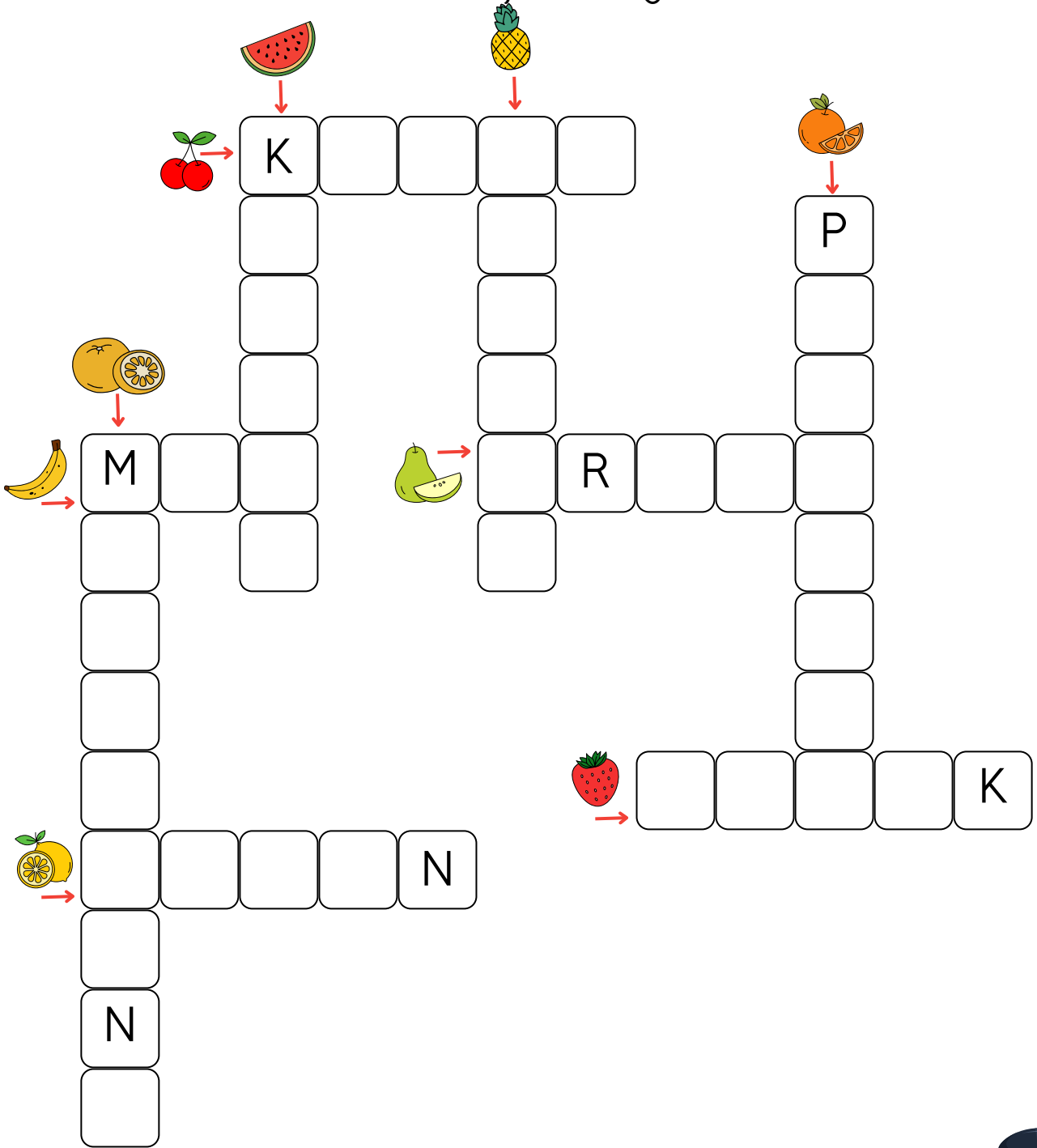


# 10'LU ÇARPMA ÇOK EĞLENCELİ DEĞİL Mİ?



# Meyve Bulmaca


Resimlerle gösterilen meyvelerin isimlerini ipuçlarını kullanarak bulmacaya yerleştirin.Sonra da kendine kocaman bir meyve tabağı hazırla.





# Bulmacaya devam...

## ZIT ANLAMLILAR



### SOLDAN SAĞA

1. sıcak
2. gece
6. ölü
7. açık
8. güzel
10. yaş
11. hayır
13. öz
14. ön
15. ince
16. cimri

### YUKARIDAN AŞAĞIYA

1. ilk
2. gelir
3. kar
4. uzak
5. zengin
9. genç
10. büyük
12. aç
13. alt

fakir  
kapalı  
kuru  
küçük  
üst

kalın  
çirkin  
diri  
son  
cömert

gider  
arka  
gündüz  
zarar  
üvey

yakın  
tok  
ihtiyar  
evet  
soğuk


# BENCE SEN BU KADAR BÜYÜK SAYILARI TOPLAR SIN!



+



=



+




=



+



=



+




=



+



=





## Bölme İşlemi

- Aşağıdaki bölme işlemlerini yapın.

$$\begin{array}{r} 25 \overline{) 5} \\ \underline{25} \phantom{0} \\ 00 \end{array}$$

$$\begin{array}{r} 142 \overline{) 2} \\ \underline{\phantom{000}} \end{array}$$

$$\begin{array}{r} 275 \overline{) 3} \\ \underline{\phantom{000}} \end{array}$$

$$\begin{array}{r} 180 \overline{) 6} \\ \underline{\phantom{000}} \end{array}$$

$$\begin{array}{r} 280 \overline{) 40} \\ \underline{\phantom{000}} \end{array}$$

$$\begin{array}{r} 65 \overline{) 5} \\ \underline{\phantom{000}} \end{array}$$

$$\begin{array}{r} 30 \overline{) 30} \\ \underline{\phantom{000}} \end{array}$$

$$\begin{array}{r} 224 \overline{) 2} \\ \underline{\phantom{000}} \end{array}$$

$$\begin{array}{r} 364 \overline{) 4} \\ \underline{\phantom{000}} \end{array}$$

$$\begin{array}{r} 47 \overline{) 2} \\ \underline{\phantom{000}} \end{array}$$

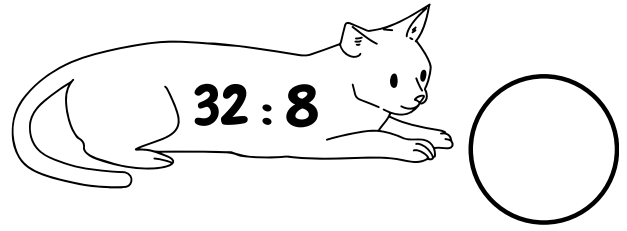








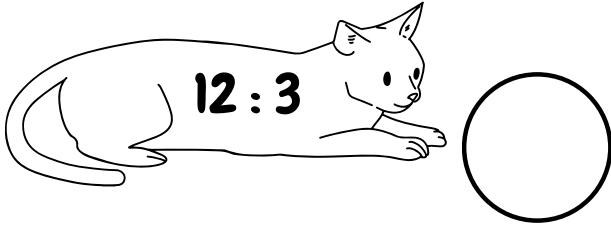
$$\begin{array}{r} 63 \overline{) 5} \\ \underline{\phantom{000}} \end{array}$$

$$\begin{array}{r} 33 \overline{) 4} \\ \underline{\phantom{000}} \end{array}$$



# Bölme İşlemlerine Devam

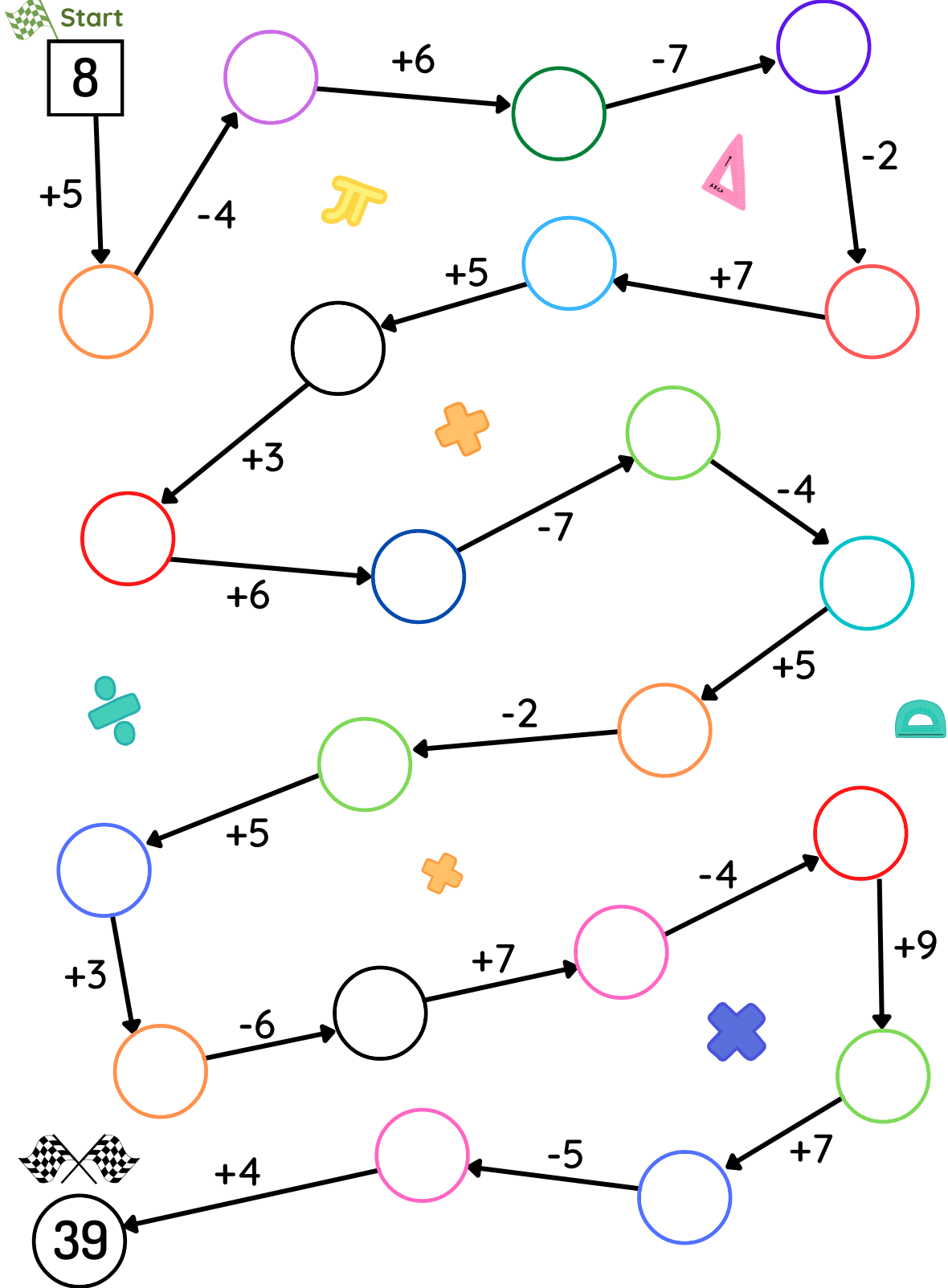
Sonuçları bul dairelere yaz ve kedcikleri boya





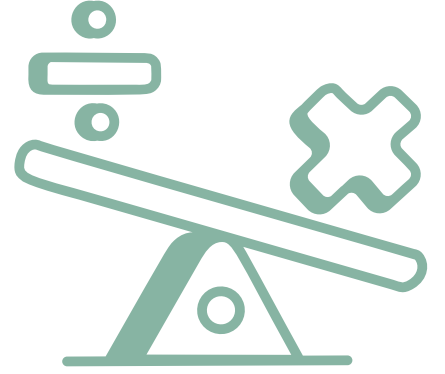
## Adım Adım Hesaplama

- Süre tut ve en kısa sürede babanla yarış! Bakalım kim kazanacak!
- Boş kutucukları, işlemleri yaparak doldur.



# Sen yaparsın!

Bir fıkra öğren  
ve gelince bize anlat!



1

$$9 \div 1 = \underline{\quad}$$
$$\underline{\quad} \times 1 = 9$$

2

$$12 \div 2 = \underline{\quad}$$
$$\underline{\quad} \times 6 = 12$$

3

$$\underline{\quad} \div 3 = 7$$
$$7 \times 3 = \underline{\quad}$$

4

$$8 \div \underline{\quad} = 2$$
$$\underline{\quad} \times 2 = 8$$

5

$$18 \div 2 = \underline{\quad}$$
$$9 \times 2 = \underline{\quad}$$

6

$$20 \div \underline{\quad} = 4$$
$$\underline{\quad} \times 4 = 20$$

7

$$9 \div 3 = \underline{\quad}$$
$$\underline{\quad} \times 3 = 9$$

8

$$10 \div \underline{\quad} = 2$$
$$\underline{\quad} \times 2 = 10$$

9

$$\underline{\quad} \div 5 = 3$$
$$5 \times 3 = \underline{\quad}$$

10

$$22 \div 2 = \underline{\quad}$$
$$11 \times \underline{\quad} = 22$$

11

$$\underline{\quad} \div 9 = 4$$
$$9 \times 4 = \underline{\quad}$$

12

$$30 \div 6 = \underline{\quad}$$
$$\underline{\quad} \times 6 = 30$$





# HİKAYE YAZMA

5N 1K sorularını cevaplayarak hikayeni yaz ve resmini çiz.

**Kim?**

**Ne?**

**Nasıl?**

**Neden?**

**Ne zaman?**

**Nerede?**

Large writing area for the story, featuring a red border and a vertical red line on the left side.



YAZDIĞIN HİKAYENİN RESMİNİ YAP!



**Atık malzemelerden  
bir ürün tasarla!**



**Annenle birlikte bir  
kek ya da kurabiye  
yap!**




**Bugün odanı temizle!**



# Kendine sıcak ikolata yap!

Ařağıdaki boşlukları maddenin halleri ile ilgili olarak  
tamamla ve görseli boya!



katı

sıvı

gaz



# MADDEYİ NİTELEYEN ÖZELLİKLER

## (Renk-Koku-Tat)



Aşağıdaki maddeyi niteleyen özellikleri hangi duyu organımızla veya organlarımızla algılayınız? Boyayarak belirtelim.

Kırılgan mı?	KULAK	BURUN	DİL	DERİ	GÖZ
Sert mi, yumuşak mı?	KULAK	BURUN	DİL	DERİ	GÖZ
Esnek mi?	KULAK	BURUN	DİL	DERİ	GÖZ
Kokulu mu?	KULAK	BURUN	DİL	DERİ	GÖZ
Tadı var mı?	KULAK	BURUN	DİL	DERİ	GÖZ
Rengi ne?	KULAK	BURUN	DİL	DERİ	GÖZ
Pürüzlü mü, pürüzsüz mü?	KULAK	BURUN	DİL	DERİ	GÖZ



Aşağıda verilen madde çiftlerini birbirinden hangi duyumuzla ayırt ederiz? İşaretleyelim.

Tadarak

Koklayarak

Görerek

Maydanoz Nane	<input type="radio"/>	<input type="radio"/>	<input type="radio"/>
Kolonya Su	<input type="radio"/>	<input type="radio"/>	<input type="radio"/>
Gül Lale	<input type="radio"/>	<input type="radio"/>	<input type="radio"/>
Mavi etek Siyah etek	<input type="radio"/>	<input type="radio"/>	<input type="radio"/>
Zeytinyağı Ayçiçeği yağı	<input type="radio"/>	<input type="radio"/>	<input type="radio"/>
Su Maden suyu	<input type="radio"/>	<input type="radio"/>	<input type="radio"/>
Tuz Şeker	<input type="radio"/>	<input type="radio"/>	<input type="radio"/>





# MADDEYİ NİTELEYEN ÖZELLİKLER



Aşağıda verilen madde özellikleri ile tanımları eşleştirelim. Ardından aşağıda görsellerini gördüğünüz cisimlerin ismini örnek olabileceği tanımların altına yazalım.

Maddelerin kolaylıkla şekil almaması 2	Bir etki sonucunda kolayca kırılabilen maddeler 3	Sert olmayan kolayca şekil alan maddeler 4	Kaygan bir yüzeye sahip maddeler 5
Şekil değiştirip tekrar eski haline dönen maddeler 1	ESNEKLİK	PÜRÜZLÜLÜK	Yüzeyi girintili çıkıntılı olan maddeler 6
	KIRILGANLIK	YUMUŞAKLIK	
	SERTLİK	PÜRÜZSÜZLÜK	





# PROBLEM ÇÖZELİM

1

1-Aylin, Didem ve Gökçe'nin paraları toplamı 170 TL'dir. Aylin ile Didem'in paraları eşittir. Gökçe'ninde 50 TL sı vardır. Aylin ile Didem'in kaç TL paraları vardır?



2

Mehmet, Ege ve Mert'in babalarının yaşları toplamı 139 tir. Mehmet'in babası 43, Ege'nin babası 39 yaşında ise Mert'in babası kaç yaşındadır?

3

Bir deste kaleme 60 TL ödeyen Yusuf, üç düzine kalem alırsa kaç lira öder?

4

Üç basamaklı en büyük sayının 3'e bölümünün 33 eksiği kaçtır?

5


2 katı ile 4 katının toplamı 96 eden sayının yarısı kaçtır?



# PROBLEM ÇÖZELİM

Bir çıkarma işleminde eksilen ,çıkan ve kalanın toplamı 70 ,fark 15 ise çıkan sayı kaçtır?

6



7

Özge ile babasının yaşları toplamı 40, babasının yaşı Özge'nin yaşının 2 katından 4 fazladır.Babası kaç yaşındadır?

8

Bir bardak limonata için 3 tane limon kullanılmaktadır.Manavdan 55 tane limon aldık.17 bardak limonata yaptık.Kaç tane limon kalmıştır?

9

Zeynep aklından tuttuğu sayıyı 5 ile çarpınca ,çarpım 180 oluyor.Zeynep'in aklından tuttuğu sayının yarısı kaçtır?

10

75 metrelik bir kumaşı 5 eşit parçaya ayıran terzi kaç kesim yapar?



**Tatilini anlatan bir gnlk  
yaz, merakla bekliyoruz...**



# KENDİNE OKUL AÇILINCA UYGULAYACAĞIN BİR PLAN YAP



Pazartesi

--	--

Salı

--	--

Çarşamba

--	--

Perşembe

--	--



Cuma

--	--

Cumartesi

--	--

Pazar

--	--

