
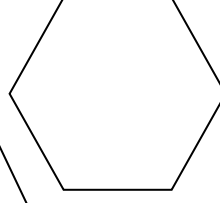
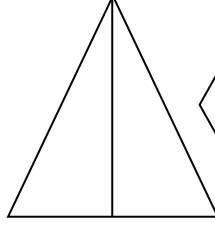



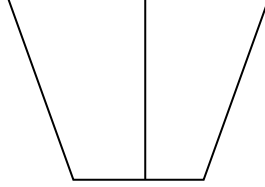
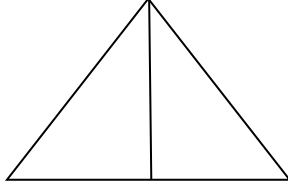
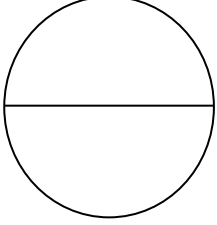


ADI SOYADI : .....

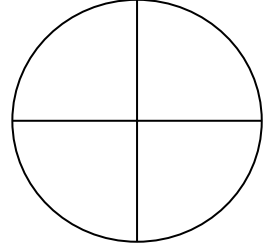
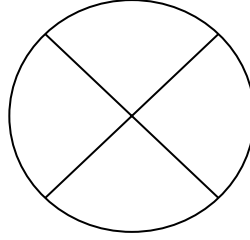

A- Aşağıdaki kesirlerin bütünü boyayınız.



B- Aşağıdaki kesirlerin yarısını boyayınız.



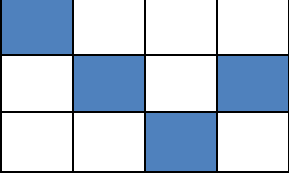

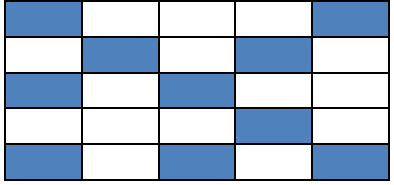

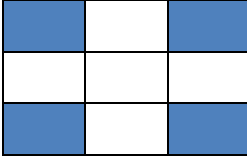
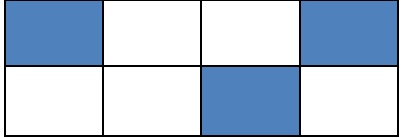
C- Aşağıdaki kesirlerin çeyreğini boyayınız.



D- Aşağıdaki kesirlerin okunuşlarını yazıp, istenen kesir kadarını boyayınız.

$\frac{3}{6}$	<div>.....</div> <div>Ya da</div> <div>.....</div>	<table><tr><td></td><td></td><td></td></tr><tr><td></td><td></td><td></td></tr></table>									
$\frac{2}{4}$	<div>.....</div> <div>Ya da</div> <div>.....</div>	<table><tr><td></td><td></td></tr><tr><td></td><td></td></tr></table>									
$\frac{3}{8}$	<div>.....</div> <div>Ya da</div> <div>.....</div>	<table><tr><td></td><td></td><td></td><td></td></tr><tr><td></td><td></td><td></td><td></td></tr></table>									
$\frac{3}{9}$	<div>.....</div> <div>Ya da</div> <div>.....</div>	<table><tr><td></td><td></td><td></td></tr><tr><td></td><td></td><td></td></tr><tr><td></td><td></td><td></td></tr></table>									

E- Aşağıdaki tabloda boş bırakılan yerleri doldurun.

 <p>..... parçaya ayrılmış. ..... parçası alınmış.</p> <p>..... .....</p>	 <p>..... parçaya ayrılmış. ..... parçası alınmış.</p> <p>..... .....</p>	 <p>..... parçaya ayrılmış. ..... parçası alınmış.</p> <p>..... .....</p>
 <p>..... parçaya ayrılmış. ..... parçası alınmış.</p> <p>..... .....</p>	 <p>..... parçaya ayrılmış. ..... parçası alınmış.</p> <p>..... .....</p>	 <p>..... parçaya ayrılmış. ..... parçası alınmış.</p> <p>..... .....</p>

**F-** Aşağıdaki kesirlerin okunuşlarını yazınız.

$\frac{1}{6}$  ...Bir bölü altı.....  $\frac{5}{9}$  .....  $\frac{4}{8}$  .....

$\frac{1}{6}$  ....Altıda bir.....  $\frac{5}{9}$  .....  $\frac{4}{8}$  .....



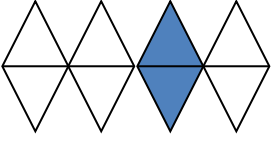

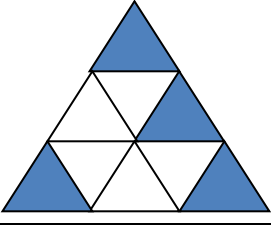
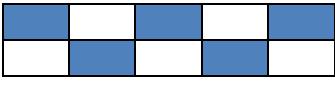
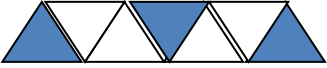
$\frac{1}{9}$  .....  $\frac{1}{2}$  .....  $\frac{3}{10}$  .....

$\frac{1}{9}$  .....  $\frac{1}{2}$  .....  $\frac{3}{10}$  .....

**G-** Aşağıda verilen kesirlere uygun şekilleri çiziniz.

$\frac{2}{4}$ _____	$\frac{1}{3}$ _____	$\frac{3}{5}$ _____
$\frac{4}{9}$ _____	$\frac{7}{10}$ _____	$\frac{1}{4}$ _____

**H-** Tabloda verilen kesir şekillerine göre istenenleri yazınız.

Bütün	Kesir Sayısı	Birim Kesri	Kesrin Okunuđu
			..... ya da .....
			..... ya da .....
			..... ya da .....
			..... ya da .....
			..... ya da .....
			..... ya da .....
			..... ya da .....

I- Ařağıdaki tabloda boş bırakılan yerleri doldurun.

Veriler	Kesir Sayısı	Kesir Sayısının Okunuşu
* Tabaktaki 24 eriğın 10 tanesini yedik.	$\frac{10}{24}$	24'te,10 24 bölü 10
* Aldığım 15 balondan 4 tanesi patladı.		
* Doğum günümde 9 eş dilime bölünen pastanın 5 dilimini yedik.		
* 32 sayfalık hikaye kitabımın 18 sayfasını okudum.		
* Bir düzine kalemin 8 tanesini kardeşime verdim.		
* Kolideki 30 yumurtanın 10 tanesi kırıldı.		
* Kırtasiyedeki 12 silginin 5 tanesi satıldı.		
* Ahırdaki 7 koyunu 5'i kaçmış.		
* 5 şekerin 5'ini de kardeşime verdim.		
* 18 kalemimin 9'u kayboldu.		
* Fırındaki 20 pideden 9'i satıldı.		
* Çiftlikteki 15 inekten 8'si hastalanıp öldü.		
* Testteki 25 işlemin 5'ini yapamadım.		
* Okulumuzdaki 28 sınıfın 14'ü sinemaya gitti.		

Zekiye SARP

Sınıf Öğretmeni