

# GRUPLAYALIM PAYLAŞTIRALIM

~1~

Bir çokluğu eşit şekilde paylaştırırken varlıkları gruplara eşit olarak dağıtırız.

**Örnek:** 12 top 3 çocuğa eşit olarak paylaştırılacaktır. Her çocuk kaç top alır? sorusunun çözümünü inceleyelim.

Önce 3 çocuğa birer top verelim.

1. çocuk

2. çocuk

3. çocuk



Sonra birer top daha verelim.



Ardından birer top daha verelim.



Son olarak kalan 3 topu da paylaştıralım.



12 topu 3 çocuğa paylaştırdık.  
Her çocuğa 4 top düştü.






10 dondurmayı ikilerli gruplayalım.



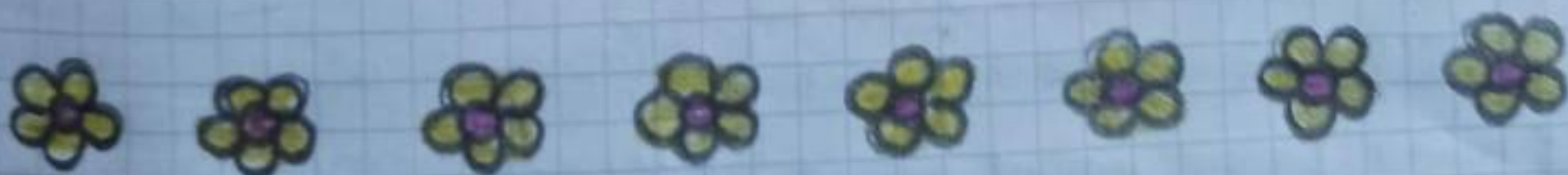
10 dondurmayı 2'şerli  
grupladığımızda 5  
grup oluştu.




9 kalemi üçerli gruplayalım.



9 kalemi 3'lerli grupladığımızda 3  
grup oluştu.



8 çiçeği ikilerli gruplayalım.



8 çiçeği 2'şerli grupladığımızda 4 grup oluştu.



# ÇALIŞMA SAYFASI

~3~


1. Verilen soruları görsellere göre örneklerdeki gibi cevaplayalım.



- Toplam nesne sayısı = 15
- Üçerli grup sayısı = 5
- Beşerli grup sayısı = 3




- Toplam nesne sayısı =
- İkişerli grup sayısı =
- Birerli grup sayısı =
- Beşerli grup sayısı =



- Toplam nesne sayısı =
- Üçerli grup sayısı =
- İkişerli grup sayısı =
- Dörderli grup sayısı =



- Toplam nesne sayısı =
- İkişerli grup sayısı =
- Üçerli grup sayısı =
- Altışarlı grup sayısı =



- Toplam nesne sayısı =
- İkişerli grup sayısı =
- Beşerli grup sayısı =
- Dörderli grup sayısı =



# ARDIŞIK ÇIKARMA İŞLEMİ YAPARAK ~ 4 ~ PAYLAŞTIRALIM

Örnek: 10 havucu 2 kişiye eşit olarak paylaştıralım.



$$10 - 2 = 8 \rightarrow 1. \text{ işlem}$$

$$8 - 2 = 6 \rightarrow 2. \text{ işlem}$$

$$6 - 2 = 4 \rightarrow 3. \text{ işlem}$$

$$4 - 2 = 2 \rightarrow 4. \text{ işlem}$$

$$2 - 2 = 0 \rightarrow 5. \text{ işlem}$$

5 defa çıkarma yaptığım için her bir kişiye 5 havuç düşer.

$$\begin{array}{r} 10 \\ - 2 \\ \hline 8 \end{array} \rightarrow \begin{array}{r} 8 \\ - 2 \\ \hline 6 \end{array} \rightarrow \begin{array}{r} 6 \\ - 2 \\ \hline 4 \end{array} \rightarrow \begin{array}{r} 4 \\ - 2 \\ \hline 2 \end{array} \rightarrow \begin{array}{r} 2 \\ - 2 \\ \hline 0 \end{array}$$

♥ Nesne topluluğundan belli bir nesne sayısı ardışık olarak çıkarılırsa grup sayısı bulunur. Bu nesnelerin kaç kişiye paylaştırıldığını ya da bölündüğünü gösterir.



## ÇALIŞMA SAYFASI

~5~

1. Aşağıda verilen nesne gruplarını ardışık çıkarma işlemi yaparak paylaştıralım.

a- 18 çileği 3 kişiye eşit paylaştıralım.

b- 16 armutu 4 kişiye eşit paylaştıralım.

c- 20 eriği 5 kişiye eşit paylaştıralım.

d- 12 mısırı 2 kişiye eşit paylaştıralım.

e- 15 yumurtayı 3 kişiye eşit paylaştıralım.

f- 14 kitabı 7 kişiye eşit paylaştıralım.

g- 10 kurabiyeyi 2 kişiye eşit paylaştıralım.

h- 21 elmayı 3 kişiye eşit paylaştıralım.



# 5. ÜNİTE

## ÜLKEMİZDE HAYAT

### TÜRKİYE'M NEREDE?

♥ Yaşadığımız gezegenin adı Dünya'dır. Dünya küreye benzemektedir.

♥ Dünya'mızı Güney ve Kuzey Yarım Küre olarak ikiye ayırırız. Türkiye'miz **Kuzey Yarım Küre**'de bulunur.

♥ Dünya üzerinde karalar ve sular bulunur. Ülkemiz **Asya** ve **Avrupa kıtaları** üzerinde yer alır.

♥ Ülkemizin üç tarafı denizlerle çevrilidir. Bu denizler:

- Ege Denizi

- Akdeniz

- Karadeniz'dir. Bir de Ülkemizin iç kısmında • Marmara Denizi vardır.

♥ Ülkemizin çevresinde Yunanistan, Bulgaristan, Suriye, Irak, İran, Gürcistan, Ermenistan, gibi komşu ülkeler vardır.

♥ Ülkemizin adı **Türkiye**'dir.

♥ Ülkemizin başkenti **Ankara**'dır.

♥ Harita ve kürelerde sular **mavi** renkte gösterilir.





## ÇALIŞMA SAYFASI

1. Aşağıdaki Türkiye haritası üzerinde başkenti sarıya, yaşadığımız ili kırmızıya, denizleri maviye boyayalım.



2. Aşağıdaki başlukları uygun kelimelerle dolduralım.

- \* Türkiye'miz ..... yarım kürede bulunur.
- \* Ülkemizin başkenti .....'dır.
- \* Haritalarda sular ..... renkte gösterilir.
- \* ..... ülkemizin iç kısmında bulunan bir denizdir.

3. Aşağıdakilerden hangisi Türkiye'nin komşu ülkelerinden değildir?

- A) İran                      B) Irak                      C) İngiltere

4. Aşağıdakilerden hangisi yanlış bir ifadedir?

- A) Türkiye kuzey yarım kürededir.  
 B) Türkiye'nin başkenti İstanbul'dur.  
 C) Türkiye'nin üç tarafı denizlerle çevrilidir.

5. Harita üzerinde sular hangi renkle gösterilir?

- A) Mavi                      B) Kırmızı                      C) Sarı





Yukarıdaki Türkiye haritasını inceleyelim.  
Soruları haritaya göre cevaplayalım.

1. Yaşadığınız şehrin adı nedir? Haritada bulup pembeye boyayalım.

2. Ülkemizin başkenti neresidir? Haritada bulup kırmızıya boyayalım.

3. Ülkemizin üst tarafında hangi deniz vardır?

4. Ülkemizin alt tarafında hangi deniz vardır?

5. Ülkemizin sol tarafında hangi deniz vardır?

6. Ülkemizin iç kısmında hangi deniz vardır?

7. Yaşadığınız ile komşu iki tane il yazınız.



# BAYRAĞIM VE İSTİKLAL MARŞIM

Bağımsız olan her ülkenin kendine ait bayrağı ve milli marşı vardır.



## BAYRAĞIMIZ

- Ülkemizin bayrağı **Türk Bayrağı**'dir.
- Bayrağımız kırmızı renktedir.
- Üzerinde beyaz ay ve yıldız vardır.
- Bayrağımız ülkemizin bağımsızlık ve özgürlük sembolüdür.
- Bayrağımız vatanımızı ve milletimizi temsil eder.
- Bayraklar ait olduğu devleti temsil eder. Bilim, sanat, müzik, spor dallarında düzenlenen törenlere ülkeler bayrakları ile katılır.

## MİLLİ MARŞIMIZ

- Ülkemizin milli marşının adı **İstiklal Marşı**'dir.
- İstiklal Marşı'nı **Mehmet Akif Ersoy** yazmıştır.
- Mehmet Akif Ersoy İstiklal Marşı'nı vatan sevgisi ve bağımsızlık duygusu hissederek yazmıştır.
- İstiklal Marşı'mız bağımsızlık ve özgürlük sembolümüzdür.
- İstiklal Marşı'nı **Osman Zeki Üngör** bestelemiştir.
- İstiklal Marşı'mız on kıtadan oluşur.




2.  
♥ İstiklal Marşı ve Türk bayrağı hepimizindir.

♥ İstiklal Marşı'mız ve göklerde dalgalanan Türk bayrağımız bize atalarımızdan kalan değerli bir hediyedir.

♥ İstiklal Marşı'mıza ve bayrağımıza karşı daima saygı duymalıyız.

♥ İstiklal Marşı'mız ve bayrağımız bağımsızlığımızın ve doğruluğumuzun sembolüdür.

♥ İstiklal Marşı'mız ve bayrağımız vatanımızı ve milletimizi temsil eder.



- Noktaları birleştirip bayrağımızı boyayalım.
- Aşağıda İstiklal Marşı ve bayrağımızla ilgili özellikler verilmiştir. Numaraları uygun bölüme yazalım.
  1. Vatanımızı ve milletimizi temsil eder.
  2. Ayakta ve saygı durumunda söylenir.
  3. Bağımsızlığımızın sembolüdür.
  4. Törenlerde okunur.
  5. Mehmet Akif Ersoy yazmıştır.
  6. Üzerinde ay ve yıldız vardır.

Bayrağımız ve  
İstiklal Marşı'mız

---

Bayrağımız

---

İstiklal  
Marşı'mız

---



- Aşağıdaki sembollerden hangisi bayrağımızın üzerinde yoktur?  
A) Yıldız  
B) Güneş  
C) Ay
- Milli marşımızın adı nedir?  
A) Cumhuriyet Marşı  
B) Hürriyet Marşı  
C) İstiklal Marşı
- İstiklal Marşı'nı kim yazmıştır?  
A) Osman Zeki Lingör  
B) Mehmet Akif Ersoy  
C) Mustafa Kemal Atatürk
- Bayrağımız ve İstiklal Marşı'mız ..... sembolüdür.  
Yukarıdaki ifadede boş bırakın yere hangisi gelmelidir?  
A) Bağımsızlık  
B) Misafirperverlik  
C) Kiskançlık
- İstiklal Marşı'mız kaç kıtadan oluşur?  
A) 5                      B) 8                      C) 10
- Aşağıdaki bilgilerden hangisi yanlıştır?  
A) Milli Marşımız İstiklal Marşı'dır.  
B) Milli Marşımızı Mehmet Akif Ersoy yazmıştır.  
C) Milli Marşımız iki kıtadan oluşur.
- Aşağıdaki renklerden hangisi bayrağımızda yoktur?  
A) Siyah                      B) Beyaz                      C) Kırmızı



# İSTİKLAL MARŞI

Korkma, sönmez bu şafaklarda yüzen al sancak;  
Sönmeden yurdumun üstünde tüten en son ocak.  
O benim milletimin yıldızıdır parlayacak;  
O benimdir, o benim milletimindir ancak.



Catma, kurban olayım, çehreni ey nazlı hilâl!  
Kahraman ırkıma bir gül! Ne bu şiddet, bu celâl?  
Sana olmaz dökülen kanlarımız sonra helâl.  
Hakkıdır Hakk'a tapan milletimin istiklâl.

Mehmet Akif ERSOY

- İstiklal Marşı ülkemizin milli marşıdır.
- Özgürlük ve bağımsızlığımızın sembolüdür.
- 12 Mart 1921 (Bin dokuz yüz yirmi bir) tarihinde Türkiye Büyük Millet Meclisi tarafından kabul edilmiştir.
- 10 kıtadan oluşur. Mehmet Akif Ersoy yazmıştır.
- İlk iki kıtası bestelenmiştir. Besteleyen Osman Zeki Üngör'dür.

12 Mart 1921 İstiklal Marşı'nın Kabulü