

YAZIM KURALLARI 6

BÜYÜK HARFLERİN KULLANILDIĞI YERLER



Yazı yazarken uymamız gereken kurallardan bir tanesi de büyük harflerin kullanımıdır.

1. ♥ Cümleler büyük harfle başlar.
Elmayı çok severim.
Akşam yemegini yedik.

2. ♥ Özel adlar büyük harfle başlar.
Mustafa **K**emal **A**tatürk
Mehmet **A**kif **E**rsoy

3. ♥ Hayvanlara verilen özel adlar büyük harfle başlar.
Kedim **P**amuk süt içti.
Otları yiyen **S**arıkız mı?

4. ♥ Şiirde her dizenin ilk harfi büyük harfle başlar.

Ağlasam kana kana,
Bu vatani kurtarana.
inan ki bir gün sana
Öldü denmiyor Ata'm.

5. ♥ Ülke ve şehir adları büyük harfle başlar. -2-
Ben **D**enizli 'de yaşıyorum.
Yazın **A**lmanya 'ya gideceğiz.

6. ♥ Adreslerde geçen mahalle, cadde, sokak kelimeleri ve isimleri büyük harfle başlar.

Karşıyaka **M**ahallesi

Atatürk **C**addesi

Lale **S**okak

Mutlu **A**partmanı

Kat: 3 **D**aire: 13

Pamukkale **D**enizli

7. ♥ Gezegen ve yıldız adları büyük harfle başlar.

Bilim adamları **M**ars'ta oksijen üretti.

! Güneş, dünya ve ay sözcükleri gezegen anlamı dışında kullanılırsa küçük harfle yazılır.

Ay **D**ünya'nın tek uydusudur. → Büyük yazılır.

Bugün **d**ünya kadar isim var. → Küçük yazılır.

8. ♥ Ulusal, resmi ve dini bayram adları büyük harfle başlar.

29 **E**kim **C**umhuriyet **B**ayramı

Kurban **B**ayramı


9. ♥ Belirli bir tarih bildiren ay ve gün adları büyük harfle başlar.

Kardeşim 10 **H**aziran 1982 **Ç**arşamba günü doğdu.

10. ♥ Mektuplarda hitap sözleri büyük harfle başlar.

Sevgili **T**eyzedğim,

1. Aşağıdaki cümlelerin yanlışlarını düzelterek altlarına doğrularını yazalım.



a. minenin doğum günü 20 Mayıs 2012 Cuma günüydü.

b. Annem denizli'ye gitti.

c. köpeğim karabaş'ı veterinerine götürdük.

d. biz Türkiye'de yaşıyoruz.

e. Yarın 29 Ekim Cumhuriyet Bayramı.

f. Yaz aylarında Antalya çok sıcak olur.

g. ülkemizin kuzeyinde Karadeniz güneyinde Akdeniz vardır.

h. İlk cumhurbaşkanımız Mustafa Kemal Atatürk'tür.

i. ay dünyanın uydusudur.

j. Kuşumun adını bulut koyduk.

k. ramazan bayramı ve kurban bayramı dini bayramlarımızdır.

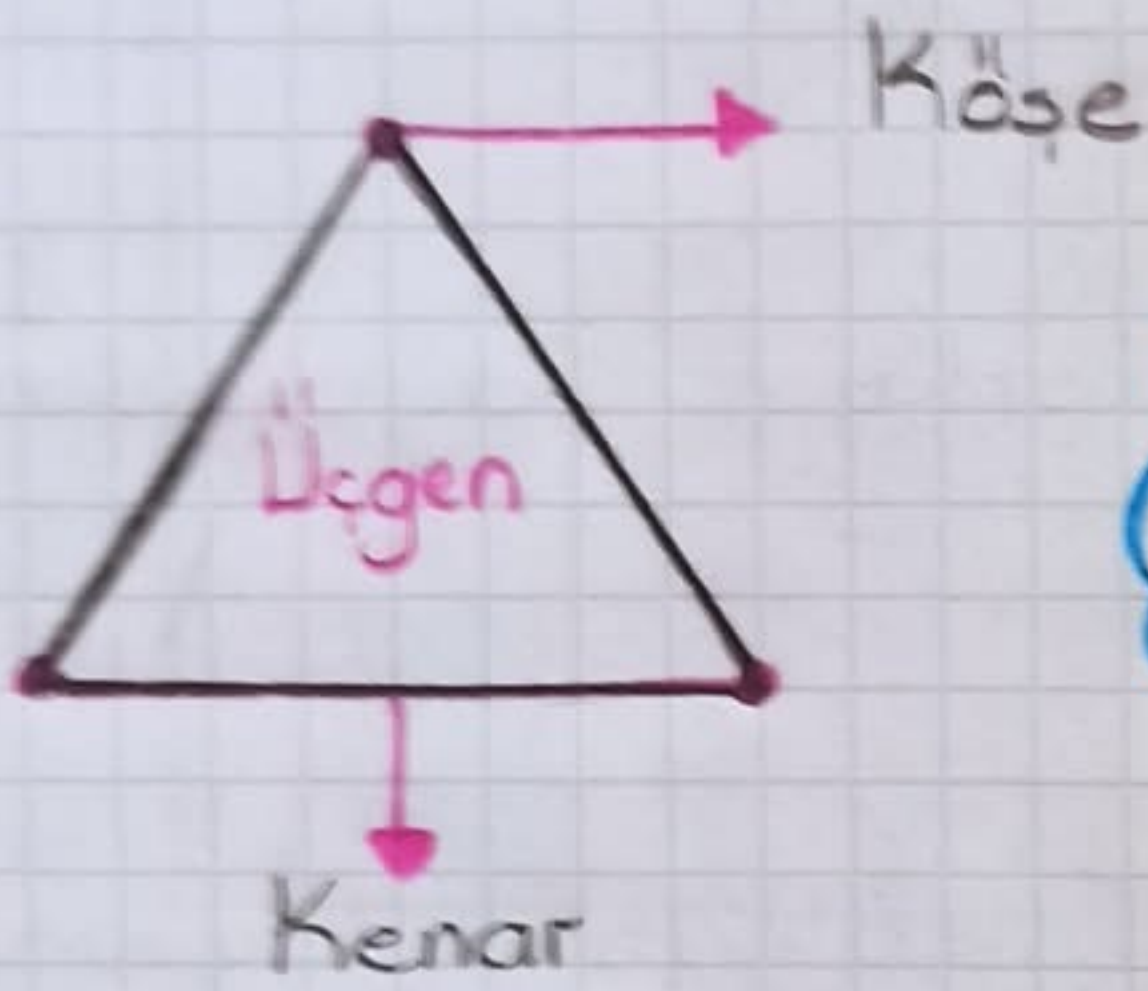
l. Yeni dükkanı hürriyet caddesinde açtık.

5. ÜNİTE: GEOMETRİK CİSİMLER ①

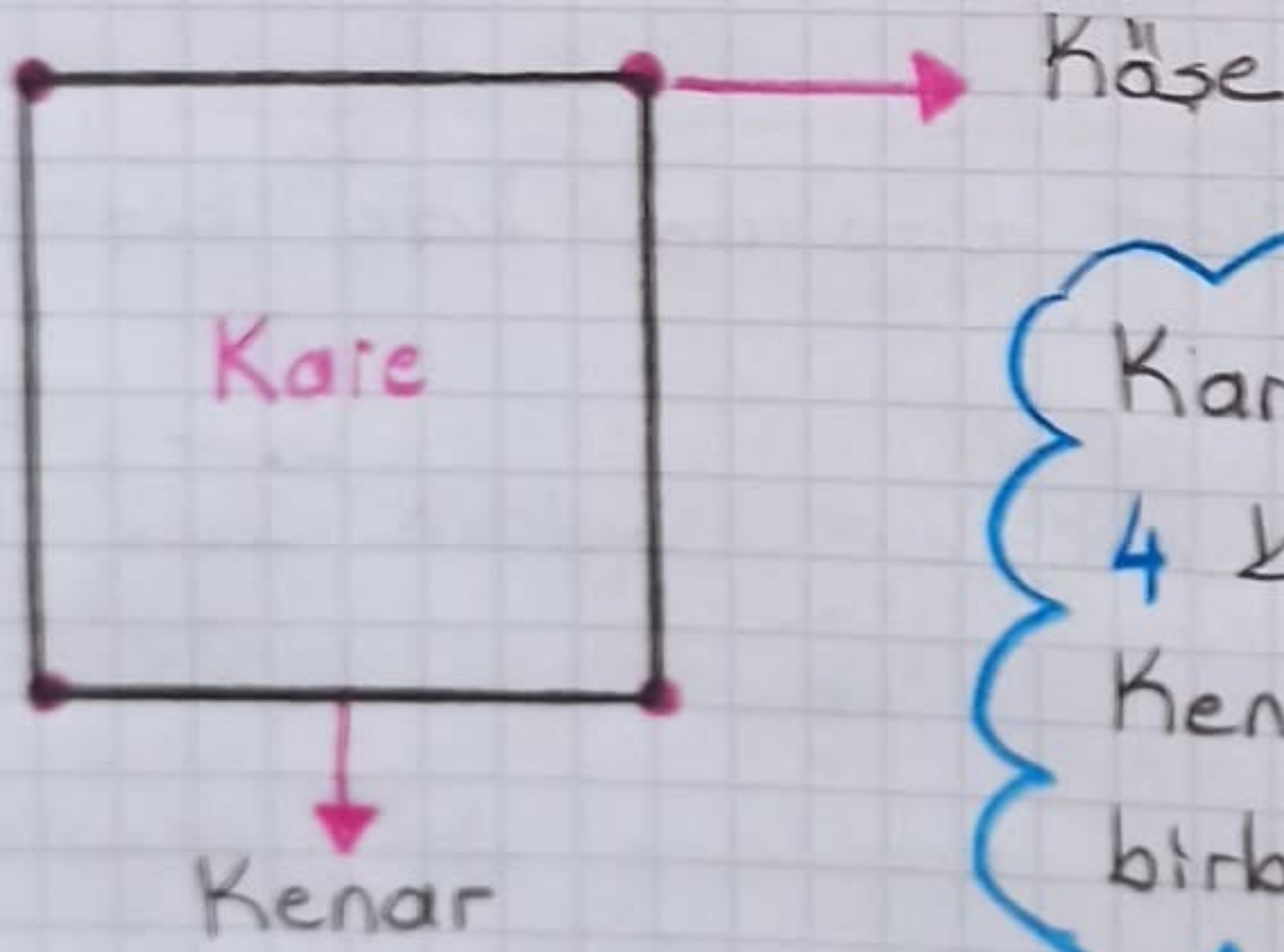
VE ŞEKİLLER

Üçgen, Kare ve Dikdörtgenin Kenar ve Köşelerini isimlendirelim

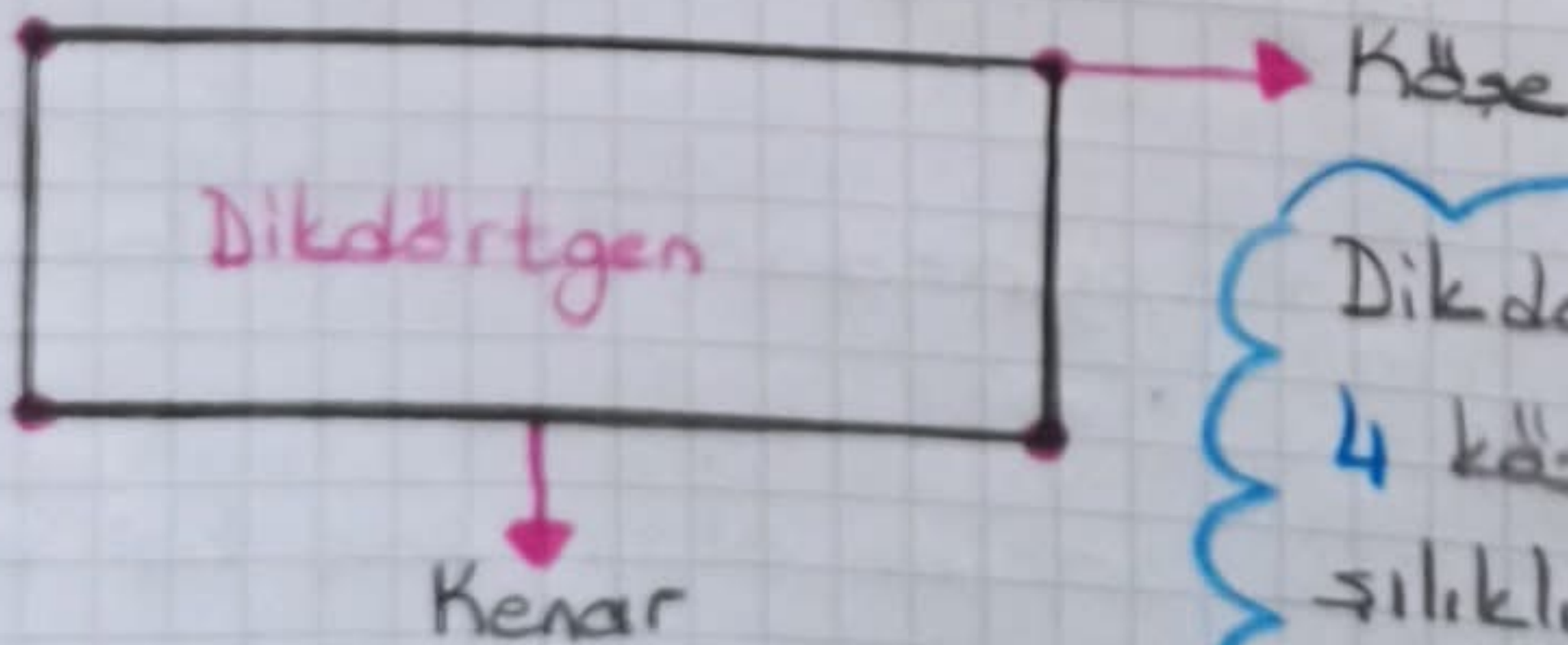
♥ Geometrik şekiller **kenar sayılarına** göre isimlendirilirler



Üçgenin 3 kenarı,
3 köşesi vardır.

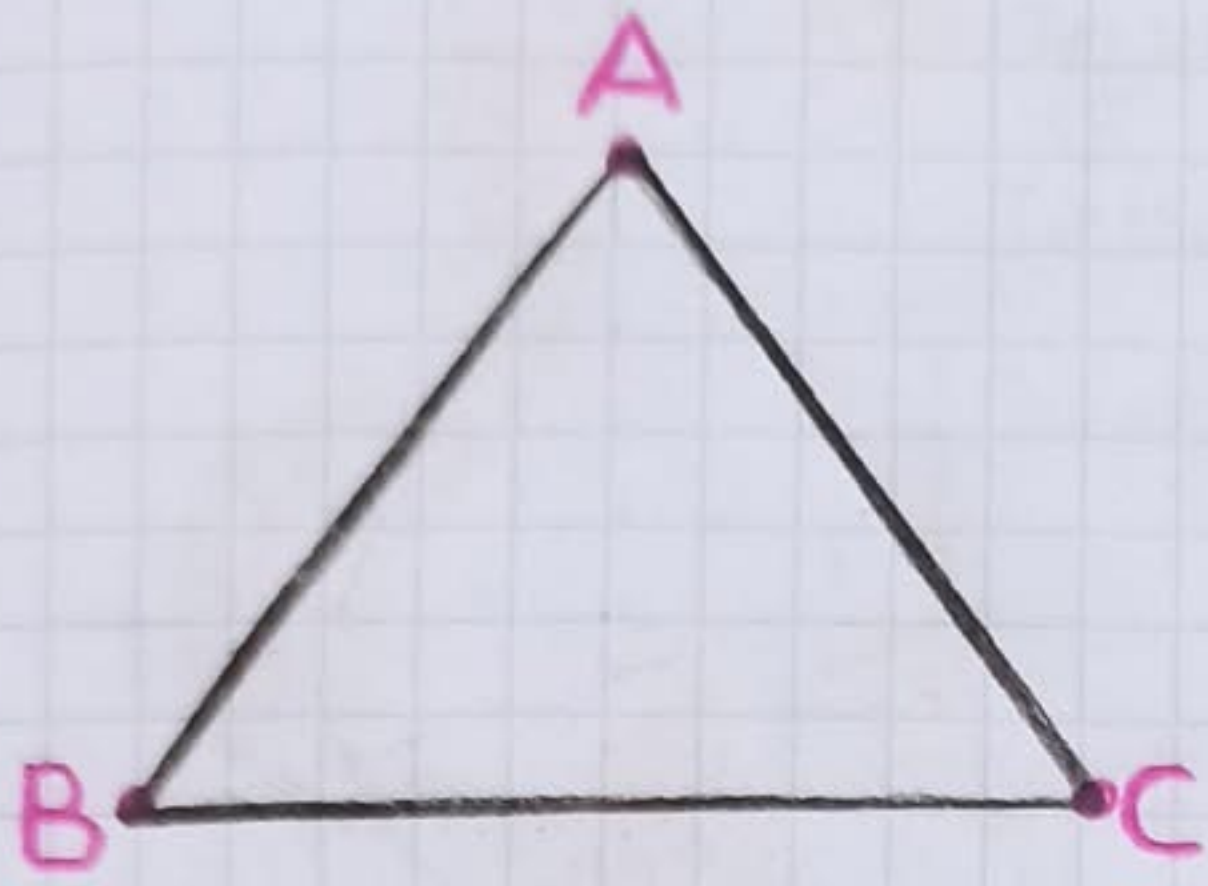


Kiarenin 4 kenarı,
4 köşesi vardır.
Kenar uzunlukları
birbirine eşittir.



Dikdörtgenin 4 kenarı,
4 köşesi vardır. Kar-
şılıklı kenar uzun-
lukları eşittir.

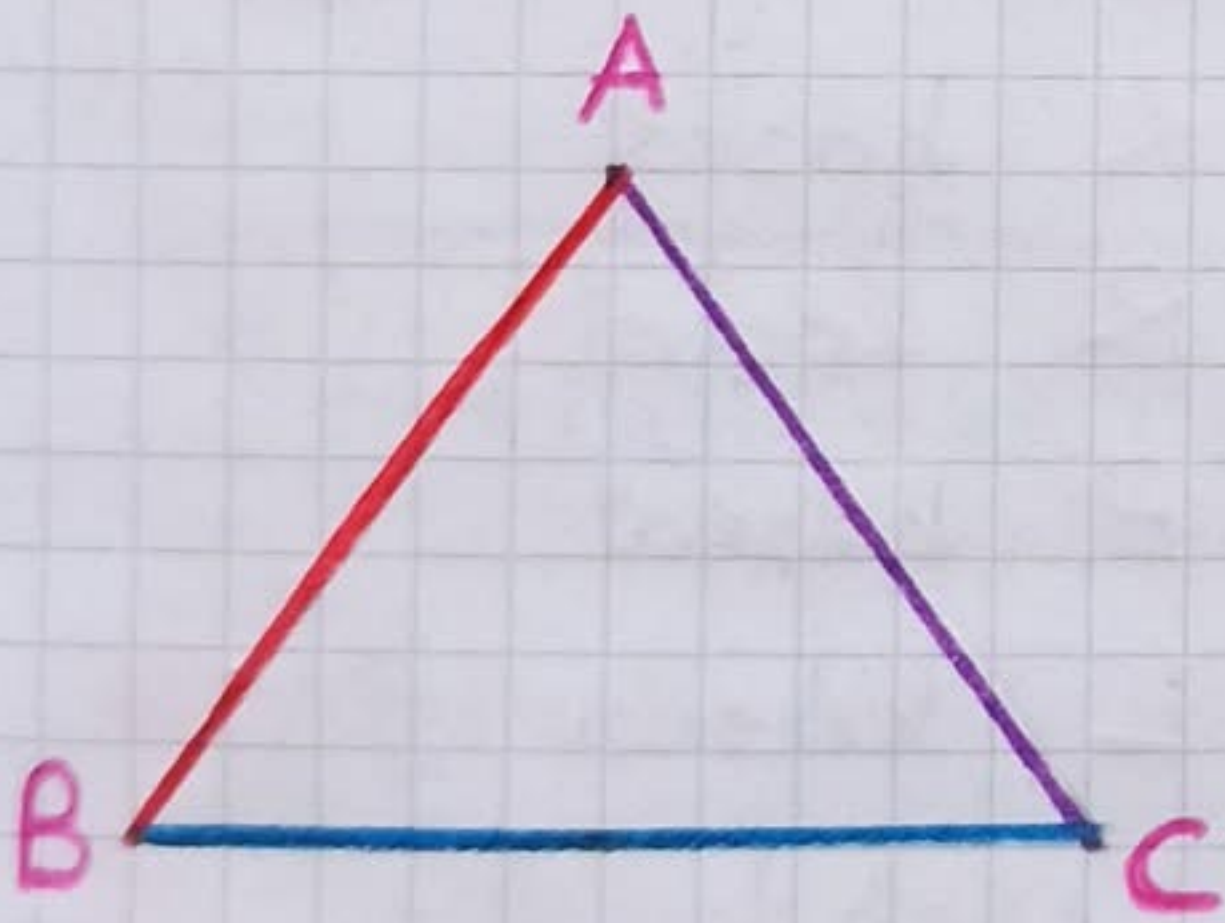
♥ Üçgen, kare ve dikdörtgenin köşeleri isimlendirilirken büyük harfler kullanılır



Üçgenin Köşeleri

- A köşesi
- B köşesi
- C köşesi


♥ Üçgen kare ve dikdörtgenin kenarları isimlendirilirken büyük harfler kullanılır. Komşu köşeler takip edilerek adlandırma yapılır. Kenarların isimlendirilmesi saat yönünde ya da saatin tersi yönünde olur.



Üçgenin Kenarları

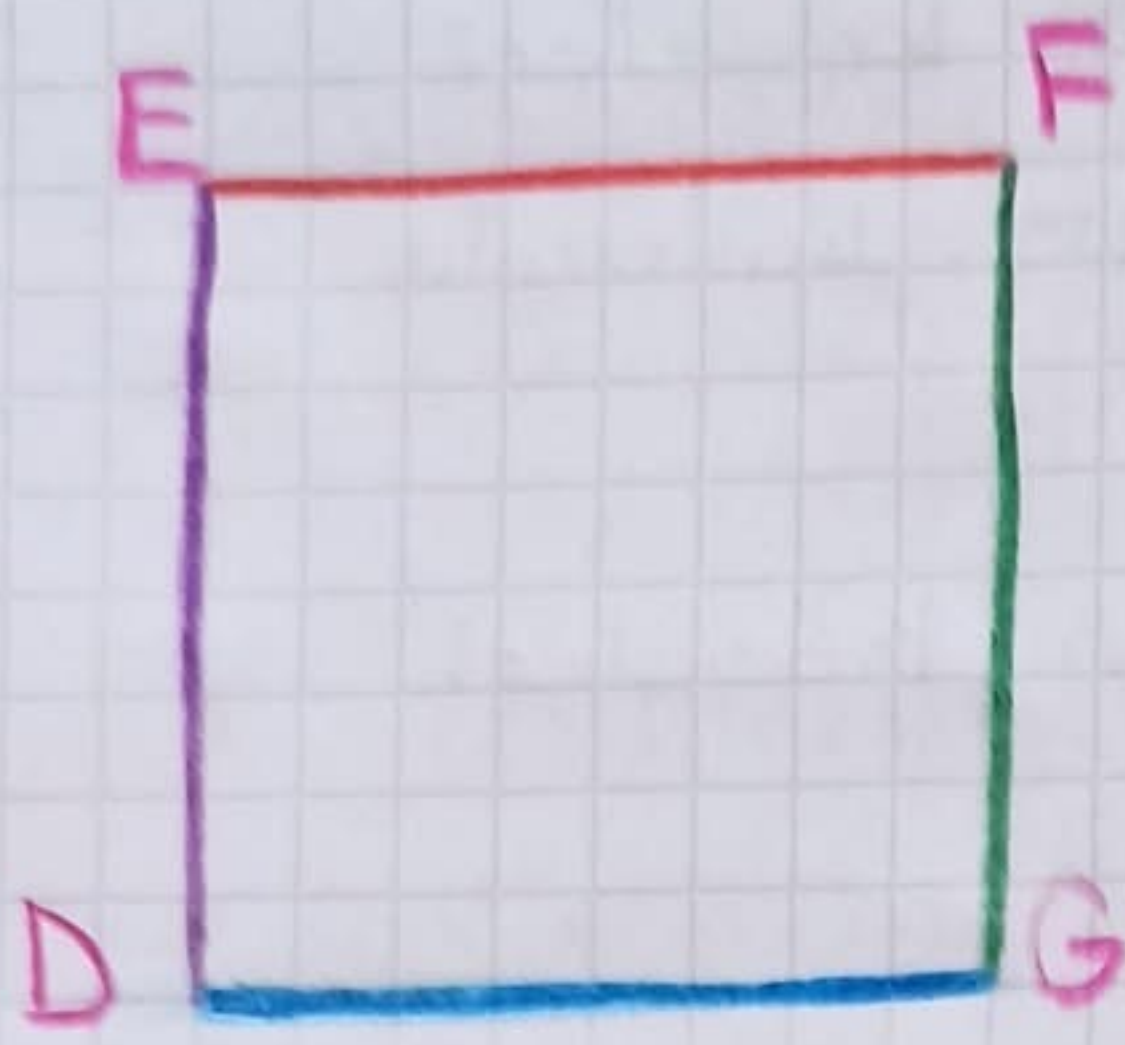
- AB kenarı
- BC kenarı
- CA kenarı

• ABC üçgeni olarak isimlendiririz



Üçgen, kare ve dikdörtgenin farklı yönlerde bakıyor olmaları sahip oldukları özellikleri değiştirmez

• KLM üçgeni




Karenin Köşeleri

D köşesi
E köşesi
F köşesi
G köşesi

Karenin Kenarları

EF kenarı
FG kenarı
GD kenarı
DE kenarı

• DEFG karesi



Dikdörtgenin Köşeleri

K köşesi
R köşesi
P köşesi
L köşesi

Dikdörtgenin Kenarları

KR kenarı
RP kenarı
PL kenarı
LK kenarı

• KRPL dikdörtgeni

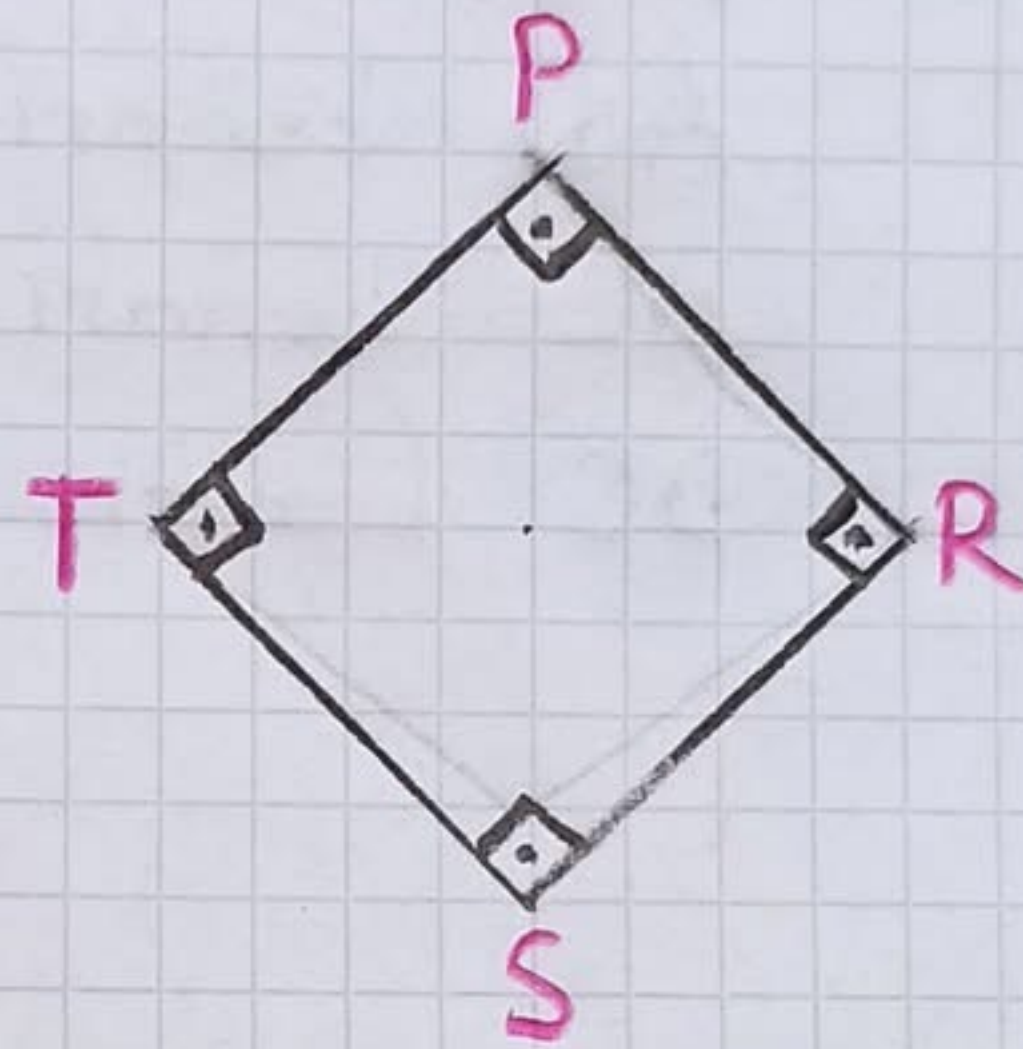
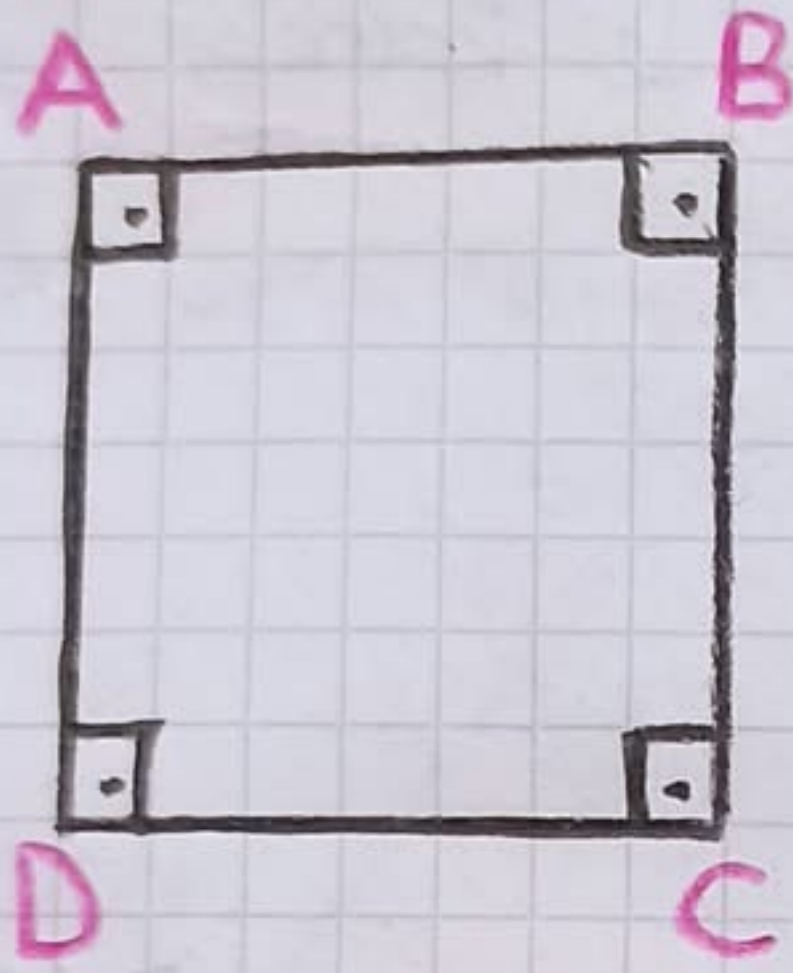
Kare ve Dikdörtgenin Kenar Özellikleri

4



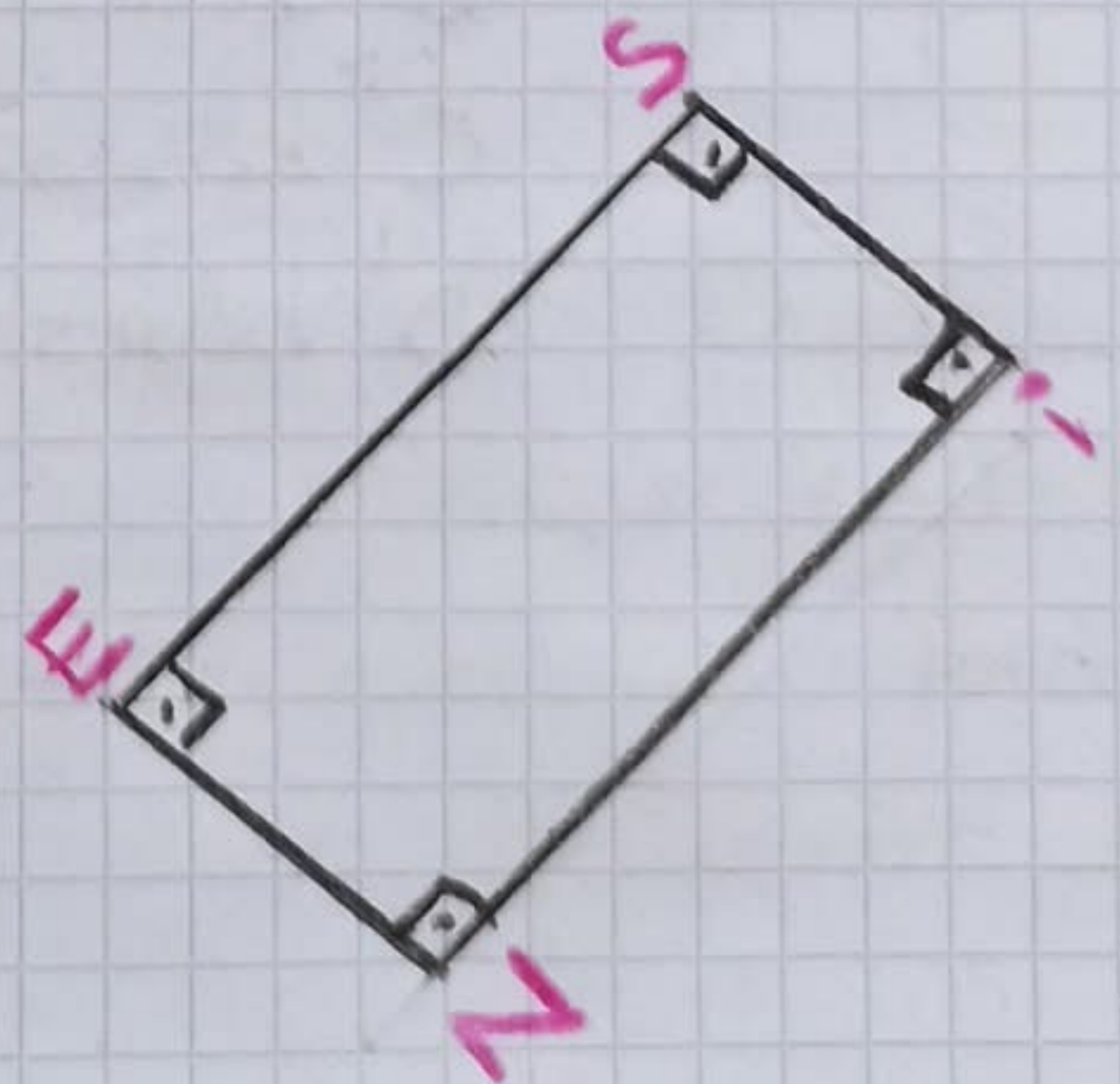

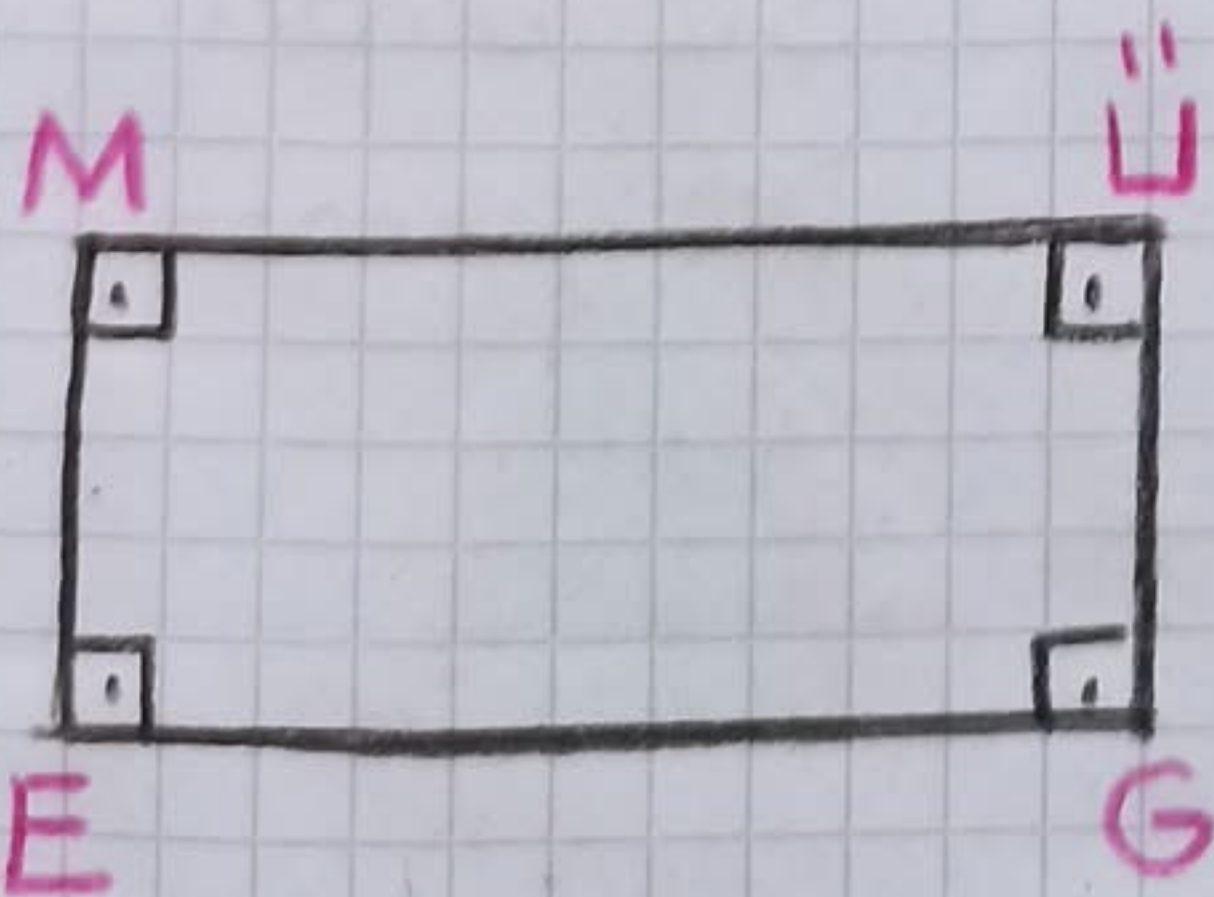
KARE

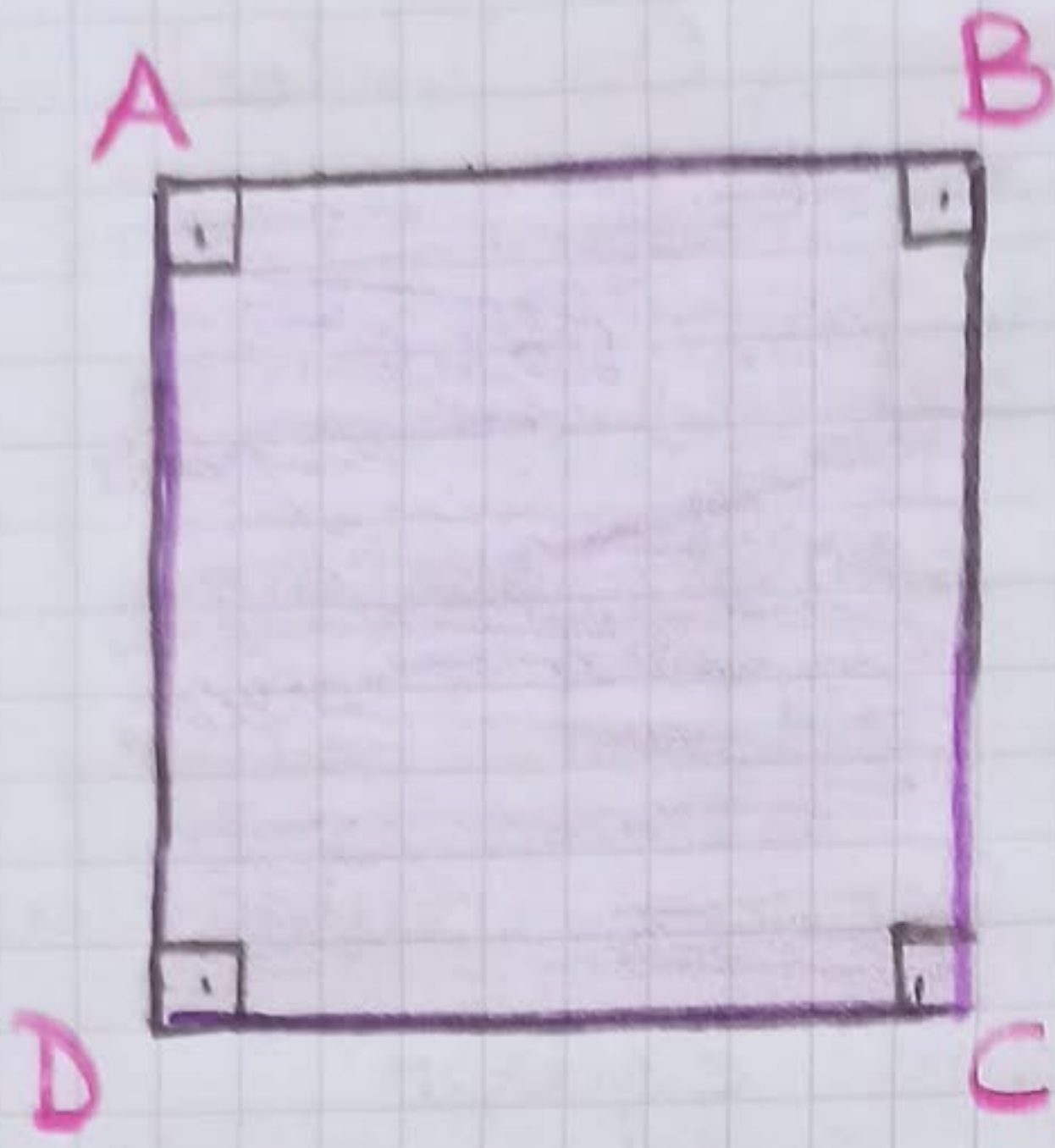
- ♥ Dört kenarı vardır.
- ♥ Dört köşesi vardır.
- ♥ Tüm kenar uzunlukları birbirine eşittir.



DIKDÖRTGEN

- ♥ Dört kenarı vardır.
- ♥ Dört köşesi vardır.
- ♥ Karşılıklı kenar uzunlukları birbirine eşittir.
- ♥ İki eşit uzun kenarı, iki eşit kısa kenarı vardır.






Şekildeki karenin

Köşeleri A köşesi
B köşesi
C köşesi
D köşesi

Kenarları AB kenarı
AD kenarı
BC kenarı
DC kenarı

• ABCD karesi



• ABCD dikdörtgeni

Şekildeki dikdörtgenin

Köşeleri A köşesi
B köşesi
C köşesi
D köşesi

Kenarları AB kenarı
AD kenarı
BC kenarı
DC kenarı

ÜÇGENLERİ KENAR UZUNLUKLARINA GÖRE SINIFLANDIRALIM

⑥

Kenarlarına Göre Üçgenler

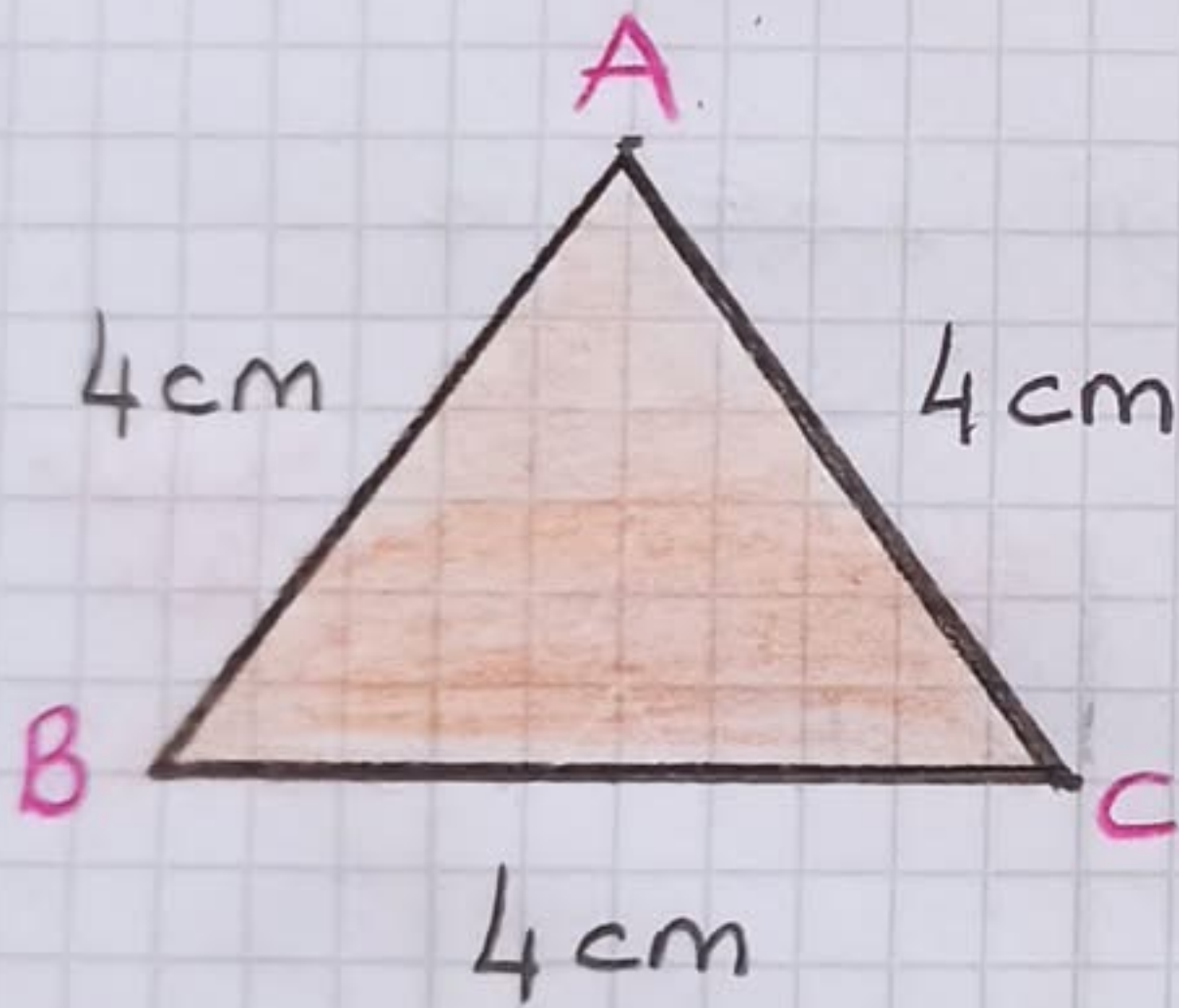
Eşkenar Üçgen

İkizkenar Üçgen

Çeşitkenar Üçgen

1. Eşkenar Üçgen

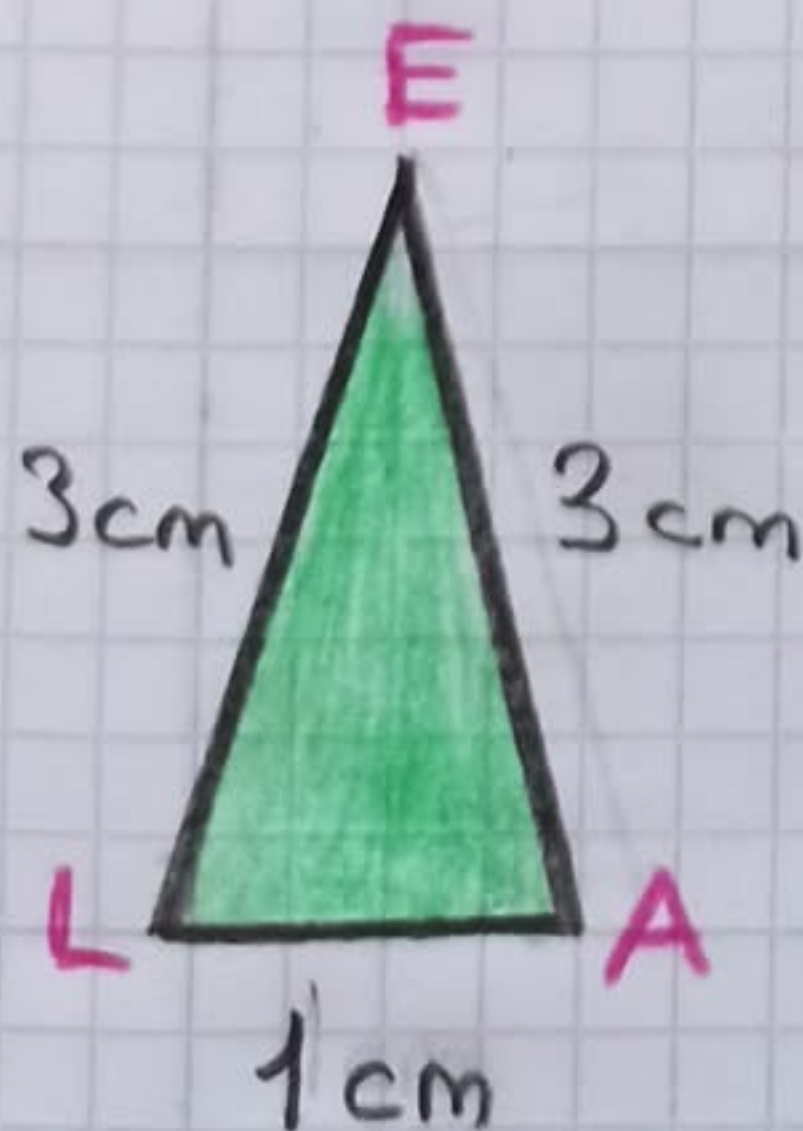
Üç kenarının uzunluğu birbirine eşit olan üçgenlere **eşkenar üçgen** denir.



ABC üçgeni her bir kenarının uzunluğu 4 cm olan eşkenar üçgendir.

2. İkizkenar Üçgen

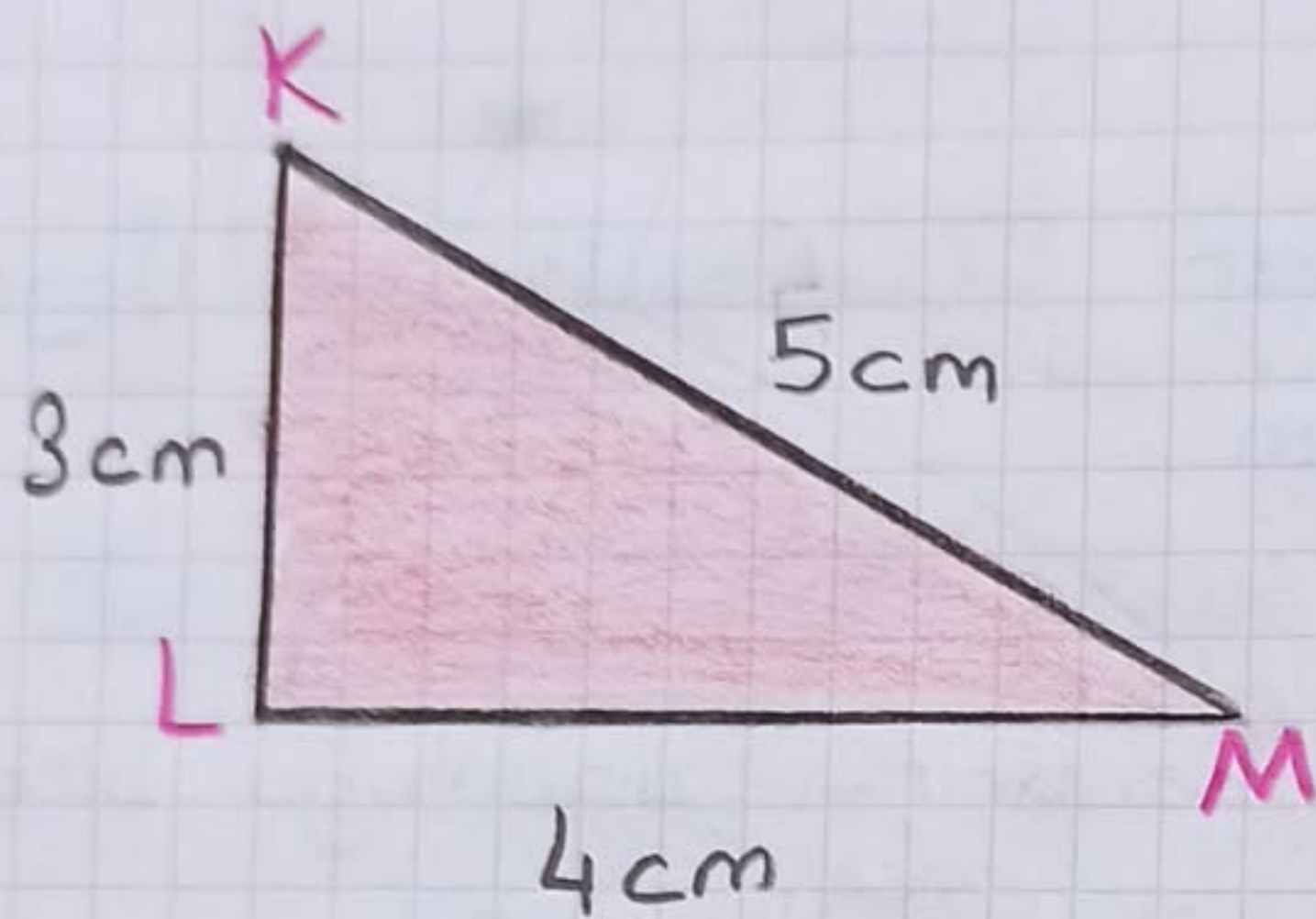
İki kenarının uzunluğu birbirine eşit olan üçgenlere **ikizkenar üçgen** denir.



ELA üçgeni iki kenarının uzunluğu birbirine eşit, 3. kenarının uzunluğu farklı olduğu için ikizkenar üçgendir.


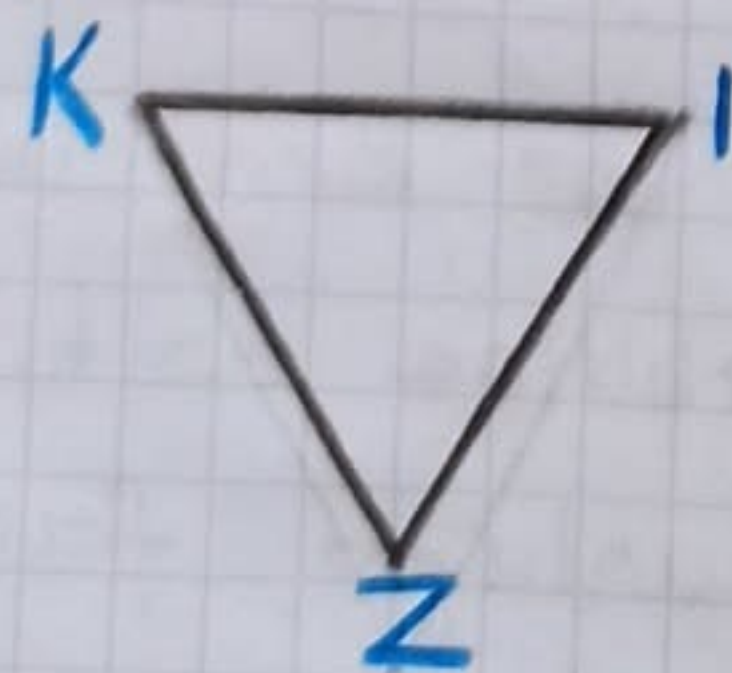
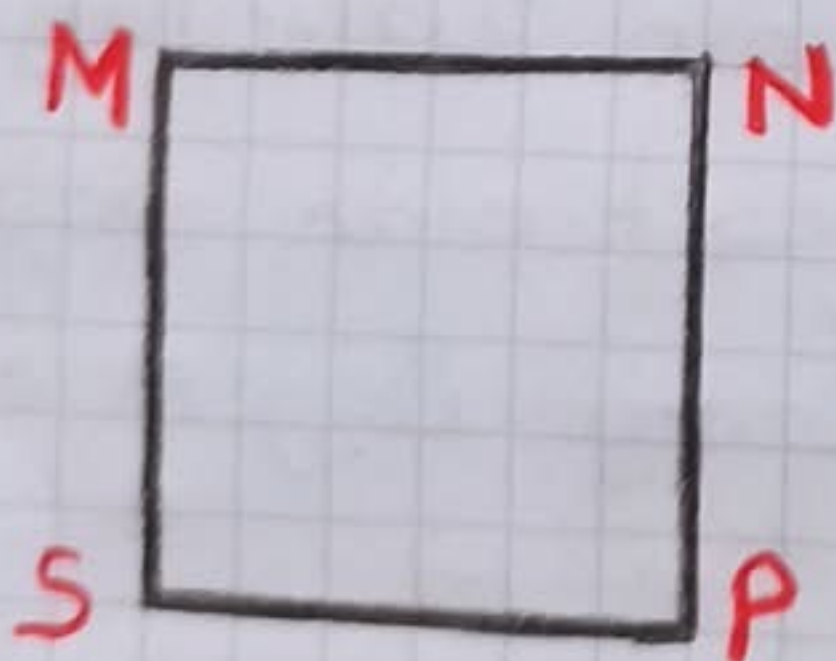
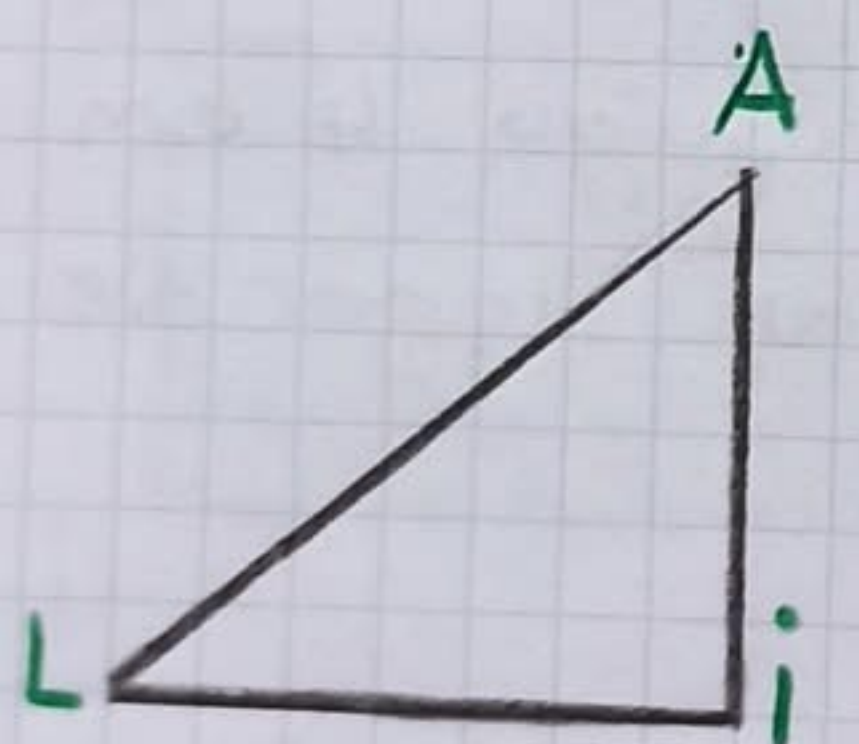
3. Çeşitkenar Üçgen

Üç kenarının uzunluğu birbirinden farklı olan üçgenlere **çeşitkenar üçgen** denir.



KLM üçgeni, kenar uzunlukları birbirinden farklı olduğu için çeşitkenar üçgendir.

♥ Aşağıdaki geometrik şekillerin köşe ve kenarlarını adlandırınız.




Köşeleri

Kenarları

Şeklin Adı

AİLEMİZİN EKONOMİSİ

-1-



İnsanlar geçimlerini sağlamak ve yaşamlarını sürdürebilmek için çeşitli işler yaparlar. İnsan ihtiyaçlarının karşılanmasına yönelik olarak sürdürülen bu işlerin her birine **ekonomik faaliyet** denir.

Ülkemizde Yapılan Başlıca Ekonomik Faaliyetler

Tarım

Hayvancılık

Sanayi

Ulaşım

Ormancılık

Madencilik

Turizm

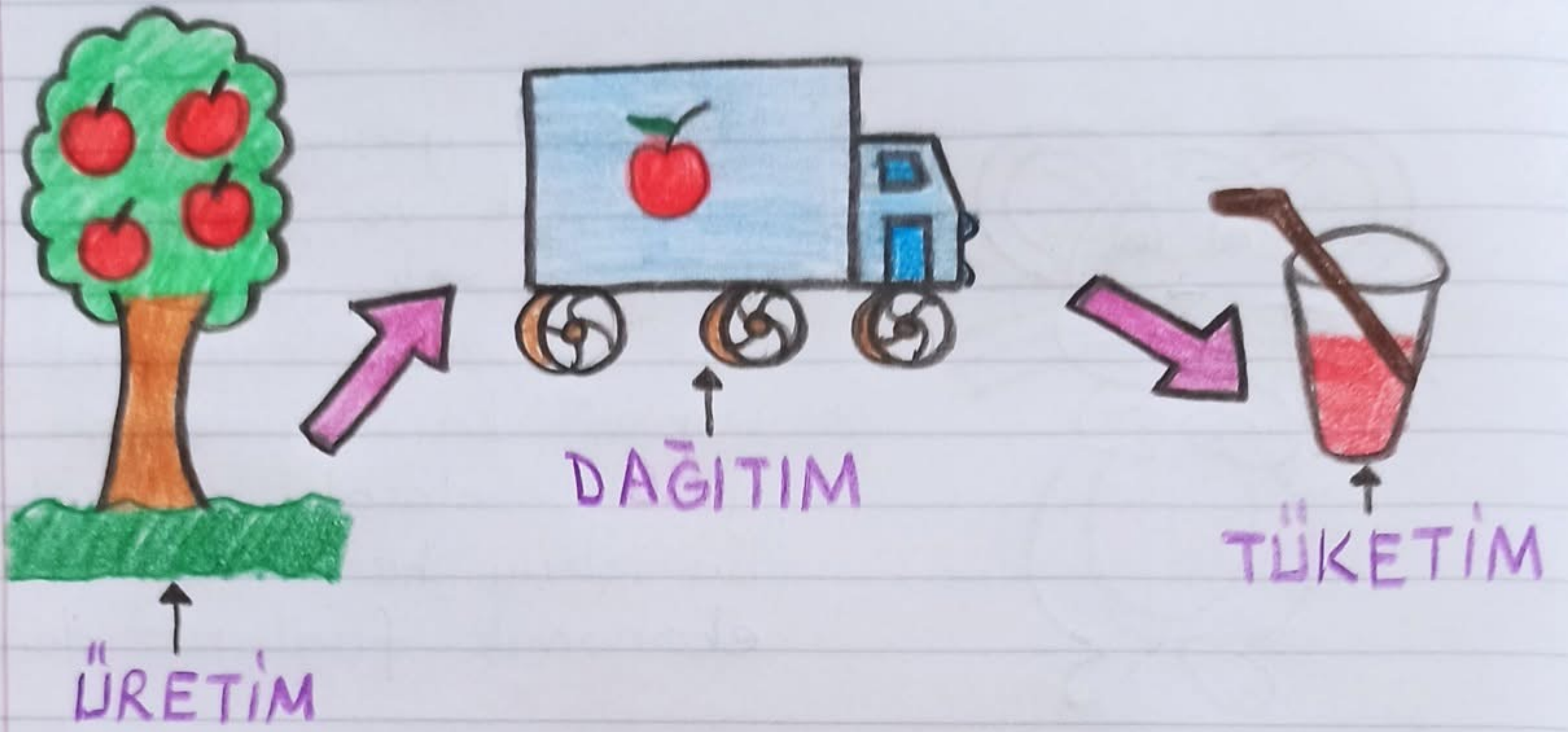
Hizmet

Ekonomik faaliyetlerin temeli üretime dayanır.

♥ **Üretim** → İnsanların ihtiyaç duyduğu malların veya hizmetlerin meydana getirilmesidir.

♥ **Dağıtım** → Üretimi gerçekleştirmiş olan ürünlerin zamanında market, mağaza ya da farklı yerlere ulaştırılmasına denir.

♥ **Tüketim** → Satış noktalarına ulaştırılmış olan ürünlerin insanlar tarafından satın alınması o ürünün kullanılmasıdır.



Örnek Üretim Dağıtım Tüketim Aşamaları

- Çiftçi pamuğu üretir → Üretim
- Pamuk fabrikada iplik haline getirilir → Üretim
- İplik kumaş haline getirilir → Üretim
- Üretilen ürünler mağazalara taşınır → Dağıtım
- Giysiler mağazada bize ulaşır, satın alır giyeriz. → Tüketim

♥ Ekonomik faaliyetlerin devamlı sürdürülmesi sonucu meslekler ortaya çıkmıştır. Bir insanın geçimini sağlamak ve toplumun ihtiyaçlarını karşılamak için yaptığı sürekli işe **meslek** denir. Örneğin çiftçilik, polislik, öğretmenlik, avukatlık, işçilik, doktorluk, esnafılık vb. birer meslektir.

Ailemizin gerçekleştirdiği ekonomik faaliyetler gelir elde etmemizi sağlar. Ailemizin ihtiyaç duyduğu her şeyin gelir ve gider durumuna göre hesaplanması için aile bütçesi oluşturulmalıdır.

Aile bütçemiz oluşturulurken tüm gelir ve giderler hesaplanır.

Aile bütçemiz hazırlanırken gereksiz harcamalardan kaçınmalıyız.

Aile ekonomimiz için hepimiz giderlerin azaltılması için elimizden geleni yapmalıyız.

Aşağıdaki boşlukları uygun kelimelerle dolduralım.

üretim	ekonomi	meslek	geçimlerini
--------	---------	--------	-------------

ekonomik faaliyetler	dağıtım
----------------------	---------

1. Maddelerin çeşitli işlemlerden geçirilerek ürün haline getirilmesine denir.

2. Bir ürünün üretildikten sonra tüketiciye ulaşana kadar geçen aşamaların bütününe denir.

3. Bir ürünün üretimi ve tüketimi arasında geçen sürece denir.

4. Ekonomi ile ilgili yapılan tüm faaliyetlere denir.

5. belli bir eğitim ile kazanılan bilgi ve beceri gerektiren bir iştir.

6. İnsanlar işler yaparlar. sağlayabilmek için çeşitli

5. ÜNİTE: KURALLAR

KURALLARIN ÖNEMİ

Davranışlarımıza yön veren, hangi durumlarda nelere uymamız gerektiğini belirten ilkelere **kural** denir.

İnsanların beraberce düzen içinde yaşayabilmeleri için uymaları gereken kurallar vardır.

Kurallar;

♥ İnsanların ilişkilerini düzenler.

♥ Adalet ve eşitliği sağlar.

♥ Toplum düzenini sağlar.

♥ Belirsizliği azaltır.

♥ Özgürlük sağlar.

♥ Huzuru sağlar.

Kurallar ikiye ayrılır.

Yazılı Olmayan Kurallar

Yazılı Kurallar

Yazılı Olmayan Kurallar

Görgü kuralları, gelenekler, ahlak kuralları yazılı olmayan kurallardır.

Örnek → Bayramlarda el öpülmesi.
Toplu taşıma araçlarında yüksek sesle konuşulması.


Bu kurallar hiçbir yerde yazılı değildir. Toplum içinde kendiliğinden çıkmıştır. Bu kurallara uyulmazsa devlet ceza vermez. Ancak bu kurallara uymayanlar toplum tarafından ayıplanır.

Yazılı Kurallar

Devlet tarafından konulan hukuk kurallarıdır.

Örnek → Araçların kırmızı ışıkta durması.

Bu kurallar yazılıdır. Yazılı kurallara herkes uymak zorundadır. Uyulmadığında devlet tarafından ceza verilir.

 Kurallar bazen ihtiyaca ve zamana göre değişebilir veya kaldırılabilir. Örneğin önceden ilkokul öğrencileri siyah önlük giyerken zamanla değişerek mavi önlük giymeye başlandı. Daha sonra okulların belirlediği formaları giyme yaygınlaştı.

Bazı Kural Örnekleri

1. Vergi vermek → Yazılı kural
2. Askere gitmek → Yazılı kural
3. Bayramlarda büyükleri ziyaret etmek → Yazılı olmayan kural
4. Verdiği sözü tutmak → Yazılı olmayan kural

3. HZ. MUHAMMED'İN (sav) DOĞUMU,

ÇOCUKLUK VE GENÇLİK YILLARI

⇒ Son peygamber Hz. Muhammed (sav) 20 Nisan (12 Rebiülevvel) 571 tarihinde Mekke'de doğdu. Babası, doğmadan öldüğü için yetimdi. Dedesi O doğunca çok mutlu oldu ve onu Kabe'ye getirdi. Burada Allah'a (cc) şükürünü belirtip dua etti.

Dedesi Abdülmuttalib O'na "Muhammed" adını verdi.

Muhammed → Övülen, övülmüş, iyi vasıfları kendisinde toplamış kişi anlamına gelir.

⇒ Mekke'de yeni doğan çocukları sütanneye vermek gelenektir. Serin köylerde yaşayan kadınlar çocuk almak için Mekke'ye gelirlerdi. Peygamberimizin sütanesi olan Halime'de bunlardan biriydi.

⇒ Abdülmuttalib ve Amine Halime'yle konuştular ve Hz. Muhammed'i (sav) sütannelik yapmak üzere yanına almasını söylediler. Halime Hz. Muhammed'i (sav) de alıp köyüne döndü.

⇒ Halime'nin Abdullah, Üneyse ve Seyma adlarında üç çocuğu vardı. Hz. Muhammed (sav) dört yıl boyunca Halime'nin ailesinin yanında yaşadı. Halime'nin çocuklarıyla öz kardeş gibi oldu.

Halime dört yıl sonra Hz. Muhammed'i (sav) Mekke'ye getirdi ve Amine'ye teslim etti.

⇒ Hz. Muhammed'in (sav) babası Medine'de vefat etmişti ve mezarı da oradaydı. Amine oğlu altı yaşındayken onu da alıp Medine'ye gitmek istedi.

Oğluyla birlikte Medine'ye geldi. Burada bir ay kaldı. Dönüş için Mekke'ye doğru yola çıktı. Fakat yolda hastalandı ve vefat etti. Dadı, Ümmü Eymen (ra) Hz. Muhammed'i (sav) alıp Mekke'ye götürdü ve bu yavruyu Abdülmuttalib'e teslim etti.

⇒ Hz. Muhammed (sav) altı yaşında hem annesiz, hem babasızdı. Abdülmuttalib Hz. Muhammed'e (sav) sahip çıktı ve onun bakımını üstlendi. Ancak yaşlı olduğundan sadece iki yıl bakabildi. Torunu sekiz yaşındayken vefat etti.

⇒ Abdülmuttalib ölünce Hz. Muhammed'e (sav) amcası Ebu Talib baktı. Ebu Talib ve ailesi Hz. Muhammed'e (sav) çok iyi davrandı. Hz. Muhammed'de (sav) onlara karşı hep saygılı ve vefalı oldu. Çocukluğunda çobanlık yaparak aile bütçesine katkıda bulundu. Yirmi beş yaşına kadar amcasının evinde yaşadı.

⇒ Hz. Muhammed (sav) gençlik yıllarında ticaretle uğraştı. Dürüblüğü, güven veren kişiliği ile Mekkelilerin saygısını ve takdirini kazandı. Mekkeliler Hz. Muhammed'e (sav) "el-Emin" güvenilir insan lakabını verdi.

⇒ Mekke'de Hz. Muhammed'in (sav) dürüstlüğü ve güvenilirliğini duyanlar arasında Hz. Hatice (ra) da vardı. Hz. Hatice (ra) ticaretle uğraşıyordu.

Hız. Hatice (ra), Hız. Muhammed 'den (sav) kendisi adına ticari işlerini yürütmesini istedi. Hız. Muhammed (sav), Hız. Hatice (ra) adına ticaret yaptı. Onun mallarını Şam'a götürerek sattı. Oradan Mekke'ye mal getirdi. Hız. Hatice (ra) bu sürede daha fazla kâr etti ve Hız. Muhammed'le (sav) yakından tanıdı.

⇒ Hız. Hatice (ra) aracılar vasıtasıyla Hız. Muhammed'e (sav), kendisiyle evlenmek istediğini bildirdi. Hız. Muhammed (sav) aile büyüklerinin de uygun bulmasıyla Hız. Hatice (sav) ile evlendi. Bu evlilikten dördü kız, ikisi erkek, altı çocukları oldu.

Hız. Muhammed (sav) ile Hız. Hatice'nin (ra) çocukları

Kasım

Abdullah

Zeyneb

Rukiye

Ümmü Gülsüm

Fatıma

Bilgi Notu → Hız. Muhammed'in (sav) İbrahim adında bir çocuğu daha vardır. İbrahim'in annesi Peygamberimizin (sav), Hız. Hatice'nin (ra) vefatından sonra evlendiği Hız. Mariye'dir.

- ⇒ Hz. Muhammed (sav) çocukluğunda ve gençliğinde güzel ahlakî özelliklere sahipti. ~ 4~
- ♥ Putlara tapmıyordu.
 - ♥ Putlar için kesilen kurbanların etinden yemiyordu.
 - ♥ Her zaman doğruyu söylüyordu.
 - ♥ Verdiği sözleri yerine getiriyordu.
 - ♥ Aile büyüklerine saygılı davranıyordu.
 - ♥ İçki, kumar, falcılık gibi kötülüklerden uzak duruyordu.
 - ♥ Hak ve hukuka çok önem veriyordu.

⇒ Hz. Muhammed (sav) aile büyükleri ve akrabalarına karşı her zaman sevgi dolu ve saygılıydı. Annesini hatırlar, fırsat buldukça mezarını ziyaret ederdi.

Hız. Muhammed (sav) evlendiği zaman amcası Ebu Talib'in oğlu Hz. Ali'yi (ra) yanına alıp onu büyüttü.

Hız. Muhammed (sav) kendisini bebekken emziren sütannelerine de hep saygılıydı. Doğumundan itibaren bir hafta kendisine sütannelik yapan Süveybe'yi hatırlar, ara ara hediyeler gönderirdi.

Sütannesi Halime'ye de sevgi ve saygı duyar, ona iyilik ederdi. Maddi açıdan destekte bulunur ara ara ihtiyaçlarını karşılardı.

⇒ Bizler de Peygamberimizi (sav) örnek almalı, ve büyüklerimize her zaman saygılı olmalıyız.

Aydınlatma Teknolojilerinin Kullanım Alanları



Geçmişten günümüze aydınlatma konusunda insanların ihtiyaçları giderek değişmiştir. Aydınlatma, teknolojinin gelişmesiyle birlikte birçok alanda kullanılmaktadır.

- 1- Bina, park, sokak ve caddelerin aydınlatılmasını sağlar.
- 2- Hastane, okul gibi kurumlarda kullanılan aydınlatma araçları bu kurumlardaki hizmetlerin kesintisiz sürmesini sağlar.
- 3- Havaalanlarındaki aydınlatma sayesinde pilotlar pilot kolayca görebilir.
- 4- Ambulans, itfaiye, polis arabası gibi araçların uyarı ışıklarında aydınlatma teknolojilerinden yararlanır.
- 5- Fabrikalarda yapılan aydınlatma işlemi gece saatlerinde de fabrikalarda üretim yapılmasını sağlar.
- 6- Stadların aydınlatılması maç, konser vb etkinliklerin güneş battıktan sonra da yapılabilmesini sağlar.

UYGUN AYDINLATMA VE ÖNEMİ -2-

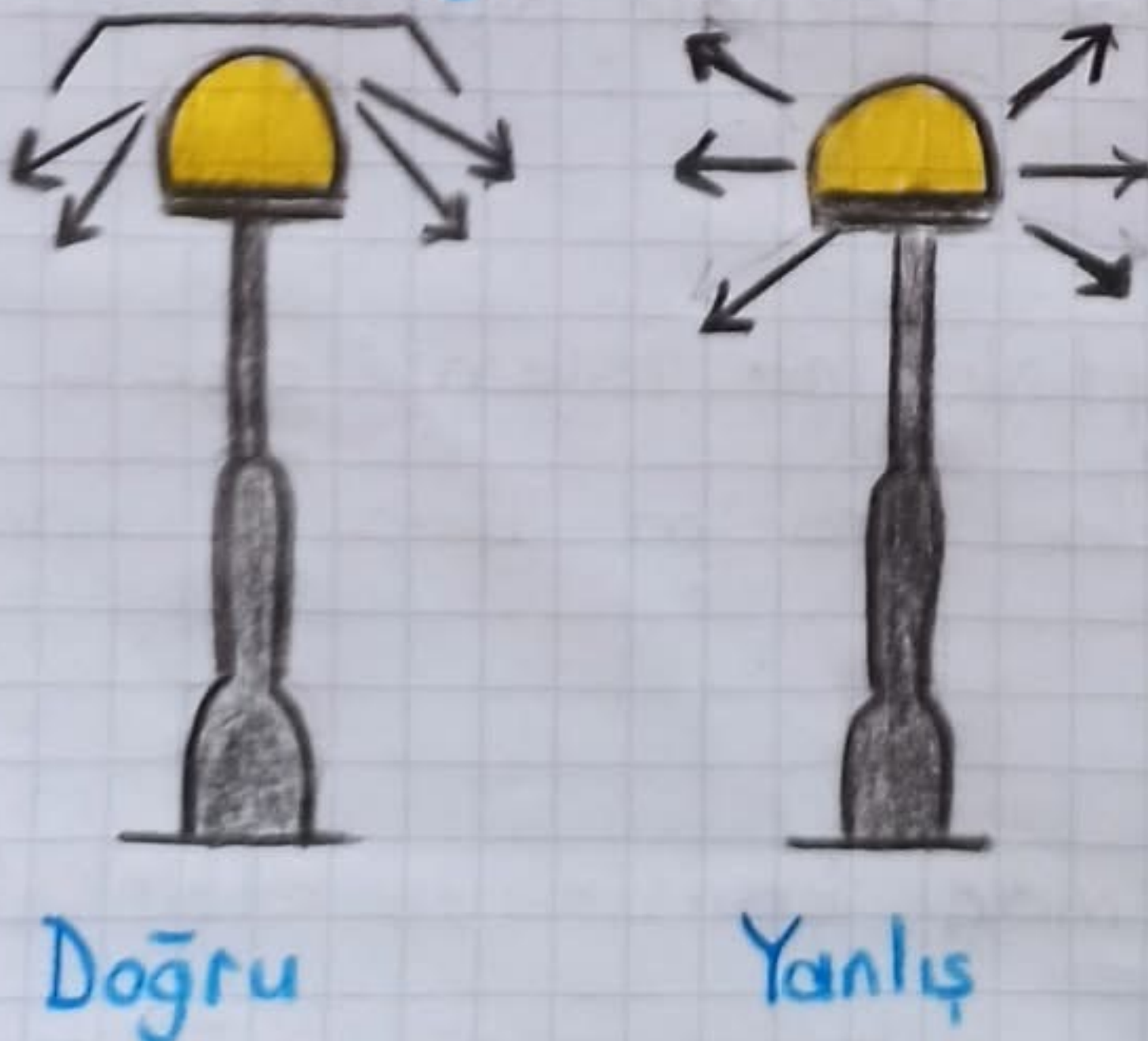
Az enerji harcayarak, ortamın büyüklüğüne ve aydınlanma ihtiyacına göre göz sağlığını olumsuz etkilemeyecek şekilde yapılan aydınlatmaya uygun aydınlatma denir.

Uygun aydınlatma deyince akla ilk gelen ısıık, beyaz ısıık yani gün ısıığıdır. Bu nedenle aydınlatmada olabildiğince gün ısıığından yararlanılmalıdır. Uygun aydınlatmada ısıığın eşit düzeyde olması çok önemlidir.

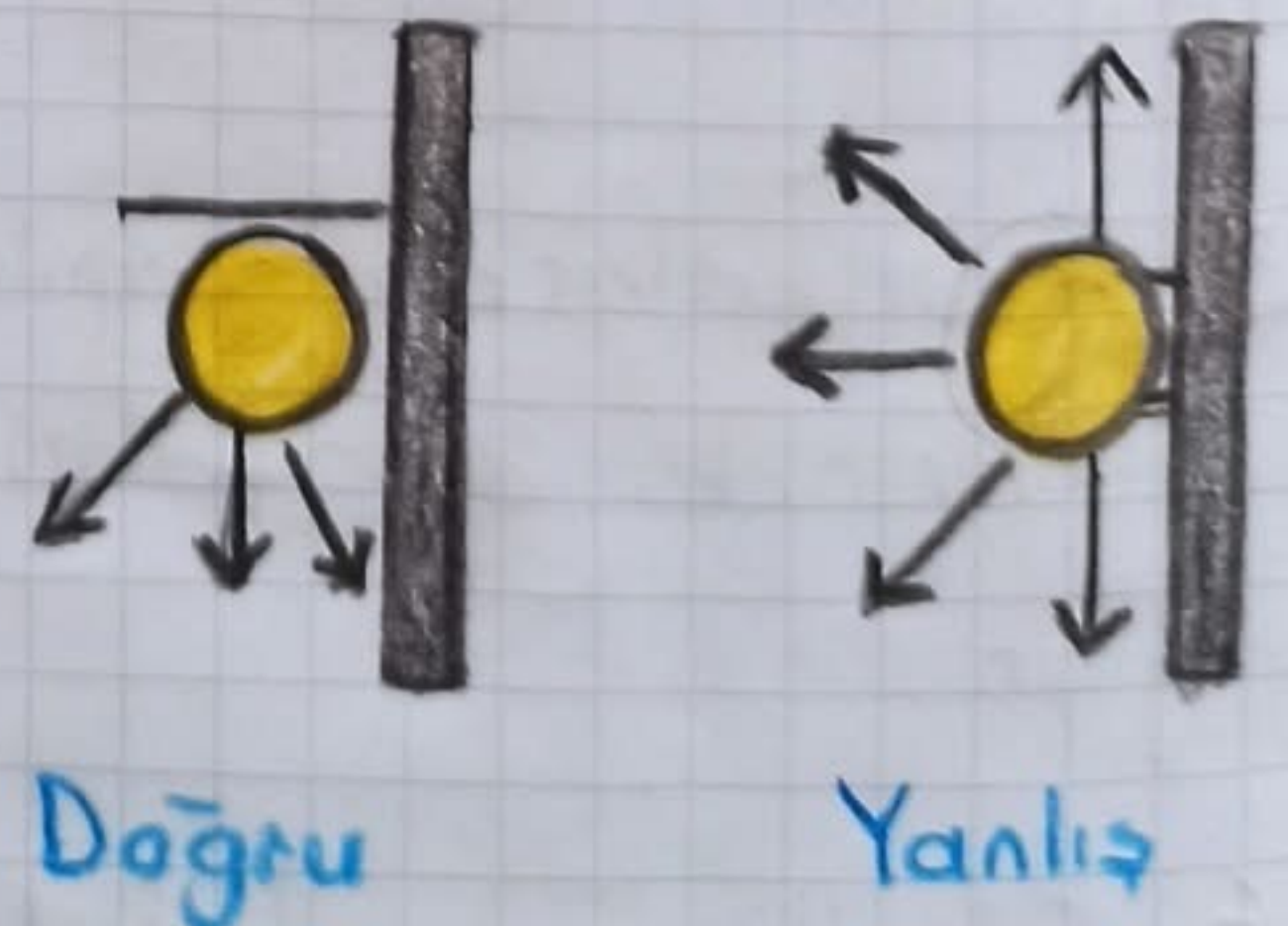
Uygun Aydınlatmada Dikkat Etmemiz Gerekenler

- ♥ ısıığın parlaklığı yeterli seviyede olmalıdır.
- ♥ ısıık aydınlatılacak ortama doğru yönlendirilmelidir.
- ♥ ısıığın geliş yönü doğru ayarlanmalıdır.

Sokak Aydınlatması



Duvar Aydınlatması





Doğru



Yanlış

Uygun Aydınlatma İçin;

- 1- Bulduğumuz ortamın gereğinden az ya da fazla aydınlatılmaması gerekir.
- 2- Aydınlatılacak ortamın büyüklüğüne uygun ışık kaynağı kullanılmalıdır.
- 3- Cadde, sokak, park ve bahçelerin aydınlatılmasında kullanılan lambaların üzeri, ışığı gökyüzüne dağıtmamaları için ışığı geçirilmeyen bir madde ile kapatılmalıdır.
- 4- Işık gözümüze doğrudan gelmemelidir.

Göz Sağlığımız İçin Dikkat Etmemiz Gerekenler


- ♥ Işık kaynaklarına doğrudan bakılmamalıdır.
- ♥ Ortamı gereğinden fazla ya da az aydınlatmamalıyız.
- ♥ Cep telefonu, tablet ve telefon gibi cihazlara sürekli bakılmamalıdır.

♥ Güneşli günlerde göz sağlığımız için güneş gözlüğü kullanmalıyız.

♥ Ders çalışırken ya da kitap okurken masa lambası kullanmaya dzen göstermeliyiz.

♥ Yazı yazarken sağ elimizi kullanıyorsa ışık kaynağı solda, sol elimizi kullanıyorsa ışık sağda olmalıdır.

♥ Işık ön ve arka taraftan gelmemelidir. Işık arka taraftan gelirse gölge oluşur.



Yanlış



Sağ elini kullanıyor.
Işık soldan gelmelidir.

Doğru



Sağ elini kullanıyor.
Işık soldan geliyor.

Yanlış



Işık gökyüzüne dağılıyor.

Doğru



Işığın dağılması için üzeri kapatılmış.

Aydınlatma Araçlarından Tasarruf Sağlamak İçin

5.

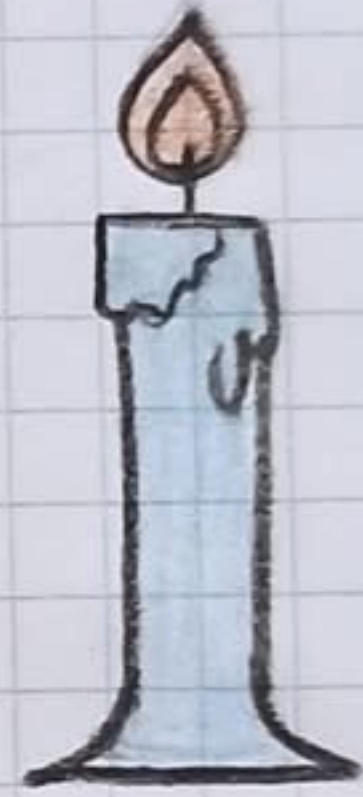


♥ Evdeki tüm ampulleri enerji tasarruflu ampullerle değiştirmeli, led veya floresan aydınlatma sistemlerini tercih etmeliyiz.

♥ Aydınlatılan ortama uygun güçte lamba kullanmalıyız.

♥ Hava kararmadan lambaları yakmamalıyız.

♥ Kullanmadığımız lambaları kapatmalıyız.



♥ Aydınlatma araçlarını belirli aralıklarla temizlemeliyiz.

♥ Pencerenin önüne güneş ışığını engelleyecek eşyaları koymamalıyız.

♥ Eülerin içlerinde boya seçimi yapılırken açık renkleri tercih etmeliyiz.

Aydınlatma araçlarının tasarruflu kullanımı sayesinde daha az elektrik faturası ödenir. Bu sayede aile ve ülke ekonomisine katkı sağlanmış olur.

GÜVENLİ YOLCULUK KURALLARINA UYALIM

Güvenli bir şekilde yolculuk yapabilmek için bazı kurallara uymamız gerekir.

🌸 Üzeri açık taşıtlarda veya yük üzerinde yolculuk yapmak çok tehlikelidir. Bu araçlarla yolculuk yaparken;

- Yol kenarındaki ağaçlara,
- Yüksekliği az olan üst geçitlere,
- Alçaktan geçen elektrik tellerine çarpabiliriz.

🌸 Yolculuk için uygun olmayan ve yük taşımak için kullanılan araçlarda seyahat etmek tehlikelidir. Özellikle yağmurlu, rüzgarlı ve karlı havalarda bu tehlike çok daha artar.

🌸 Taşıtların önünden dikkatsizce geçmemek gerekir. Aniden yola çıktığımızda araç duramayıp bize çarpabilir.

🌸 Hareket halindeki taşıtlara asılmak tehlike yaratır. Taşıt virajı dönerken, aniden hızlanırken veya yavaşlarken taşıta asılanlar düşebilir.

🌸 Ayakta yolculuk yapacaksa güvenliklerimiz için mutlaka tutunmamız gerekir. Böylece araç ani fren yaptığında veya dönüşlerde sağa sola çarpıp düşmeyiz.

❗ Güvenli yolculuk kurallarına uymayıp sorumsuzca davranırsak kendimizin ve diğer insanların hayatlarını tehlikeye atmış oluruz.