

Adı-Soyadı: ..... Okul No: .....

1. SORU (30 Puan)	2. SORU (20 Puan)	3. SORU (20 Puan)	4. SORU (15 Puan)	5. SORU (15Puan)	ALDIĞI PUAN
.....	.....	.....	.....	.....	.....

- 1) Aşağıdaki harita üzerinde Anadolu ve Mezopotamya medeniyetlerinden Sümerler, Lidyalılar, Asurlular, Babilliler, Hititler ve İyonyalıların kuruldukları bölgeler verilmiştir.

Bu medeniyetlerin isimlerini uygun bir şekilde kutulara yazınız.



2)



Sümerler, zigguratların son katlarını rasathane (gözlemevi) olarak kullanmışlardır.

Buna göre Sümerlerde hangi bilim gelişmiştir? Yazınız.

.....
.....
.....



Lidyalılar, Efes'ten Mezopotamya'ya kadar uzanan ticaret yolunu aktif olarak kullanmışlardır.

Lidyalıların ticaret amacı ile kullandığı bu yolun adı nedir? Yazınız.

.....
.....
.....

3)

**T.C. İçişleri Bakanı: “Hukuk, insan hakları bizim vazgeçilmezimiz.”**

“... T.C. İçişleri Bakanı, katıldığı bir toplantıda demokrasi ve hukuk anlayışımızla ilgili çeşitli açıklamalarda bulundu. Bakan ‘Demokratik devletlerde milletten daha güçlü bir irade yoktur. Biz hukuk devletiyiz, bu sebeple ülkemizde hukukun üstünlüğü vardır. Herkes eşittir ve hukukun aldığı kararlara uymak zorundadır. Temel insan hakları ile özgürlükler anayasa ve kanunlarımızca koruma altına alınmıştır. Bakanlığımız bu anlayışla çalışmaktadır.’ dedi...”

Verilen metin, demokrasinin temel niteliklerinden hangileri ile ilişkilidir? Yazınız.

- ▣
- ▣
- ▣
- ▣


4)



Verilen görsel demokrasinin hangi ilkeleri ile ilişkilendirilebilir? Yazınız.

- ▣
- ▣
- ▣

5) Verilen görsellerin etkin vatandaşların hangi özelliği ile ilgili olduğunu görselin altına yazınız.

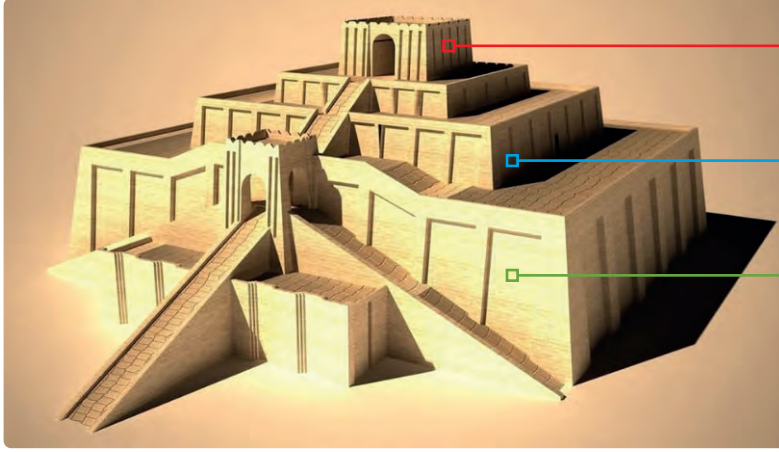


Adı-Soyadı: ..... Okul No: .....

1. SORU (15 Puan)	2. SORU (15 Puan)	3. SORU (30 Puan)	4. SORU (15 Puan)	5. SORU (10 Puan)	6. SORU (15 Puan)	ALDIĞI PUAN
.....	.....	.....	.....	.....	.....	.....

1) Sümerler, tapınak olarak yaptıkları zigguratları çok amaçlı olarak kullanmışlardır.

Zigguratların gösterilen bölümlerinin hangi amaçla kullanıldığını yazınız.

**Üst Katlar****Orta Katlar****Alt Katlar**

2)

## ARI GAZETESİ

**14 Mayıs seçimlerine göre TBMM’de 7 siyasi parti yer aldı.**

“... Yüksek Seçim Kurulunun açıkladığı sonuçlara göre TBMM’de yer alacak 600 milletvekili, 53 milyon 993 bin 683 kişinin verdiği oylarla belirlendi. Açıklanan sonuçlara göre TBMM’de 7 siyasi parti, ülke yönetimine katılmaya hak kazandı. Siyasi partilerin milletvekili sayısındaki dağılım ise şöyle gerçekleşti:...”

Verilen metin demokrasinin temel niteliklerinden hangileri ile ilişkilidir? Yazınız.

□

□

□

3) Demokrasi ve cumhuriyet kavramları arasındaki farkları yazınız.

Demokrasi	Cumhuriyet

4) Topluma ve devlete karşı sorumluluklarını bilen ve sorumlulukları ölçüsünde haklarını arayan kişiye etkin vatandaş denir.

Buna göre etkin vatandaşlarda bulunması gereken özelliklerden beş tanesini yazınız.

- 
- 
- 
- 
- 

5)

## SOSYALBİLGİLER.BİZ GAZETESİ

Haksızlığa uğrayan vatandaş hukuk mücadelesini kazandı.

“... İbrahim Bey, pek çok tüketicinin karşılaştığı ancak peşine düşmediği haksızlıklara karşı verdiği mücadelesiyle tanınıyor. Bilinçli ve etkin bir vatandaş olan İbrahim Bey, Tüketici Hakem Heyeti'ne yaptığı başvuruların birçoğundan olumlu netice aldı. Hatalı ürün gönderildiği hâlde haksız yere alınan binlerce lirasının iade edilmesini sağladı.

Verilen metinden etkin vatandaşın hangi özelliğine ulaşılabilir? Yazınız.

6) Verilen görsellerin temel hak ve özgürlüklerden hangisi ile ilgili olduğunu görselin altına yazınız.

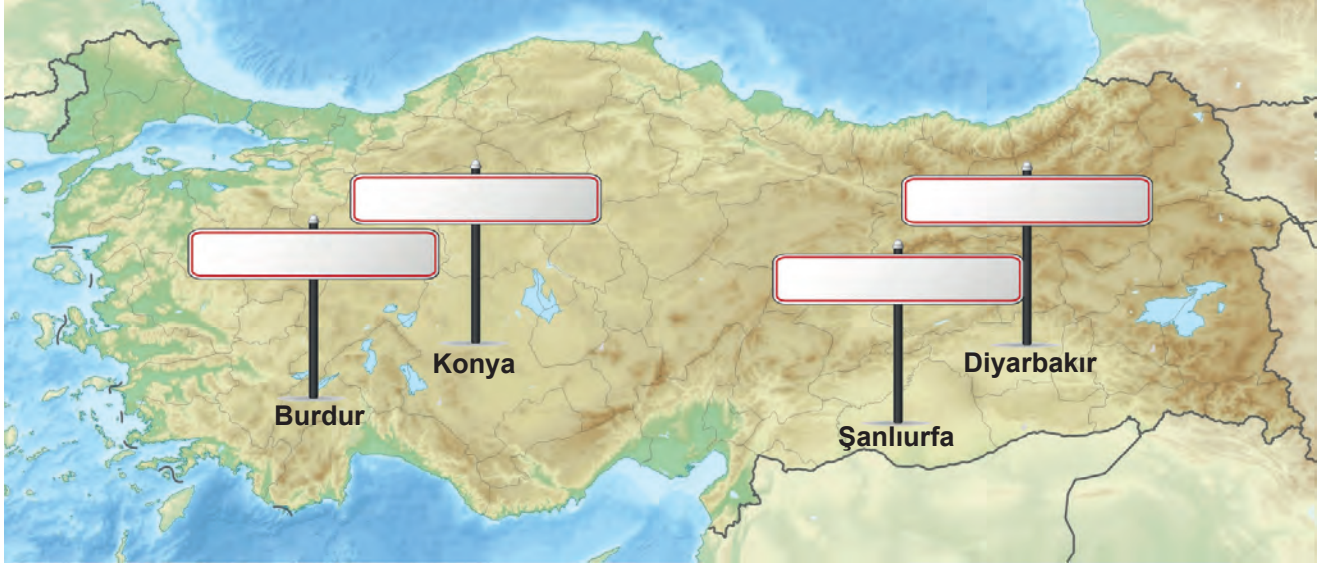




Adı-Soyadı: ..... Okul No: .....

1. SORU (10 Puan)	2. SORU (10 Puan)	3. SORU (10 Puan)	4. SORU (10 Puan)	5. SORU (10 Puan)	6. SORU (10 Puan)	7. SORU (10 Puan)	8. SORU (10 Puan)	9. SORU (10 Puan)	10. SORU (10 Puan)	ALDIĞI PUAN
.....	.....	.....	.....	.....	.....	.....	.....	.....	.....	.....

- 1) Aşağıdaki harita üzerinde gösterilen illerimizde yer alan Anadolu'daki ilk yerleşim yerlerinin isimlerini levhalara yazınız.



- 2) Çatalhöyük'te hayatını kaybeden insanlar eşyaları ile birlikte evin içine gömülürdü.  
Bu durum neyin göstergesi olabilir? Yazınız.

- 3) Sümerler, altmışlık sayı sistemini bulup kullanmışlardır. Bu dönemden günümüze kalan tabletlerde tarihteki ilk çarpım işlemlerine rastlanmıştır. Üçgenin ve dikdörtgenin alanları, küpün hacmi ve bir çemberin 360 derece olduğu ilk kez Sümerler tarafından hesaplanmıştır.

Buna göre Sümerlerde hangi bilim dalları gelişmiştir? Yazınız.

4)

Şehir devleti şeklinde  
örgütlenmişlerdir.

Ege kıyısında deniz ticareti  
ile uğraşmışlardır.

Özgür düşünce ortamında  
Tales, Diyojen, Herodot gibi  
bilim insanları yetiştirmişlerdir.

Bu özellikler hangi medeniyete aittir? Yazınız.

- 5) Demokrasi ile yönetilen ülkelerde insanlara dini, inancı, maddi gücü, cinsiyeti ve ırkı ne olursa olsun yasalar önünde ayrımcılık yapılmaz.  
**Bu durum demokrasinin hangi ilkesi ile ilişkilendirilebilir? Yazınız.**
- 6) Evde ve okulda demokratik olan davranışlara birer tane örnek yazınız.
- 7) Tutum ve davranışlarınızdan etkin vatandaş olduğunuzu kanıtlayabilecek örnek bir olay yazınız.
- 8) “İlinizde hızla yayılan bir salgın hastalık nedeniyle yetkililer karantina ilan etti. Ancak ailenizin bazı üyeleri bu karantina kurallarına uymakta kararsızlık yaşıyor.”  
**Etkin bir vatandaş olarak ne yapardınız? Yazınız.**
- 9) Temel insan hak ve sorumluluklarının devlet tarafından anayasa ile koruma altına alınmadığı toplumlar-  
da ne gibi sorunlar yaşanabileceğini yazınız.
- 10) “Herkes, düşünce ve kanaatlerini söz, yazı, resim veya başka yollarla açıklama ve yayma hakkına sahiptir.”  
**Bu hakka ait sorumluluklara örnek yazınız.**