

# BÖLME İŞLEMİ PROGRAMLARI

1

1- 25 topu 5 arkadaş paylaşıyor. Her birine kaç top düşer?

2- 18 çileği 3 tabağa paylaştırıyoruz. Her tabağa kaç çilek düşer?

3- 32 çiçeği 4 vazoya eşit paylaştırırsak her vazoya kaç çiçek düşer?



4- 3 kardeş 24 lirayı paylaşıyor. Her biri kaç lira alır?

5- Sınıf mevcudumuz 27 kişidir. Bir sırada 3 kişi oturduğuna göre sınıfımızda kaç sıra vardır?

6- 35 kuval unu 5 aile eşit paylaşırsa her aileye kaç kuval un düşer?

7- 14 ekmeği 2 kişi paylaşırsa her birine kaç ekmek düşer?

8- Ayşe, Ali ve Ahmet 21 şeker eşit paylaşırsa her birine kaç şeker düşer?



9. 20 simiti 4 çocuğa eşit paylaştı. 2  
rarsak her çocuğa kaç simit düşer?

10. 36 silgi dörderli paketleniyor. Kaç  
paket kullanılır?

11. 40 metre ip 5 metrelik parçalara ay-  
rılırsa kaç parça ip olur?

12. 24 tane çikolatayı 4 çocuk paylaşırs-  
a her birine kaç tane düşer?

13. Fatih ve iki arkadaşı 21 lirayı eşit  
paylaşırsa her birine kaç lira düşer?

14. 27 kilo pirinci 3 kavanoza paylaşt-  
ırmak istiyoruz. Her kavanoza kaç kilo  
pirinç koymalıyız?

15. 30 litre sütü 5 litrelik bidonlara  
koyan Mustafa'nın kaç tane bidona ihtiya-  
cı vardır?

16. Özgür 45 sayfalık kitabın her gün 5  
sayfasını okursa kitabı kaç günde bitirir?





# BÜTÜN YARIM VE ÇEYREK

~1~

## BÜTÜN

Bölünmemiş yani eksiksiz olan bir nesnenin ya da şeklin tamamına bütün denir.



Bütün



Bütün

## YARIM

Bir bütünü iki eş parçaya ayırdığımızda oluşan parçalardan her birine yarım denir.



Yarım

Yarım



Yarım



Yarım

## ÇEYREK

Bir bütünü dört eş parçaya ayırdığımızda oluşan parçalardan her birine çeyrek denir.

Çeyrek



Çeyrek

Çeyrek

Çeyrek



Çeyrek

Çeyrek



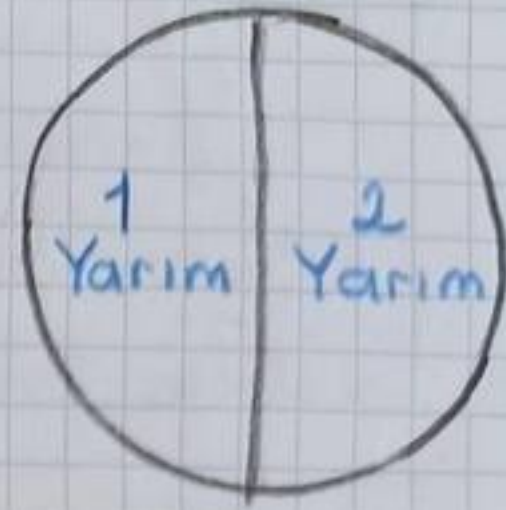
Çeyrek

Çeyrek



1 Bütün = 2 Yarım

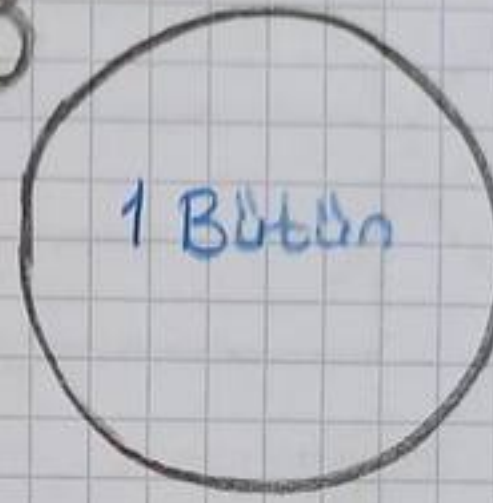
Bir bütün iki yarım-  
dan oluşur.



~2~


1 Bütün = 4 Çeyrek

Bir bütün dört  
çeyrekten oluşur.



1 Yarım = 2 Çeyrek

Bir yarım iki  
çeyrekten oluşur.



BÜTÜN			
YARIM		YARIM	
ÇEYREK	ÇEYREK	ÇEYREK	ÇEYREK

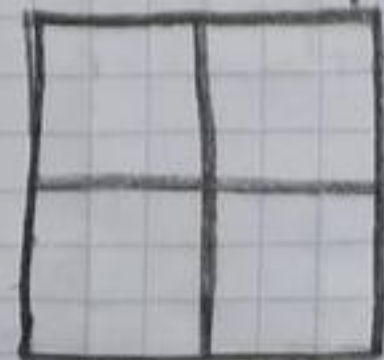
→ 1 Bütün  
→ 2 Yarım  
→ 4 Çeyrek

♥ Şekli parçalara ayırırken eşit paylaştır-  
malıyız.



Yanlış

→ Şekil eşit bölünmemiş, parça-  
lar eşit değil.



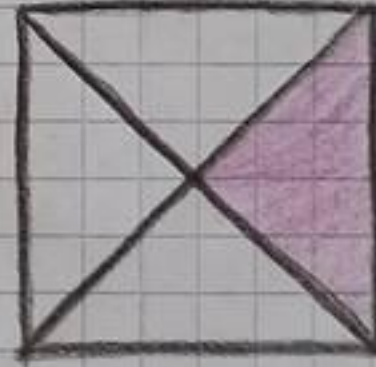

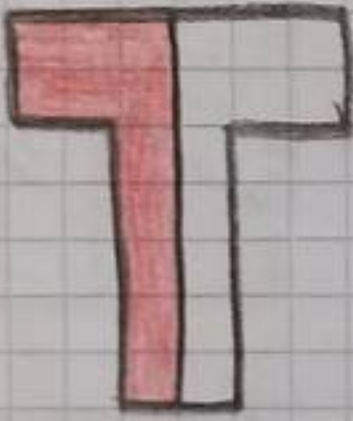

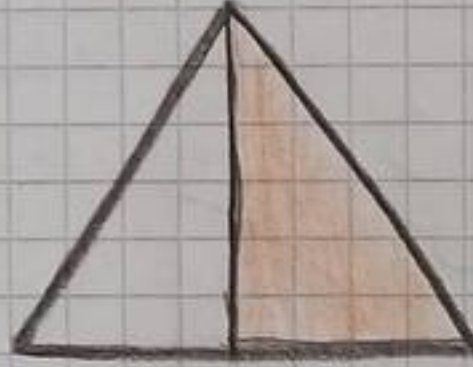
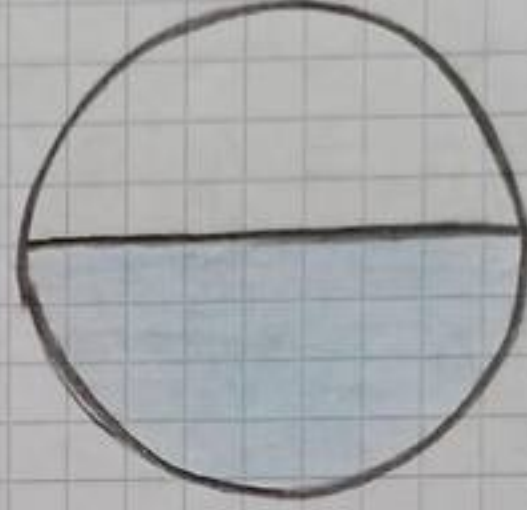
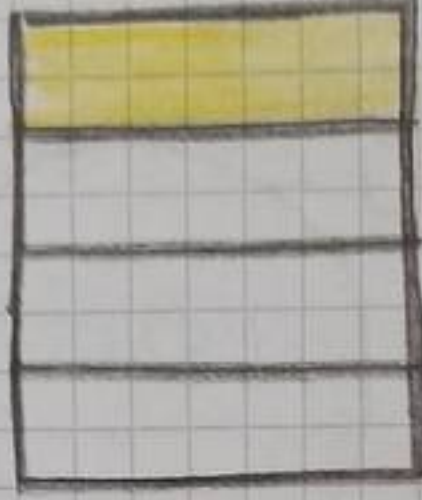
Doğru



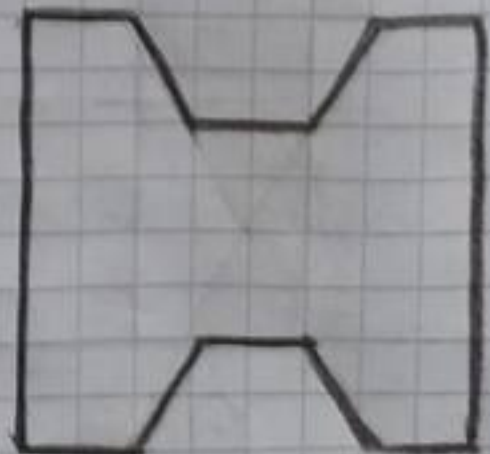
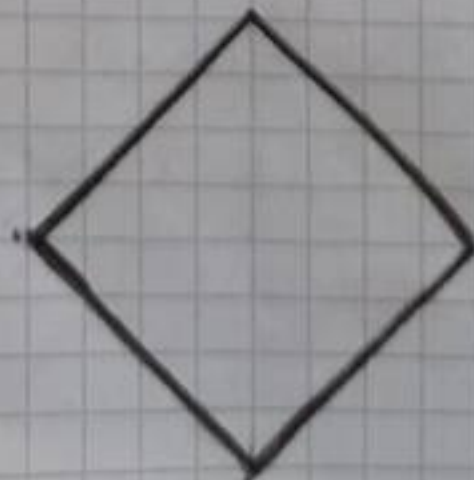
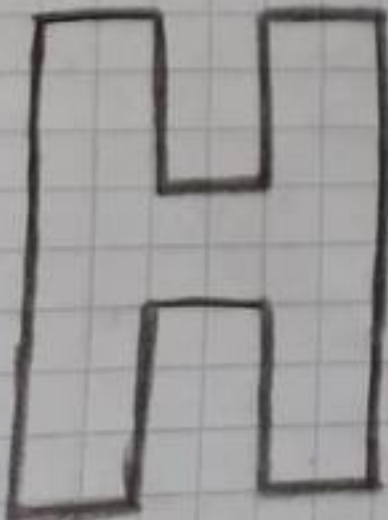

# ÇALIŞMA SAYFASI

~3~

1- Aşağıdaki boyalı kısımlara göre şekillerin ahtlarına bütün, yarım, çeyrek ifadelerinden uygun olanını yazalım.



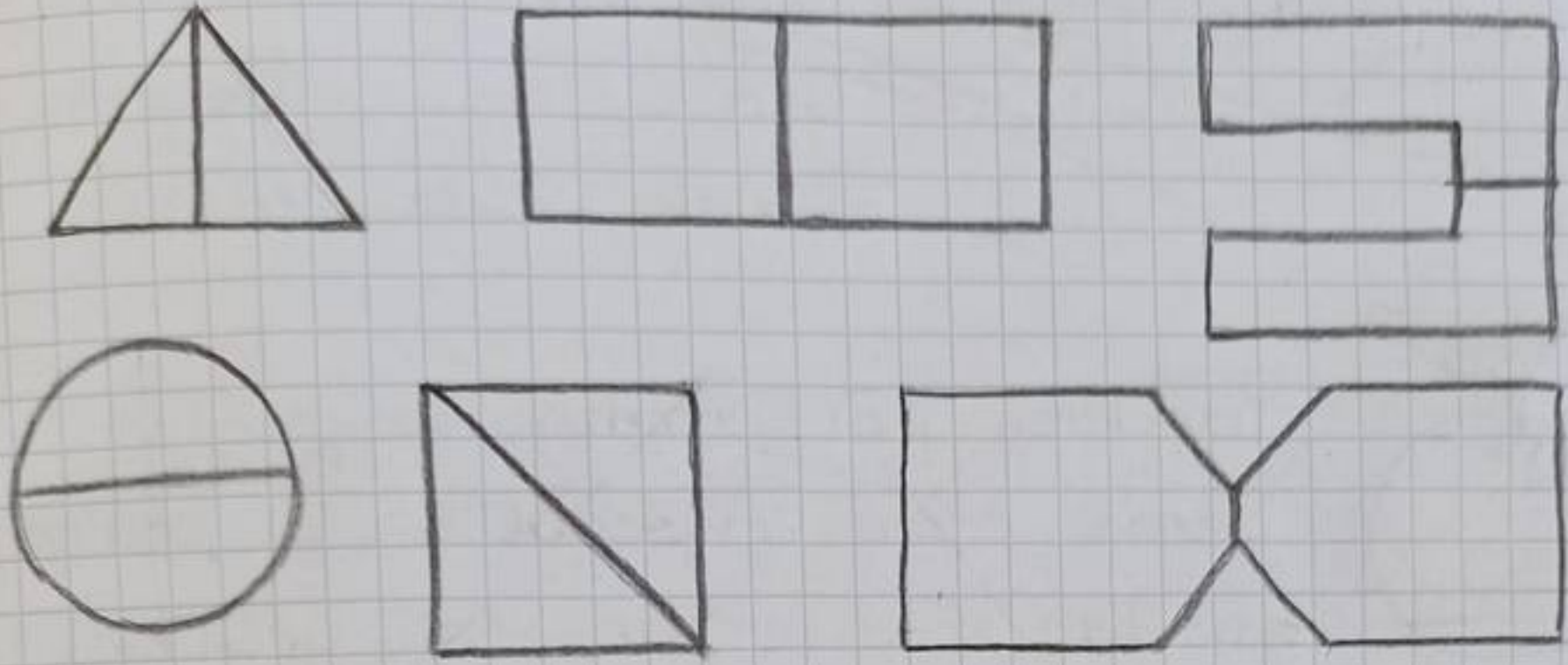
2- Aşağıdaki şekillerin bütününi boyayınız.



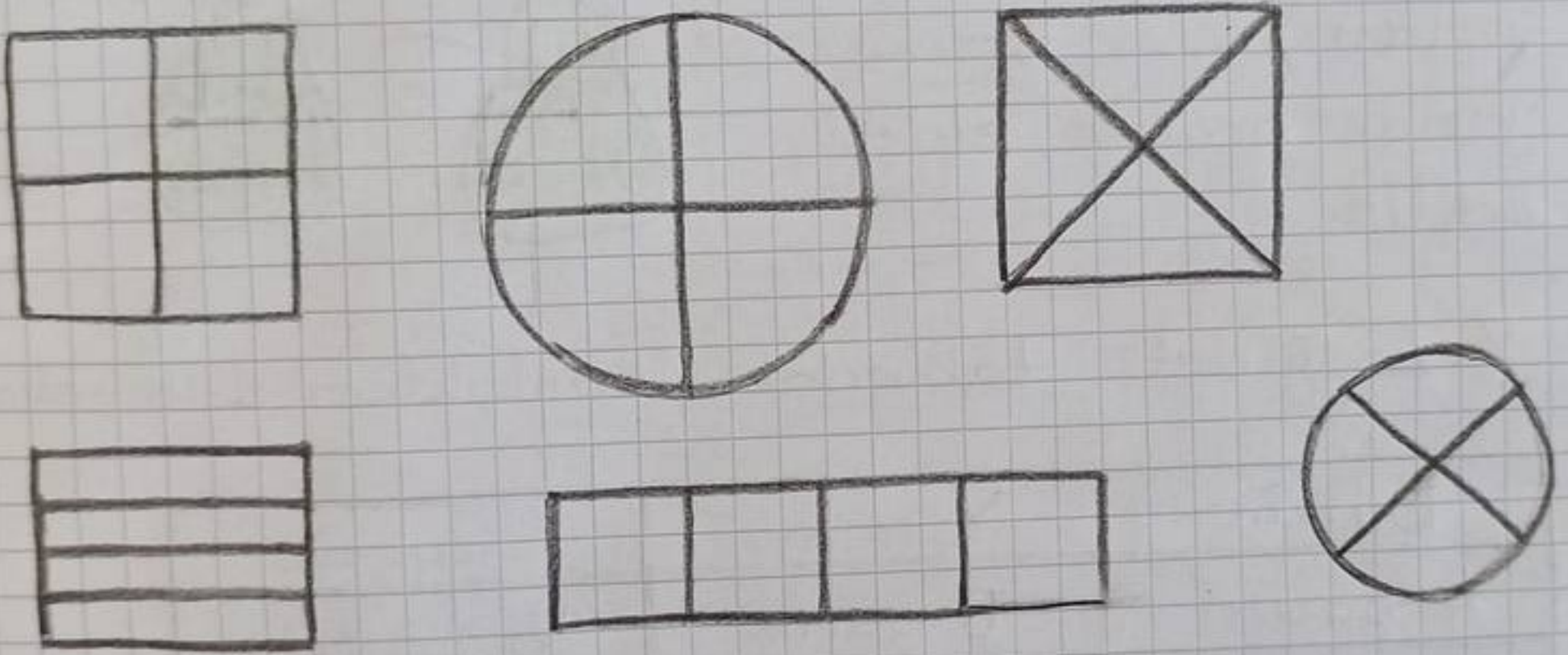


3- Aşağıdaki şekillerin yarısını boyayalım.

~4~



4- Aşağıdaki şekillerin çeyreğini boyayalım.



5- Aşağıdaki boşlukları dolduralım.

- 2 bütün ----- yarım eder.
- 6 yarım ----- bütün eder.
- 4 bütün ----- çeyrek eder.
- 10 yarım ----- bütün eder.
- 16 çeyrek ----- bütün eder.
- 9 bütün ----- yarım eder.
- 8 çeyrek ----- yarım eder.
- 12 yarım ----- bütün eder.
- 5 bütün ----- çeyrek eder.



6. Aşağıdaki boşlukları dolduralım. ~ 5 ~



Bir bütün ekmekten ----- çeyrek ekmek elde edilir.



Yandaki portakalın çeyreğini yemiş olan Ayşegül ----- parçasından ----- tanesini yemiştir.

Yandaki armutlardan toplam ----- tane yarım armut elde edilir.



7. Aşağıdaki tablodaki boşlukları dolduralım.

Bütün	Yarım	Çeyrek
4 bütün	8 yarım	16 çeyrek
	6 yarım	
		8 çeyrek
	12 yarım	
		4 çeyrek
5 bütün		

8. Evrim 7 tane elmayı yarım elma şeklinde dağıtıyor. Kaç tane yarım elma dağıtmıştır?



# TÜRKÇE TEKRAR ÇALIŞMASI

## ATATÜRK

Çocukken kafaya taktı,  
Hedefi asker olmaktı,  
Hedefe sel gibi aktı,  
Mustafa Kemal Atatürk.

Atlayıp atına bindi,  
Cenk meydanlarına indi,  
Düşmanlarımızı yendi,  
Mustafa Kemal Atatürk.

Hep bizim için savaştı,  
Engelleri tek tek aştı,  
Hedeflerine ulaştı,  
Mustafa Kemal Atatürk.

Genliğime emaneti,  
Türkiye Cumhuriyeti,  
Kurdu büyük devleti,  
Mustafa Kemal Atatürk.

İsmail SAĞIR

A. Aşağıdaki soruları şiire göre cevaplayalım.

1. Atatürk'ün hedefi nedir?

2. Atatürk atına bindince ne yaptı?

3. Atatürk Türkiye Cumhuriyeti'ni kime emanet etmiştir?



4- Atatürk kimin için savaştı?

5- Şiir kaç kıtadan oluşuyor?

6- Şiir kaç dizeden oluşuyor?

7- Şiirin şairi kimdir?

8- Şiire farklı bir başlık yazalım.

B- Aşağıdaki sözcükleri hecelerine ayırarak hece sayısını ve harf sayısını belirtelim.

Sözcük	Heceleere ayrılığı	Harf sayısı	Hece sayısı
bağımsızlık	ba-ğım-sız-lık	11	4
Denizli			
Pamukkale			
okul			

C- Aşağıdaki sözcüklerin zıt anlamlarını karşılarına yazalım.

yakın →

büyük →

ince →

sabah →

taze →

çalışkan →

güzel →

iyi →

beyaz →

alçak →

var →

dolu →

uzun →

sert →

önce →

dost →

zayıf →

eski →



**D.** Aşağıdaki sözcüklerin eş anlamlarını karşılarına yazalım.

doktor →

rüya →

görev →

kırmızı →

sonbahar →

misafir →

ıslak →

fakir →

yanıt →

hediye →

yaşlı →

okul →

nehir →

hatıra →

yıl →

isim →

öğretmen →

ev →

**E.** Aşağıdaki kelimeleri alfabetik olarak sıralayalım.

elma, armut, kavun, çilek

1-

2-

3-

4-

kitap, defter, kalem, silgi

1-

2-

3-

4-

**F.** Aşağıdaki karışık olarak verilen kelimeleri kullanarak kurallı cümleler yazalım.  
çok - çocukları - Atatürk - severdi

• gitti - için - odasına - uyumak

• pasta - annem - yaptı - muzlu

• aldım - tane - silgi - iki - marketten

**G.** Aşağıdaki tekil isimleri çoğul yapalım.

sıra →

çiçek →

bardak →

simit →

ağaç →

okul →

kedi →

kuş →



H- Aşağıdaki cümlelerdeki olayları oluş sırasına göre numaralandıralım.

- Mustafa kümese girdi
- Dedesiyle kümese gitti.
- Yumurtaları sepete koydu.
- Dedesi kümesin kapısını açtı.
- Mustafa mutfaktan sepeti aldı.

- Doktor ilaç yazdı.
- Annesi sağlık ocağına götürdü.
- Annesi ilaçları aldı.
- Ayaz çok öksürüyordu.
- Doktor Ayaz'ı muayene etti.

I- Aşağıda verilen cümlelerin sebep ve sonuçlarını yazalım.

♥ Kar yağdığı için yollar kapandı.

Sebebi:

Sonuç:

♥ Koşarken yere düştüğü için dizi kanadı.

Sebebi:

Sonuç:

♥ Kırmızı ıskıta geçtiği için ceza yedi.

Sebebi:

Sonuç:

İ- Aşağıda yazım yanlışlığı yapılan kelimelerin doğrularını karşılarına yazalım.

siyor →

yalnız →

ezzane →

öretmen →

kiprik →

eşki →

herkez →

kirbit →

filim →

torpak →

çenber →

pirens →

tiren →

çifci →



**J-** Aşağıda verilen deyimleri anlamlarıyla eşleştirelim.

Etekleri zil çalmak

Gözüne girmek

Ayak bağı olmak

Küplere binmek

İçini dökmek

Kulak kabartmak

• Derdini, sıkıntısını, duygularını anlatmak

• Çok sinirlenmek

• Belli etmeden dinlemek.

• Çok sevinmek

• Bir işi yapan kişiye engel olmak

• Bir kişinin sevgisini ve güvenini kazanmak.

**K-** Aşağıda verilen atasözlerindeki boşlukları dolduralım.

- ----- komşunun ----- muhtaçtır
- Sakla ----- gelir ----- zamanı.
- Ak akçe ----- içindir
- ----- yaşken -----
- Güneş ----- eve ----- girer.
- ----- elin ----- var ----- elin ----- var

**L-** Aşağıda verilen kelimelerin çağrıştırdığı üç kelime yazalım.

Okul

Atatürk

Yaz



**M.** Aşağıdaki adların önüne, özelliklerini bildiren kelimeler yazalım.

----- hava	----- para
----- kalem	----- uçak
----- sıra	----- köpek
----- ağaç	----- tabak
----- çanta	----- halı

**N.** Aşağıdaki varlıkların özelliklerini belirten kelimelerin sonuna uygun isimler yazalım.

pembe -----	büyük -----
kırık -----	zayıf -----
kare -----	huysuz -----
otuz -----	sıcak -----
yeni -----	kirli -----

**O.** Aşağıda verilen 5N 1K sorularını cevaplayalım.

Ablam bugün yazılıdan kötü not aldığı için okuldan ağlayarak geldi.

Kim geldi? →  
 Nereden geldi? →  
 Nasıl geldi? →  
 Neden ağlayarak geldi? →  
 Ne zaman geldi? →

**Ö.** Aşağıdaki cümlelere uygun noktalama işaretlerini koyalım.

- \* Bisiklet sürmeyi biliyor musun
- \* Eyvah üstüne yemek döküldü
- \* Bugün abim Denizli'ye gidecek
- \* Ali Ahmet Arda ve Alper neden gelmedi



# DİNİ GÜN VE BAYRAMLARIMIZ

Dinimiz açısından önemli sayılan günler de kutladığımız bayramlar **dini bayramlardır** iki tane dini bayramımız vardır.

## 1. Ramazan Bayramı

Ramazan ayının sonunda Ramazan Bayramı kutlanır. Ramazan Bayramı üç gün sürer.

## 2. Kurban Bayramı

Bu bayramda ibadet amacıyla maddi durumu iyi olanlar kurban keser. Kurban etinin bir kısmını ihtiyaç sahiplerine dağıtır. Kurban Bayramı dört gün sürer.

## 🌸 Dini Bayramlarımızın Özellikleri

- ♥️ Dini bayramlar bayram namazının kılınmasıyla başlar.
- ♥️ Dini bayramlar paylaşım ve dayanışmayı artırır.
- ♥️ Dini bayramlarda kışlar barışır.
- ♥️ Dini bayramlarda çocuklar sevindinilir, büyükler ve akrabalar ziyaret edilir.
- ♥️ Dini bayramlarda misafirler için tatlılar hazırlanır.
- ♥️ Dini bayramlarda küçük çocuklara şeker ve harçlık verilir.
- ♥️ Dini bayramlardan önce evler temizlenir.
- ♥️ Dini bayramlarda sevgi, saygı, birlik ve beraberlik duyguları güçlenir.



## DİNİ GÜNLER

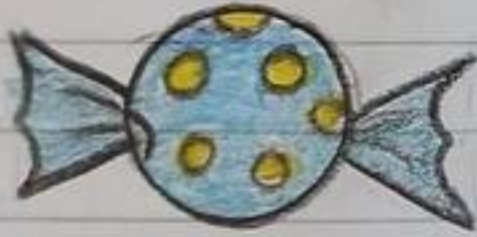
2.

Dinimize göre özel olan bazı dini günler vardır. Bunlar:

- Mevlid Kandili
- Regaib Kandili
- Miraç Kandili
- Berat Kandili
- Kadir Gecesi

### Dini Bayramlar

Ramazan Bayramı



Kurban Bayramı



1~ Aşağıdakilerden hangisi dini bayram değildir?

A) Ramazan Bayramı

B) Kurban Bayramı

C) Cumhuriyet Bayramı

2~ Aşağıdaki ifadelerden hangisi yanlıştır?

A) Dini bayramlarda kütlükler unutulur.

B) Dini bayramlarda komşu, dost ve akrabalar ziyaret edilir.

C) Dini bayramlarda sınıflar süslenir.

3~ Aşağıdakilerden hangisi dini gündür?

A) Anneler Günü

B) Berat Kandili

C) Öğretmenler Günü



4~ Aşağıdaki boşlukları uygun kelimelerle dolduralım.

- ziyaret      • dini      • namazının
- Ramazan      • kutsal      • kurban

\* Dini bayramlar ..... namazının kılınmasıyla başlar.

\* Dini bayramlarda ..... barıştır.

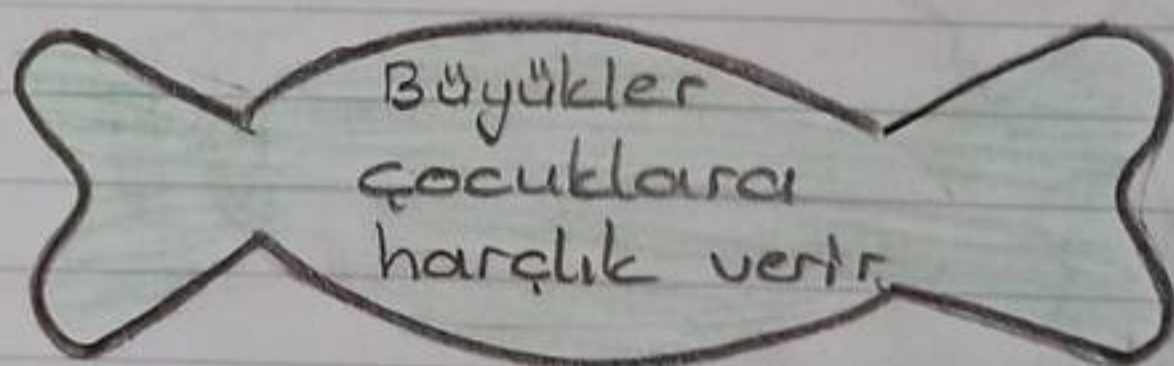
\* ..... ayının sonunda kutlanan bayram Ramazan Bayramıdır.

\* Dini bayramlarda akrabalarımızı ..... ederiz.

\* İki tane ..... bayramımız vardır.

\* Kurban Bayramında ..... kesilir.

5~



Şekerin içinde yazılan ifade hangi bayramlarda olur?

1. Ramazan Bayramı

2. Kurban Bayramı

A) 1

B) 2

C) 1 ve 2

6~ "Bu bayramdan önce oruç tutulur." Yukarıdaki ifade hangi bayramda olur?

A) Ramazan Bayramı

B) Kurban Bayramı

C) Zafer Bayramı

7~ Aşağıdakilerden hangisi doğrudur?

A) Ramazan Bayramı beş gün sürer.

B) Kurban Bayramı dört gün sürer.

C) Dini bayramları okulda kutlarız.