

# SATRANÇ


Adı:.....

Soyadı:.....

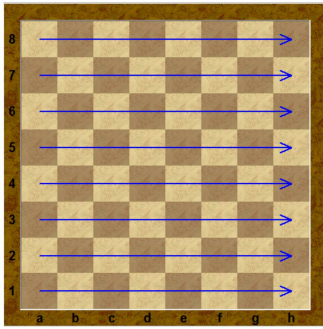
Numarası: .....

Sınıfı:.....

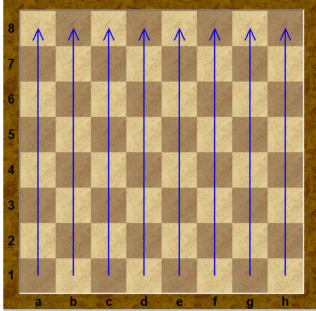
Tarih: .....



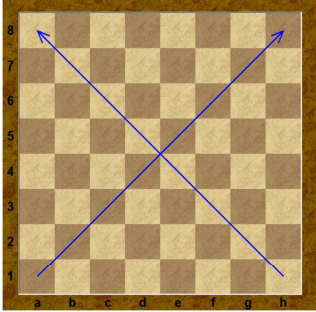
- 1) Satranç tahtasının konumu doğru mudur?
- A) Evet  
B) Hayır  
C) Bilmiyorum



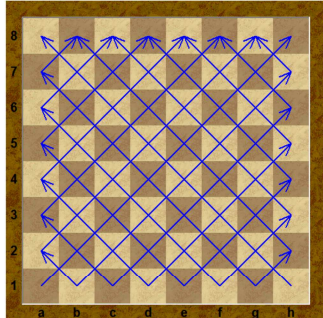
- 2) İşaretlenmiş olan yerlere ne ad verilir?
- A) Dikey  
B) Yatay  
C) Bilmiyorum



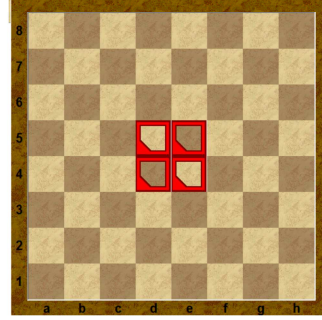
- 3) İşaretli karelerin bulunduğu yeri adlandırınız?
- A) Dikey  
B) Yatay  
C) Çapraz



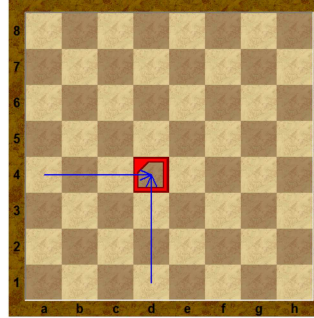
- 4) İşaretli olan kareleri adlandırınız?
- A) Dikey  
B) Yatay  
C) Çapraz




- 5) En kısa çapraz kaç tane kare içerir?
- A) 1  
B) 6  
C) 2




- 6) Satranç tahtasının ortasında bulunan kareleri tanımlayınız?
- A) merkez  
B) kenar  
C) orta




- 7) Seçilmiş olan kare merkez karelerden midir?
- A) Evet  
B) Hayır  
C) Bilmiyorum



- 8) Seçilmiş olan kare merkez karelerden midir?
- A) Evet  
B) Hayır  
C) Bilmiyorum



- 9) İşaretli kareyi tanımlayınız.
- A) e4  
B) h3  
C) f1



- 10) İşaretli kareyi tanımlayınız.
- A) e4  
B) h3  
C) e2